

List of Facilitators for Fostering Functional Understanding of Life Skills
through Problem Solving Assesment (PSA)

CLASS - VI

SESSION- 2013-14

TEAM MEMBERS

S.No.	Name	DESIGNATION
1.	Mrs. Mani Sharma (Group Leader)	Vice Principal GGSSS Begumpur
2.	Mrs. Anita Kumari	TGT (Hindi) GGSSS Begumpur
3.	Mrs. Poonam Chhikara	TGT (Hindi) SKV Karala
4.	Mrs. Rashmi	TGT (Hindi) GSKV Kanjhwal
5.	Mrs. Pramod Kumari	TGT (English) GGSSS Begumpur
6.	Mrs. Poonam Khatri	TGT (English) GGSSS Begumpur
7.	Mrs. Anita Sharma	TGT (English) SKV Pooth Kalan
8.	Mrs. Suman Dabas	TGT (Natural Science) GGSSS Begumpur
9.	Mrs. Veena Prakash	TGT (Natural Science) GGSSS Begumpur
10.	Miss. Rekha Meena	TGT (Natural Science) GGSSS'F'Block Sultanpuri
11.	Mrs. Sarita Girdhar	TGT (Maths) GGSSS Begumpur
12.	Mrs. Preeti Sharma	TGT (Maths) GGSSS Begumpur
13.	Mrs. Bindu Rani	TGT (Maths) GGSSS Begumpur
14.	Mrs. Sunita	TGT (Social Science) GGSSS Begumpur
15.	Mrs. Poonam Tyagi	TGT (Social Science) GGSSS Begumpur
16.	Mrs. Saroj Dabas	TGT (English) GG SSS Begumpur

**FORMAT
PSA - CLASS-VI**

Test Countext Domain/Item Type	Target No. Per Test Foram		
	No. of items	No. of Passage	Total No. of items
Qualitative			
Stand Alone MCQ	6	2	06
Passage Based MCQ	6		12
SUB TOTAL			18
Quantitative			
Stand Alone MCQ	10	2	10
Passage Based MCQ	4		08
SUB TOTAL			18
Language Conventions			
Grammar & Usage MCQ	8		8
Vocabulary in Context MCQ	8		8
Passage completion MCQ	8		8
SUB TOTAL			24
Total			60

INDEX

Contents


S.No.

1. Language Convention - Hindi
2. Language Convention - English
3. Qualitative Reasoning
Stand Alone - MCQ
4. Qualitative Reasoning
Passage Based.
5. Quantitative Reasoning
stand Alone -MCQ
6. Quantitative Reasoning
Passage - Based
7. Answer key
8. Sample Paper -I
9. Sample Paper - II
10. Sample Paper - III

(भाषायी आचार)
विषय - हिन्दी
समस्या समाधान मूल्यांकन
कक्षा-छठी

प्रश्न संख्या एक से पांच के लिए

प्रश्न 1. नीचे दिए गए दृश्य के आधार पर दी गई पंक्तियों को पूरा कीजिए।



अहा! कितना सुन्दर दृश्य है।.....(1)..... पर बर्फ गिरी हुई है।....(2).... बह रही है।(3).... की तेज धूप भी अच्छी लग रही है।....(4).... पर पक्षी बैठे हैं। फूलों की खुशबू चारों ओर फैली हुई है। भिन्न-भिन्न आकृतियों के(5).... आकाश में छाए हुए हैं।

प्रश्न

- (क) पत्थर (ख) पर्वतों (ग) मिट्टी (घ) धरती
- (क) नदी (ख) धारा (ग) झरना (घ) तालाब
- (क) चाँद (ख) तारे (ग) सूर्य (घ) उपरोक्त सभी
- (क) पेड़ों (ख) पौधों (ग) लताओं (घ) पहाड़ों
- (क) पक्षी (ख) रोशनी (ग) बादल (घ) धूप
- निम्न में से कौन सा संज्ञा के स्थान पर प्रयुक्त किए जाते हैं ----- कहलाते हैं।
क) गुणवाचक ख) व्यक्तिवाचक

ग) भाव वाचक घ) जातिवाचक

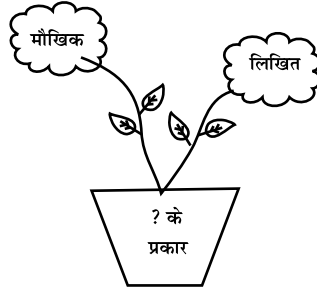
7. जो शब्द संज्ञा के स्थान पर प्रयुक्त किए जाते हैं कहलाते हैं।

- (क) संज्ञा (ख) वर्ण
(ग) सर्वनाम (घ) विशेषण

8. क्रिया के कितने भेद होते हैं ?

- (क) एक (ख) दो
(ग) तीन (घ) चार

9. ? के स्थान पर सही शब्द लिखिए:-



- (क) लिपि (ख) वर्णमाला
(ग) भाषा (घ) व्यंजन

10. पक्षी का दूसरा पंख कौन-सा है ?

- (क) वर्ण (ख) भाषा
(ग) शब्द (घ) व्यंजन



11. संज्ञा व सर्वनाम की विशेषता बताने वाले शब्दों को कहते हैं ?

- (क) विशेषण (ख) विशेष
(ग) विशेष्य (घ) विशेषता

12. क्रम पूरा कीजिए:-

- क क,ख क,ख,ग
(क) ख,ग,घ,क
(ख) क,ख,ग,घ
(ग) ग,घ,क,ख
(घ) घ,क,ख,ग

13. छ.... वर्ण के दाई व बाई तरफ कौन से वर्ण होते हैं ?
 (क) ज, झ
 (ख) च, ज
 (ग) च, ज
 (घ) ज, छ

14. उचित शब्द का चुनाव करके जोड़ा पूरा कीजिए:-

मोर : मोरनी :: चाचा :

- (क) शेरनी (ख) चुहिया
 (ग) चाची (घ) चोरनी



15. राधा ने पेंसिल लिखा।

- (क) से (ख) को
 (ग) के लिए (घ) में

प्रश्न 16 से 20 के लिए

प्रश्न: दी गई कविता के आधार पर दिए गए प्रश्नों के उत्तर छांटिए।

तितली से लेकर पंख उधार
 मुर्गे की कलगी सिर संवार,

बंदर की लंबी लगा पूँछ
 मछली-सी करती जल विहार
 इसकी विचित्र चाल-ढाल
 हैं बड़े निराले रंग-ढंग।
 उड़ चली गगन छूने पतंग।



16. पतंग ने पंख किससे उधार लिए हैं?
 (i) चिड़िया (ii) कौआ
 (iii) तितली (iv) कबूतर
17. बंदर से पतंग को क्या मिला ?
 (i) पूँछ (ii) कलगी
 (iii) हवा (iv) धागा
18. पतंग क्या छूना चाहती है ?
 (ii) धरती (ii) गगन

- (iii) बादल (ii) तारे
19. 'उधार' का विलोम छांटिए।
 (i) मांगना (ii) देना
 (iii) नकद (iv) पहुंचाना
20. जल का समानार्थी शब्द छांटिए।
 (i) नदी (ii) तालाब
 (iii) नल (iv) पानी
21. मछली पानी रहती है?
 (क) में (ख) के अन्दर
 (ग) पर (घ) नीचे

22. 'सफलता' के प्रत्यय को छांटिए?
 (क) लता (ख) ता
 (ग) फलता (घ) स



23. शुद्ध रूप छांटिए।
 (क) श्रि (ख) क्षी
 (ग) श्री (घ) शी
24. शुद्ध वाक्य छांटिए। हम तीन भाई हूँ।
 (क) मैं तीन भाई हूँ। (ख) हम तीन भाई थे।
 (ग) हमारे तीन भाई थे। (घ) हम तीन भाई हैं।

25. 'अनुसार' शब्द में उपसर्ग छांटिए।
 (क) अनु (ख) अ
 (ग) सार (घ) आर

26. 'कुपुत्र' में उपसर्ग छांटिए।
 (क) पुत्र (ख) कुपुत्र
 (ग) कु (घ) त्र

27. कमल का पर्यायवाची कौन सा है? रेखांकित शब्द का सही पर्यायवाची छांटिए।



- (क) फूल (ख) जलज
(ग) आग (घ) पानी
28. पेड़ हमें छाया देते हैं। रेखांकित शब्द का सही पर्यायवाची छांटिए।
(क) बेल (ख) पीपल
(ग) वृक्ष (घ) पत्ते
29. 'सूर्य' का जो संबंध 'सूरज' से है, 'चंद्रमा' का वही संबंध किससे है?
(क) पृथ्वी (ख) चाँद
(ग) रात (घ) दिन
30. 'आंख' का जो संबंध 'नेत्र' से है, 'पानी' का वही संबंध किससे है?
(क) जल (ख) गिलास
(ग) नल (घ) नदी
31. अ शाकाहारी है और बहै।
(क) शाकाहारी (ख) सर्वाहारी
(ग) मांसाहारी (घ) निराहारी

अ



ब



32. मेरा भाई नौवीं कक्षा में पढ़ता है। वह मेरा अग्रज है और मैं छठी कक्षा में पढ़ता हूँ मैं उसका.....
हूँ। उचित शब्द भरिए
(क) अच्छा (ख) अनुज
(ग) छोटा (घ) अग्रज

प्रश्न संख्या 33 से 37 के लिए

नीचे दिए गए पत्र में से कुछ शब्द निकाल दिए गए हैं। ये शब्द प्रत्येक रिक्त स्थान के लिए दिए गए विकल्पों में शामिल हैं। पत्र को पढ़िए व दिए गए विकल्पों में से उचित विकल्प चुनकर खाली स्थान को भरिए।

सेवा में,

33..... प्रधानाचार्य जी
सर्वोदय कन्या विद्यालय
दिल्ली

34...

सविनय35 यह है कि कल दिनांक 10-5-13 को मेरे भाई की शादी है। इसलिए मैं विद्यालय में 36 होने से असमर्थ हूँ। अतः मुझे दो दिन (दिनांक 9-5-13 से दिनांक 10-5-13) का अवकाश प्रदान करें। आपकी अति कृपा होगी।

धन्यवाद

आपकी 37 शिष्या
क.ख.ग.
कक्षा-छठी

अनुक्रमांक-5

- | | |
|--------------------------|------------------|
| 33. (i) श्रिमती | (ii) क्षीमति |
| (iii) श्रीमति | (iv) श्रीमती |
| 34. (i) मोहदय | (ii) महोदय |
| (iii) महोदया | (iv) मोहदया |
| 35. (i) निवेदन | (ii) नीवेदन |
| (iii) निवेदान | (iv) नीवैदन |
| 36. (i) उपस्थीत | (ii) उपस्थित |
| (iii) अनुपस्थित | (iv) उपिस्थीत |
| 37. (i) अज्ञाकारीणी | (ii) आज्ञाकारीणी |
| (iii) आज्ञाकारिणी | (iv) आज्ञाकारिनी |
| 38. हवाई जहाज है। | |



- (क) उड़ता (ख) उड़ने
(ग) उड़ना (घ) उड़ेंगे

39. नाव पानी में है।



- (क) तैरती (ख) तैर
(ग) तैरना (घ) तराना
40. बकरी है। सही शब्द का चुनाव कीजिए।
(क) मिमियाता (ख) मिमियाती
(ग) रम्भाती (घ) भैंकती
41. 'सूर्य + उदय' संधि करके सही विकल्प का चुनाव कीजिए।

- (क) सूर्यदय (ख) सूर्यास्त
(ग) सूर्यउदय (घ) सूर्योदय
42. विलोम शब्द द्वारा रिक्त शब्द भरिये। वह पराया नहीं है।
(क) अन्त (ख) अपना
(ग) सबका (घ) उसका
43. ईश्वर सभी के पाप और का हिसाब रखता है।
(क) पुण्य (ख) कर्म
(ग) झूठ (घ) सत्य



44. अ दौड़ने में जितना तेज है ब उतना ही है।

अ

ब



- (क) होशियार (ख) मूर्ख
 (ग) अब्बल (घ) धीमा
45. जो ईश्वर में विश्वास करे उसे आस्तिक और जो ईश्वर में विश्वास न करे उसे.... कहते हैं।
 (क) स्वास्तिक (ख) नास्तिक
 (ग) आस्तिक (घ) पुजारी

प्रश्न संख्या 46 से 50 के लिए

प्रश्न:- निम्नलिखित अनुच्छेद के आधार पर दिए गए प्रश्नों के उत्तर छांटिए:-
 एक बार जंगल में नीम, पीपल, बरगद, जामुन और शीशम के पेड़ों की सभा हुई। नीम ने कहा- बरगद दादा हमें इस बात का दुख है कि हम आदमियों के इतने काम आते हैं, फिर भी वे हमें काट रहे हैं। मेरे पेड़ की छाल व पत्तियों से दवाईयां बनती हैं। जामुन बोला- “हां, मैं लोगों को फल देता हूं, मेरे फल स्वास्थ्य के लिए लाभदायक हैं। बरगद व पीपल बोले- हम सभी लोगों को शुद्ध हवा देते हैं। हमारी कीमत आदमी तब समझेगा, जब धरती वन रहित हो जाएगी और सांस लेने के लिए शुद्ध हवा नहीं मिलेगी।



46. जंगल में सभा किसकी थी ?
 (क) फूलों की (ख) फलों की
 (ग) पेड़ों की (घ) लताओं की
47. स्वस्थ रहने के लिए निम्नलिखित में क्या आवश्यक है ?
 (क) शुद्ध हवा (ख) दूषित हवा
 (ग) ठंडी हवा (घ) गर्म हवा
48. अन्य पेड़ों ने बरगद के पेड़ को 'दादा' क्यों कहा है ?
 (क) क्योंकि वह चौड़ा और ऊंचा है।

- (ख) क्योंकि वह पुराना और बड़ा है।
 (ग) क्योंकि वह बहुत बोलता है।
 (घ) क्योंकि वह रौब जमाता है।
49. किस पेड़ की छाल व पत्तियों से दवाईयां बनती हैं?
 (क) बरगद (ख) पीपल
 (ग) नीम (घ) आम
50. इस अनुच्छेद से हमें क्या शिक्षा मिलती है?
 (क) पेड़ों को काटना चाहिए
 (ख) पेड़ नहीं लगाने चाहिए
 (ग) हमें पेड़ों को नुकसान पहुँचाना चाहिए।
 (घ) हमें पेड़ों की रक्षा करनी चाहिए।
51. बेमेल शब्द छांटिए:- दूध, दही, मक्खन, रोटी
 (क) दूध (ख) रोटी
 (ग) मक्खन (घ) दही
52. आम, केला, करेला, सेब
 (क) आम (ख) केला
 (ग) सेब (घ) करेला
53. किताब, कापी, पेंसिल, अध्यापक
 (क) अध्यापक (ख) कापी
 (ग) किताब (घ) पेंसिल
54. सभी जीवों की एक आंख नहीं, दो होती हैं। रेखांकित शब्द का वचन बदलकर वाक्य पूरा करो।
 (क) आंखों (ख) आंखें
 (ग) आंख (घ) आंखियां
55. चिड़िया, तोता, कोयल जैसे आकाश में उड़ने वाले पक्षियों को कहते हैं। एक शब्द में बताइए।
 (क) नभचर (ख) जलचर
 (ग) पक्षी (घ) मछली
56. वर्ष में एकबार होने वाले समारोह को समारोह कहा जाता है। एक शब्द में बताइए-
 (क) साप्ताहिक (ख) वार्षिक
 (ग) दैनिक (घ) मासिक

57. परीक्षा के कठिन सवालों को देखकर सबको याद आ गई। मुहावरा पूरा कीजिए-
- (क) चाची (ख) दादी
(ग) बुआ (घ) नानी
58. (i) चने (ii) लोहे (iii) चबाना (iv) के 'मुहावरे को सही क्रम में रखो।
- (क) i, ii, iii, iv
(ख) ii, iv, i, iii
(ग) iii, ii, i, iv
(घ) iv, iii, ii, i
59. खोदा निकली...। कहावत पूरी कीजिए।
- (क) कुआ, चुहिया
(ख) पहाड़, चूहा
(ग) बिल, नाग
(घ) पहाड़, चुहिया
60. सही योजक द्वारा वाक्य पूरा करो।
मोहिनी खेलना चाहती है... मैं पढ़ना चाहती हूं।
- (क) इसलिए (ख) तथा
(ग) जबकि (घ) या

**Language Conventions
Grammar & Usage MCQ**

Fill in the blanks with correct form of verbs from Q1-3.

- Q1. Ram an apple daily.
a) Eats c) Eat
b) Is eating d) Ate
- Q2. Sohan to Bombay yesterday.
a) Go c) Went
b) Goes d) Is going
- Q3. Kalpana shall to my house tomorrow.
a) Come c) Comes
b) Came d) Is coming

Fill in the blanks with the correct prepositions from Q4-6.

- Q4. What is the time your watch?
a) In c) Into
c) At d) By
- Q5. The child is bathing the river.
a) In c) To
b) On d) Into
- Q6. Distribute the sweets the students.
a) In c) Along
b) Among d) Between

Fill in the blanks with the correct article form Q7-8.

- Q7. I eat ice-cream daily.
a) Some c) A
c) The d) An
- Q8. Rohan is good boy. He is monitor of our class.
a) The, a c) A, an
b) A, the d) An, the

Choose the correct plural of the underlined word Q9-10.

- Q9. Yesterday I saw a mouse.
a) Mices c) Mouse

- b) Mouses d) Mice

Q10. My ten years old sister broke her tooth while playing.

- a) Tooth c) Toths
b) Teeth d) Teeths

Change the gender of the underlined word by choosing correct option Q11-12.

Q11. Father of a cub is lion. The mother is called.....

- a) Lions c) Lioness
b) Liony d) Lion

Q12. Salman Khan is a hero and Katrina is a

- a) Heroine c) Heroes
b) Hero d) Herone

Fill in the blanks by choosing the correct modals from the correct options (Q13-14)

Q13. We obey our parents.

- a) Ought to c) Should
b) Must d) Can

Q14. My mother speak English.

- a) Was c) Has
b) Can d) Should

Choose the correct passive voice of the following sentences (Q15,16).

Q15. He sang a song.

- a) A song is sung by him.
b) A song is sung by him.
c) A song he sang.
d) A song was sung by him.

Q16. She writes a letter.

- a) A letter was written by her.
b) A letter is written by her.
c) A letter is write by her.
d) A letter is wrote by her.

Choose the Noun from the given sentences.

Q17. She is a beautiful girl.

- a) Is
- b) A
- c) Girl
- d) Beautiful

Q18. He went to Bombay.

- a) Went
- b) To
- c) He
- d) Bombay

Q19.



Look at the picture above and choose the correct adjective from the sentence.

This is a large pumpkin.

- a) Large
- b) A
- c) This
- d) Pumpkin

Look at the picture given below and fill up the blank by choosing correct adjective.



Q20. This is a pencil.

- a) Short
- b) Long
- c) Small
- d) Tiny

Q21. PASSAGE BASED MCQ




Passage A

Bluebell was a pretty little butterfly. Her wings were as blue as the summer sky. Apart from being beautiful, Bluebell had some very good qualities. She cared about everyone she knew. She was also very loyal to her friends. And most importantly, she spoke the truth. She loved the warm weather and always enjoyed the sunshine.

- QA. What was the name of the butterfly?
a) Summerbell c) Bluebell
b) Sunbell d) Greenbell
- QB. What was the colour of her wings?
a) White c) Yellow
b) Blue d) Black
- QC. What did the butterfly enjoy?
a) Sunshine c) Summer
b) Winter d) Autumn
- QD. She always speaks the
- a) Helped c) Truth
b) Loyal d) Lie
- QE. Find out the synonym of 'Beautiful' from the passage above.
a) Loyal c) Ugly
b) Quality d) Pretty

PASSAGE B



The numbers from one to hundred lived in a small town called Ank Nagar. They all were good friends and were always ready to help each other. Infact, they even enjoyed working together. However, since the past few days, number 100 had become very proud. He was the biggest number of Ank Nagar and everyone respected him and called him Mr. 100. This made him feel that he was the most powerful number of them all.

- QA. What was the name of the town?
a) Ram Nagar c) Tank Nagar
b) Roop Nagar d) Ank Nagar
- QB. Who lived in the small town?
a) Birds
c) Human Beings
b) Numbers from one to hundred
d) Animals
- QC. Who had become very proud?
a) Number 100 c) Number 15
b) Number 10 d) Number 50
- QD. All numbers enjoyed together.
a) Dancing c) Working
b) Sleeping d) Helping
- QE. Choose the opposite of 'Bad' from the passage.
a) Small c) Big
b) Good d) Powerful

Q23.

(Picture – Mango)



Look at the picture and choose the correct adjective to fill in the blank given below.

Q.23 Mango is the of the fruits.

- | | |
|-------------|----------|
| a) Prince | c) Queen |
| b) Princess | d) King |

Fill in the blanks by choosing the correct pronoun from the given options (Q24-26).

Q24. Ram has finished homework.

- | | |
|--------|--------|
| a) Her | c) My |
| b) His | d) Our |

Q25. Radhika helps mother in cooking food.

- | | |
|----------|---------|
| a) His | c) Your |
| b) Their | d) Her |

Q26. Rahul and friends went to see movie.

- | | |
|---------|----------|
| a) Your | c) His |
| b) Our | d) Their |

Q27. Choose the correct spelling.

- | | |
|--------------|--------------|
| a) Difficult | c) Defficult |
| b) Dificult | d) Diffecult |

Q28. Choose the correct spelling.

- | | |
|------------|------------|
| a) Gramar | c) Grammer |
| b) Grammar | d) Gramer |

- Q29. Choose the correct spelling.
- a) Enouf c) Anough
b) Enogh d) Enough

Choose the correct alternative for underlined phrase (Q30-31).

- Q30. The baby is sleeping keep an eye on him.
- a) Look after c) To take care
b) See d) Watch

- Q31. When it came to maths, Patrick was out of luck.
- a) Full of luck c) Good luck
b) Unlucky d) Luckiest

Choose the correct homonyms (Q32 to 34).

- Q32. 'Tale'
- a) Tail
c) Pale
b) Stale
d) Tell
- Q33. 'Hare'
- a) There
c) Hear
b) Here
d) Hair
- Q34. 'Two'
- a) Tow
c) To
b) Toe
d) Foe

PASSAGE



Squeaky Squirrel had bought a new house on Banyan tree. From it, the entire jungle was visible. To reach the house, there were stairs. He loved his house. Polly monkey also resided on the same tree. He had a gentle nature. Soon Squeaky became friends with him.

Q.35

QA) Who was Squeaky?

- a) Bird
- b) Mouse
- c) Squirrel
- d) Elephant

QB) What was visible from Banyan tree?

- a) House
- b) Jungle
- c) Road
- d) School

QC) Give the opposite of 'Love'.

- a) Friendship
- b) Hate
- c) Envy
- d) Affection

QD) Who had a gentle nature?

- a) Squirrel
- b) Tiger
- c) Lion
- d) Monkey

QE) To reach the house there were

- a) Stairs
- b) Ladders
- c) Footpath
- d) Road

Q36

PASSAGE



Long ago, only birds lived in Sundervan. There wasn't a single animal in the forest. King Pakshiraj was the king of Sundervan. Both he and his wife Pakshi were generous, just and kind rulers.

Q.36

QA) Who lived in Sundervan long ago?

- a) Man
- b) Birds and animals
- c) Animals
- d) Birds

QB) Who was the king of the forest?

- a) Pakshiraj
- b) Pakshi
- c) Lion
- d) Tiger

QC) They were generous, just and rulers.

- a) Good
- b) Cruel
- c) Kind
- d) Bad

QD) Find the same word for 'Wood' from the passage.

- a) Just
- b) Forest
- c) Generous
- d) Ruler

Q37. Choose the correct Rhyming word for 'Hard'.

- a) Blue
- b) New
- c) Yard
- d) Part

Q38. Choose the correct Rhyming word for 'Tail'.

- a) Tell
- b) Bell
- c) Sell
- d) Sail

Q39. Choose the correct Rhyming word for 'Share'.

- a) Shore
- b) Sore
- c) Care
- d) Sheer

Choose the correct Synonym for words from Q40 to Q42.

Q40. 'Small'

- a) Short
- b) Tall
- c) Big
- d) Little

Q41. 'Reward'

- a) Price
- b) Prize
- c) Gift
- d) Reward

Q42. 'Huge'

- a) Big
- b) Long
- c) Very small
- d) Very large

Choose the correct Antonyms for the words from Q43 to 45.

Q 43. 'Happy'

- a) Sad
- b) Smile
- c) Cry
- d) Weep

Q44. 'Easy'

- a) Hard
- b) Comfortable
- c) Difficult
- d) Comfort

Q45. 'Kind'

- a) Happy
- b) Cruel
- c) Nice
- d) Coward

Rearrange the words to make meaningful sentences from Q46 to 48.

Q46. Is/pen/this/my

- a) Pen is my this.
- b) My is this pen.
- c) This is my pen.
- d) Is my pen this?

Q47. To/i/hockey/like/play

- a) I like to play hockey.
- b) Hockey to play I like.

- c) Like hockey I play to.
- d) To play I like hockey.

Q48. Teacher/my/is/father/a

- a) Teacher my father a is
- b) My father is a teacher.
- c) Father is a teacher my.
- d) A teacher my is father.

Rearrange the letters to make the name of vegetables from Q49 to 51.

Q49. ATPOOT

- a) Tapoto
- b) Potota
- c) Potato
- d) Totapo

Q50. RJBNLIA

- a) Brjnial
- b) Brinjal
- c) Ribnjal
- d) Bjalrin

Q51. ESPA

- a) Peas
- b) Seap
- c) Paes
- d) Eaps

PASSAGE

Chhaya was a small utensil made from stainless steel. She sparkled. She had a good shape with a thin lining around. It made her look different. This made her proud. She was used to make tea. When water, sugar, tea, leaves, ginger, mint or masala were added, the pleasant aroma of tea filled the house.



Q.52

QA. Chhaya was a small utensil made from.....

- a) Iron
- b) Stainless Steel
- c) Gold
- d) Copper

QB. How was the shape of the small utensil?

- a) Ugly
- b) Bad
- c) Good
- d) Beautiful

Chhaya felt of herself.

- a) Gentle
- b) Calm
- c) Proud
- d) Polite

The pleasant aroma of filled the house.

- a) Milk
- b) Tea
- c) Ginger
- d) Mint

Q.53 Read the passage and choose correct option.

Ramu was a poor boy(A) ten years. Ramu and his mother(B) in a small hut in a village. His father met with(C) accident two years ago. He took the villagers cattle(D) graze in the woods near the railway track. Villagers were very happy(E) him.

- QA. a) Off
- b) Of
- c) In
- d) At
- QB. a) Lived
- b) Leave
- c) Lives
- d) Live
- QC. a) And
- b) The
- c) An
- d) A
- QD. a) With
- b) Too
- c) For
- d) To
- QE. a) For
- b) With
- c) To
- d) Too

Choose the correct meaning of the words from Q54 to 57.

Q54. 'Delicious'

- a) Yummy
- b) Soar
- c) Sweet
- d) Very tasty

Q55. 'Mum'

- a) Silent
- b) Talkative
- c) Mother
- d) Mummy

Q56. 'Outcome'

- | | | | |
|----|---------|----|--------|
| a) | Outside | c) | Result |
| b) | Inside | d) | Come |

Q57. 'Seldom'

- | | | | |
|----|--------|----|-----------|
| a) | Always | c) | Sometimes |
| b) | Rarely | d) | Barely |

Use first alphabet of the given pictures and make a meaningful word.

For Eg.

S



E



E



- a) Saa
- c) See
- b) Sie
- d) Sea

Q58.



- a) Lough
- c) Rough
- b) Laugh
- d) Tough

Q59.



- a) Beach
- c) Reach
- b) Taech
- d) Teach

Q60.



- a) Read
- c) Road
- b) Roar
- d) Reer

Qualitative Reasoning
Stand alone MCQ

Choose the correct word

सही विकल्प चुनिए

1. पश्चिम : अरब सागर

दक्षिण:

- (क) हिमालय (ख) बंगाल की खाड़ी
(ग) हिन्द महासागर (घ) प्रशान्त महासागर

West : Arabian Sea

South:

- (a) Himalaya (b) Bay of Bengal
(c) Indian Ocean (d) Paific Ocean

2. पंचायत : पंच

नगर निगम :

- (क) पार्षद (ख) कमीशनगर
(ग) पुलिस (घ) पटवारी

Panchyat : Panch

Municipal corporation:

- (a) Councillor (b) Commissioner
(c) Police (d) Patwari
3. एक वर्ष में 365 दिन होते हैं तो लीप वर्ष में कितने दिन होंगे ?
- (क) 367 दिन (ख) 366 दिन
(ग) 368 दिन (घ) 369 दिन

There are 365 days in a year then how many days are there in a leap year?

- a) 365 Days c) 368 Days
b) 366 Days d) 369 Days
4. पुलिस वर्दी पहनती है क्योंकि-
- (क) सरकार से मुफ्त मिलती है।
(ख) अपराधी को डराने के लिए।
(ग) पहचान के लिए
(घ) सुन्दर दिखने के लिए

Policeman wears uniform because

- a) It is provided free from government.
- b) Scare the criminals.
- c) Easily recognized.
- d) Keeps him smart.

5. सही शब्द का चयन कीजिए

वृक्ष बचाओ,
.....बचाओ।



- (क) आसमान
- (ख) धरती
- (ग) पानी
- (घ) पर्वत

Save Tree Save _____

- a) Sky
- b) Earth
- c) Water
- d) Mountain

6. शिक्षिका ने छात्राओं को गया, बिहार, लुम्बिनी आदि के बारे में बताया तथा बाद में उन्हें मठ, बिहार में घुमाने ले गई। शिक्षिका छात्राओं को किस महान व्यक्ति की जानकारी दे रही है।

- (क) गुरु नानक
- (ख) महावीर
- (ग) मोहम्मद
- (घ) महात्मा बुद्ध

Teacher told her students about Gaya, Bihar lumbini etc. Later on she took them to Vihal, Math for a visit. She was telling them about which great personality?

- a) Gurunanak
- b) Mahavir
- c) Mohammad
- d) Mahatama Buddha

7. पीयूष को ध्रुव तारा देखने के लिए आसमान में किस दिशा में देखना चाहिए?

- (क) पश्चिम
- (ख) उत्तर

(ग) पूर्व

(घ) दक्षिण

Piyush is gazing at stars to look out for pole star he has to see in which direction

a) West

c) East

b) North

d) South

8. सही शब्द का चयन कीजिए

(क) तारे

(ख) सप्तऋषि

(ग) ध्रुवतारा

(घ) सौरमण्डल

Write the appropriate word.

a) Stars

b) Seven Stars

c) Pole Star

d) Solar System



9. आरोही क्रम में (छोटे से बड़ा) व्यवस्थित करने के लिए सही विकल्प चुनिए

(क) साप्ताहिक

(ख) दैनिक

(ग) मासिक

(घ) वार्षिक

Choose the correct option for the ascending form.

a) Weekly

b) Daily

c) Monthly

d) Yearly

a) 2,1,3,4

b) 2,1,4,3

c) 1,2,3,4

d) 2,1,3,4

10. गांव में बिजली पानी तथा सड़क की समस्याएँ लेकर किसके पास जाना चाहिए?

(क) सरकार

(ख) पुलिस

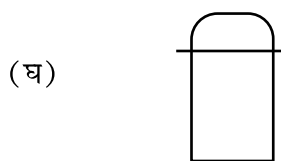
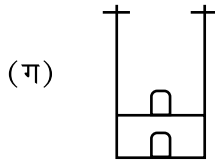
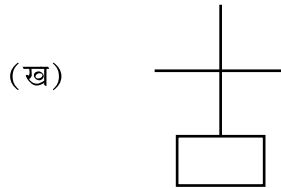
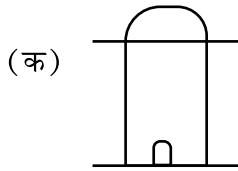
(ग) सभा

(घ) पंचायत

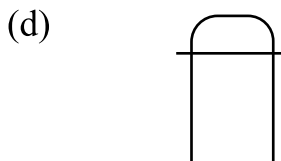
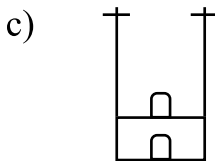
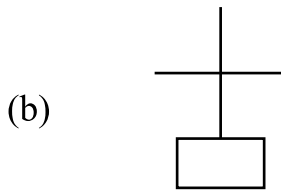
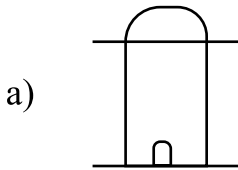
Village is having problems regarding road, water, electricity. Villagers should approach whom?

- a) Government (c) Sabha
b) Police (d) Panchayat

11. गिरिजाघर को मानचित्र पर दर्शाने के लिए किस चिह्न का प्रयोग करोगे ?



To make church on map which symbol is used?



12. भारत का कौन सा राज्य काली मिर्च, गर्म मसाले आदि के लिए प्रसिद्ध है?

- (क) बिहार (ख) केरल
(ग) पंजाब (घ) असम

Which state of India is famous for black pepper spices etc.

- a) Bihar c) Punjab
b) Kerala d) Assam

13. किसान खेतों में खाद का प्रयोग करता है,
(क) कीड़ों को मारने के लिए
(ख) उर्वरा शक्ति बढ़ाने के लिए
(ग) सरकार कहती है इसलिए
(घ) परम्परा के कारण

Farmers use manure in their fields to

- (a) kill the germs.
(b) maintain the fertility.
(c) because government advises.
(d) traditional practice.

चित्र को देखकर प्र सं 14-17 के उत्तर दीजिए:-

See the picture and answer Q. No. 14-17



14. यह चित्र आपको किसकी याद दिलाता है?

- (क) ताजमहल (ख) हवा महल
(ग) पिरामिड (घ) चारमीनार

What do you remember by looking at this picture.

- (a) Taj Mahal (b) Hawa Mahal
(c) Pyramid (d) Char Minar

15. किस देश में इनको देखा जा सकता है?

- (क) अमरीका (ख) रूस
(ग) मिस्त्र (घ) भारत

In which country are these seen?

- a) America c) Egypt
b) Russia d) India

16. मरने के बाद किसके शव को यहां रखा जाता है?

- (क) राजा (ख) नौकर
(ग) सिपाही (घ) बच्चे

Whose bodies were buried under these?

- a) King c) Soldier
b) Servant d) Children

17. दफनाए गए शव को क्या कहा जाता है?

- (क) पापा (ख) ममी
(ग) बाबा (घ) मामा

Buried bodies are known as?

- a) Papa c) Baba
b) Mummy d) Mama

18. 'ख' क्रम पर दर्शाया गया ध्वज किस देश का है?

- (क) पाकिस्तान (ख) जापान
(ग) ग्रेट ब्रिटेन (घ) भारत

(क) (a)




(ख) (b)



(ग) (c)



(घ) (d)



Identify the country whose flag is marked at 'B'.

- a) Pakistan c) Great Britain
b) Japan d) India

19. वर्तमान भारतीय राष्ट्रपति का क्या नाम है?
- (क) प्रणव मुखर्जी (ख) प्रतिभा पाटिल
(ग) मनमोहन सिंह (घ) सोनिया गांधी

Present Indian president's name is -

- a) Pranab Mukharjee
c) Pratibha Patil
b) Man Mohan Singh
d) Sonia Gandhi
20. भारत के आमचुनाव में वोट देने के लिए न्यूनतम उम्र क्या है?
- (क) 17 वर्ष (ख) 18 वर्ष
(ग) 19 वर्ष (घ) 20 वर्ष


Minimum age for voting in general elections in India is?

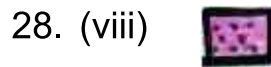
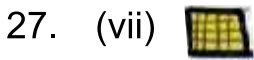
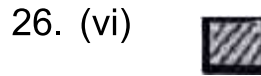
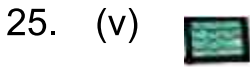
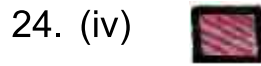
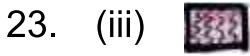
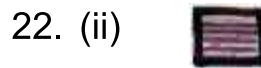
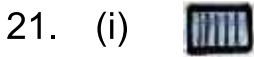
- a) 17 Years c) 19 Years
b) 18 Years d) 20 Years

(ह)

(ठ)

(21&28) Answer the following by watching this If what fraction of the square are there?





उपरोक्त, वर्ग की कौन सी भिन्न हैं?

21. (i) (a) $\frac{1}{4}$ (b) $\frac{2}{4}$ (c) $\frac{3}{4}$ (d) 1

22. (ii)(a) $\frac{1}{4}$ (b) $\frac{1}{8}$ (c) $\frac{1}{16}$ (d) $\frac{1}{2}$

23. (iii) (a) $\frac{1}{16}$ (b) $\frac{1}{8}$ (c) $\frac{1}{4}$ (d) $\frac{1}{2}$

24. (iv) (a) $\frac{1}{16}$ (b) $\frac{1}{8}$ (c) $\frac{1}{4}$ (d) $\frac{1}{2}$

25. (v) (a) $\frac{1}{16}$ (b) $\frac{1}{8}$ (c) $\frac{1}{4}$ (d) $\frac{1}{2}$

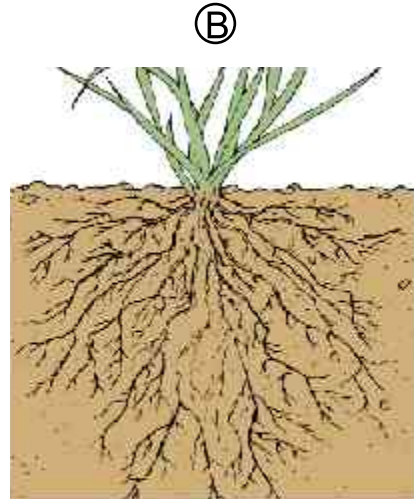
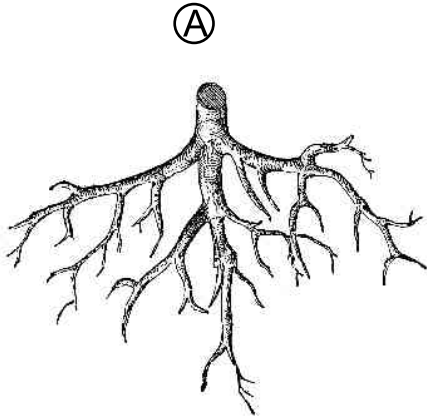
26. (vi) (a) $\frac{1}{16}$ (b) $\frac{1}{8}$ (c) $\frac{1}{4}$ (d) $\frac{1}{2}$

27. (vii) (a) $\frac{1}{16}$ (b) $\frac{1}{8}$ (c) $\frac{1}{4}$ (d) $\frac{1}{2}$

28. (viii) (a) $\frac{1}{16}$ (b) $\frac{1}{8}$ © $\frac{1}{4}$ $\frac{1}{2}$

29. चार विद्यार्थियों ने ऊपर दर्शाये गए चित्रों को निम्न प्रकार से पहचाना

1. वरुण ह - मूसला जड़, ठ - रेशेदार जड़
2. अक्षय ह - रेशेदार जड़, ठ - मूसला जड़
3. विशाल ह - झकड़ा जड़, ठ - रेशेदार जड़
4. विनय ह।- मूसला जड़ ठ - मूसला जड़



कौन से विद्यार्थी ने जड़ की पहचान सही की है?

- (अ) अक्षय (ब) वरुण
(स) विशाल (द) विनय

(2 Pictures Of Different Roots)

Four students identified the above diagram as:-

- Varun– A) Tap root B) Fibrous root
Akshay– A) Fibrous root B) Tap root
Vishal– A) Adventitious root B) Fibrous root
Vinay– A) Tap root B) Tap root

Which student is correct in identifying the roots


- a) Akshay c) Vishal
b) Varun d) Vinay

30. दिया गया चित्र किसका है?

- (अ) पवन चक्की (ब) पंखा
(स) पहिया (द) खम्भा

Which diagram is shown:-

- a) Wind mill c) Wheel
b) Fan d) Pillar



Passage Based Qualitative Reasoning

अनुच्छेद को पढ़कर प्रश्न 31 से 36 के उत्तर दीजिए।

राधा छुट्टियों में केरल घूमने गई। उसने अपने परिवार के साथ दक्षिण दिशा में जाने वाली रेलगाड़ी में सफर किया। केरल पहुंचने पर उसने चारों तरफ नारियल के पेड़ देखे। उसकी माताजी ने बताया केरल को नारियल का देश कहा जाता है। वहां उसने नाव दौड़ प्रतियोगिता देखी जो कि ओणम त्यौहार के दौरान करवाई जाती है। इडली डोसा उसे बहुत पसंद आया।

Read the passage and answer the questions, 31 to 36 :-

Radha went to Kerala in vacations. She took the train going southwards with her family. There she saw coconuts all around. Her mother told her that Kerala is called the land of coconuts. There she saw people celebrating Onam and enjoying boat race. She cherished idli dosa in Kerala.

31. Where did Radha go during Vacations?

- | | |
|------------|-------------|
| (a) Shimla | (b) Kerala |
| (c) Madras | (c) Kashmir |

छुट्टियों में राधा कहाँ गई?

- | | |
|------------|------------|
| (क) शिमला | (ख) केरल |
| (ग) मद्रास | (घ) कश्मीर |

32. Radha took the journey in which direction?

- | | |
|-----------|----------|
| (a) South | (c) East |
| (b) North | (d) West |

राधा ने सफर किस दिशा में किया?

- | | |
|------------|------------|
| (क) दक्षिण | (ख) उत्तर |
| (ग) पूर्व | (घ) पश्चिम |

33. Reaching Kerala Radha saw what ?

- | | |
|------------|-------------|
| (a) Apple | (c) Coconut |
| (b) Papaya | (d) Orange |

केरल पहुँचने पर राधा ने क्या देखा?

- | | |
|------------|-----------|
| (क) सेब | (ख) पपीता |
| (ग) नारियल | (घ) संतरा |

34. Which festival was being celebrated in Kerala?

- (a) Pongal (c) Baisakhi
(b) Bihu (d) Onam

केरल में कौन सा त्यौहार मनाया जा रहा था ?

- (क) पोंगल (ख) बीहू
(ग) बैसाखी (घ) ओवम

35. कौन सी प्रतियोगिता का आयोजन किया गया था ?

- (क) वाद-विवाद (ख) दौड़
(ग) नाव दौड़ (घ) चित्रकारी

Which competition was being organized during Onam in Kerala?

- (a) Debate (c) Boat Race
(b) Race (d) Drawing

36. राधा ने वहाँ पर क्या खाया ?

- (क) भटूरा (ख) ढोकला
(ग) इडली-डोसा (घ) दलिया

What did Radha eat in Kerala?

- (a) Bhatūra (c) Idli Dosa
(b) Dhokala (d) Daliya

अनुच्छेद को पढ़कर उत्तर दीजिए, (प्र. 37-42):-

पंकज और गीता अपने साथियों से बिछुड़कर ऐसे घने जंगलों में पहुँच गए जहाँ सूरज की रोशनी भी मुश्किल से पहुँच रही थी। अधिक वर्षा के कारण ये हरे-भरे थे। एक निश्चित समय पर ही ये अपनी पत्तियाँ गिराते हैं इसलिए इनको सदाबहार वन भी कहा जाता है। वहाँ उन्होंने महागनी एबोनी तथा रोजवुड के वृक्ष देखे। अब उन दोनो को पछतावा हो रहा है कि क्यों वे अंडमान तथा निकोबार घूमने आए दिल्ली छोड़कर।

Read the passage and answer the questions, (37-42):-

Pankaj and Geeta got separated from their colleagues and landed in a thick forest where even sun rays were not reaching, but due to heavy rainfall in that area the forest was evergreen. The trees in these type of

forests shed their leaves in a fixed period of time that is why they are evergreen. There they both saw Mahogany, Ebony, Rosewood trees. Wandering in the forest they were repenting upon why they chose Andaman & Nicobar Islands for excursion leaving Delhi.

37. पंकज और गीता कहां घूमने गए थे?

- | | |
|---------------|-----------------------|
| (क) बंगाल | (ख) पंजाब |
| (ग) लक्षद्वीप | (घ) अंडमान और निकोबार |

Pankaj and Geeta went to which state?

- | | |
|------------|-----------------------|
| (a) Bengal | (c) Lakshadweep |
| (b) Punjab | (d) Andaman & Nicobar |

38. साथियों से बिछुड़ कर वे कहां पहुँच गए?

Where did they reach after they got separated from their friends?

- | | |
|-----------|---------------------|
| (a) Mars | (c) Market |
| (b) Sea | (d) Jungle (Forest) |
| (क) मँगल | (ख) समुद्र |
| (ग) बाजार | (घ) जंगल |

39. वन कैसा था?

- | | |
|-------------|-----------|
| (क) हरा भरा | (ख) चौड़ा |
| (ग) दलदल | (घ) छोटा |

How was the forest?

- | | |
|---------------|-----------|
| (a) Evergreen | (c) Muddy |
| (b) Broad | (d) Short |

40. बच्चों ने वहाँ कौन से वृक्ष देखें?

- | | |
|---------|-----------|
| (क) सेब | (ख) केला |
| (ग) नीम | (घ) एबोनी |

Which tree did they saw in the forest?

- | | |
|------------|-----------|
| (a) Apple | (c) Neem |
| (b) Banana | (d) Ebony |

41. ऐसे घने वन को क्या कहा जाता है?

- (क) हरा (ख) पीला
(ग) गोल (घ) सदाबहार

Such dense and thick forests are called by which name?

- (a) Green (c) Wet
(b) Yellow (d) Evergreen

42. पंकज और गीता कहां से गए थे?

- (क) उत्तर प्रदेश (ख) गोवा
(ग) मुम्बई (घ) अंडमान निकोबार

Where did Pankaj and Geeta go from ?

- (a) Uttar Pradesh (c) Mumbai
(b) Delhi (d) Andaman & Nicobar Islands

अनुच्छेद को पढ़कर उत्तर दीजिए, प्र. सं. (43-48):-

गीता एक ईमानदार बालिका थी। एकबार वह विद्यालय में अपनी कक्षा से पुस्तकालय की ओर जा रही थी। रास्ते में उसे एक पर्स मिला उसने वह पर्स अपनी प्रधानाचार्या को दे दिया। प्रधानाचार्या ने पर्स खोलकर देखा तो उसमें 500 रू मिले लेकिन पर्स के मालिक का नाम पता नहीं था। तभी एक अभिभावक आए तथा उन्होंने बताया कि वह अपने बच्चे को दवा देने आए थे उनका पर्स स्कूल में गिर गया। प्रधानाचार्या ने वह पर्स उन्हें दिया तथा गीता को शाबासी दी तथा कहा कि उन्हें गर्व है गीता जैसी ईमानदार लड़की विद्यालय में है।

Read the passage and write down the answers of the questions, 43-48:-

Geeta was an honest girl. One day she was going to the library. She found a purse lying there. She took the purse and gave it to the principal. Principal opened the purse and saw Rs 500 inside the purse. She closed the purse as identity of the purse owner was known to her. Suddenly a parent arrived & told her that he had dropped his purse somewhere in the school premises when he came to give medicine to his daughter. Principal gave the purse to him & called Geeta & praised her for her honesty.

43. गीता कैसी लड़की थी ?

- (क) चोर (ख) ईमानदार
(ग) सीधी (घ) चालाक

Geeta was what kind of girl?

- (a) Thief (c) Simple
(b) Honest (d) Clever

44. गीता को क्या मिला ?

- (क) पैसे (ख) पर्स
(ग) रूपये (घ) कापी

What did she find?

- (a) Paise (c) Rupee
(b) Purse (d) Copy

45. पर्स किसका था ?

- (क) बच्चों का (ख) अध्यापिका का
(ग) अभिभावक (घ) प्रधानाचार्या

Whose purse was that?

- (a) Children (c) Parent
(b) Teacher (d) Principal

46. गीता कक्षा से निकलकर कहाँ जा रही थी ?

- (क) पुस्तकालय (ख) खेल कक्ष
(ग) प्रयोगशाला (घ) घर

Where was Geeta going from the class?

- (a) Library (c) Laboratory
(b) Sports room (d) Home

47. प्रधानाचार्या को किस बात पर गर्व हुआ ?

- (क) बच्चे अच्छे थे (ख) बच्चे मूर्ख थे
(ग) बच्चे ईमानदार थे (घ) बच्चे झूठे थे।

Why was principal proud of children?

- (a) Children were good.
- (b) Children were stupid.
- (c) Children were honest.
- (d) They were dishonest.

48. इस घटना से क्या सीख मिलती है?

- (क) हमें लालच नहीं करना चाहिए
- (ख) हमें चोरी करनी चाहिए
- (ग) हमें लालच करना चाहिए
- (घ) हमें झूठ बोलना चाहिए।

What moral do we get from this incident?

- (a) We should not be greedy.
- (b) We should steal
- (c) We should be greedy
- (d) We should tell lies.

निम्नलिखित अनुच्छेद को पढ़िए तथा दिए गए प्रश्नों के उत्तर दीजिए ?

कमजोर तने वाले कुछ पौधे सीधे खड़े नहीं हो सकते और ये भूमि पर फैल जाते हैं, इन्हें विसर्पी लता कहते हैं। जबकि कुछ पौधे आस-पास की वस्तुओं के चारों तरफ लिपटकर ऊपर चढ़ जाते हैं, ऐसे पौधे आरोही कहलाते हैं, ये दोनों तरह के पौधे शाक, झाड़ी और वृक्षों से भिन्न होते हैं। शाक छोटे पौधे होते हैं, जिनका तना हरा होता है। झाड़ी का तना कठोर होता है, और आधार से ही शाखित हो जाता है। वृक्ष बहुत ऊँचे होते हैं, और तने सुदृढ़ व गहरे भूरे होते हैं।



Read the following passage and answer the questions that follow.

Some plants with weak stems cannot stand upright and they spread over the earth. These plants are called creepers. While some plants with weak stems coil around some support and go upright, such plants are called climbers. Both these plants are different from herbs, shrubs, trees. Herbs are short plants with soft and green stem. A shrub has dark brown, hard stem which starts branching from the base. Trees are very high and have very thick, strong and brown stem.

49. विसर्पी लता का एक उदाहरण दो?

- (अ) अंगूर की बेल (ब) मनीप्लांट
(स) घास (द) लौकी की बेल

Give one example of creepers.

- (a) Grape vine (c) Grass
(b) Money plant (d) Gourd

50. निम्नलिखित में से शाक को छांटिए।

- (अ) तुलसी (ब) टमाटर
(स) नीम (द) पीपल

Pick out herb from the following:-

- (a) Tulsi (c) Neem
(b) Tomato (d) Peepal

51. निम्नलिखित में से वृक्ष को छांटिए।

- (अ) बेंगन (ब) अमलतास
(स) गेंदा (द) गुलाब

Pick out a tree from the following:-

- (a) Brinjal (b) Cassia (Amaltas)
(c) Marigold (d) Rose

52. आरोही पौधे वे होते हैं, जो...

- (अ) सीधे खड़े होते हैं।
(ब) भूमि पर फैल जाते हैं।
(स) जिनका तना सुदृढ़ और गहरा भूरा होता है।
(द) जो किसी सहारे से ऊपर चढ़ जाते हैं।

Climbers are the plants which:-

- (a) Stand upright
- (b) Spread out on earth.
- (c) Have strong and brown stem.
- (d) Climb up with the help of some support.

- दिय गए चित्र को देखकर प्र. सं. 53-56 के उत्तर दीजिए:-

See the picture and answer Q No. 53-56 :-

53. ऐसे एक जीव का नाम बताओ जो पेड़ों पर रहता है।

- (अ) हिरण
- (ब) भालू
- (स) पक्षी
- (द) चीता

Name one animal that lives on trees?

- (a) Deer
- (b) Bear
- (c) Bird
- (d) Tiger



54. ऐसे एक जीव का नाम बताइए जो हवा में उड़ता है, पर अपना घर पेड़ों पर बनाता है।

- (अ) चीता
- (ब) शेर
- (स) हिरण
- (द) मधुमक्खी

Q54. Name one animal that flies in the air but makes its home on trees.

- (a) Tiger
- (b) Lion
- (c) Deer
- (d) Honeybees

55. ऐसे जीव का नाम बताइये, जो जमीन के नीचे (अंदर) रहता है।

- (अ) हिरण
- (ब) शेर
- (स) चींटी
- (द) बंदर

Name one animal that lives underground.

- (a) Deer (c) Ants
(b) Lion (d) Monkey

56. ऐसे जीव का नाम बताइए, जो पेड़ों में छेद बनाकर अपना घर बनाता है।

- (अ) मधुमक्खी (ब) बंदर
(स) चींटी (द) काठफोड़वा

Name one bird that lives in the hole of the stem.

- (a) Honeybee (c) Ants
(b) Monkey (d) Woodpecker

निम्नलिखित अनुच्छेद को पढ़िए तथा दिए प्रश्नों के उत्तर दीजिए। (प्रश्न 57 - 60)

जब कभी राम जंगल में अपनी बकरियों को चराने जाता था, तो उसकी मां हमेशा उसे एक खिलौना देती थी। जब भी वह अपनी मां से खिलौने के बारे में पूछता, उसकी मां कहती थी- बेटा यह खिलौना तुम्हारा मित्र है, जब कभी तुम अपना रास्ता भूल जाओ, यह तुम्हें दिशा की पहचान करने में मदद करेगा, क्योंकि यह एक चुम्बकीय दिशा सूचक है, इसकी सुई विरामावस्था में हमेशा उत्तर-दक्षिण दिशा दर्शाती है। इसकी सुई के दो सिरे होते हैं।

Read the following passage and answer the questions that follows

Whenever Ram went to the jungle for grazing his goats, his mother always gave him a toy. Whenever he asked his mother about the toy, his mother said to him, this toy is your friend. Whenever you forget your way it will help you to identify the direction because it is a magnetic compass. Its needle always indicates the North-South direction whenever it comes to rest. It has two ends of the needle

57. विरामावस्था में चुम्बकीय दिशा-सूचक कौन-सी दिशा दर्शाती है?

- (अ) उत्तर-पूर्व (ब) उत्तर-दक्षिण
(स) उत्तर-पश्चिम (द) पूर्व-पश्चिम

Which direction is indicated by magnetic compass when it comes to rest.

- (a) North-East (c) North-West
(b) North-South (d) East-West



58. दिशा-सूचक(कम्पास) में सुई के कितने सिरे होते हैं?

- (अ) एक (ब) दो
(स) तीन (द) चार

The number of ends in compass needle is:-

- (a) One (c) Three
(b) Two (d) Four

निम्नलिखित प्रयोग को पढ़िए तथा दिए प्रश्नों के उत्तर दीजिए।

रीता ने पौधों पर पानी की उपलब्धता के प्रभाव का अध्ययन करने के एक प्रयोग किया, उसने प्रयोग के लिए गमलों में लगे दो एक ही तरह के पौधे लिए।

Read the following experiment and answer the question that follow.

Rita conducted an experiment to study the effect of water availability of plants. She chose two potted plants of the same type for the experiment.

(अ)



(A)

(ब)



(B)

59. आपको A और B में से कौन से पौधे की स्थिति सही दिखाई देती है?

- (अ) पौधा A (ब) पौधा B
(स) पौधा (A) और पौधा (B) (द) कोई नहीं

Which plant looks better to you A & B?

- (a) Plant A (c) Plant A & B both.
(b) Plant B (d) None of these.

60. पौधे (ब) के मुरझाए जाने का कारण बताइए?

- (अ) पानी की कमी से (ब) ज्यादा धूप से
(स) हवा की अधिकता से (द) इनमें कोई नहीं

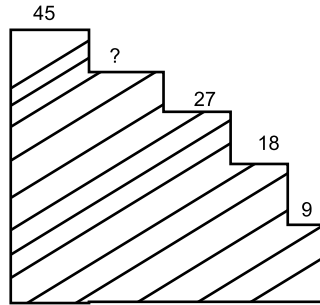
Give the reason for wilting of plant B.

- (a) Due to deficiency of water.
(b) Due to excessive sunlight.
(c) Due to excessive air.
(d) None of these.

Stand Alone MCQ
Quantitative Reasoning

मात्रात्मक तर्क

- Q-1** एक सीढ़ी पर 9 के गुणज लिखे गए हैं। पर एक सीढ़ी पर पेंटर वह संख्या लिखना भूल गया। क्या तुम पेंटर को वह संख्या बता सकते हो ?
- Q1.** A ladder has multiples of 9 written on it. But the painter forgot to write the number on one step. Can you help him to find that number?



- (a) 36 (b) 54
(c) 63 (d) 81
- Q-2** सीमा दुकान पर गणित की पुस्तक लेने गई। उसने दुकानदार से पुस्तक का मूल्य पढ़ा। दुकानदार ने उसे कहा कि 2^3 को 3^3 से गुण करके जो संख्या आए, उतने रुपये दे दो। बताओ सीमा कितने रुपये देगी ?

Seema went to purchase maths book. She asked the price of book. Shopkeeper said to pay the amount which she gets after multiplying 2^3 and 3^3 . Find the amount she paid?

- (a) 116 (b) 200
(c) 316 (d) 216



- Q-3** ललिता आज दुकान से 13 पेंसिल खरीद कर लायी। उसने अपने दोनों छोटे भाइयों अनिल और सुनील को बराबर-बराबर पेंसिल देकर अपने पास उनसे एक पेंसिल ज्यादा रख ली। बताओ उसके पास अब कितनी पेंसिलें हैं?



Lalita purchased 13 pencils from the shop. She distributed equally to her two younger brothers Anil and Sunil and herself kept one pencil more than them. Tell how many pencils she has now?

- (a) 4 (b) 5
(c) 6 (d) 7
- Q-4** स्कूल के बच्चों को मिड-डे मील में पूरियां मिली। रोहित ने ढाई पूरियां ($2\frac{1}{2}$), राहुल ने साढ़े तीन पूरियां($3\frac{1}{2}$), पूजा ने आधी ($\frac{1}{2}$) पूरी खायी। तीनों ने मिलकर कितनी पूरीयाँ खायी?

Today school children got Pooris in mid day meal. Rohit ate $2\frac{1}{2}$ pooris, Rahul ate $3\frac{1}{2}$ pooris, Pooja ate $\frac{1}{2}$ poori. How many pooris did they ate in total?

- (a) 6 (b) $6\frac{1}{2}$
(c) 10 (d) 9
- Q-5** अनिता को एक समकोण बनाना था। उसने एक कोण 35° का बनाया। उसका पूरक कोण वह कितने अंश का बनाएगी?

Anita had to make a right angle. She made one angle of 35° . Can you tell the complementary angle?

- (a) 65° (b) 55°
(c) 40° (d) 75°
- Q-6** रघु के पिताजी ने फल बेचने का काम शुरू किया। उन्होंने 560 रुपये के सेब और 600रु के केले खरीदे। उन्होंने सेब 700 रुपये के बेच दिये। गर्मी के कारण कुछ केले खराब हो

गए, जिन्हें 480 रुपये में बेचना पड़ा। बताओ उन्हें लाभ हुआ या हानि ?

- (a) लाभ (b) हानि
(c) न लाभ, न हानि (d) पता नहीं



Raghu's father was a fruit seller. He bought apples for Rs 560/- and sold them for Rs 700/- and bought bananas for Rs 600/- some bananas were rotten so he had to sell them for Rs 480/-. Can you tell his father has a profit or loss?

- (a) Profit (b) Loss
(c) Neither profit nor loss (d) Don't know

Q-7-14

आज मीना के विद्यालय में 15 अगस्त मनाया गया। मीना को आज जल्दी स्कूल पहुंचना था। इसीलिए वह 6:15 am (पूर्वाह्न) पर घर से चल पड़ी और उसे पहुंचने में 25 मिनट लगे। उसकी अध्यापिका ने उसकी कक्षा के बच्चों को स्कूल को छोटे-छोटे झंडों से सजाने का कार्य दिया। उसकी कक्षा में कुल 45 बच्चे थे। हर बच्चे को 15 झंडे लगाने थे। पर कक्षा में 5 बच्चे अनुपस्थित रहे। इसलिए पूरे झंडे नहीं लग पाये। सातवीं कक्षा के बच्चों ने देशभक्ति के गीत प्रस्तुत किया, जिसमें 28 बच्चों ने भाग लिया। मंच पर 7-7 बच्चों की पंक्तियां बनाई गईं। स्कूल के मैदान में दिखाये गए चित्रानुसार समारोह की व्यवस्था की गई। तो क्या आप बता सकते हैं कि....

15th August was celebrated in Meena's school today. So Meena had to reach early in school. So she left for school at 6:15 a.m. and it took 25 minutes to reach the school. Her teacher assigned the work of decorating the school with flags, to her class. There were 45 children in the class. Everyone has to put 15 flags. But 5 students were absent so all flags could not be put. Students of class 7th presented a patriotic song in which 28

students took part. On stage, rows were made containing 7 students each. Arrangement in school ground was done as shown in following figure. Can you answer following questions now?

Q-7 मीना स्कूल कितने बजे पहुंची ?

- (a) 7: ए.एम. (b) 6: 55 ए.एम.
 (c) 6: 40 ए.एम. (d) 6: 25 ए.एम.

When did Meena reach school?

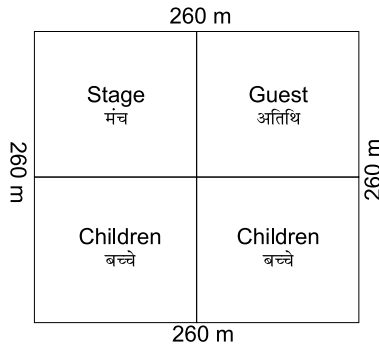
- (a) 7:00 a.m. (b) 6:55 a.m.
 (c) 6:40 a.m. (d) 6:25 a.m.

Q-8 मीना की कक्षा द्वारा कुल कितने झंडे लगाये गये थे ?

- (a) 645 (b) 675
 (c) 605 (d) 600.

How many flags in total were to be put by Meena's class?

- (a) 645 (b) 675
 (c) 605 (d) 600



Q-9 पाँच बच्चों के अनुपस्थित हो जाने के कारण कितने झंडे लग पाये ?

- (a) 600 (b) 575
 (c) 550 (d) 525

Due to absence of 5 students how many flags were put?

- (a) 600 (b) 575
 (c) 550 (d) 525

Q.10 देश भक्ति गीत प्रस्तुत करते समय कुल कितनी पंक्तियाँ बनी?

- (a) 7 (b) 4
(c) 3 (d) 5

How many rows were formed during patriotic song?

- (a) 7 (b) 4
(c) 3 (d) 5

Q.11 स्कूल के मैदान के कितने हिस्से में बच्चों के बिठाने का प्रबन्ध किया गया?

- (a) $1/4$ (b) $2/4$
(c) $2/5$ (d) 2

How much part of school ground was used for sitting of children?

- (a) $1/4$ (b) $2/4$
(c) $2/5$ (d) 2

Q.12 मैदान के कितने हिस्से में स्टेज बनाया गया?

- (a) $1/4$ (b) $2/4$
(c) $3/4$ (d) $4/4$

In how much part of ground stage was made?

- (a) $1/4$ (b) $2/4$
(c) $3/4$ (d) $4/4$

Q.13 स्कूल के मैदान का क्षेत्रफल क्या होगा?

- (a) 6760 m^2 (b) 5200 m^2
(c) 67600 m^2 (d) 67500 m^2

Calculate area of school ground.

- (a) 6760 m^2 (b) 5200 m^2
(c) 67600 m^2 (d) 67500 m^2

Q.14 स्कूल का मैदान किस आकृति का है?

- (a) आयताकार (b) वर्गाकार
(c) गोलाकार (d) त्रिभुजाकार

Tell the shape of school ground.

- (a) Rectangle (b) Square


- (c) Circular (d) Triangular

Q.15 मैं एक ऐसी संख्या हूँ जो 500 के दुगुने से 333 कम है। मैं कौन हूँ?

- (a) 667 (b) 567
(c) 557 (d) 777

I am a number which is 333 less than double of 500. Who am I?

- (a) 667 (b) 567
(c) 557 (d) 777



Q.16 मेरी मम्मी ने मुझे मेरे भाई को बाजार से सामान लाने भेजा। उन्होंने हमें कुछ रूपये दिये और हमें निम्नलिखित चीजें लाने को कहा

- (a) 23 रु. का पनीर
(b) 12 रु. की ब्रेड
(c) 20-20 रु. के दो चिप्स के पैकेट
(d) 15 रु. का जूस का पैकेट। हमने कुल कितने रूपये खर्च किए ?

My mother sent me and my brother to market to buy some groceries. She gave us some money to get following things:

- (a) Cheese for Rs 23.
(b) Bread for Rs 12.
(c) Two packets of chips each of Rs 20.
(d) Pack of juice for Rs 15.

How much money we spent in total?

- (A) Rs 90
- (B) Rs 50
- (C) Rs 60
- (D) Rs 70


Q.17


तीन टोकरीयाँ है एक नीली, एक लाल तथा एक हरी जिनमें कुल मिलाकर 10 अण्डे हैं। नीली टोकरी में लाल टोकरी से एक अण्डा ज्यादा रखा हुआ है तथा लाल टोकरी में हरी टोकरी से अण्डे कम है। तो क्या आप बता सकते हैं कि प्रत्येक टोकरी में कितने-कितने अण्डे रखे हुए हैं।


- (a) 3,5,2
- (b) 5,2,3
- (c) 5,3,2
- (d) 3,2,5

Q.17

There are three baskets, a blue one, a red one, a green one, holding a total of 10 eggs. The blue basket has one more egg in it than the red basket. The red basket has 3 eggs less than the green basket. How many eggs are there in each basket?

Green 

Red 

Blue 

- (a) 3, 5, 2
- (b) 5, 2, 3
- (c) 5, 3, 2
- (d) 3, 2, 5

Q.18 इस आकृति में कुल कितने त्रिभुज है?

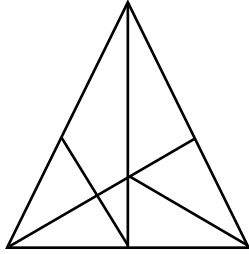
- (a) 7
- (b) 15
- (c) 10
- (d) 17

How many triangles are shown in this figure?

- (a) 7
- (b) 15

(c) 10

(d) 17



Q.19 इनमें से अलग आकृति छांटो जिसमें भुजाओं की संख्या 0 है?

(a)

(b)


(c)

(d)

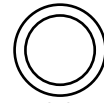
Find the odd-one out in which number of sides is zero.



(a)



(b)



(c)



(d)



(e)

(a) d

(b) e

(c) c

(d) b

Q.20 रिक्त स्थान में उपयुक्त संख्या भरें।

(a) 90

(b) 72

(c) 56

(d) 66

Find and fill the missing number to complete the grid.

(a) 90

(b) 72

(c) 56

(d) 66

12	156	144
8		64
7	56	49

Q.21

$$\triangle + \triangle = 36$$

$$\triangle + \bigcirc = 45$$

(a) 27, 18

(b) 11, 15

(c) 18, 27

(d) 29, 21

$$\bigcirc = \boxed{?}, \quad \triangle = \boxed{?}$$

Q.22 A और B का मान ज्ञात करें।

Find the value of A and B?

$$\bigcirc A + \bigcirc B = 11$$

$$\bigcirc A \times \bigcirc B = 24$$

(a) A=9, B=2

(b) A=3, B=8

(c) A=6, B=4

(d) A=-8, B=-3

Q.23 इन अंकों का प्रयोग कर मिलान करें।

7

8

2

(A) बड़ी संख्या बनाओ।

(i) 594

(B) छांटी संख्या बनाओ।

(ii) 872

(C) बड़ी और छोटी संख्या में अंतर

(iii) 272

Use the digit and match the following.

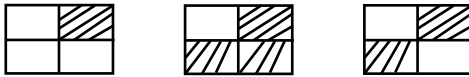
- (A) Build the biggest number. (i) 594
 (B) Build the smallest number. (ii) 872
 (C) Difference between biggest and smallest number. (iii) 278
- (a) A – (i) B – (iii) C – (ii)
 (b) A - (iii) B – (ii) C – (i)
 (c) A – (ii) B – (iii) C – (i)
 (d) A - (ii) B – (i) C – (iii)

Q-24

17	21	26
20	24	?

- (a) 28 (b) 18
 (c) 29 (d) 30

Q25.



- (a) $\frac{1}{2}$ (b) $\frac{3}{4}$
 (c) $\frac{1}{4}$ (d) $\frac{2}{5}$

प्र.26 क्रिकेट बैट की लंबाई मापते समय स्केल पर यदि उसके एक सिरे का पाठ्यांक 6.0 से. मी. तथा दूसरे का पाठ्यांक 66.1 सेमी है, तो बैट की लंबाई कितनी होगी।

- (अ) 60.1 से.मी. (ब) 6.01 से.मी.
 (स) 126.1 से.मी. (द) 12.61 से.मी.

Q.26 While measuring the length of a cricket bat if reading on one end is 6.0 cm and the reading at other end is 66.1 cm, what will be the length of the bat?

- (a) 60.1 cm (b) 6.01 cm
 (c) 126.1 cm (d) 12.61 cm

Complete the following numbers series:-

प्र.27 निम्न संख्या की श्रेणी को पूरा कीजिए।

5, 10, 15,, 25, 30

- | | |
|--------|--------|
| (a) 5 | (b) 20 |
| (c) 15 | (d) 18 |

Q.28 5, 11, 23,, 95

- | | |
|--------|--------|
| (a) 46 | (b) 40 |
| (c) 47 | (d) 50 |

Q.29 1, 4, 9,, 25, 36

- | | |
|--------|--------|
| (a) 13 | (b) 12 |
| (c) 14 | (d) 16 |

Q.30 1, 9, 25, 81

- | | |
|--------|--------|
| (a) 49 | (b) 34 |
| (c) 64 | (d) 36 |

मात्रात्मक वर्क (अनुच्छेद पर आधारित)

QUANTITATIVE REASONING (Passage Based)

निम्न अनुच्छेद को पढ़िए तथा प्र. सं. 31 से 36 तक उत्तर दीजिए?

हम मानवों के अपने जीवन काल में दाँतों के दो समूह होते हैं- स्थायी समूह तथा अस्थायी समूह। अस्थायी समूह वह होता है जिसमें बच्चे की 2 ½ माह से 3 माह की उम्र से दाँत निकलने शुरू हो जाते हैं और 2 वर्ष की आयु तक सारे दाँत निकल आते हैं। इन दाँतों को दूध के दाँत भी कहते हैं। अस्थायी समूह में कुल 20 दाँत होते हैं।

सामने के दाँत (कृन्तक) अक्सर 6 से 12 महीने तक, द्वितीय चवर्णक 13 से 19 महीने तक और रदनक अक्सर 19 महीने की उम्र तक निकल जाते हैं।

6 वर्ष की उम्र तक अस्थायी दाँत स्थायी दाँतों को जगह देना शुरू कर देते हैं। स्थायी समूह में कुल 32 दाँत होते हैं और प्रत्येक जबड़े में 16।

Read the following passage and answer Q. 31 to 36.

We humans have two different sets of teeth in our life time – the temporary set and the permanent set. The temporary set is the one that starts appearing at the age of about two and a half to three months and completes in about two years. These teeth are also called milk teeth. Front teeth usually erupt when a child is from 6 to 12 months of age, second molars between 13 and 19 months old and canines usually erupt at 19 months or older. Around the age of six the milk teeth starts giving way to the developing permanent teeth. There are 32 permanent teeth and 16 in each jaw.

Q.31 हमारे ----- विभिन्न दाँतों के समूह होते हैं।

- | | |
|--------|--------|
| (अ) 4 | (ब) 2 |
| (स) 16 | (द) 32 |

We have different sets of teeth.

- | | |
|--------|--------|
| (a) 4 | (b) 2 |
| (c) 16 | (d) 32 |

Q.32 अस्थायी समूह में दाँत ----के उम्र से निकलने शुरू हो जाते हैं।

- | | |
|-----------------|------------------|
| (अ) 1 माह | (ब) 8 माह |
| (स) 2½ से 3 माह | (द) 2½ से 3 वर्ष |

Teeth of temporary set start appearing at the age of

- (a) 1 Month (b) 8 Months
(c) 2 ½ to 3 Months (d) 2 ½ to 3 Years

Q.33 एक अस्थायी समूह में कुल कितने दाँत होते हैं?

- (अ) 20 (ब) 10
(स) 02 (द) 32

How many teeth make a temporary set?

- (a) 20 (b) 10
(c) 02 (d) 32

Q.34 हमारे प्रत्येक जबड़े में कितने स्थायी दाँत होते हैं?

- (अ) 20 (ब) 10
(स) 32 (द) 16

How many teeth do we have in our each jaw in a permanent set?

- (a) 20 (b) 10
(c) 32 (d) 16

Q.35 लगभग कितनी उम्र से दूध के दाँत की जगह स्थायी दाँत आने शुरू हो जाते हैं?

- (अ) 2 वर्ष तक (ब) 6 वर्ष तक
(स) 10 वर्ष तक (द) 6 माह तक

Around which age do milk teeth start giving way to the permanent teeth?

- (a) 2 Years (b) 06 Years
(c) 10 Years (d) 6 Months

Q.36 अस्थायी दाँतों को ----- भी कहते हैं?

- (अ) पानी के दाँत (ब) खाने के दाँत
(स) दूध के दाँत (द) तेल के दाँत

Temporary teeth are also known as

- (a) Water Teeth (b) Food Teeth
(c) Milk Teeth (d) Oil Teeth



निम्नलिखित अनुच्छेद को पढ़िए और प्रश्न 37 से 42 तक उत्तर दीजिए:-

भारत में ऊनी उद्योग छोटा है और बुनियादी तौर पर पंजाब, हरियाणा, राजस्थान, उत्तर प्रदेश, महाराष्ट्र और गुजरात में स्थित है। ऊनी इकाईयों में से अधिकतर 40% पंजाब में है। उसके बाद 27% हरियाणा और 10% राजस्थान में है। क्योंकि महीन और गुणवत्ता वाली ऊन का घरेलू उत्पादन बहुत कम है। इसलिए भारत मुख्यतः ऑस्ट्रेलिया तथा न्यूजीलैंड से इसके आयात पर निर्भर रहता है।

Read the following passage and answer Q.37 to 42.

The woolen industry in India is small and is basically located in the states of Punjab, Haryana, Rajasthan, U.P., Maharashtra and Gujarat. The majority of the woolen units (40%) are in Punjab, followed by Haryana (27%) and Rajasthan (10%). The rest of the states accounts for the remaining 23% of the units. Since domestic production of fine quality wool is quite low, India depends on imports mainly from Australia and New Zealand.

प्र.37 भारत में ऊन उत्पादन की इकाइयों कितने राज्यों में है?

- (अ) 04 (ब) 06
(स) 02 (द) 01

In how many states of India are woolen units located?

- (a) 04 (b) 06
(c) 02 (d) 01

प्र.38 कुल 23 :ऊन का उत्पादन कौन से राज्य करते हैं?

- (अ) पंजाब और हरियाणा
(ब) उत्तर प्रदेश
(स) महाराष्ट्र और गुजरात
(द) 'ब' और 'स' दोनों।

Which states together produce 23% of the total wool?

- (a) Punjab & Haryana
(b) U.P.
(c) Maharashtra & Gujarat
(d) Both 'b' & 'c'

प्र.39 किस राज्य में ऊनी उद्योग की इकाइयों सबसे अधिक हैं?

- (अ) राजस्थान (ब) उत्तर प्रदेश
(स) पंजाब (द) हरियाणा

Which state has majority of woolen industry units?

- (a) Rajasthan (b) U.P.
(c) Punjab (d) Haryana

प्र.40 राजस्थान और हरियाणा में मिलाकर कितने % ऊनी उद्योग इकाइयों हैं?

- (अ) 37 % (ब) 27 %
(स) 50 % (द) 67 %

What % of total industrial units (woolen) are located in Rajasthan & Haryana both?

- (a) 37% (b) 27%
(c) 50% (d) 67%

प्र.41 भारत मुख्यतः किन दो देशों से ऊन का आयात करता है?

- (अ) ऑस्ट्रेलिया व इंग्लैंड (ब) ऑस्ट्रेलिया व अमेरिका

(स) इंग्लैंड व न्यूजीलैंड (द) ऑस्ट्रेलिया व न्यूजीलैंड

From which two countries does India mainly import wool?

- (a) Australia & England
- (b) Australia & America
- (c) England & New Zealand
- (d) Australia & New Zealand


प्र.42 यदि भारत में कुल 10000 ऊनी उद्योग इकाइयाँ हैं तो राजस्थान में कुल कितनी इकाइयाँ हैं?

- (अ) 1000 (ब) 100
- (स) 10 (द) 10000



दिये गये अनुच्छेद को पढ़िए तथा दिए गए प्रश्नों के उत्तर दीजिए? (43-46)

तिलचट्टे में तीन जोड़ी पैर होते हैं, जो चलने में सहायता करते हैं, इसका शरीर कठोर बाह्य-कंकाल द्वारा ढका होता है, यह बाह्य कंकाल विभिन्न संधियों द्वारा बनता है, जिसके कारण गति संभव हो पाती है। वक्ष से दो जोड़े पंख भी जुड़े होते हैं। अगले पैर सकरे और पिछले पैर चौड़े व पतले होते हैं, तिलचट्टे में विशिष्ट पेशियाँ होती हैं, पैर की पेशियाँ चलने में सहायता करती हैं, व वक्ष की पेशियाँ उड़ने के समय उसके पंखों को गति देती हैं।



Cockroach

Read the following passage and answer the questions the follow:- (Q43 – 46)

Cockroach has three pairs of legs that helps them in walking. Its body is covered with hard exoskeleton. This skeletal system is made up of different types of joints which helps in movement. Two pairs of wings are also joined to the chest. Fore limbs are narrow while hind limbs are broad and thin. It has special muscles. Muscles of legs help in walking while muscles of chest help to giving speed to its legs while flying.

प्र. 43 तिलचट्टे में कितनी जोड़ी पैर होते हैं?

- (अ) 5 जोड़ी (ब) 3 जोड़ी
(स) 8 जोड़ी (द) 4 जोड़ी

How many pairs of legs do cockroach have?

- (a) 5 pairs (b) 3 pairs
(c) 8 pairs (d) 4 pairs

प्र. 44 तिलचट्टे के वक्ष से कितनी जोड़ी पंख जुड़े होते हैं?

- (अ) 2 जोड़ी (ब) 4 जोड़ी
(स) 3 जोड़ी (द) 1 जोड़ी

How many pair of wings are joined to the chest?

- (a) 2 pairs (b) 4 pairs
(c) 3 pairs (d) 1 pair

प्र. 45 तिलचट्टे में कौन से जोड़ी पंख संकरे होते हैं?

- (अ) अगली जोड़ी पैर (ब) पिछली जोड़ी पैर
(स) अ व ब दोनों (द) इनमें से कोई नहीं

Which pair of legs are narrow in cockroach?

- (a) Fore limbs (b) Hind limbs
(c) a & b both (d) None of these

प्र. 46 तिलचट्टे में कौन से पैर चौड़े होते हैं?

- (अ) पिछले पैर (ब) अगले पैर
(स) अ व ब दोनों (द) इनमें से कोई नहीं

Which pair of legs are broad in cockroach?

- (a) Hind limbs (b) Fore limbs
(c) a & b both (d) None of these

दिए गए अनुच्छेद को पढ़िए, तथा दिए गये प्रश्नों के उत्तर दीजिए? (47-50)

एक परजीवी पौधे रैफ्लेशिया के संसार में सबसे बड़े आकार के फूल होते हैं। फूल की पाँच पंखुड़ियाँ होती हैं, जिनका व्यास 106 सें. मी. तक और भार 10 किलोग्राम होता है?

Q No. 47-50

Read the following passage and answer the questions that follow.

A parasitic plant, Rafflesia, bears the world's largest flower. The flower has five petals and may have a diameter of up to 106 cm, and weight up to 10 Kg.



प्र. 47 रैफ्लेशिया के फूल की एक पंखुड़ी का भार किलोग्राम में बताओ?

- (अ) 5 किलोग्राम (ब) 1 किलोग्राम
(स) 2 किलोग्राम (द) 50 किलोग्राम

What is the weight of one petal of Rafflesia?

- (a) 5 Kg (b) 1 Kg
(c) 2 Kg (d) 50 Kg

प्र. 48 रैफ्लेशिया के फूल की त्रिज्या बताइये?

- (अ) 106 सें.मी. (ब) 10.6 सें.मी.
(स) 53 सें.मी. (द) 212 सें.मी.

What is the radius of Rafflesia flower?

- (a) 106 cm (b) 10.6 cm
(c) 53 cm (d) 212 cm

प्र. 49 रैफ्लेशिया के फूल का व्यास कितना होता है?

- (अ) 10.6 सें.मी. (ब) 106 सें.मी.
(स) 212 सें.मी. (द) 53 सें.मी.

What is the diameter of Rafflesia flower?

- (a) 10.6 cm (b) 106 cm
(c) 212 cm (d) 53 cm

प्र. 50 रैफ्लेशिया के फूल में कितनी पंखुड़ियाँ होती हैं?

- (अ) 8 (ब) 6
(स) 5 (द) 3

How many petals are there in a Rafflesia flower?

- (a) 8 (b) 6
(c) 5 (d) 3

अनुच्छेद को पढ़कर उत्तर दीजिए?

दिल्ली की कुल जनसंख्या लगभग 1.38 करोड़ है। जिसमें पुरुषों की संख्या 76.07 लाख तथा महिलाओं की 62.43 लाख है। यानी 1000 पुरुष है तो स्त्रियाँ 821 है। जनसंख्या घनत्व 9340 व्यक्ति प्रति वर्ग कि.मी. है। यहाँ साक्षरता दर 81.97 % है। यहाँ मुख्य रूप से हिन्दी, उर्दू, पंजाबी एवं अंग्रेजी बोली जाती है। दिल्ली का S.T.D कोड 011 है। पोस्टल कोड 1100 तथा वाहन कोड (DL & oxx) है।

Read the passage and answer the questions. (Q51 – 56)

Total population of Delhi is approximately 1.38 crores. Male population is 76.07 lakhs whereas female population is 62.43 lakhs. Ratio of male and female population is 1000 male : 821 female. Population density is 9340 persons per square Km. Literacy rate is 81.97%. Languages spoken in Delhi are Hindi, Urdu, Punjabi & English. STD code of Delhi is 011. Postal code is 1100 and vehicle code is DL-0XX.

प्र. 51 दिल्ली की कुल जनसंख्या कितनी है?

- | | |
|----------------|----------------|
| (क) 1.38 करोड़ | (ख) 1.39 करोड़ |
| (ग) 1.37 करोड़ | (घ) 1.40 करोड़ |

What is the total population of Delhi?

- | | |
|----------------|----------------|
| (a) 1.38 Crore | (b) 1.39 Crore |
| (c) 1.37 Crore | (d) 1.40 Crore |

प्र.52 पुरुषों की कुल जनसंख्या महिलाओं से कितनी अधिक है?

- | | |
|---------------|---------------|
| (क) 13.63 लाख | (ख) 13.64 लाख |
| (ग) 13.65 लाख | (घ) 12.60 लाख |

Total male population is more than female population. Find out how much is it greater?

- | | |
|----------------|----------------|
| (a) 13.63 Lakh | (b) 13.64 Lakh |
| (c) 13.65 Lakh | (d) 12.60 Lakh |

प्र. 53 महिला की जनसंख्या दर पर पुरुषों की दर से कितनी कम है?

- | | |
|---------|---------|
| (क) 178 | (ख) 179 |
| (ग) 177 | (घ) 176 |

Difference between male & female ratio is?

- | | |
|---------|---------|
| (a) 178 | (b) 179 |
| (c) 177 | (d) 176 |

प्र. 54 दिल्ली की जनसंख्या घनत्व कितना है?

- (क) 9440 व्यक्ति प्रतिवर्ग कि.मी.
- (ख) 9340 व्यक्ति प्रतिवर्ग कि.मी.
- (ग) 9430 व्यक्ति प्रतिवर्ग कि.मी.
- (घ) 9433 व्यक्ति प्रतिवर्ग कि.मी.

Density of population in Delhi is?

- (a) 9440 People per square Km.
- (b) 9340 People per square Km.
- (c) 9430 People per square Km.
- (d) 9433 People per square Km.

प्र. 55 साक्षरता दर दिल्ली का कितना है?

- (क) 82.9 %
- (ख) 81.97 %
- (ग) 81.78 %
- (घ) 81.96%

Literacy rate of Delhi is?

- (a) 82.9 %
- (b) 81.97 %
- (c) 81.78 %
- (d) 81.96 %

प्र. 56 दिल्ली का STD कोड कौन सा है?

- (क) 01
- (ख) 011
- (ग) 0111
- (घ) 0XX

STD code of Delhi is?

- (a) 01
- (b) 011
- (c) 0111
- (d) 0XX

निम्न अनुच्छेद को पढ़िए और प्र सं 57-60 के उत्तर दीजिए:-

1984 की भोपाल गैस आपदा की घटना औद्योगिक आपदाओं में से सबसे खतरनाक एवं भयानक हादसा थी। इस गैस रिसाव के कारण 2000 से अधिक लोग मारे गए एवं 15,000 से 600,000 के बीच जखमी हुए। इनमें से लगभग 15,000 लोग मर गए। 5 साल लगातार अध्ययन के अनुसार बाद में बचे हुए व्यक्तियों को विभिन्न रोगों से ग्रसित पाया गया। उस गैस रिसाव प्रदूषण का प्रभाव किसी न किसी रूप में आज भी है।

**Read the following passage and answer the questions that follow.
(Q57-60)**

The Bhopal gas disaster of 1984 is considered one of the worst cases of industrial disasters. Leaked industrial vapours killed more than 2000 people outright and injured anywhere from 1,50,000 to 6,00,000 others, at least 15,000 of whom later died. A series of studies made five years later showed that many of the survivors were still suffering from ailments. Till today, the contamination is present in some form or the other.



Industrial Pollution

प्र. 57 भोपाल गैस कांड कौन से सन् में हुआ था।

- | | |
|----------|----------|
| (क) 1984 | (ख) 1980 |
| (ग) 1982 | (घ) 1985 |

When did the Bhopal gas disaster take place?

- | | |
|----------|----------|
| (a) 1984 | (b) 1980 |
| (c) 1982 | (d) 1985 |

प्र. 58 मारे गए लोगों की संख्या कितनी थी?

- | | |
|--------------------|------------------|
| (क) 150000 से अधिक | (ख) 2000 से अधिक |
| (ग) 15000 से अधिक | (घ) 6000 से अधिक |

How many people were killed?

- | |
|-------------------------|
| (a) More than 1,50,000. |
| (b) More than 2000. |
| (c) More than 15,000. |
| (d) More than 6000. |

प्र. 59 बाद में कितने व्यक्ति मारे गए?

- (क) 15000 (ख) 20000
(ग) 1500 (घ) 600

How many persons died later?

- (a) 15,000 (b) 20,000
(c) 1,500 (d) 600

प्र. 60 5 साल लगातार अध्ययन के बाद क्या ज्ञात हुआ?

- (क) 2000 व्यक्ति मारे गए
(ख) बचे हुए व्यक्तियों को विभिन्न रोगों से ग्रसित पाया गया।
(ग) 150,000 से 600,000 व्यक्ति मारे गए।
(घ) इनमें से कोई नहीं।

What did the series of studies later showed?

- (a) 2000 People were killed.
(b) Many of the survivors were still suffering from ailment.
(c) 1,50,000 to 6,00,000 people were killed.
(d) None of the above.

भाषायी आचार (वर्ग ए)

उत्तर संकेत

1. ख	2. क	3. ग
4. क	5. ग	6. क
7. ग	8. ख	9. ग
10. घ	11. क	12. ख
13. ग	14. ग	15. क
16. ग	17. क	18. ख
19. ग	20. घ	21. क
22. ख	23. ग	24. घ
25. क	26. ग	27. ख
28. ग	29. ख	30. क
31. ग	32. ख	33. घ
34. ग	35. क	36. ख
37. ग	38. क	39. क
40. ख	41. घ	42. ख
43. क	44. घ	45. ख
46. ग	47. क	48. ख
49. ग	50. घ	51. ख
52. घ	53. क	54. ख
55. क	56. ख	57. घ
58. ख	59. घ	60. ग

ANSWER KEYS

LANGUAGE CONVENTIONS

- Q1. (a) Eats
Q2. (c) Went
Q3. (b) Will
Q4. (d) By
Q5. (a) In
Q6. (b) Among
Q7. (d) An
Q8. (b) The
Q9. (d) Mice
Q10. (b) Feet
Q11. (c) Lioness
Q12. (a) Heroine
Q13. (c) Should
Q14. (b) Can
Q15. (d)
Q16. (b)
Q17. (c) Girl
Q18. (d) Bombay
Q19. (a) Large
Q20. (b) Long
Q21. (A) c (B) b (C) a (D) c (E) d
Q22. (A) c (B) b (C) a (D) c (E) b
Q23. (d) King
Q24. (b) We
Q25. (d) Her
Q26. (c) His

- Q27. (a) Difficult
- Q28. (b) Grammar
- Q29. (d) Enough
- Q30. (c) To take care
- Q31. (b) Unlucky
- Q32. (a) Tail
- Q33. (d) Hair
- Q34. (c) To
- Q35. (A) c (B) b (C) b (D) d (E) a
- Q36. (A) d (B) a (C) c (D) b
- Q37. (c) Yard
- Q38. (d) Sail
- Q39. (c) Care
- Q40. (d) Little
- Q41. (b) Prize
- Q42. (d) Very large
- Q43. (a) Sad
- Q44. (c) Difficult
- Q45. (b) Cruel
- Q46. (c)
- Q47. (a)
- Q48. (b)
- Q49. (c) Potato
- Q50. (b) Brinjal
- Q51. (a) Peas
- Q52. (A) b (B) c (C) c (D) b
- Q53. (A) b (B) a (C) c (D) d (E) b
- Q54. (d) Very tasty

- Q55. (a) Silent
Q56. (c) Result
Q57. (b) Rarely
Q58. (b) Laugh
Q59. (d) Teach
Q60. (a) Read

ANSWER KEYS

QUALITATIVE REASONING

- | | |
|---------|---------|
| 1. (c) | 32. (a) |
| 2. (a) | 33. (c) |
| 3. (b) | 34. (d) |
| 4. (c) | 35. (c) |
| 5. (b) | 36. (c) |
| 6. (d) | 37. (c) |
| 7. (b) | 38. (d) |
| 8. (d) | 39. (a) |
| 9. (a) | 40. (d) |
| 10. (d) | 41. (d) |
| 11. (b) | 42. (b) |
| 12. (b) | 43. (b) |
| 13. (b) | 44. (b) |
| 14. (c) | 45. (c) |
| 15. (c) | 46. (a) |
| 16. (a) | 47. (c) |
| 17. (b) | 48. (a) |
| 18. (c) | 49. (c) |
| 19. (a) | 50. (b) |
| 20. (b) | 51. (b) |
| 21. (a) | 52. (d) |

- | | | | |
|-----|-----|-----|-----|
| 22. | (b) | 53. | (c) |
| 23. | (c) | 54. | (d) |
| 24. | (a) | 55. | (c) |
| 25. | (a) | 56. | (d) |
| 26. | (c) | 57. | (b) |
| 27. | (a) | 58. | (b) |
| 28. | (b) | 59. | (a) |
| 29. | (b) | 60. | (a) |
| 30. | (a) | | |
| 31. | (b) | | |

ANSWER KEYS [QUANTITATIVE REASONING]

- | | | | |
|-----|-----|-----|-----|
| 1. | (a) | 32. | (c) |
| 2. | (d) | 33. | (a) |
| 3. | (b) | 34. | (d) |
| 4. | (b) | 35. | (b) |
| 5. | (b) | 36. | (c) |
| 6. | (a) | 37. | (c) |
| 7. | (c) | 38. | (d) |
| 8. | (b) | 39. | (c) |
| 9. | (a) | 40. | (a) |
| 10. | (b) | 41. | (c) |
| 11. | (b) | 42. | (a) |
| 12. | (a) | 43. | (b) |
| 13. | (c) | 44. | (a) |
| 14. | (b) | 45. | (a) |
| 15. | (a) | 46. | (a) |
| 16. | (a) | 47. | (c) |
| 17. | (b) | 48. | (c) |

- | | | | |
|-----|-----|-----|-----|
| 18. | (d) | 49. | (b) |
| 19. | (c) | 50. | (c) |
| 20. | (b) | 51. | (a) |
| 21. | (a) | 52. | (b) |
| 22. | (b) | 53. | (a) |
| 23. | (c) | 54. | (b) |
| 24. | (c) | 55. | (b) |
| 25. | (a) | 56. | (b) |
| 26. | (a) | 57. | (a) |
| 27. | (b) | 58. | (b) |
| 28. | (c) | 59. | (a) |
| 29. | (d) | 60. | (b) |
| 30. | (a) | | |
| 31. | (b) | | |

SAMPLE PAPER -I

भाषायी आचार व्याकरण व अनुप्रयोग

खण्ड-क

प्र.1 राधा गाना... है।

- (क) बताती
- (ख) बोलती
- (ग) गाती
- (घ) कहती



प्र.2 अब पछताए होत क्या जब चुग गई खेत।

(क)



(ख)



(ग)



(घ)



प्र.3 'गाड़ीवाला' में प्रत्यय छांटिए।

- (क) गाड़ी
- (ख) वाला
- (ग) ला
- (घ) आला



प्र.4 'अभाव' शब्द में उपसर्ग छांटिए।

- (क) भाव
- (ख) अ
- (ग) आव
- (घ) अभ

- प्र.5 हिन्दी भाषा की लिपि का नाम बताइए।
(क) रोमन (ख) देवनागरी
(ग) गुरूमुखी (घ) उर्दू

- प्र.6 सही योजक द्वारा वाक्य पूरा करो:-
मैं अभी नहीं जा सकती... मुझे नींद आ रही है।
(क) इसलिए (ख) तथा
(ग) क्योंकि (घ) या

- प्र.7 संधि कीजिए: हिम + आलय
(क) हिमलय
(ख) हिमालय
(ग) हिमेलय
(घ) हिमआलय



- प्र.8 स्वरों की संख्या 11 है तो व्यंजनों की संख्या होगी।
(क) 13 (ख) 33
(ग) 30 (घ) 5

खण्ड ख

संदर्भ में शब्दावली

- प्र.9 जिस व्यक्ति में बल न हो उसे निर्बल कहते हैं और जिसमें बल हो उसे कहते हैं।
(क) सबल (ख) सम्बल
(ग) बलहीन (घ) निर्बल

- प्र.10 शुद्ध शब्द छांटिए।
(क) धरम (ख) ध्रम
(ग) धर्म (घ) धम्र

प्र.11 वचन बदलिए:- बेटा।

(क) बेटी

(ख) बेटा

(ग) बेटियां

(घ) बेटे



प्रश्न 12 . लिंग के आधार पर बेमेल विकल्प छांटिए।

(क)



(ख)



(ग)



(घ)



प्र.13 आज के युग में दुर्बलों को कोई नहीं पूछता। आजकल तो जिसकी लाठी है उसी की ..
. ... है।

- (क) गाय (ख) बकरी
(ग) भैंस (घ) भेड़

प्र.14 सभी बच्चे अपने माता-पिता की ... होते हैं।

- (क) बहुत प्यारे (ख) आंखों के तारे
(ग) आंखों के चांद (घ) बुढ़ापे के सहारे

प्र.15 रोहित अपने मामाजी की शादी में जा रहा है, इसलिए उसने बहुत सुंदर कपड़े पहने हैं।
रेखांकित का पर्यावाची शब्द छांटिए।

- (क) कमीज (ख) जूते
(ग) टोपी (घ) वस्त्र

प्र.16 निम्न में से कौन-सा विकल्प 'कर' शब्द का उचित अर्थ नहीं देता है:-

- (क) हम कर जोड़कर ईश्वर से प्रार्थना करते हैं
(ख) जमींदार ने किसानों पर कर लगा दिया
(ग) वह सुबह से काम कर रहा है।
(घ) फूल सबका मन कर रहा है।

प्रश्न संख्या 17 से 20 के लिए

निम्नलिखित अनुच्छेद को पढ़कर प्रश्नों के सही विकल्प छांटिए।

मैं पुस्तक हूं। मैं (17) का भंडार हूं। युगों-युगों से मनुष्य की ज्ञान की (18) को शांत करती आई हूं। मैंने मनुष्य से कभी अपने (19) के बदले में कुछ नहीं चाहा। मेरी तो यही इच्छा रहती है कि लोग मुझे पढ़ें तथा मुझसे ज्ञान प्राप्त करके जीवन में उन्नति करें। जो लोग मुझसे प्यार नहीं करते, वे (20) नहीं कर सकते।



- | | |
|---------------------|--------------|
| प्र.17 (क) मान | (ग) प्राण |
| (ख) ज्ञान | (घ) गुणों |
| प्र.18 (क) प्यास | (ग) शोर |
| (ख) अपेक्षा | (घ) आवश्यकता |
| प्र.19 (क) बहिष्कार | (ग) उपकार |
| (ख) अपकार | (घ) काम |
| प्र.20 (क) सफल | (ग) उन्नति |
| (ख) कभी | (घ) प्यार |

प्रश्न संख्या 21 से 24 के लिए

कविता की लय एवं अर्थ के अनुसार उचित शब्द का चयन करो:-

भारत देश हमारा देश
सब देशों से (21) देश
मैं हूँ इसका वीर (22)
रण में लड़ने जाऊंगा।
दुश्मन को (23)।
आगे (24) जाऊंगा।



- | | |
|------------------------|-------------------|
| प्र.21 (क) दुलारा | (ग) हमारा |
| (ख) न्यारा | (घ) सबका |
| प्र.22 (क) सिपाही | (ग) रखवाला |
| (ख) चौकिदार | (घ) क और ख दोनों |
| प्र.23 (क) मार भगाऊंगा | (ग) आज मनाऊंगा |
| (ख) आज चढ़ाऊंगा | (घ) खाना खिलाऊंगा |
| प्र.24 (क) बढ़ता | (ग) लड़ता |
| (ख) चढ़ता | (घ) मरता |

SET -1
LANGUAGE CONVENTIONS
Grammar And Usage

Fill in the blanks with correct form of verbs. (Q1-2)

Q1. The peon the bell daily.

- (a) Is ringing (c) Ring
(b) Rings (d) Rang

Q2. Ram is football.

- (a) Playing (c) Plays
(b) Play (d) Has played

Q3. The third form of 'bring' is.....

- (a) Bought (c) Buy
(b) Bringing (d) Brought

Fill in the blanks by choosing correct modal.

Q4. I lift the box.

- (a) May (c) Can
(b) Will (d) Shall

(Q5-7) Choose the correct 'noun' from the sentence.

Q5. The boy is sleeping.

- (a) The (c) Boy
(b) Sleeping (d) Is

Q.6 Choose the correct 'pronoun'.

I play daily in the park.

- (a) I (c) Play
(b) Daily (d) In

Q7. Fill in the blanks choosing correct preposition.

He had given his lazy habits.

- (a) Up (c) Over
(b) For (d) On

**Q8. Choose the correct passive voice of the following sentence:-
Ram eats a mango.**

- (a) A mango was eaten by Ram.
(b) A mango is eaten by Ram.
(c) A mango has eaten by Ram
(d) A mango will be eaten by Ram.

**LANGUAGE CONVENTION
CONTEXTUAL VOCABULARY**

Fill in the blanks with the correct word or phrases.

Q9. Can you this word in the dictionary.

- (a) Look at (c) Look up
(b) Look after (d) Look on

Q10. Who stole the mobile is still a

- (a) Mystery (c) Mysterious
(b) Mystrey (d) Msytery

Q11. Give the opposite of 'small'

- (a) Tall (c) Big
(b) Large (d) Long

Q12. What comes after 'Thirteen'

- (a) Eleven (c) Twelve
(b) Fourteen (d) Fourty

Q13. Choose the rhyming word for 'Fish'

- (a) Rise (c) Size
(b) Wise (d) Wish

Q14. Choose synonym of 'Hamper'

- (a) Suitcase (c) A bag
(b) A basket with a lid. (d) Purse

Use first alphabet of the given pictures and make a meaningful word.

Foreg. :-

M

O

P



- (a) Mos (c) Mop
(b) Map (d) More

- Q15. (a) Sad (c) Sob
(b) Son (d) Sun



Q16. Change the gender of 'horse'

- (a) Horses (c) Horsesses
(b) Horse (d) Mare

PASSAGE

Complete the passage by choosing the most suitable word/phrases from each list to fit the corresponding gap:-

The Giant Panda is one of _____ (17) rarest large mammal found in bamboo forests _____ (18) China & Tibet. It _____ (19) great resemblance to a bear. Pandas generally eat shoots _____ (20) roots of bamboo.

- Q17. (a) And (c) An
(b) The (d) A
- Q18. (a) By (c) of
(b) Off (d) With
- Q19. (a) Shares (c) Shared
(b) Is sharing (d) Share
- Q20. (a) The (c) And
(b) With (d) Or

PASSAGE

There was once a shephard boy who lived in a village. Every morning he took his master's sheep out to graze in a meadow, near the village. On the other side of the meadow there lay a forest, with wolves and other wild creatures in it. The boy had been warned to be careful, and to call for help if ever he saw a wolf.

Q21. Where did the shephard boy live?

- (a) in a forest (c) in a village

- (b) in a hut (d) in a place

Q22. He took his masters's sheep to graze... ..?

- (a) in a meadow (c) in a woods
(b) in a village (d) in a forest

Q23. Name the creature which lived in the forest.

- (a) deer (c) wolf
(b) tiger (d) lion

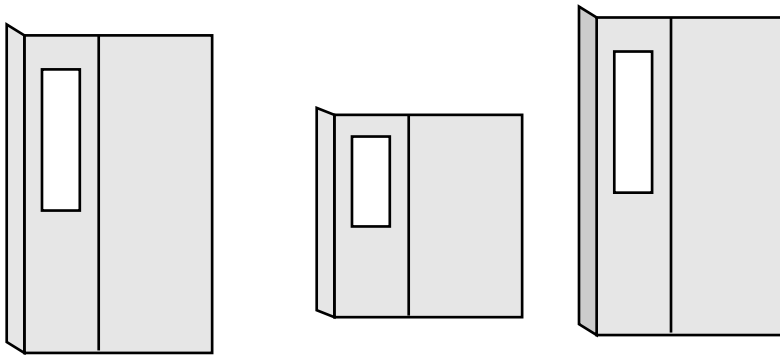
Q24. Choose the liural of ' wolf '.

- (a) Wolves (c) Wolfs
(b) Wolf (d) Wolfes

वर्ग -ब (Section B)

गुणात्मक तर्क

Qualitative Reasoning



Q25. Sakshi planned to purchase an almirah for a space available at her home having height of 260 cm. When she went to the shop, she found three almirahs of height 265 cm, 180 cm and 250 cm. Which almirah will be best suited for her home?

- (a) 265 cm (b) 180 cm
(c) 250 cm (d) None

साक्षी ने अपने घर में एक जगह, जिसकी ऊंचाई 260 सेमी है, के लिए एक अलमारी खरीदने की सोची। जब वह दुकान पर गई तो उसने वहां तीन अलमारियां देखीं, जिनकी ऊंचाई 265 सेमी, 180 सेमी तथा 250 सेमी थीं। बताइए कौन सी अलमारी उसके घर के लिए सबसे उपयुक्त है।

- (a) Two million thirty four thousand one hundred ninety six.
दो मिलियन चौँतीस हजार एक सौर छियानवे
- (b) Two hundred thirty four million one hundred and ninety six.
दो सौ चौँतीस मिलियन एक सौ छियानवे
- (c) Twenty three million four thousand one hundred ninety six.
तेइस मिलियन चार हजार एक सौ छियानवे
- (d) Two billion thirty four million one hundred and ninety six.
दो बिलियन चौँतीस मिलियन एक सौ छियानवे

गुणात्मक तर्क
Qualitative Reasoning

Find odd one out.

प्रश्न 28 से 30

उसे चुनिए जो अन्य तीन विकल्पों से भिन्न है।

- | | | |
|--------|-------------------|---------------------|
| प्र.28 | (a) Rose | (अ) गुलाब |
| | (b) Jasmine | (ब) चमेली |
| | (c) Marigold | (स) गेंदा |
| | (d) Potato | (द) आलू |
| प्र.29 | (a) Glass | (अ) कांच |
| | (b) Air | (ब) हवा |
| | (c) Book | (स) किताब |
| | (d) Water | (द) पानी |
| प्र.30 | (a) Rubber | (अ) रबड़ |
| | (b) Aluminum wire | (ब) एल्युमिनियम तार |
| | (c) Wood | (स) लकड़ी |
| | (d) Plastic | (द) प्लास्टिक |

निम्न गद्यांश को पढ़िए तथा प्रश्न संख्या 31 से 36 तक उत्तर दीजिए

अंग्रेजों ने हमारे देश पर लगभग 200 साल तक शासन किया। हमारा भारत कमजोर तथा गरीब बना दिया। अंग्रेजों से पहले भारत पर मुगल राज मुसलमानों ने स्थापित किया हुआ था। अंग्रेजों से आजादी के लिए बहुत से भारतीयों ने अपनी जान दी। भगत सिंह, राजगुरु तथा सुखदेव को फांसी पर लटका दिया। गांधी जी ने बिना हथियार के युद्ध किया तथा अंत में 15 अगस्त 1947 को भारत को आजादी प्राप्त हुई।

Read the passage and answer. (Q31 – 36)

British ruled our country for about 200 years. They made our country weak and poor. Before Britishers Muslims were ruling India. Many Indians sacrificed their lives against Britishers for our freedom. Bhagat Singh, Raj Guru and Sukhdev were hanged. Gandhi Ji fought without any arms & finally India got independence on 15th August 1947.

31. अंग्रेजों से पहले भारत पर किसका शासन था ?

- (अ) चाइनीज (ब) मुगल
(स) ईसाई (द) यहूदी

Before Britishers who ruled over India?

- (a) Chinese (b) Muslims
(c) Christians (d) Jews

32. अंग्रेजों ने लगभग कितने साल शासन किया ?

- (अ) 100 साल (ब) 200 सौ साल
(स) 300 सौ साल (द) 400 सौ साल

British ruled for about how many years?

- (a) 100 Years (b) 200 Years
(c) 300 Years (d) 400 Years

33. भारतीय अंग्रेजों से क्यों लड़े ?

- (अ) प्रसिद्धि के लिए (ब) नेताओं की मदद के लिए
(स) आजादी के लिए (द) देश को कमजोर करने के लिए

Why did Indian fight against Britishers?

- (a) For popularity.
(b) Help our leaders.
(c) To win our freedom.
(d) To make our country weak.

34. किसको फांसी दी गई ?

- (अ) गांधी जी (ब) नेहरू
(स) पटेल (द) भगत सिंह

Who was hanged?

- (a) Gandhi ji (b) Nehru
(c) Bhagat Singh (d) Patel

35. बिना हथियारों के किसने युद्ध किया ?

- (अ) भगत सिंह (ब) राजगुरु
(स) गांधी जी (द) सुखदेव

Who fought without arms?

- (a) Bhagat Singh (b) Rajguru
(c) Gandhi Ji (d) Sukhdev

36. भारत को आजादी कब मिली ?

- (अ) 15 अगस्त 1947 (ब) 26 जनवरी 1950
(स) 15 जनवरी 1947 (द) 15 अगस्त 1945

When did India got independence?

- (a) 15th August 1947 (b) 26th January 1950
(c) 15th January 1947(d) 15th August 1950

विलासपुर गांव में चुनाव 2005 में हुए। अब गांववाले सरपंच तथा पंचों को बदलना चाहते हैं। अगले चुनाव पांच साल बाद होंगे, जिसमें गांव का हर व्यक्ति जिनकी उम्र 18 वर्ष या उससे ज्यादा है भाग लेगा।

Bilaspur village had election in 2005. Now the villagers are unhappy with sarpanch & its panch. In the next elections held after five years they want to change their sarpanch. Every adult of village will participate in the voting having 18 years of age.

37. सरपंच को... ..

- (अ) नामांकित किया जाता है। (ब) चुनाव द्वारा चुना जाता है।
(स) नियुक्त किया जाता है। (द) इनमें से कोई नहीं।

Sarpanch is

- (a) Nominated (b) Elected
(c) Appointed (d) None

38. बिलासपुर गांव में चुनाव कब हुआ ?

- (अ) 2004 (ब) 2005
(स) 2006 (द) 2008

Elections in Bilaspur were held in which year?

- (a) 2004 (b) 2005
(c) 2006 (d) 2008

39. चुनाव कितने वर्ष बाद होते हैं?

- (अ) चार साल (ब) दो साल
(स) पांच साल (द) आठ साल

Elections take place in how many years?

- (a) 4 Years (b) 2 Years
(c) 5 Years (d) 6 Years

40. मत प्रक्रिया में कौन हिस्सा लेता है?

- (अ) बच्चे
- (ब) गांव वाले
- (स) औरतें
- (द) गांव का हर व्यस्क जिसकी उम्र 18 वर्ष या उससे अधिक है।

Who participated in voting?

- (a) Children
- (b) Villager
- (c) Women
- (d) Villagers having 18 years of age.

41. व्यस्क से अभिप्राय है?

- (अ) 15 वर्ष
- (ब) 16 वर्ष
- (स) 18 वर्ष या उससे अधिक
- (द) बीस वर्ष

Adult refers to?

- (a) 15 Years
- (b) 16 Years
- (c) 18 Years & above
- (d) 20 Years

42. अगले चुनाव विलासपुर में कब होंगे?

- (अ) 2008
- (ब) 2010
- (स) 2015
- (द) 2009

Next election in Bilaspur is due in?

- (a) 2008
- (b) 2010
- (c) 2015
- (d) 2009

Section - C
Quantitative Reasoning (Q.No. 43 to 60)

मात्रात्मक तर्क (प्रश्न 43 से 60)

Q. 43 नीचे कुछ फलों के दाम प्रति किलो या प्रति दर्जन में दिये गये हैं। हेमा ने दो दर्जन केले, किलो सेब और एक किलो संतरे खरीदे। हेमा फल वाले को कितने पैसे देगी ?

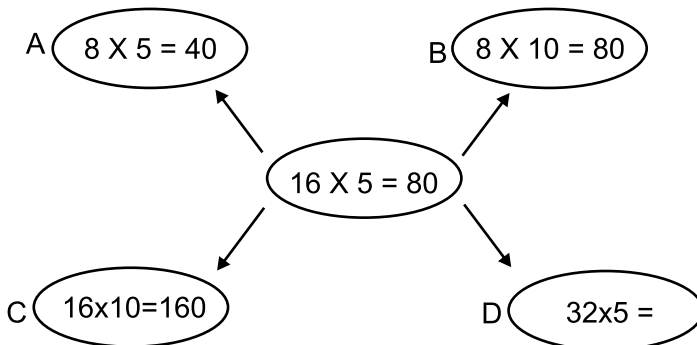
Given below are the prices if fruits sold per Kg/dozen. Help Hema to calculate the amount to be paid to fruit seller if she bought 2 dozen bananas, 2 Kg apples and 1 Kg oranges.



- | | |
|-------------------------------------|-------------------------------------|
| <p>(a) Rs 900</p> <p>(c) Rs 300</p> | <p>(b) Rs 450</p> <p>(d) Rs 600</p> |
|-------------------------------------|-------------------------------------|

Q. 44 रिक्त स्थान को भरो।

Complete the web.



- | | |
|-----------------------------|-------------------------------|
| <p>(a) 60</p> <p>(c) 80</p> | <p>(b) 160</p> <p>(d) 100</p> |
|-----------------------------|-------------------------------|

Q.45 अनु ने संख्या रेखा पर शून्य से 8 अंक दायें चलना था पर वह गलती से शून्य से 8 कदम बायें चली गयी। बताओ वह कहां पहुंची ?

Anu had to walk 8 points towards right starting from zero on number line but she went 8 points towards left by mistake. Can you find her position?

- (a) 8 (b) -8
(c) 10 (d) -10

Q. 46 कल राधिका का जन्म दिन था। उसकी मां ने उसे जन्मदिन पर 15 रु 30 पैसे का, पिता जी ने 16 रुपये 80 पैसे और दादा जी ने 10 रु. 15 पैसे का, दादी जी ने 20 रु. 45 पैसे का उपहार दिया। बताओ उसे कुल कितने का उपहार मिला।

- (A) 42 रु. 25 पैसे
(B) 33 रु. 60 पैसे
(C) 60 रु. 70 पैसे
(D) 50 रु. 50 पैसे

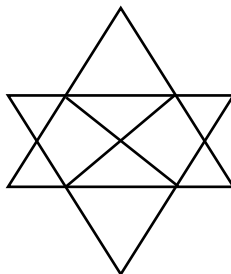
Yesterday was Radhika's birthday. Her mother gave her a present of 15 rupees 30 paise, father spent 16 rupees 80 paise and Dada Ji spent 10 rupees 15 paise and Dadi Ji spent 20 rupees 45 paise on presents for her. How much money was spent on presents?

- (a) 42 rupees 25 paise (c) 62 rupees 70 paise
(b) 33 rupees 60 paise (d) 50 rupees 50 paise

Q. 47 इस आकृति में त्रिभुजों की संख्या ज्ञात करो।

Count the number of triangles in given figure.

- (A) 20 (B) 15
(C) 18 (D) 1



- Q. 48** पिंकी ने अपनी किताब घड़ी में दिखाये गये समय पर पढ़नी शुरू की। इसे पूरी किताब पढ़ने में 3 घंटे का समय लगा। उसने कितने बजे पुस्तक पढ़ कर खत्म की।

Pinki started reading a book at a time shown in clock given above. It took her three hours to finish the reading of book. What time did she finish reading?

- (A) 8:40 p.m. (B) 6:40 p.m.
(C) 9:00 p.m. (D) 9:40 p.m.



- Q. 49** गरिमा को 45° का कोण बनाना था। उसने एक सरल कोण बनाया और उसे चार बराबर भागों में बांट दिया। क्या उसने ठीक कोण बनाया?

Garima had to construct an angle of 45° . She made a linear angle and divided it in four equal parts. Did she made the correct angle?

- (A) Yes (B) No

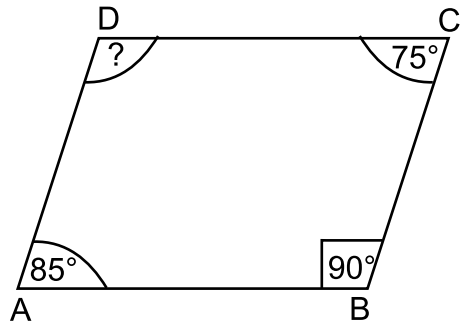
- Q. 50** मैं एक न्यून कोण हूँ और अपने पूरक कोण का पांच गुणा हूँ। मेरा माप बताओ?
I am an acute angle and I am five times my complementary angle. Find me.

- (A) 75° (B) 45°
(C) 15° (D) 90°

- Q.51** ABCD एक चतुर्भुज है। इसके चौथे कोण का माप बताओ।

ABCD is quadrilateral. Find the value of its fourth angle.

- (A) 90° (B) 110°
(C) 65° (D) 100°




Q. 52 रीमा ने एक बैग में प्रकृत संख्याओं के कार्डस डाले। सचिन ने इसमें 0 का कार्ड भी डाल दिया। अब ये कौन सी संख्याएं बन गईं ?

- (A) पूर्ण संख्याएं (B) पूर्णांक
(C) प्राकृत संख्याएं (D) भिन्न

Reema took a bag containing cards of natural numbers. Sachin added a card of zero in it. Can you tell now what will these numbers be called?

- (A) Whole Numbers
(B) Integers
(C) Natural Numbers
(D) Fractions



Q. 53 विटामिन C : स्कर्वी :: ? बेरी-बेरी

- (A) विटामिन A (B) विटामिन E
(C) विटामिन K (D) विटामिन B

Vitamin C : Scurvy :: ? : Beri – Beri

- (a) Vitamin A (b) Vitamin E
(c) Vitamin K (d) Vitamin B

दिये गए अनुच्छेद को पढ़िए और दिये गए प्रश्नों के उत्तर दीजिए।

वायु विभिन्न गैसों का मिश्रण है, वायु के मुख्य अवयव नाइट्रोजन गैस, ऑक्सीजन गैस, कार्बन डाई ऑक्साइड गैस और आर्गन शामिल हैं। सभी अवयवों का प्रतिशत नीचे दिया गया है।

अवयवों के नाम	अवयव प्रतिशत
नाइट्रोजन गैस,	78.1%
ऑक्सीजन गैस	20.9%
कार्बनडाई ऑक्साइड गैस	0.03%
आर्गन	0.9%

इसके अतिरिक्त वायु में जलवाष्प और धूलकण होते हैं।

Read the following passage and answer the following questions.

Air is a mixture of gases. The major constituents of air are nitrogen, oxygen, carbon-di-oxide and argon. The percentage of composition of constituents of air are as given below.

Name of constitutes	% Composition
Nitrogen gas	78.1%
Oxygen gas	20.9%
Carbon-di-oxide	0.03%
Argon	0.9%

Other components of air are water vapour and dust particles.

Q. 54 हवा में नाइट्रोजन व ऑक्सीजन गैस का कुल : है?

- | | |
|-----------|----------|
| (अ) 99 % | (ब) 10 % |
| (स) 100 % | (द) 78 % |

The total percentage of Nitrogen and Oxygen in air is?

- | | |
|----------|---------|
| (a) 99% | (b) 10% |
| (c) 100% | (d) 78% |

Q.55 वायु में नाइट्रोजन और ऑक्सिजन गैस का अनुपात कितना है?

- (अ) 3:1 (ब) 5:1
(स) 4:1 (द) 4:2

What is the ratio of Nitrogen and Oxygen in the air?

- (a) 3:1 (b) 5:1
(c) 4:1 (d) 4:2

Q.56 कुछ जीवों में पानी का प्रतिशत है, जो नीचे तस्वीर में दिया गया है-


दिये गए चित्र में जीवों को पानी के मात्रा के आधार पर घटते क्रम में लिखो/व्यवस्थित करो। (प्रश्न सं. 56 से प्रश्न सं. 60)

- (अ) टमाटर > हाथी > मानव > पेड़
(ब) टमाटर < हाथी < पेड़ < मानव
(स) टमाटर > पेड़ > मानव > हाथी
(द) पेड़ > मानव > हाथी > टमाटर

Percentages of water in some living organisms are given below.

Arrange the above organisms in decreasing order on the basis of percentage of water.

- (a) Tomato > Elephant > Human > Tree
(b) Tomato < Elephant < Tree < Human
(c) Tomato > Tree > Human > Elephant
(d) Tree > Human > Elephant > Tomato



Q.57 ऊपर दिये गए चित्र में जीवों को पानी के मात्रा के आधार पर बढ़ते क्रम में लिखो/व्यवस्थित करो।

- (अ) मानव < पेड़ < हाथी < टमाटर
- (ब) पेड़ < मानव < टमाटर < हाथी
- (स) पेड़ < मानव < हाथी < टमाटर
- (द) पेड़ > हाथी > टमाटर > मानव

Arrange the above organisms in ascending order on the basis of percentage of water.

- (a) Human < Tree < Elephant < Tomato
- (b) Tree < Human < Tomato < Elephant
- (c) Tree < Human < Elephant < Tomato
- (d) Tree > Elephant > Tomato > Human

Q.58 हाथी में... ..से 10 प्रतिशत अधिक पानी होता है?

- (अ) टमाटर (ब) पेड़
- (स) मानव (द) इनमें से कोई नहीं

Elephant has 10% more water than.....'

- (a) Tomato (b) Tree
- (c) Human (d) None of these.

Q.59 ऊपर दिये गए जीवों में से किस जीव में पानी की मात्रा सबसे अधिक है?

- (अ) मानव (ब) टमाटर
- (स) पेड़ (द) हाथी

Which of the above organism has maximum % of water?

- (a) Human (b) Tomato
- (c) Tree (d) Elephant

Q.60 ऊपर दिये गए जीवों में से किस जीव में पानी की मात्रा सबसे कम है?

- (अ) मानव (ब) टमाटर
- (स) पेड़ (द) हाथी

Which of the above organisms has least % of water?

- (a) Human (b) Tomato
- (c) Tree (d) Elephant

भाषाई आचार

उत्तर संकेत प्रश्न 1.

(1) ग	(2) ख	(3) ख
(4) ख	(5) ख	(6) ग
(7) ख	(8) ख	(9) क
(10) ग	(11) घ	(12) ग
(13) ग	(14) ख	(15) घ
(16) घ	(17) ख	(18) क
(19) ग	(20) ग	(21) ख
(22) क	(23) क	(24) क

Section B

Qualitative Reasoning

वर्ग-व गुणात्मक तर्क

उत्तर संकेत

25 (ब) (c)	26 (c)	27 (b)
28 (d) आलू	29 (c) किताब	30 (b) एल्युमिनियम
31 (अ) (a)	32 (ब) (b)	33 (स) (c)
34 (अ) (c)	35 (स) (c)	36 (अ) (a)
37 (ब) (b)	38 (ब) (b)	39 (स) (c)
40 (द) (d)	41 (स) (c)	42 (ब) (b)

Quantitative Reasoning

वर्ग सी

मात्रात्मक तर्क

43 (ब)	44 (ब)	45 (ब)
46 (स)	47 (अ)	48 (अ)
49 (अ)	50 (अ)	51 (ब)
52 (अ)	53 (घ)	54 (अ)
55 (स)	56 (अ)	57 (स)
58(स)	59 (ब)	60 (स)

SET – 1
ANSWER KEYS

Section – A (Language Conventions)

- | | |
|-----------------------|---------------------------------|
| 1. (b) Rings | 2. (a) Playing |
| 3. (d) Brought | 4. (c) Can |
| 5. (c) Boy | 6. (a) I |
| 7. (a) Up | 8. (b) A mango is eaten by Ram. |
| 9. (c) Look up. | 10. (a) Mystery |
| 11. (c) Big | 12. (b) Fourteen |
| 13. (d) Wish | 14. (b) A basket with a lid. |
| 15. (a) Sad | 16. (d) Mare |
| 17. (b) The | 18. (b) Of |
| 19. (a) Shares | 20. (c) And |
| 21. (c) In a village. | 22. (a) In a meadow. |
| 23. (c) Wolf | 24. (a) Wolves |

SECTION – B
QUALITATIVE REASONING

- | | |
|--------------|------------------------|
| 25. (c) | 26. (c) |
| 27. (b) | 28. (d) Potato |
| 29. (c) Book | 30. (b) Aluminum wire. |

SECTION – C
QUANTITATIVE REASONING

- | | |
|---------|---------|
| 43. (b) | 44. (b) |
| 45. (b) | 46. (c) |
| 47. (a) | 48. (a) |
| 49. (a) | 50. (a) |
| 51. (b) | 52. (a) |
| 53. (d) | 54. (a) |
| 55. (c) | 56. (a) |
| 57. (c) | 58. (c) |
| 59. (b) | 60. (c) |

Sample Paper II

भाषाई आचार

व्याकरण एवं अनुप्रयोग

खण्ड 'क'

प्रश्न 1 यशोदा मां श्रीकृष्ण मक्खन लाई।

(क) से लिए

(ख) को लिए

(ग) के लिए

(घ) लिए

प्रश्न 2 लातों के भूत -----से नहीं मानते।

(क) मनाने

(ख) बातों

(ग) प्यार

(घ) डाँटने

प्रश्न 3 'नि' उपसर्ग युक्त शब्द है।

(क) नीरज

(ख) निरोग

(ग) निशा

(घ) नमकीन

प्रश्न 4 वह छोटी से छोटी ध्वनि जिसके टुकड़े न हो सके ----कहलाती है।

(क) वर्ण

(ख) वरण

(ग) स्वर

(घ) व्यंजन

प्रश्न 5 'बलवान' में प्रत्यय छांटिए :

(क) बल

(ख) वान

(ग) आन

(घ) न

प्रश्न 6 उसके मन में बहुत दया है इसलिए वह -----है।

(क) दयालु

(ख) निर्दयी

(ग) कठोर

(घ) कोमल

प्रश्न 7 म, न, क इन वर्णों से बनने वाला सार्थक शब्द कौन-सा है?

(क) मनक

(ख) नमक

(ग) कमन

(घ) नकम

प्रश्न 8 अमीना ---- दूध पीती है। (उचित विशेषण शब्द द्वारा रिक्त स्थान भरिए।)

(क) यह

(ख) खट्टा

(ग) गर्म

(घ) जल्दी



खण्ड 'ख'

संदर्भ के शब्दाबली

प्रश्न 9 अपराधी जिस तरह चुप्पी साधे हुए है उसे देखकर लगता है कि दाल में कुछ ---- है।

(क) लाल (ख) काला

(ग) नीला (घ) हरा

प्रश्न 10 फूलों से सुगंध आती है ---- नहीं (विलोम शब्द द्वारा रिक्त स्थान भरो)

(क) खुशबू (ख) गंध

(ग) दुर्गंध (घ) महक

प्रश्न 11 शुद्ध शब्द छांटिए :

(क) अनुशासन (ख) अनुसासन

(ग) अनूशासन (घ) अनुषासन

प्रश्न 12 सभी जीव गर्मी से व्याकुल हैं। (रेखांकित शब्द का अर्थ बताइए)

(क) प्रसन्न (ख) उदास

(ग) खुश (घ) परेशान

प्रश्न 13 शब्द के जिस रूप से पुरुष या स्त्री जाति का बोध हो उसे -

(क) स्त्रीलिंग (ख) पुल्लिंग

(ग) लिंग (घ) वचन



प्रश्न 14 लड़का खेल रहा है ---खेल रहे हैं। (वचन बदलिए)

(क) लड़की (ख) लड़कियाँ

(ग) लड़का (घ) लड़के



प्रश्न 15 दिल्ली यमुना नदी के किनारे बसी है। रेखांकित शब्द का पर्यायवाची छांटिए।

(क) जल (ख) बादल

(ग) सरिता (घ) तालाब

प्रश्न 16 आजकल तुम कहाँ रहते हो, तुम तो --- हो गए हो। (मुहावरे द्वारा रिक्त स्थान को भरिए)

(क) ईद का चाँद होना (ख) पूर्णिमा का चाँद होना

(ग) अमावस्या का चाँद होना (घ) पूरा चाँद होना

खण्ड 'ग'

गद्यांश पूर्ति कीजिए (प्रश्न संख्या 17 से 24 के लिए)

किसी ने ठीक ही कहा है -- 'स्वस्थ शरीर में ही 17 का निवास होता है।' शरीर को स्वस्थ रखने के लिए व्यायाम आवश्यक है। व्यायाम से हमारी मांस-पेशियाँ 18 होती हैं, 19 का संचार होता है तथा शरीर निरोग रहता है। तैरना, घूमना, कसरत करना, दौड़ लगाना, योगासन करना तथा विभिन्न प्रकार के खेल खेलना - सभी व्यायाम हैं। व्यायाम करने से शरीर 20 बना रहता है। व्यायाम का सर्वोत्तम समय 21 तथा सायंकाल है। व्यायाम का चुनाव अपनी 22 के अनुसार करना चाहिए। विद्यार्थियों को व्यायाम की आदत डालनी चाहिए। स्वस्थ व्यक्ति ही 23 उन्नति कर सकता है। अतः जीवन के 24 को पाने के लिए प्रारंभ से ही व्यायाम करना चाहिए।



प्रश्न 17

- | | |
|----------------------|---------------------|
| (क) अस्वस्थ शरीर | (ख) स्वस्थ मस्तिष्क |
| (ग) अस्वस्थ मस्तिष्क | (घ) स्वस्थ शरीर |

प्रश्न 18

- | | |
|-----------|-----------|
| (क) पुष्ट | (ख) रूष्ट |
| (ग) कमजोर | (घ) बेकार |

प्रश्न 19

- | | |
|----------|----------|
| (क) वक्त | (ख) पानी |
| (ग) हवा | (घ) रक्त |

प्रश्न 20

- | | |
|-----------------------|----------------------|
| (क) भारी और आलसी | (ख) हल्का और आलसी |
| (ग) हल्का और फुर्तीला | (घ) भारी और फुर्तीला |

प्रश्न 21

- | | |
|-----------|----------------|
| (क) दोपहर | (ख) सायंकाल |
| (ग) रात | (घ) प्रातः काल |

प्रश्न 22

- | | |
|--------------|------------|
| (क) आयु | (ख) वायु |
| (ग) सम्पत्ति | (घ) कमजोरी |

प्रश्न 23

- | | |
|-------------|--------------|
| (क) घर में | (ख) जीवन में |
| (ग) ऐसे में | (घ) सभी में |

प्रश्न 24

- | | |
|---------|-----------|
| (क) दुख | (ख) मुख |
| (ग) सुख | (घ) पूँजी |

Sample Paper II SET – 2
LANGUAGE CONVENTION
GRAMMAR & USAGE

Q.1 Fill in the blank by choosing correct verb.

We _____ going to the zoo.

- (a) Is (c) Are
(b) Has (d) Were

Q2. Fill in the blanks with correct article.

Mannu is _____ intelligent boy.

- (a) An (c) Any
(b) The (d) A

Q3. Fill in the blanks by choosing correct preposition.

The child was climbing _____ the tree.

- (a) Over (c) Up
(b) On (d) Above

Q4. Choose the correct passive voice of the following sentences:-

The postman delivers the letters.

- (a) The postman is delivers the letter.
(b) The letters are delivered by the postman.
(c) The letters have been delivered by the postman.
(d) The letters will be delivered by the postman.

Q5. Fill in the blanks with correct modal.

_____ you live long !

- (a) May (c) Will
(b) Can (d) Could

Q6. Change the gender of 'Bride'.

- (a) Bridefroom (c) Bridegroom
(b) Bride (d) Brides

Q7. Choose the III form of the verb 'Carry'.

- (a) Carried (c) Carried

- (b) Carries (d) Carrying
- Q8. Chose the pronoun from the sentence.
Rahul loves his mother.
- (a) Rahul (c) Loves
(b) Mother (d) His

CONTEXTUAL CONVENTIONS

Chose the closest meaning for underlined word/phrase.

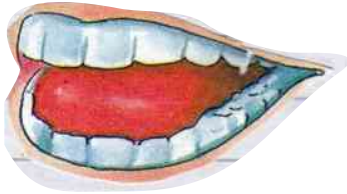
- Q9. I did not catch what you said.
(a) Know (c) Believe
(b) Understand (d) Ensure
- Q10. Choose the opposite of 'Early'.
(a) Last (c) First
(b) Soon (d) Late
- Q11. It is far _____ hot to go to market.
(a) Two (c) Toe
(b) To (d) Too
- Q12. Choose the correct plural of 'Tomato'.
(a) Tomatoes (c) Tomatos
(b) Tomato (d) Tomotas
- Q13. Write an adjective to describe the noun 'Sky'.
(a) Yellow (c) Blue
(b) Green (d) Red
- Q14. Choose the correct meaning of 'Chopped'.
(a) Cut into pieces.
(c) To strike.
(b) To hit
(d) To bring down.

Rearrange the words to make the name of a Month.

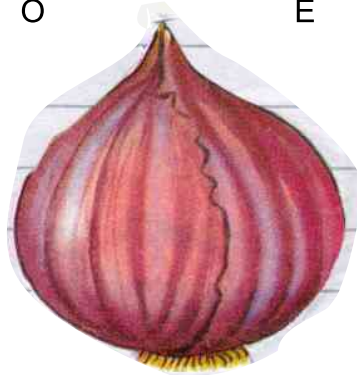
- Q15. CARHM
(a) Charm (c) Harmc
(b) Rahcm (d) March

Use the first alphabet of the given pictures and make a meaningful word. For Eg.,

I



O



E



- (a) Tap
- (b) Toe

- (c) Top
- (d) Tip

Q16.



- (a) Sod
- (b) Sad

- (c) Bed
- (d) Bad

PASSAGE

(Picture - Crow)



Read the passage carefully and fill up the blanks by choosing correct

options. (Q17 – Q24)

Once there _____ (17) a crow. It was very _____ (18). It searched for _____ (19) here and there. But couldn't find water to _____ (20). Then, it _____ (21) a pitcher of water. The _____ (22) of water was very low. It put _____ (23) in the pitcher, water came up. It drank the water and flew _____ (24). So, where there is a will, there is a way.

Q17.

- | | |
|----------|---------|
| (a) Was | (c) Is |
| (b) Were | (d) Are |

Q18.

- | | |
|-------------|------------|
| (a) Happy | (c) Hungry |
| (b) Thirsty | (d) Sleepy |

Q19.

- | | |
|------------|-----------|
| (a) Food | (c) Nest |
| (b) Grains | (d) Water |

Q20.

- | | |
|------------|-----------|
| (a) Drinks | (c) Drink |
| (b) Drank | (d) Drunk |

Q21.

- | | |
|----------|----------|
| (a) Saw | (c) See |
| (b) Sees | (d) Seen |

Q22.

- | | |
|--------------|------------|
| (a) Leveling | (c) Level |
| (b) Height | (d) Levels |

Q23.

- | | |
|-------------|-----------|
| (a) Sticks | (c) Stone |
| (b) Pebbles | (d) Straw |

Q24.

- | | |
|----------|----------|
| (a) Went | (c) Go |
| (b) Gone | (d) Away |

वर्ग बी- गुणात्मक तर्क
SECTION – B
QUALITATIVE REASONING

(Q25 – 42)

Q25-27. Choose the odd one out.

ही विकल्प चुनिए:-(25 से 27)

Q25.

- | | |
|------------|-------------|
| (a) Hut | (b) Flat |
| (c) Igloo | (d) Factory |
| (अ) झोपड़ी | (ब) फ्लैट |
| (सी) इग्लू | (द) कारखाना |

Q26.

- | | |
|-----------------|---------------|
| (a) Driver | (b) Passenger |
| (c) Pilot | (d) Sailor |
| (अ) चालक | (ब) यात्री |
| (सी) विमान चालक | (द) नाविक |

Q27.

- | | |
|---------------|--------------|
| (a) Rajasthan | (b) Punjab |
| (c) Haryana | (d) Pakistan |
| (अ) राजस्थान | (ब) पंजाब |
| (सी) हरियाणा | (द) पकिस्तान |

प्रश्न 28. यदि आप 10 वर्ष के हैं तो आप लगभग 3652 दिन जी चुके हैं। ऊपर दी गई संख्याओं को उम्र के साथ मिलान करे। बिना परिकलन किए संख्याओं को आरोही क्रम में लगाते हुए मिलान करो।

- | |
|--|
| (a) 11-(ए), 12-(डी) 13(बी), 14(सी) |
| (b) 11-(डी), 12(ए), 13-(बी) 14-(सी) |
| (c) 11-(बी), 12-(डी), 13-(ए), 14-(सी), |
| (d) 11-(सी), 12-(बी), 13-(ए), 14-(डी) |

If you are 10 years old, you would have lived 3652 days. Compare the numbers given below and match the age of the days lived. Do not calculate. Match by putting the numbers in ascending order.



A

4375



B

4783



C

5113



D

4017

11

12

13

14

(A) 4383

(B) 4748

(C) 5113

(D) 4017

(a) 11 – (A), 12 – (D), 13 – (B), 14 – (C)

(b) 11 – (D), 12 – (A), 13 – (B), 14 – (C)

(c) 11 – (B), 12 – (D), 13 – (A), 14 – (C)

(d) 11 – (C), 12 – (B), 13 – (A), 14 – (D)

29- बताइए कि निम्न स्थितियों में दुकानदार को लाभ होगा या हानि?

(a) A- लाभ B- हानि (b) A- हानि B- लाभ

(c) A- लाभ B- लाभ (d) A- हानि B- हानि

A

Rs.
(रु)



Cost Price : 429

क्रय मूल्य

Selling Price : 419

विक्रय मूल्य

(a) A Profit

B Loss

(b) A Loss

B Profit

B

Rs.
(रु)



Cost Price : 305

क्रय मूल्य

Selling Price : 340

विक्रय मूल्य

(c) A Profit

B Loss

(d) A Loss

B Loss

प्र30. श्रीमति शर्मा ने 3.5 किलोग्राम चीनी खरीदी। उन्होंने चीनी को दो डिब्बों में बराबर-बराबर डाला। उन्होंने प्रत्येक डिब्बे में कितनी चीनी डाली ?

Mrs. Sharma had bought 3.5 Kg of sugar. She put the sugar equally into two jars. How much sugar did she put in each jar ?



- (a) 1.3 Kg (b) 2.3 Kg
(c) 1.75 Kg (d) 2 Kg

अनुच्छेद को पढ़कर उत्तर दीजिए।(प्रश्न 31 से 36)

Read the passage and answer the questions. (Q31 – 36)

बहुत समय पहले किसान गौतमी नामक एक महिला थी, जिसका पुत्र मृत्यु को प्राप्त हो गया। दुखी होकर बेटे को उठाकर इधर-उधर सहायता के लिए दौड़ रही थी। कोई भला व्यक्ति उसे महात्मा बुद्ध के पास ले गया। महात्मा बुद्ध ने महिला को आदेश दिया कि किसी भी एक ऐसे घर से, जहां मृत्यु न हुई हो, मुट्ठी भर सरसो के दाने ले आओ। महात्मा बुद्ध ने लोगों को नेक बनना, दूसरों को आदर करना सिखाया। हमारे जीवन में जो कुछ घटित होता है, वह हमारे कर्मों के कारण होता है। बुद्ध ने यह संदेश लोगों को आम भाषा प्राकृत में दिया।

Once there was a woman named Kisangotami whose son had died. She was so sad that she roamed through the streets carrying the child. A kind man took her to the Buddha. Buddha said bring him a handful of Mustard seeds from the house of a family where nobody has died. Mahatma Buddha taught people to be kind & respect others. He believed results of our actions whether good or bad are due to our karmas. Buddha taught in the language of the ordinary people. Prakrit.

प्रश्न 31. महिला का क्या नाम था ?

- | | |
|-----------------|-----------------|
| (क) किसान गौतमी | (ख) गौतमी |
| (ग) गोमती | (घ) वियान गौतमी |

What was the name of the woman?

- | | |
|-----------------|----------------|
| (a) Kisangotami | (b) Gautami |
| (c) Gomti | (d) Vian Gomti |

प्रश्न 32. महिला के साथ क्या घटना घटी ?

- | | |
|---------------------|----------------|
| (क) पुत्र की मृत्यु | (ख) पुत्र जन्म |
| (ग) पिता की मृत्यु | (घ) बीमार होना |

What happened to that woman?

- | | |
|----------------------|-------------------|
| (a) Death of son. | (b) Birth of son. |
| (c) Death of father. | (d) Fallen Sick. |

प्रश्न 33. उसे महात्मा बुद्ध के पास कौन ले गया ?

- | | |
|-------------------|-------------------|
| (क) बुरा व्यक्ति | (ख) चालाक व्यक्ति |
| (ग) बूढ़ा व्यक्ति | (घ) भला व्यक्ति |

Who took her to Mahatma Buddha?

- | | |
|--------------|-----------------|
| (a) Bad man. | (b) Clever man. |
| (c) Old man. | (d) Kind man. |

प्रश्न 34. महात्मा बुद्ध ने उस महिला से क्या लाने के लिए कहा ?

- | | |
|-----------------|-------------------|
| (क) मटर के दाने | (ख) चावल |
| (ग) गेहूँ | (घ) सरसों के दाने |

What was she asked to bring by Mahatma Buddha?

- | | |
|-----------|-------------------|
| (a) Peas | (b) Rice |
| (c) Wheat | (d) Mustard Seed. |

प्रश्न 35. महात्मा बुद्ध के कारण जीवन की घटना किसके कारण है ?

- | | |
|-------------------|--------------------|
| (क) पापों के कारण | (ख) कर्मों के कारण |
|-------------------|--------------------|

- (ग) दुर्घटना के कारण (घ) योजना के कारण

According to Mahatma Budha what happened in our life is due to?

- (a) Sins (b) Karma
(c) Accident (d) Planning

प्रश्न 36. महात्मा बुद्ध के संदेश किस भाषा में थे ?

- (क) प्रकृति (ख) प्राकृत
(ग) फारसी (घ) संस्कृत

Message of Mahatma Gandhi was written in which language?

- (a) Prakriti (b) Prakrit
(c) Peeslan (d) Sanskrit

अनुच्छेद को पढ़कर उत्तर दीजिए।(प्रश्न 37 से 42)

Read the passage and answer the questions. (Q37 to Q42).

मछली पकड़ने के जाल की उत्पत्ति चीन में हुई थी, जिसे जब चीन के व्यापारी केरल आए तो साथ लाए। केरल के अधिकतर लोग मछली, सब्जी तथा चावल खाते हैं। केरल के लोग मछली पकड़ने के जाल को चीना-वला कहते हैं तथा मछली तलने के लिए जिस बर्तन का वह इस्तेमाल करते हैं उसे चीनी-चट्टी कहते हैं।

It is believed that fishing net was first used by the Chinese and when the Chinese traders came to India along with them they brought fishing net. Most of the people in Kerala eat fish, vegetables and rice. Fishing net is called as Cheena-Vala in Kerala and the utensils which are used for frying are called Cheena-Chatti.

प्रश्न 37. सबसे पहले मछली पकड़ने वाले जाल की उत्पत्ति कहां हुई ?

- (क) जापान (ख) चीन
(ग) भारत (घ) श्रीलंका

Where was fishing net first introduced?

- (a) Japan (b) China
(c) India (d) Sri Lanka

प्रश्न 38. मछली पकड़ने के जाल को केरल में कौन लेकर आए ?

- (क) चीनी व्यापारी (ख) राजा
(ग) जापानी (घ) सैनिक

Who brought fishing et to Kerala?

- (a) Traders of China. (b) King

- (c) Japanese (d) Soldier

प्रश्न 39. केरल के लोगों का मुख्य भोजन क्या है?

- (क) दूध (ख) मछली, चावल
(ग) गेहूँ (घ) मक्का

What is the main food of the people of Kerala?

- (a) Milk (b) Fish & Rice
(c) Wheat (d) Maize

प्रश्न 40. मछली पकड़ने के जाल को क्या कहते हैं?

- (क) मीना वला (ख) सीमा वला
(ग) चीना वला (घ) हीरा वला

Fishing net in Kerala is called as?

- (a) Meena Vala (b) Seema Vala
(c) Cheena Vala (d) Heera Vala

प्रश्न 41. केरल भारत के किस हिस्से में स्थित है?

- (क) पूर्व (ख) पश्चिम
(ग) दक्षिण (घ) उत्तर

Kerala is located in which direction?

- (a) East (b) West
(c) South (d) North

प्रश्न 42. मछली तलने वाले बर्तन को क्या कहा जाता है?

- (क) हीना चट्टी (ख) चीना चट्टी
(ग) चीना मट्टी (घ) चीना झपटी

Utensil used for frying is called?

- (a) Heena Chatti (b) Cheena Chatti
(c) Cheena Malti (d) Cheena Jhapti

SECTION – C
QUANTITATIVE REASONING

(Q43 to Q60)

वर्ग सी मात्रात्मक तर्क (प्रश्न 43 से 60)

Q. 43 मैं एक संख्या हूँ। मुझे जब स्वयं से ही गुणा किया जाता है तो 625 आता है। बताओ मैं कौन हूँ।

I am a number. When I am multiplied by myself the result is 625.
Who am I?

- (a) 25 (b) 20
(c) 15 (d) 35

Q. 44 अंकिता $AB = 3\text{ cm.}$, $BC = 1\text{ cm.}$, $CA = 1\text{ cm.}$ की भुजाएं लेकर एक त्रिभुज ABC बनाने की कोशिश कर रही है। पर त्रिभुज बन ही नहीं पा रहा। बताओ ऐसा क्यों है? क्योंकि-

Ankita is trying to make a triangle taking sides $AB = 3\text{ cm}$, $BC = 1\text{ cm}$, $CA = 1\text{ cm}$ but triangle cannot be constructed. Can you tell the reason? Because:-

- (a) $AB+BC=CA$ (b) $AB+BC<CA$
(c) $AB+BC>CA$ (d) $AB \neq BC$

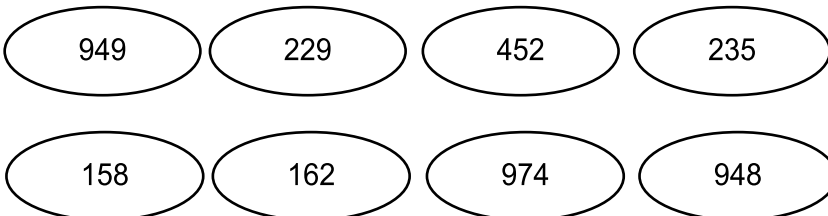
Q. 45 पूरा करो

Complete it

$$\textcircled{413} + \textcircled{\quad\quad\quad} \longrightarrow 719$$

- (a) 416 (b) 316
(c) 400 (d) 512

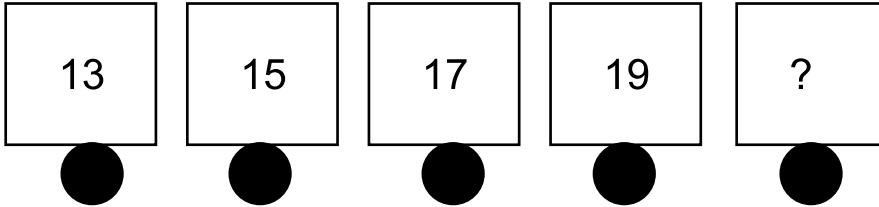
Q.46 949 से छोटी संख्याएं गिनकर लिखो (नीचे दी गयी आकृति में)
Count the numbers less than 949 in given picture.



- (a) 6
(c) 7

- (b) 8
(d) 5

Q. 47



- (a) 21
(c) 29

- (b) 31
(d) 23

Q. 48 अनु ने अपनी मम्मी के जन्म दिन का केक बनाना था। उसने 9.20 a.m. पर अवन में केक बनाना रखा। केक बनने में $2\frac{1}{4}$ घंटे लगे। उसका केक कितने बजे बनकर तैयार हो गया?

Anu wanted to bake a cake for her mother's birthday. She started baking cake at 9:20 a.m. It took $2\frac{1}{4}$ hours for complete baking. At what time cake was fully baked?

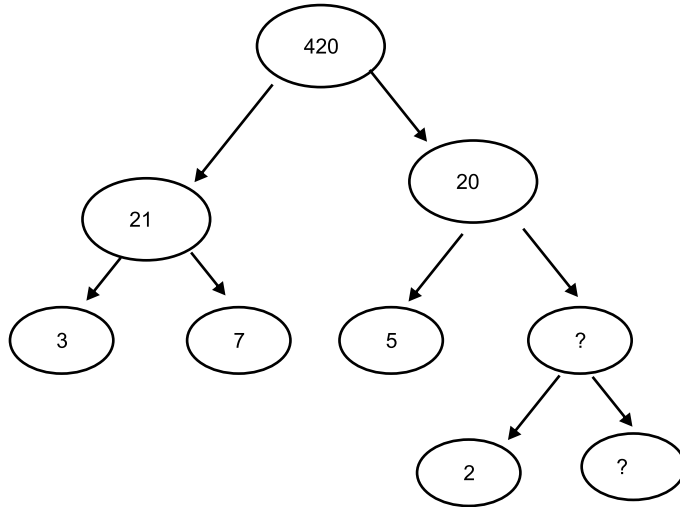
- (a) 12.35 a.m. (b) 11.35 a.m.
(c) 12.20 a.m. (d) 10.20 a.m.

Q. 49 शिखा ने एक भिन्न लिखी जिसका अंश 5 और हर 9 है। फिर उसने उल्टा करके एक और भिन्न लिखा। अंत में उसने पहली और दूसरी भिन्न को गुणा कर दिया। उसे क्या संख्या प्राप्त हुई?

Shikha wrote a fraction whose numerator is 5 and denominator is 9. Then she reversed to get the other fraction. Then she multiplied both fractions. What number she got?

- (a) 2 (b) 0
(c) 1 (d) $\frac{5}{9}$


Q50.



- (a) 4,2 (b) 5,2
(c) 10,2 (d) 2,2

Q 51. यदि एक वर्ग का क्षेत्रफल 1वर्ग सेमी. है तो क्या तुम छायांकित भाग का क्षेत्रफल बता सकते हो?

If area of one square is 1 cm², can you find the area of shaded portion?



- (a) 9 cm² (b) 10 cm²
(c) 8 cm² (d) 6 cm²

Q 52. रमा ने अपने जन्मदिन पर केक काटा और उसका $\frac{4}{7}$ वां भाग खुद खाया और $\frac{5}{3}$ वां भाग रिंकी को दे दिया। बताओ किसने ज्यादा केक खाया?

- (a) रमा (b) रिंकी
(c) दोनों ने बराबर खाया (d) सचिन

Rama cut her birthday cake and herself ate $\frac{4}{7}$ part of it and gave

5/3 part to Rinki. Who ate more cake?

- (a) Rama (b) Rinki
(c) Both ate equal. (d) Sachin



SET-II

प्र. 53 से 56 नीचे दिए गए कुछ जन्तुओं का जीवनकाल है, इसे पढ़िए और उत्तर दीजिए।

(Q53 – 56) Read the particulars of some animals age and answer:-

प्र.53 सबसे लंबा जीवन काल किस जीव का है?

(अ) हाथी

।

(ब) चूहा

(स) शेर

(द) कछुआ

Animal	Life span (years)
 Galapagos land tortoise	193 कछुआ
 Elephant	70 हाथी
 Lion	35 शेर
 Chicken	15 मुर्गी
 Mouse	4 चूहा

Which animal has the longest life span?

- (a) Elephant (b) Rat
(c) Lion (d) Tortoise

प्रश्न 54. हाथी का जीवनकाल शेर के जीवनकाल से कितना अधिक है?

- (अ) 35 वर्ष (ब) 105 वर्ष
(स) 15 वर्ष (द) 19 वर्ष

How many years is the life span of elephant more than that of a lion?

- (a) 35 Years (b) 105 Years
(c) 15 Years (d) 19 Years

प्रश्न 55. एक मुर्गी का जीवनकाल चूहे के जीवनकाल से... है।

- (अ) 11 वर्ष कम (ब) 11 वर्ष अधिक
(स) 10 वर्ष अधिक (द) 10 वर्ष कम

Life span of a chicken is than that of a rat.

- (a) 11 Years less. (b) 11 Years more.
(c) 10 Years more. (d) 10 Years less.


प्रश्न 56. मुर्गी, शेर, व चूहे को जीवनकाल के घटते क्रम में व्यवस्थित करो?

- (अ) शेर > मुर्गी > चूहा (ब) चूहा > मुर्गी > शेर
(स) मुर्गी > शेर > चूहा (द) शेर > मुर्गी > चूहा

Arrange chicken, lion & rat in the descending order of their life span:-

- (a) Lion > chicken > rat
(b) Rat > chicken > lion
(c) Chicken > lion > rat
(d) Lion > chicken > rat

प्रश्न 57 से 60 के लिए



इस चित्र में चार पैमाने ABCD दिखाए गए हैं, जिसमें सेंटीमीटर के चिन्ह अंकित हैं। प्रत्येक पैमाने में तीर के निशान द्वारा लम्बाई के माप को दर्शाया गया है, इस आधार पर प्रश्न 57 से 60 का उत्तर दीजिए।

In this diagram four scales ABCD are shown in which centimeters have been marked. Arrows have been shown in each Scales to show some measurement. Now answer Q57 – 60 on this basis:-

प्रश्न 57. कौन सा पैमाना 3.5 सेमी. की माप को दर्शा रहा है ?

- (अ) पैमाना A (ब) पैमाना B
(स) पैमाना C (द) पैमाना D

Which scale is showing 3.5 cm length?

- (a) Scale A (b) Scale B
(c) Scale C (d) Scale D

प्रश्न 58. प्रत्येक पैमाने की सही माप क्रम से है:-

- (अ) 2 सेमी., 3 सेमी., 1.5 सेमी. 4 सेमी.
(ब) 2 सेमी., 4 सेमी., 3 सेमी., 1.5 सेमी.
(स) 4 सेमी., 3 सेमी., 2 सेमी., 1 सेमी.
(द) 4.5 सेमी., 3.5 सेमी., 2.5 सेमी. 1.5 सेमी.

What is the correct reading of each scale in order?

- (a) 2.0 cm, 3.0 cm, 1.5 cm, 4.0 cm
(b) 2 cm, 4.0 cm, 3.0 cm, 1.5 cm
(c) 4.0 cm, 3.0 cm, 2.0 cm, 1.0 cm
(d) 4.5 cm, 3.5 cm, 2.5 cm, 1.5 cm

प्रश्न 57. कौन सा पैमाना 2.5 सेमी. की माप को दर्शा रहा है ?

- (अ) पैमाना B (ब) पैमाना D
(स) पैमाना A (द) पैमाना C

Which scale is showing 2.5 cm length?

- (a) Scale B (b) Scale D
(c) Scale A (d) Scale C

प्रश्न 60. पैमाने ABCD को उनकी माप के अनुसार घटते क्रम में व्यवस्थित करें।

- (अ) $B > A > C > D$
(ब) $A > B > C > D$

(स) $A > B > D > C$

(द) $A > C > D > B$

Arrange scales ABCD in decreasing order of their measurements:-

(a) $B > A > C > D$

(b) $A > B > C > D$

(c) $A > B > D > C$

(d) $A > C > D > B$

वर्ग ए-
भाषायी आचार
उत्तर संकेत

- | | | |
|---------|---------|---------|
| 1. (ग) | 2. (ख) | 3. (ख) |
| 4. (क) | 5. (ख) | 6. (क) |
| 7. (ख) | 8. (ग) | 9. (ख) |
| 10. (ग) | 11. (क) | 12. (घ) |
| 13. (ग) | 14. (घ) | 15. (ग) |
| 16. (क) | 17. (ख) | 18. (क) |
| 19. (घ) | 20. (ग) | 21. घ |
| 22. क | 23. ख | 24. ग |

SET - 2
ANSWER KEY
SECTION – A
LANGUAGE CONVENTIONS

- | | |
|-------------------|-------------------------|
| 1. (c) are | 2. (a) an |
| 3. (c) up | 4. (b) Can |
| 5. (a) may | 6. (c) bridegroom |
| 7. (a) Carried | 8. (d) his |
| 9. (b) understand | 10. (d) late |
| 11. (d) too | 12. (a) tomatoes |
| 13. (c) blue | 14. (a) cut into pieces |
| 15. (d) march | 16. (c) Bed |
| 17. (a) was | 18. (b) thirsty |
| 19. (d) water | 20. (c) drink |
| 21. (a) saw | 22. (c) level |
| 23. (b) Pebbles | 24. (d) away |

Set II
Sec B - Qualitative Reasoning

- | | |
|---------|---------|
| 25. (d) | 26. (b) |
| 27. (d) | 28. (b) |
| 29. (b) | 30. (c) |
| 31. (a) | 32. (a) |
| 33. (d) | 34. (d) |
| 35. (b) | 36. (b) |
| 37. (b) | 38. (a) |
| 39. (b) | 40. (c) |
| 41. (c) | 42. (b) |

Set II
Section C
Qualitative Reasoning

43. (a)

44. (b)

45. (b)

46. (a)

47. (a)

48. (b)

49. (c)

50. (a)

51. (b)

52. (b)

53. (a)

54. (a)

55. (b)

56. (a)

57. (b)

58. (d)

59. (d)

60. (b)

SAMPLE PAPER - III

भाषायी आचार
व्याकरण एवं अनुप्रयोग
खण्ड 'क'

प्रश्न 1. वर्णों के समूह को कहते हैं।

- | | |
|--------------|-------------|
| (क) वरमाला | (ग) माला |
| (ख) वर्णमाला | (घ) फूलमाला |

प्रश्न 2. अनुसार में उपसर्ग छांटिए

- | | |
|---------|---------|
| (क) अनु | (ग) सार |
| (ख) अ | (घ) आर |

प्रश्न 3. इन विकल्पों में से कौन से क्रिया के भेद है?

- | |
|---------------------------|
| (क) केवल अकर्मक |
| (ग) केवल सकर्मक |
| (ख) अकर्मक और सकर्मक |
| (घ) दोनों में से कोई नहीं |

प्रश्न 4. मोहित घोड़े नीचे उतरा।

- | | |
|------------|--------|
| (क) में | (ग) के |
| (ख) के लिए | (घ) से |

प्रश्न 5. थाली में आम रखे हैं। संख्यावाचक विशेषण द्वारा शब्द का चुनाव कीजिए।

- | | |
|----------|-----------|
| (क) चार | (ग) बहुत |
| (ख) काले | (घ) अच्छे |

प्रश्न 6. 'क, डी, म, ल' -- इन वर्णों के मेल से निम्न में से कौन सा शब्द नहीं बनता।

- | | |
|---------------|-----------|
| (क) कमल-ककड़ी | (ग) जकड़ी |
| (ख) मकड़ी | (घ) कमल |

प्रश्न 7. किसी व्यक्ति वस्तु स्थान या भाव आदि के नाम को... कहते हैं।

- | | |
|-------------|------------|
| (क) सर्वनाम | (ग) विशेषण |
|-------------|------------|

(ख) क्रिया (घ) संज्ञा

प्रश्न 8. 'पुस्तकालय' शब्द किससे मिल कर बना है।

- (क) पुस्त + कालय (ग) पुस्तक + आलय
(ख) पुस्तक + लय (घ) पुस्तक + लय

खण्ड 'ख'

संदर्भ में शब्दावली

प्र.9 मैंने सुबह से कुछ नहीं खाया, अब तो मेरे पेट में दौड़ रहे हैं।

- (क) घोड़े (ग) कीड़े
(ख) चूहे (घ) चूहा

प्र.10 की दाढ़ी में तिनका।

- (क) मोर (ग) भिखारी
(ख) बूढ़े (घ) चोर

प्र.11 निम्न में से कौन सा युग्म लिंग का सही परिचय नहीं देता।

- (क) सेठ-सेठानी (ग) राजा-गरीब
(ख) नौकर-नौकरानी (घ) चाचा-चाची

प्र.12 राम और श्याम मित्र हैं.... नहीं।

- (क) शत्रु (ग) भाई
(ख) दोस्त (घ) अपराधी



प्र.13 निम्न में से कौन-सा शुद्ध रूप है?

- (क) विशेषण (ग) विशेषण
(ख) वीशेषण (घ) विशेषन

प्र.14 मेरे पास एक पुस्तक है जबकि पुस्तकालय में अनेक... .. हैं। वचन बदलकर रिक्त स्थान को भरो।

- (क) पुस्तकें (ग) पुस्तक
(ख) पुस्तकों (घ) पुस्तिकाएं



प्र.15 पहाड़ पर चढ़ना जितना कठीन है, पहाड़ से उतरना उतना ही है। विलोम शब्द

द्वारा भरिए।

- (क) गरल (ग) मुश्किल
(ख) सरल (घ) नामुमकिन

प्रश्न 16. लगता है बारिश होने वाली है। आसमान में काले बादल छाए हुए हैं। काले बादल छाए हुए हैं। रेखांकित शब्द का पर्यायवची नहीं है?

- (क) आकाश (ग) गगन
(ख) धरती (घ) अंबर



खण्ड 'ग'
गद्यांश पूर्ति

प्रश्न संख्या 17 से 24 के लिए

नीचे दिए गए पत्र में से कुछ शब्द निकाल दिए गए हैं। ये शब्द प्रत्येक रिक्त स्थान के लिए दिए गए विकल्पों में शामिल हैं। पत्र का पढ़िए और दिए गए विकल्पों में से उचित विकल्प चुनकर प्रार्थना पत्र को पूरा कीजिए—
सेवा में

17 प्रधानचार्या जी,
सर्वोदय कन्या विद्यालय, दिल्ली

प्रश्न 18 सविनय 19 यह है कि मुझे कल रात से बहुत तेज बुखार है। इसलिए मैं विद्यालय में उपस्थित होने में 20

हूँ। अतः मुझे दो दिन का 21 प्रदान करें। आपकी अति 22 होगी। आपकी 23 वाद
आपकी 24 शिष्या

क.ख.ग.

कक्षा छठी

अनुक्रमांक-5

प्रश्न 17.

- (क) श्रिमती (ग) श्रीमती
(ख) क्षीमती (घ) श्रीमति

प्रश्न 18.

- | | |
|------------|------------|
| (क) महोदया | (ग) महोदय |
| (ख) मोहदय | (घ) मोहदया |

प्रश्न 19.

- | | |
|-------------|------------|
| (क) नीवेदन | (ग) निवेदन |
| (ख) निवेदान | (घ) नीवैदन |

प्रश्न 20.

- | | |
|-----------|------------|
| (क) समर्थ | (ग) अमर्थ |
| (ख) अर्थ | (घ) असमर्थ |

प्रश्न 21.

- | | |
|-----------|------------|
| (क) अवकाश | (ग) आकाश |
| (ख) आवकाश | (घ) अनुकाश |

प्रश्न 22.

- | | |
|-----------|-----------|
| (क) किरपा | (ग) कृपा |
| (ख) कृपया | (घ) कर्पा |

प्रश्न 23.

- | | |
|----------|-----------|
| (क) धन्य | (ग) अन्य |
| (ख) जन्य | (घ) धन्या |

प्रश्न 24.

- | | |
|-----------------|-----------------|
| (क) आज्ञाकारीणी | (ख) आज्ञाकारिणी |
| (ग) अज्ञाकरणी | (घ) आज्ञाकरिणी |

SET - III
LANGUAGE CONVENTION
GRAMMAR & USAGE

Fill in the blanks by choosing correct option.

- Q1. They _____ play golf on Sunday.**
(a) Shall (c) Has
(b) Will (d) Was

Fill in the blanks by choosing correct article.

- Q2. Delhi is _____ capital of India.**
(a) An (c) The
(b) A (d) One

Fill in the blanks by choosing correct preposition.

- Q3. Ram got out _____ the car.**
(a) Off (c) To
(b) Of (d) From

Fill in the blank with correct modal.

- Q4. We _____ help the needy people.**
(a) Ought to (c) Would
(b) Could (d) Should

Q5. Change the gender of 'Lion'.

- (a) Lions (c) Lion
(b) Lionee (d) Lioness

Choose the correct passive voice of the following sentence:-

- Q6. The gardener waters the plants.**
(a) The plants were watered by the gardener.
(b) The plants are watered by the gardener.
(c) The plants shall be watered by the gardener.
(d) The plants have been watered by the gardener.

Q7. Choose the III form of the verb 'Buy'.

- (a) Buy (c) Bought
(b) Being (d) Brought

Choose the pronoun from the sentence.

- Q8. Children do their homework.**
(a) Their (c) Do
(b) Children (d) Homework

CONTEXTUAL VOCABULARY

Choose the closest meaning for underlined phrase.

- Q9. Please put away your things.
(a) Put down. (c) Keep
(b) Throw away. (d) Send away.
- Q10. What is the opposite of 'Heavy'.
(a) Soft (c) Easy
(b) Light (d) Hard
- Q11. We don't _____ him.
(a) Now (c) No
(b) Noon (d) Know
- Q12. Choose the plural of 'Child'.
(a) Childs (c) Children
(b) Childner (d) Child
- Q13. Choose an adjective to describe 'Parrot'.
(a) Green (c) White
(b) Pink (d) Blue
- Q14. Give the similar meaning of 'Gliding'.
(a) Moving roughly. (c) Moving slowly.
(b) Moving fastly. (d) Moving smoothly.
- Q15. Rearrange the letters to make the name of a fruit.
ANOMG
(a) Among (c) Goman
(b) Mango (d) Omang

Use first alphabet of the given pictures and make a meaningful word. For Eg.

L



E



G



- (a) Leg (c) Lap
(b) Gap (d) Lag

Q16.



- (a) Top
- (b) Tap



- (c) Ton
- (d) Tip



Read the passage and choose the correct option for the following questions. (Q17 – 24)

In the days of the Great caliph (king) Haroun-al-Rashid, there lived in Baghdad a young man, named Abou Hassan. His father had died, leaving him a good sum of money. This money Abou Hassan divided into two parts. The smaller part he put away in a safe custody. The rest he spent freely in feasting and merry making with his young friends this delightful hunting parties and feasts were the talk of the town indeed he was one of the most fun loving young man in the whole of Baghdad.



- Q17. Where did Abou-Hassan live?
 (a) In Arab (c) In Bangkok
 (b) In Baghdad (d) In forest
- Q18. In how many parts did he divide the money?
 (a) Three parts. (c) Many parts.
 (b) Four parts. (d) Two parts.
- Q19. What did he do with the rest of the money?
 (a) In hunting in the jungle.
 (b) In feasting and merry making.
 (c) In dancing with friends.
 (d) In playing gamble.
- Q20. Abou Hassan was a _____ loving young man in Baghdad.
 (a) Food (c) Fun
 (b) Book (d) Dance

The Akshardham Temple is dedicated to the Hindu Gods Lakshmi-Narayan, Shiv-Parvati, Radha-Krishna and Sita-Ram and another 20,000 idols of disciples, carved both inside and on the outside of the temple walls. A 12 Minute boat ride in a cave like hall, introduces the visitors to the various dimensions of Indian culture, as they existed 10,000 years ago. Life-size and life-like idols frame either side of the water body with a pre-recorded commentary playing that explains the significance of each setting.




- Q21. The Akshardham Temple is dedicated to _____
 (a) Sikh Gods. (c) Hindu Gods.
 (b) Muslim Gods. (d) Christian Gods.
- Q22. A 12 minutes of _____ ride attracts the visitors.
 (a) Train (c) Car
 (b) Bus (d) Boat
- Q23. Life-like and life-size idols frame either side of the _____ body.
 (a) Human (c) Animal
 (b) Mud (d) Water
- Q24. Find out the synonym of 'temple'.
 (a) House (c) Building
 (b) Shrine (d) Mosque

SECTION – B
गुणात्मक तर्क
SECTION – B
QUALITATIVE REASONING

वर्ग बी

गुणात्मक तर्क

प्रश्न 25 इन चित्रों में से किसमें आवर्ती गति नहीं होती है?



- (अ) घड़ी की लोलक (ब) तबला
(स) झूला (द) पंखा

Which of these pictures does not display periodic motion?

- (a) Pendulum of clock.
(b) Tabla
(c) Swing
(d) Fan

प्रश्न 26 निम्न में से किसका उपयोग करके हम एक वक्र रेखा की लंबाई को ज्ञात कर सकते हैं?

- (अ) पत्थर की डोरी (ब) घड़ी
(स) मीटर पैमाना (द) डोरी और मीटर पैमाना

Which of these is used to measure the length of a curve line?

- (a) Stone & thread. (b) Watch
(c) metre scale (d) Thread & metre scale

प्रश्न 27. सपना एक अभाव जन्य रोग से ग्रसित है, जिसके लक्षण निम्न हैं- गले में सूजन, मानसिक विकलांगता, अतः वह किस तत्व की कमी से ग्रसित है?

- (अ) आयोडीन (ब) आयरन (लौह)
 (स) कैल्सियम (द) फासफोरस

Sapna is suffering from a deficiency disease and is showing following symptoms such as swelling in the neck region, mental disorder. She is suffering from the lack of:-

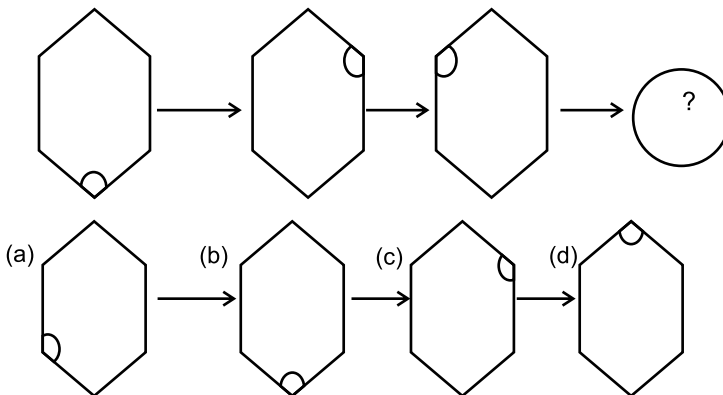
- (a) Iodine (b) Iron
 (c) Calcium (d) Phosphorus

QUALITATIVE REASONING

Q28. $\frac{5}{11} = \frac{?}{44} = \frac{80}{?}$

- (a) 38,77 (b) 20,88
 (c) 20,176 (d) 10,176

Q29.



Q30.

19	19	19	19	19	?
19	19	19	19	?	
19	19	19	=57		
19	19	38			
19	19				

- (a) 63,72 (b) 86,95
 (c) 76,85 (d) 76,95

अनुच्छेद को पढ़कर उत्तर दीजिए

जम्मू कश्मीर के पूर्वी भाग में पहाड़ों पर स्थित लद्दाख एक रेगिस्तान है। यहां पर खेती बाड़ी बहुत ही कम मात्रा में होती है, क्योंकि यहां बारिश नहीं होती, अपितु लगभग पूरे वर्ष यह स्थान बर्फ से ढंका रहता है। बहुत ही कम वृक्ष यहां देखने को मिलते हैं तथा यहां की मुख्य फसलें चावल, गेहूं, मटर, मक्का आदि हैं। लद्दाख के बाजार में पश्मीना शॉल दिखाई देगी, जो कि बहुत ही महंगी होती है। यह पश्मीना पहाड़ी बकरी 'चांगरा' से प्राप्त होती है। शॉल बनाने के लिए कुछ अद्भुत कौशल की भी जरूरत है।

Read the passage and answer the questions. (Q31 to 36)

Ladakh is a desert in the mountains in the eastern part of Jammu & Kashmir. Very little agriculture is possible as the region does not receive any rain & is covered with snow for a large part of the year. There are very few trees that are grown with this region. The major crops of this region are rice, wheat, peas, maize, etc. Kashmiri shawls seen in the market of Ladakh are very expensive. These shawls are made from the wool that comes from mountain goats called 'Changra' & small portion of goat hair is used for making pure pashmina. The manufacturing of shawls requires great skills

Q 31- लद्दाख किस राज्य में स्थित है?

- (क) जम्मू (ख) जम्मू कश्मीर
(ग) पंजाब (घ) हिमाचल

Ladakh is situated in which state?

- (a) Jammu (b) Jammu & Kashmir
(c) Punjab (d) Himachal

32- लद्दाख किस नाम से पुकारा जाता है?

- (क) रेगिस्तान (ख) बलुचिस्तान
(ग) ठंडा रेगिस्तान (घ) गर्म रेगिस्तान

Ladakh in Himalayas is also known as?

- (a) Desert (b) Baluchistan
(c) Cold desert (d) Hot desert

Q 33- लगभग पूरे वर्ष लद्दाख किससे ढंका रहता है ?

- (क) बादलों (ख) पानी
(ग) बर्फ (घ) तूफान

Most of the time Ladakh is covered with what?

- (a) Clouds (b) Water
(c) Ice (d) Storm

Q 34- बाजार जाने पर कौन सी महंगी शॉल दिखाई देती है?

- (क) खसमीना (ख) पशमीना
(ग) नीरूनीमा (घ) हसीना

Visiting a market in Ladakh which expensive shawl will be usually seen?

- (a) Kashmina (b) Pashmina
(c) Meerumina (d) Hasina

Q 35- लद्दाख में पाई जाने वाली बकरी का क्या नाम है?

- (क) भांगरा (ख) कांगरा
(ग) सांगरा (घ) चांगरा

Goat found in Ladakh is called by which name?

- (a) Bhagra (b) Kangra
(c) Sangra (d) Changra

Q 36- लद्दाख में किसकी खेती मुख्य रूप से होती है?

- (क) नारियल (ख) गन्ना
(ग) चावल (घ) खजूर

What is grown mainly in Ladakh?

- (a) Coconut (b) Sugarcane
(c) Rice (d) Dates

अनुच्छेद को पढ़कर उत्तर दीजिए (प्रश्न 37 से 42)

लगभग 2000 साल पहले पश्चिमी एशिया में ईसाई धर्म उभरा। ईसा मसीह के बेथेलहेम में पैदा हुए, जो कि रोमन साम्राज्य का एक हिस्सा था। ईसा ने लोगों को प्रेम करना तथा विश्वास करना सिखाया तथा बताया कि जैसा व्यवहार तुम अपने साथ चाहते हो वैसा ही दूसरों के साथ करो। ईसा की मौत लगभग सौ वर्ष बाद ईसाई प्रचारकों ने ईसाई धर्म का प्रचार किया। केरल के ईसाई जिन्हें सरियन कहा जाता है, शायद पश्चिमी एशिया से ही गए थे, जो कि क्रिश्चियन समुदाय में सबसे पुराने हैं

Read the passage and answer the questions. (Q37 to 42)

About 2000 years ago, Christianity emerged in West Asia. Jesus Christ was born in Bethlehem which was part of Roman Empire. He taught people to treat others with love and trust others, just as they themselves wanted to be treated. The first Christian Preachers came from West Asia within a hundred years of Christ's death. The Christians of Kerala known as Syrian Christians are amongst the oldest Christian communities in the world.

Q 37- लगभग कितने समय पहले ईसाई धर्म उभरा ?

- (क) 1200 वर्ष (ख) 1500 वर्ष
(ग) 2000 वर्ष (घ) 2500 वर्ष

Christianity emerged about how many years back?

- (a) 1200 Years (b) 1500 Years
(c) 2000 Years (d) 2500 Years

Q 38- ईसा मसीह कहां पैदा हुए?

- (क) बीथीवन (ख) हिथ्रो
(ग) बेथेलहेम (घ) सीरिया

Where was Christ born?

- (a) Bethoven (b) Heetheow
(c) Bethelam (d) Syria

Q 39- केरल के ईसाई को किस नाम से जाना जाता है ?

- (क) मलाई (ख) सीरियन
(ग) हंगेरियन (घ) कैथोलिक

Christians of Kerala are called as?

- (a) Malai (b) Syrian
(c) Hungarian (d) Catholic

Q 40- सीरियन ईसाई कहां से आए थे ?

- (क) पश्चिमी यूरोप (ख) पश्चिमी अफ्रीका
(ग) एशिया (घ) पश्चिमी एशिया

Syrian Christians came from where?

- (a) West Europe (b) West Africa
(c) Asia (d) West Asia

Q 41- बेथेलेहम किस साम्राज्य का हिस्सा था ?

- (क) मौर्य (ख) गुप्ता
(ग) रोमन (घ) कुशान

Bethelam was part of which Empire?

- (a) Maneya (b) Gupta
(c) Roman (d) Kushan

Q 42- ईसाई धर्म का प्रचार ईसा की मौत के कितने वर्ष के अंदर हो गया था ?

- (क) 200 साल (ख) 100 साल
(ग) 150 साल (घ) 101 साल

Christianity spread over how many years of Jesus death?

- (a) 200 Years (b) 100 Years
(c) 150 Years (d) 101 Years

QUANTITATIVE REASONING

निम्न जानकारी को पढ़कर प्रश्न संख्या 43 से 46 के उत्तर दें।

Read the information and answer the following questions. (Q43 to 46)

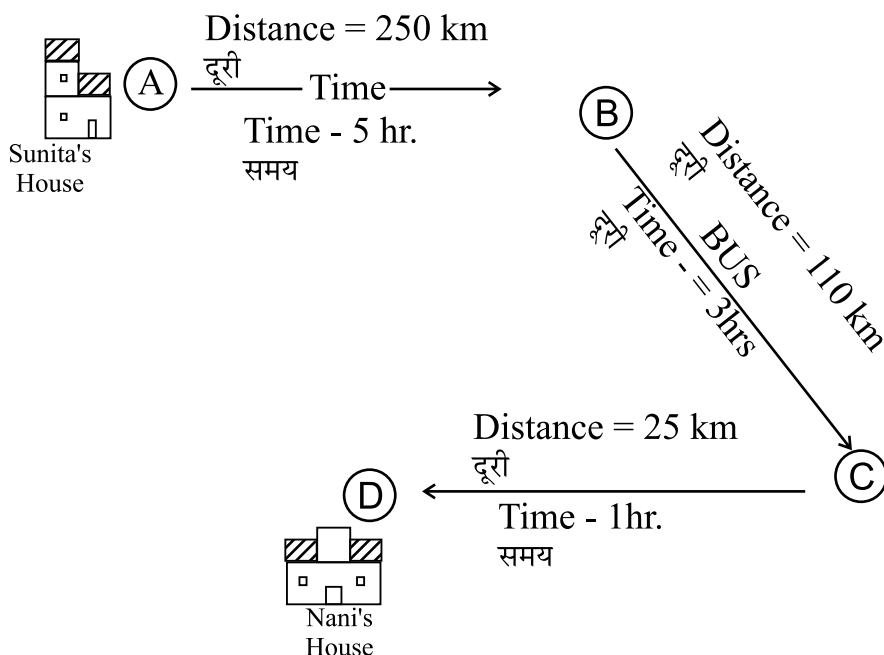
Sunita is going to her nani's place with her mother. The details of her journey are shown in picture.

प्रश्न 43. सुनीता अपनी मम्मी के साथ नानी के घर जा रही है। उनकी यात्रा का ब्यौरा चित्र में दर्शाया गया है।

ए व सी के बीच की दूरी क्या है ?

Q43. What is the distance between (A) and (C)?

- (a) 250 KM (b) 110 KM
(c) 25 KM (d) 360 KM



Q44. How far is nani's house from Sunita's house?

प्रश्न 44. नानी का घर सुनीता के घर से कितना दूर है?

- (a) 250 KM (b) 360 KM
(c) 385 KM (d) 25 KM

Q45. How much time they will spend in travelling?

प्रश्न 45. यात्रा पूरी करने में दोनों को कितना समय लगेगा?

- (a) 9 Hrs (b) 5 Hrs
(c) 3 Hrs (d) 8 Hrs

Q46. What is the speed of the train?

प्रश्न 46. ट्रेन की चाल ज्ञात करें।

- (a) 50 KM/Hr (b) 25 KM/Hr
(c) 100 Km/Hr (d) 250 Km/Hr

प्रश्न निम्न स्थिति का अवलोकन करें व 47 से 50 तक उत्तर दें। निम्न तालिका राजीव द्वारा पुस्तक विक्रेता से खरीदी गई वस्तुओं को दर्शाती है।

Analyze the situation and answer

Q. No. 47 – 50.



Following is the list of items Rajiv purchased from a book seller.

Items (वस्तु)	Rate (कीमत)	Quantity(मात्रा)
Notebooks कॉपी	15:00	10
Practical File प्रयोग पुस्तिका	20:00	2
Pencil पेंसिल	2:00	15
Eraser रबर	2:00	5
Sharpener शॉर्पेनर	2:00	

- 47- कॉपियों की खरीद पर राजीव ने कितने रुपये खर्च किए?
- Q47. How much she spent on the purchase of notebooks?**
 (a) Rs 15 (b) Rs 25
 (c) Rs 150 (d) Rs 1500
- 48- किस वस्तु को खरीदने में उसने सबसे अधिक व्यय किया?
- Q48. On which item did he spend the most?**
 (a) Notebook कॉपी (b) Practical file प्रयोग पुस्तिका
 (c) Pencil पेंसिल (d) Eraser रबर
- 49- किस वस्तु को खरीदने में उसने कम व्यय किया?
- Q49. On which item did he spend the least?**
 (a) Practical file प्रयोग पुस्तिका
 (b) Pencil पेंसिल
 (c) Eraser रबर
 (d) Sharpener शॉर्पनर
50. पूरी खरीदारी में उसने कितना खर्च किया?
- Q50. What is the total amount he spent on the whole purchase?**
 (a) Rs 200 (b) Rs 243
 (c) Rs 324 (d) Rs 234
- प्रश्न: सुमन सब्जियां खरीदने बाजार गई। उसने 40 रुपये के आलू, 30 रुपये के प्याज, 45 रु के टमाटर व 25 रु के बैंगन खरीदे। उसके बैग में एक 100 रु का नोट, एक 500रु का नोट व एक 50 रु का नोट था। उसने दुकानदार को कौन सा नोट दिया होगा यदि उसे 360 रु दुकानदार ने वापिस किए?
- (a) 100 रु का नोट (b) 500 रु का नोट
 (c) 50 रु का नोट (d) सारे नोट

- Q51.** Suman went to buy vegetables from market. She purchased potatoes for Rs 40, onions for Rs 30, tomatoes for Rs 45 and brinjal for Rs 25. She had in her bag one 100 rupee note, one 500 rupee note and one 50 rupee note. Which note she might had presented to pay the bill if she got Rs 360 back from the shopkeeper.



- (a) 100 rupee note.
(b) 500 rupee note.
(c) 50 rupee note.
(d) All the notes.
- 52 -** अंकिता ने अपने गृहकार्य का $\frac{3}{8}$ भाग शनिवार को व बचा हुआ रविवार को पूरा किया। उसने रविवार को गृहकार्य का कितना भाग पूरा किया?

(a) $\frac{5}{8}$ (b) $\frac{4}{8}$

(c) $\frac{1}{8}$ (d) $\frac{8}{3}$

- Q52.** Ankita did $\frac{3}{8}$ of her homework on Saturday and remaining on Sunday. What part of the homework she did on Sunday?

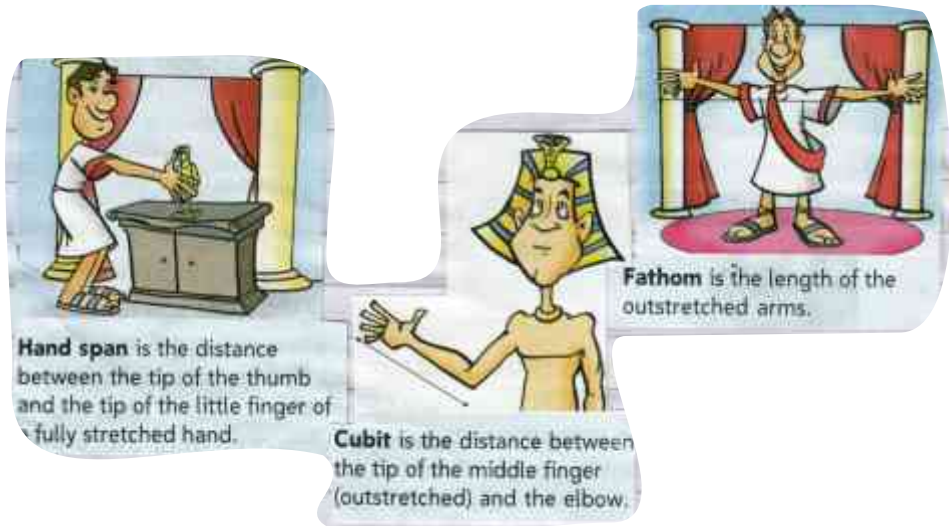
(a) $\frac{5}{8}$ (b) $\frac{4}{8}$

(c) $\frac{1}{8}$ (d) $\frac{8}{3}$

53 से 56 नीचे दिए गए गद्यांश को पढ़िए और उत्तर दीजिए:-

Read the passage and answer Q 53 to 56.

प्राचीन काल में पैर की लंबाई, अंगुली की चौड़ाई, तथा एक कदम की दूरी आदि को मापने के लिए उपयोग किया जाता है, कोहनी से अंगुली के छोर तक की लंबाई को मिस्र में उपयोग करते थे। फुट का उपयोग भी किया जाता था। एक गज कपड़ा फैली बांह के सिरे से अपनी ठोड़ी तक मापा जाता था। पग व कदमों का इस्तेमाल रोमवासी करते थे। छोटी लम्बाई के लिए अंगुल व मुट्ठी का उपयोग किया जाता था। इन सब मापन के बाद 1790 में फ्रांसिसियों ने मीटर पद्धति का उपयोग होने लगा, लम्बाई का एस. आई मात्रक मीटर है। मीटर को 100 बराबर भागों में बांटते हैं, जिन्हें सेंटीमीटर कहते हैं। सेंटीमीटर को 10 बराबर भाग में बांटा जाता है, जिन्हें मिलीमीटर कहते हैं। लंबी दूरियों को किलोमीटर में मापते हैं।



In older times different methods of measurements like length of foot, breadth of finger and distance of our foot steps were used. The length of our finger upto the elbow was used as one of the methods of measurements in Mishra. One Gaj (1.5 Meter) cloth was measured equivalent to arm stretched upto our chin. Romans also used footsteps as a means of measurement. For measuring smaller length finger and fist was used. After 1790 the French used Meter as a SI unit of measuring length. One meter is equivalent to 100 centimeters. 1 centimeter is equal to 10 millimeter longer distances are measured in KM.

53 - फैली हुई बांह के एक सिरे से ठोड़ी तक मापे जाने वाली ईकाई है?

- | | |
|------------|----------------|
| (अ) गज | (ब) फुट |
| (स) 1 मीटर | (द) 1 किलोमीटर |

Q53. Length of out stretched arm to the chin is measured in:-

- (a) 1 Gaj (b) 1 Foot
(c) 1 metre (d) 1 KM

54 - फ्रांसिसियों ने मीटर पद्धति की रचना कब की?

- (v) 1908 (c) 1915
(l) 1790 (n) 1750

Q54. When do the French discovered the metre scale for measuring length?

- (a) 1908 (b) 1915
(c) 1790 (d) 1750

55 - मीटर को कितने बराबर भागों में बांटते हैं?

- (अ) 105 (ब) 50
(स) 80 (द) 100

Q55. In how many equal parts 1 meter is divided into?

- (a) 105 (b) 50
(c) 80 (d) 100

56 - सेंटीमीटर को कितने बराबर भागों में बांटा जाता है?

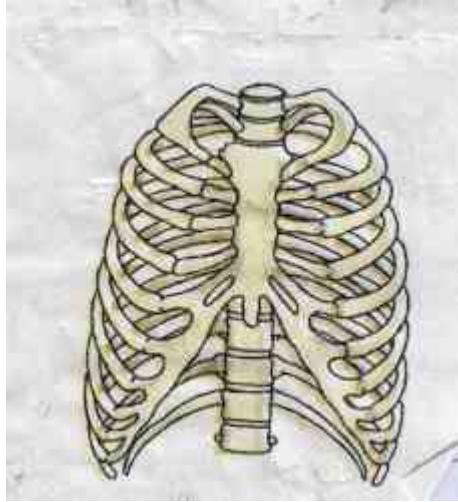
- (अ) 12 (ब) 20
(स) 10 (द) 50

Q56. 1 centimeter is divided into how many equal parts?

- (a) 12 (b) 20
(c) 10 (d) 50

Read the passage and answer the questions. (Q57 – 60)

57 से 60 के लिए नीचे दिए गए गद्यांश को पढ़िए और उत्तर दीजिए:- वक्ष की अकृति पिंजरे के समान होती है। इसमें दो महत्वपूर्ण अंग, हृदय व फेफड़े होते हैं। इनसे जुड़ी हुई 12 जोड़ी पसलियां (पर्शुकाएं) होती हैं इनमें से 10 जोड़ी पसलियां उपस्थित के माध्यम से प्रतिपृष्ठ सतह पर स्तर्नम से जुड़ी होती है। दो जोड़ी पसलियां स्तर्नम से नहीं जुड़ी रहती हैं। इन्हें तैरने वाली पसलियां कहते हैं। ये पेशियों की सहायता से परस्पर इस प्रकार जुड़ी होती है कि आवश्यकता पड़ने पर उनमें गमन हो सकता है। जैसे सांस लेने में खांसने में आदि।



Chest has the shape of a cage. Two vital organs Heart and Lungs are kept safe in it. There are vertebrae on the backside of this cage. Twelve pairs of ribs are attached with these vertebrae. Ten pairs of these are attached with sternum by the cartilage on the posterior surface two pairs of ribs are not attached with sternum, these are called floating ribs. These are attached with muscles so that they can move when necessary for example for breathing and coughing etc.

57 - वक्ष में कितने अंग सुरक्षित रहते हैं?

- | | |
|--------|---------|
| (अ) दो | (ब) तीन |
| (स) आठ | (द) एक |

How many organs are kept inside the chest cage?

- | | |
|-----------|-----------|
| (a) Two | (b) Three |
| (c) Eight | (d) One |

58 - केशरूकाओं से कितनी जोड़ी पसलियां जुड़ी होती हैं?

- (अ) दो जोड़ी (ब) 7 जोड़ी
(स) 10 जोड़ी (द) 12 जोड़ी

How many pairs of ribs are attached with vertebrae?

- (a) 2 Pairs (b) 7 Pairs
(c) 10 Pairs (d) 12 Pair

59 - स्टर्नम से जुड़ने वाली कितनी पसलियां होती हैं?

- (अ) 10 (ब) 20
(स) 30 (द) 15

Ribs attached to sternum are:-

- (a) 10 (b) 20
(c) 30 (d) 15

60 - तैरने वाली पसलियां कितनी जोड़ी होती हैं?

- (अ) 4 जोड़ी (ब) 8 जोड़ी
(स) 2 जोड़ी (द) 3 जोड़ी

How many floating ribs are there?

- (a) 4 Pairs (b) 8 Pairs
(c) 2 Pairs (d) 3 Pairs

भाषायीआचार
उत्तर संकेत

1.	ख	2.	क	3.	ख
4.	घ	5.	क	6.	ग
7.	घ	8.	ग	9.	ख
10.	घ	11.	ग	12.	क
13.	ग	14.	क	15.	ख
16.	ख	17.	ग	18.	क
19.	ख	20.	घ	21.	क
22.	ख	23.	क	24.	ख

SET – 3
ANSWER KEYS
LANGUAGE CONVENTIONS

SECTION - A

- | | | | | | |
|-----|-----|---------|-----|-----|-----------------|
| 1. | (a) | Shall | 2. | (c) | The |
| 3. | (a) | Off | 4. | (d) | Should |
| 5. | (d) | Lioness | 6. | (b) | |
| 7. | (c) | Bought | 8. | (a) | Their |
| 9. | (c) | Keep | 10. | (b) | Light |
| 11. | (d) | Know | 12. | (c) | Children |
| 13. | (a) | Green | 14. | (d) | Moving smoothly |
| 15. | (b) | Mango | 16. | (d) | Tip |
| 17. | (b) | | 18. | (d) | |
| 19. | (b) | | 20. | (c) | |
| 21. | (c) | | 22. | (d) | |
| 23. | (d) | | 24. | (b) | |

SECTION – B
QUALITATIVE REASONING

- | | | | |
|-----|-----|-----|-----|
| 25. | (d) | 26. | (d) |
| 27. | (a) | 28. | (c) |
| 29. | (b) | 30. | (d) |
| 31. | (b) | 32. | (c) |
| 33. | (c) | 34. | (b) |
| 35. | (d) | 36. | (c) |
| 37. | (c) | 38. | (c) |
| 39. | (b) | 40. | (d) |
| 41. | (c) | 42. | (b) |

SECTION – C
QUANTITATIVE REASONING

43. (d)

45. (a)

47. (c)

49. (d)

51. (b)

53. (a)

55. (d)

57. (a)

59. (b)

44. (c)

46. (a)

48. (a)

50. (d)

52. (a)

54. (c)

56. (c)

58. (d)

60. (c)