

# Directorate of Education

Govt. of NCT of Delhi

## Problem Solving Assessment

Support Material (2013 – 2014)

### Class: V

Under the Guidance of:

Sh. Anindo Majumdar

Pr. Secretary (Education)

Sh. Amit Singla

Director (Education)

Dr. Sunita S. Kaushik

Addl. DE (School & Exam)

### Coordinators:

**Ms. Savita Yadav**

ADE (Exam)

**Ms. Sharda Taneja**

OSD (Exam)

**Dr. Satish Kumar**

OSD-II (Exam)

## Contributors

S. No.	Name & Designation	Name of School
	Ms. Manjula Khanna, Principal (Group Leader)	SKV. D Blk. Mangolpuri (Kamdhenu)
1.	Ms. Anuradha Sawhney, Vice Principal	SKV. D Blk. Mangolpuri (Kamdhenu)
2.	Ms. Deepika Kapoor, PGT	SKV. D Blk. Mangolpuri (Kamdhenu)
3.	Ms. Manju Mahajan, TGT	SKV. D Blk. Mangolpuri (Kamdhenu)
4.	Ms. Nidhi Goel, TGT	SV Sec. – 3 Rohini
5.	Mr. Ashok Kumar Bharadwaj, Asstt. Tr.	SKV. D Blk. Mangolpuri (Kamdhenu)
6.	Ms. Jyoti Puri, TGT	SKV. D Blk. Mangolpuri (Kamdhenu)
7.	Ms. Kavita, Asstt. Tr.	SKV. D Blk. Mangolpuri (Kamdhenu)
8.	Ms. Richa Batra, Asstt. Tr.	SKV. D Blk. Mangolpuri (Kamdhenu)
9.	Ms. Sunita Vig, PGT	SKV. D Blk. Mangolpuri (Kamdhenu)
10.	Ms. Anju Sharma, TGT	SV Co-ed SSS B – 4 Paschim Vihar
11.	Ms. Divya Rawal, TGT	G Co-ed SSS Sainik Vihar
12.	Ms. Manju Vats, TGT	SV Sec. – 3 Rohini
13.	Ms. Preeti Tiwari, TGT	G Co-ed SSS C Blk. Mangolpuri
14.	Ms. Rachna Goel, Asstt. Tr.	SV Sharda Niketan

## PSA- CLASS V- FORMAT

Test Context Domain/ Item Type	Target No. Per Test Form		
	No. of Items	No. of Passage	Total No. of Items
<b>Qualitative</b>			
* Stand Alone MCQ	08	01	08
* Passage Based MCQ	04		04
<b>Sub total</b>			<b>12</b>
<b>Quantitative</b>			
* Stand Alone MCQ	08	01	08
* Passage Based MCQ	04		04
<b>Sub Total</b>			<b>12</b>
<b>Language Conventions</b>			
Hindi + English			
* Stand Alone MCQ	06+6	01+1	06+6
* Passage Based MCQ	02+2		02+2
<b>Sub Total</b>			<b>08+8</b>

**Total**

**16  
40**



## Section - A

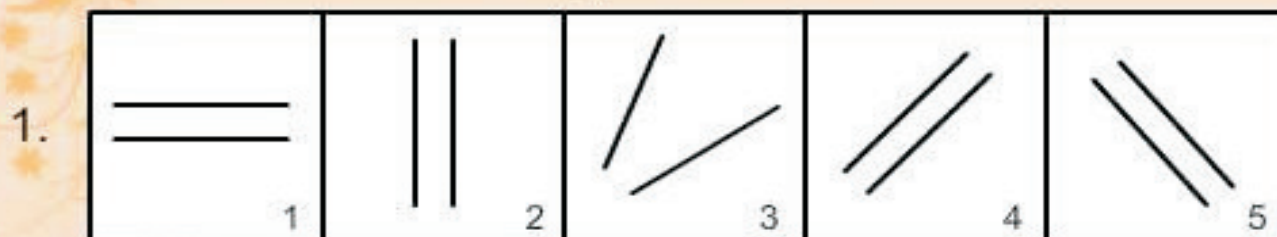
1

### Qualitative Reasoning

Choose the correct option from the four options given below

#### Stand Alone MCQ

Choose the one which is different from the rest (Q. No. 1-3)  
उस विकल्प का चयन कीजिये जो दूसरों से भिन्न है।

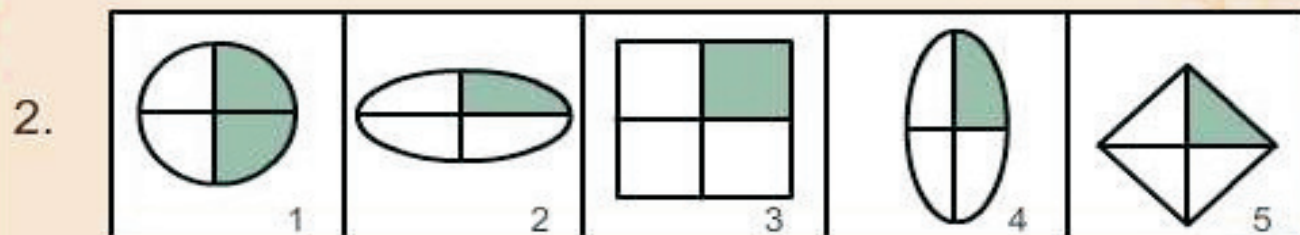


(a) 2

(b) 3

(c) 4

(d) 5

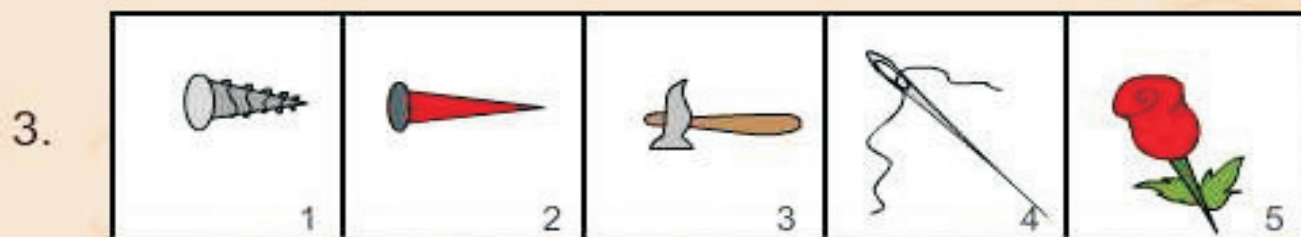


(a) 3

(b) 4

(c) 1

(d) 5



(a) 4

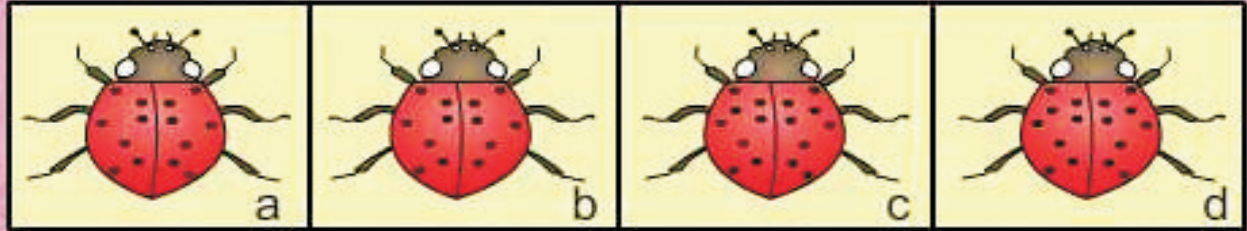
(b) 5

(c) 2

(d) 3

4. Which Lady Bug does not show equal number of dots on both sides of its wings?

किस कीट के पंख के दोनों हिस्सों की बिन्दुओं की संख्या समान नहीं है?



(a) a

(b) b

(c) c

(d) d

(Q.No.5 & 6) Select the related option from the given alternatives.

दिए गए विकल्पों में से सम्बन्धित विकल्प चुनिए।

5) Doctor:  
डॉक्टर



::

Teacher:  
अध्यापक



a



b



c



d

(a) a

(b) b

(c) c

(d) d

6) Children's Day : 14th November :: Teacher's Day : ?

a) 2nd October

b) 26th January

c) 5th September

d) 15th August

बाल दिवस : 14 नवम्बर :: शिक्षक दिवस :

a) 2 अक्टूबर

b) 26 जनवरी

c) 5 सितम्बर

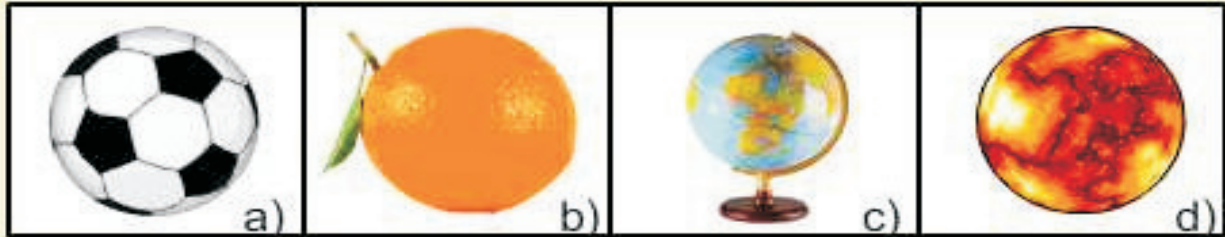
d) 15 अगस्त

Identify and tick the correct option (Q. no. 7 & 8)

पहचान कर सही विकल्प को चिन्हित कीजिए।

7) It is a model of earth.

यह पृथ्वी का मॉडल है।





8) I am known as a flightless bird, I use my small wings for balancing myself.



a) Emu b) Ostrich c) Kiwi d) Penguin

मैं एक न उड़ने वाला पक्षी हूँ। मैं अपने छोटे पंखों का इस्तेमाल अपना सन्तुलन बनाए रखने के लिए करता हूँ।

a) इमू b) ऑस्ट्रिच c) किवी d) पेंग्विन

9) Noori  introduced Md. Zakir  as Maternal uncle of her kids, Tanzeen and Pasha. How is Md. Zakir related to Noori.

a) Brother

b) Cousin

c) Husband

d) Wife

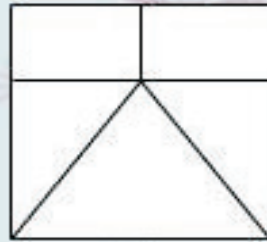
नूरी  ने मौ. जाकिर  की पहचान अपने बच्चों तनजीन व पाशा के मामा के रूप में करवाई।



In which of the following options, the given shape (x) is hidden. (Q.No. 14&15)

नीचे दिए गए विकल्पों में से वह विकल्प चुनिए जिसमें दी गई आकृति (x) छिपी हुई है।

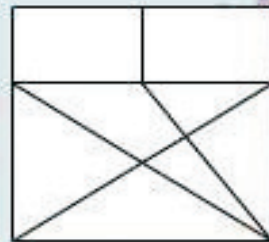
(14)



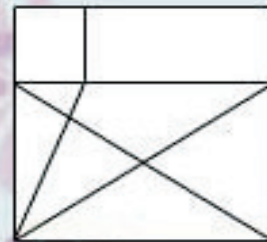
(x)



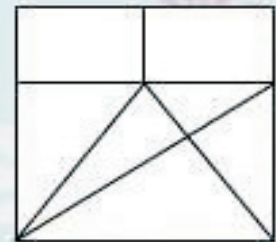
(a)



(b)

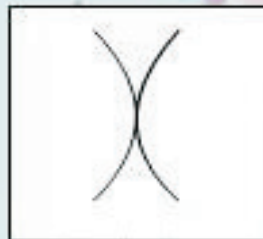


(c)

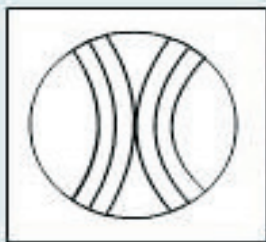


(d)

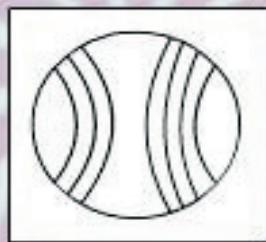
(15)



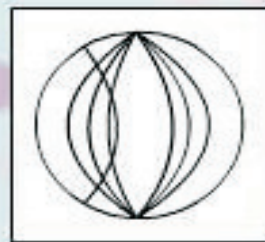
(x)



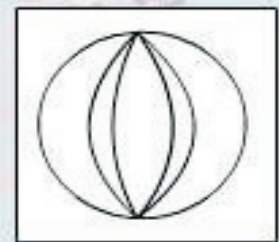
(a)



(b)



(c)



(d)



16) In a certain code ABCD is written as 1234. How will BAD be written in that code?

यदि किसी कूट भाषा में ABCD को 1234 लिखा जाता है तो उसी कूट भाषा में BAD कैसे लिखा जायेगा?

- a) 678                      b) 421                      c) 214                      d) 221

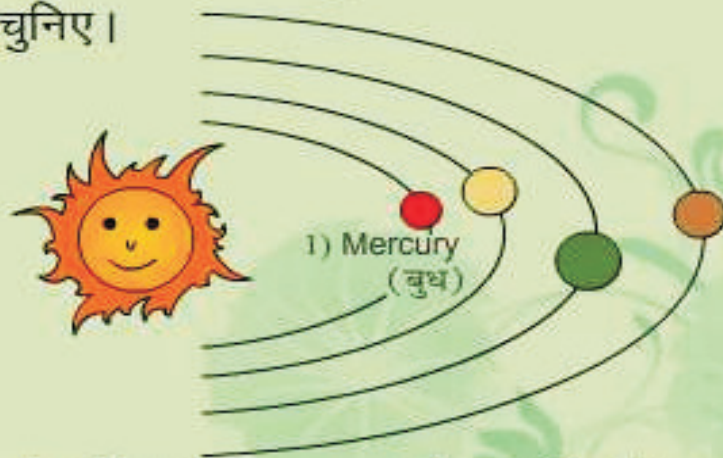
17) If ROSE is written as ESOR then how will you write JASMINE

यदि ROSE को ऐसे ESOR लिखा जाए तो JASMINE कैसे लिखेंगे।

- a) JASNEMI                      b) ENIMSAJ  
c) EMINASJ                      d) None of these (कोई नहीं)

18) Select the order of planets (if at no. 1 it is Mercury) according to their distance from Sun.

यदि नं.1 पर बुध ग्रह है, तो सूर्य से दूरी के आधार पर अन्य ग्रहों का सही क्रम चुनिए।



- a) Earth, Mars, Jupiter                      a) पृथ्वी, मंगल, बृहस्पति  
b) Mars, Venus, Neptune                      b) मंगल, शुक्र, नेप्टून  
c) Venus, Earth, Mars                      c) शुक्र, पृथ्वी, मंगल  
d) Venus, Jupiter, Saturn                      d) शुक्र, बृहस्पति, शनि

Complete the Series. (Q. No. 19-22)

दिए गए क्रम को पूरा कीजिए। (Q. No. 19-22)



a) 12

b) 35

c) 31

d) 45

20) ABZ, CDY, EFX, ?

a) ZBA

b) GHR

c) GHW

d) DAY



(a)



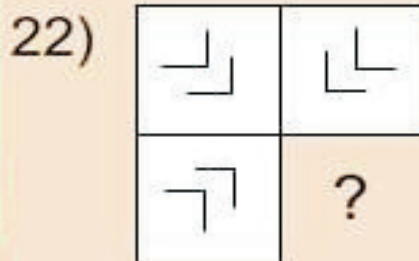
(b)




(c)



(d)




(a)



(b)



(c)




(d)



26) How many mangoes will replace (x) in the given picture?

आकृति में (x) के स्थान पर कितने आम, तरबूज के भार के बराबर होंगे?



- a) 3 Mangoes (आम)    b) 6 Mangoes (आम)  
c) 2 Mangoes (आम)    d) None of these (इनमें से कोई नहीं)

27) The weight of Monkey is 50 Kg. What is the weight of Giraffe shown in given picture?

यदि बन्दर का भार 50 किलोग्राम है। तो चित्र में दिखाए गए जिराफ का भार बताएं।



- a) 300kg (कि.ग्रा.)    b) 350kg (कि.ग्रा.)  
c) 250kg (कि.ग्रा.)    d) 200 kg (कि.ग्रा.)

28) Sunita Williams and Kalpana Chawla went to space in a \_\_\_\_\_

सुनीता विलियम और कल्पना चावला अन्तरिक्ष में निम्न में से किस साधन द्वारा गईं?

a) Train



b) Rocket



c) Ship



d) Aeroplane



29) Which of the following will sink in water?

a) Leaf      b) Log      c) Nail      d) Feather

निम्न में से कौन सी वस्तु पानी में डूब जायेगी?

a) पत्ती      b) लकड़ी का टुकड़ा      c) कील      d) पंख

30) Tick the pair in which 'Predator-Prey' relationship does not exist.

a) Cat - Mouse      b) Cow- Zebra

c) Crane - Fish      d) Lion-Deer

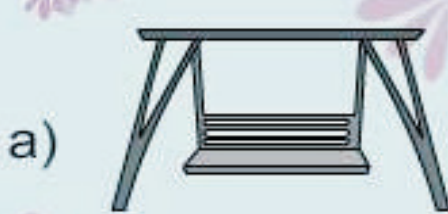
नीचे दिए गए जोड़ों में से कौन किसका आहार नहीं है?

a) बिल्ली - चूहा      b) गाय - जैब्रा

c) क्रेन - मछली      d) शेर - हिरण

31) Which of the following is not showing circulatory motion?

निम्न चित्रों में से कौन सा वर्तुलगति को प्रदर्शित नहीं करता है?



32) The clock shown below is 25 minutes faster than the correct time. what is the correct time?

यदि नीचे दिखाई गयी घड़ी सही समय से 25 मिनट आगे हैं तो इस समय कितना बज रहा है?



a) 8:00 o'clock

b) 8:10 o'clock

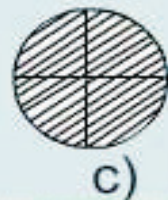
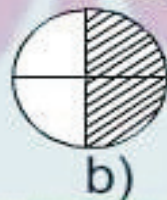
c) 7:20 o'clock

d) 7:45 o'clock

33) Water Covers \_\_\_\_\_ part of the Earth.

पृथ्वी का ..... भाग पानी से ढका हुआ है।

(  represents water,  पानी दर्शाता है। )



34) Oops! this is a wrong combination. Tick the wrong one.

इनमें से कौन सा युग्म गलत है?




(a)



(b)



(c)



(d)

35) Which one is different?

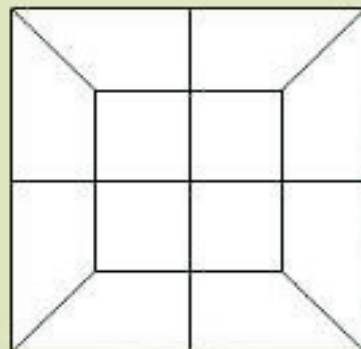
a) Jute    b) Cotton    c) Coir    d) Wool

निम्न में कौन सा भिन्न है?

a) जूट    b) कपास    c) नारियल का रेशा    d) ऊन

36) Count the number of squares in given picture.

निम्न आकृति में कितने वर्ग हैं?



a) 4

b) 5

c) 10

d) 9

37) Select the right match -

सही विकल्प चुनिए -

1.



a) Bullock Cart

बैलगाड़ी

2.



b) Cycle

साइकिल

3.



c) Motorcycle

मोटर साइकिल

a) 1A, 2B, 3C

b) 1B, 2C, 3A

c) 1C, 2B, 3A

d) 1A, 2C, 3B

38) Which is the shortest route for butterfly to reach the flower?

तितली को फूल तक पहुँचाने का सबसे छोटा रास्ता बताएं।



a) 1

b) 3

c) 4

d) 2



39) Select the right match.

सही विकल्प चुनिए।

1. a) Desert Plant 2.

मरुस्थलीय पौधा



b) Insectivorous Plant

कीटभक्षी पौधा



3. c) Aquatic Plant

जलीय पौधा



a) 1B, 2A, 3C

b) 1C, 2A, 3B

c) 1A, 2B, 3C

d) 1B, 2C, 3A

40) Recognize the state through which this train is passing by.

दिखाई गई रेलगाड़ी किस राज्य से होकर गुजर रही है?



a) Chennai

a) चेन्नई

b) Delhi

b) दिल्ली

c) Punjab

c) पंजाब

d) Uttar Pradesh

d) उत्तर प्रदेश

# Key to qualitative stand alone MCQ's

Q. No.

Answer

- 1 (b)
- 2 (c)
- 3 (b)
- 4 (b)
- 5 (a)
- 6 (c)
- 7 (c)
- 8 (d)
- 9 (a)
- 10 (c)
- 11 (c)
- 12 (c)
- 13 (c)
- 14 (d)
- 15 (a)
- 16 (c)
- 17 (b)
- 18 (c)
- 19 (b)
- 20 (c)
- 21 (d)
- 22 (c)
- 23 (c)

Q. No.

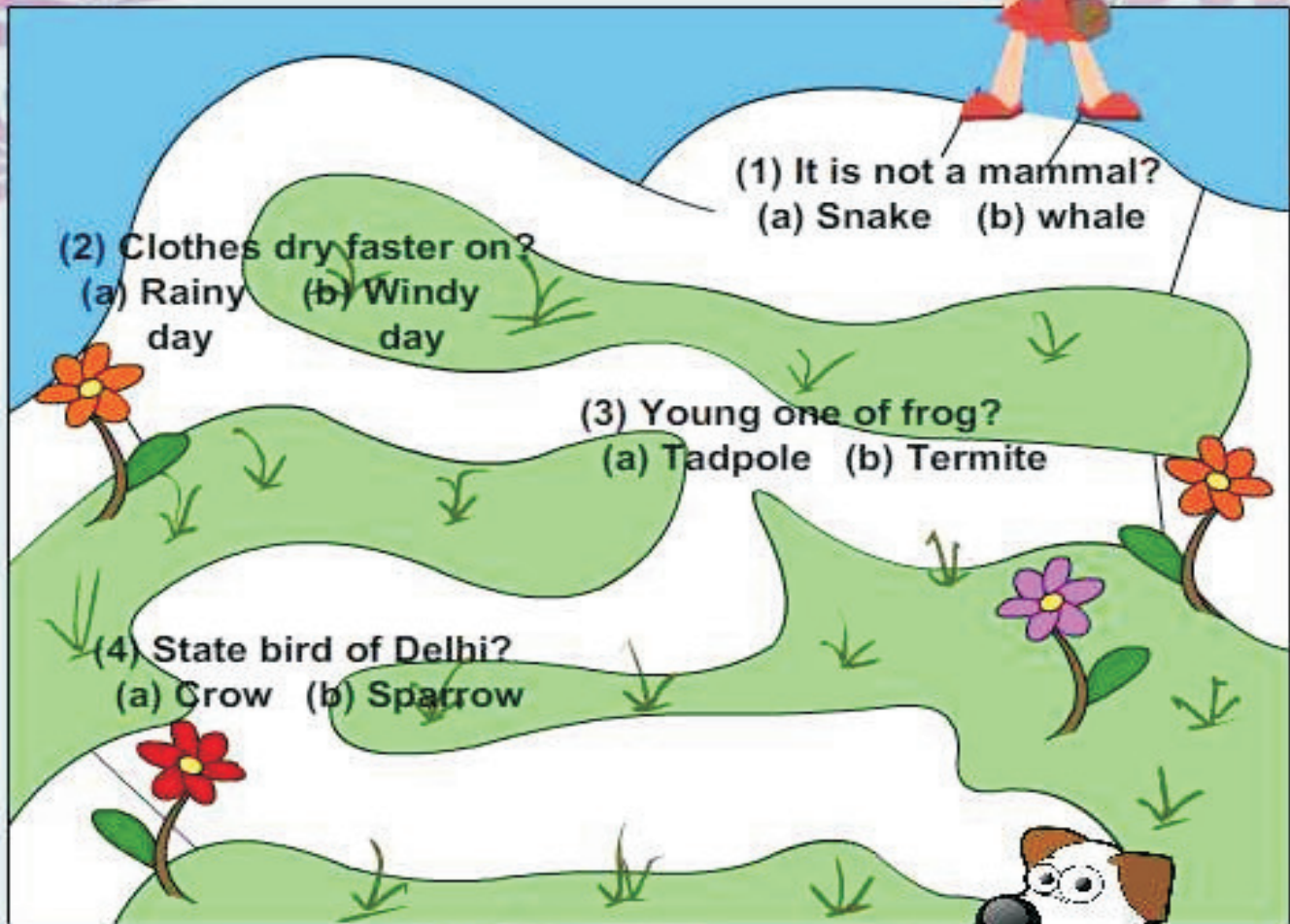
Answer

- 24 (b)
- 25 (d)
- 26 (a)
- 27 (c)
- 28 (b)
- 29 (c)
- 30 (b)
- 31 (a)
- 32 (c)
- 33 (d)
- 34 (b)
- 35 (d)
- 36 (c)
- 37 (b)
- 38 (b)
- 39 (d)
- 40 (b)

# PASSAGE - 1

16

Meeta has a pet named Mars. Help Meeta in finding her way to reach Mars by answering questions that come in between.



## PASSAGE - 1

17

मीता के पालतू कुत्ते का नाम मार्स है। मीता को मार्स तक पहुँचने के लिए कुछ प्रश्नों के उत्तर देने होंगे। आप उसकी मदद कीजिए।



(1) यह स्तनधारी जीव नहीं है  
(A) साँप (B) व्हेल

(2) कपड़े जल्दी सूखेंगे  
(A) बरसात में (B) हवा चलने पर

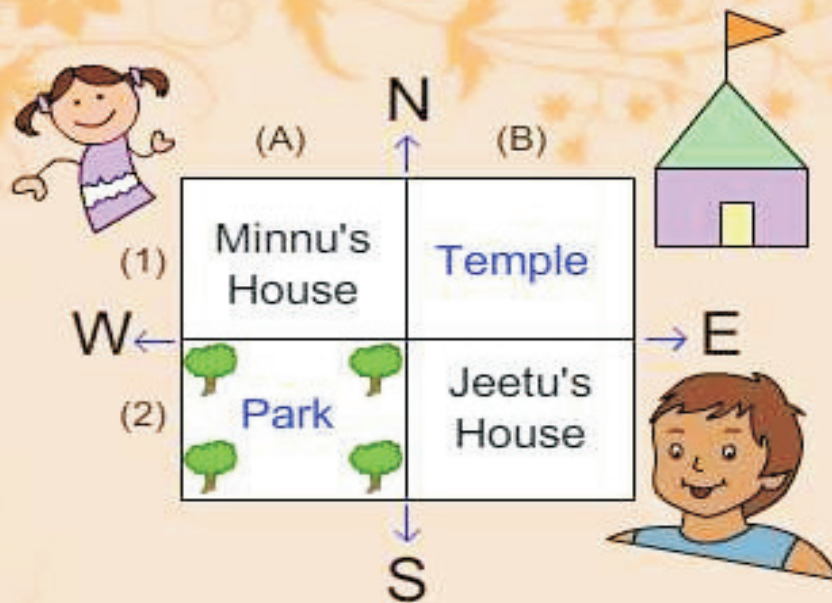
(3) मेंढक का शिशुरूप  
(A) टैंडपोल (B) दीमक

(4) दिल्ली का राजकीय पक्षी  
(A) कौआ (B) गौरैया



## PASSAGE - 2

18

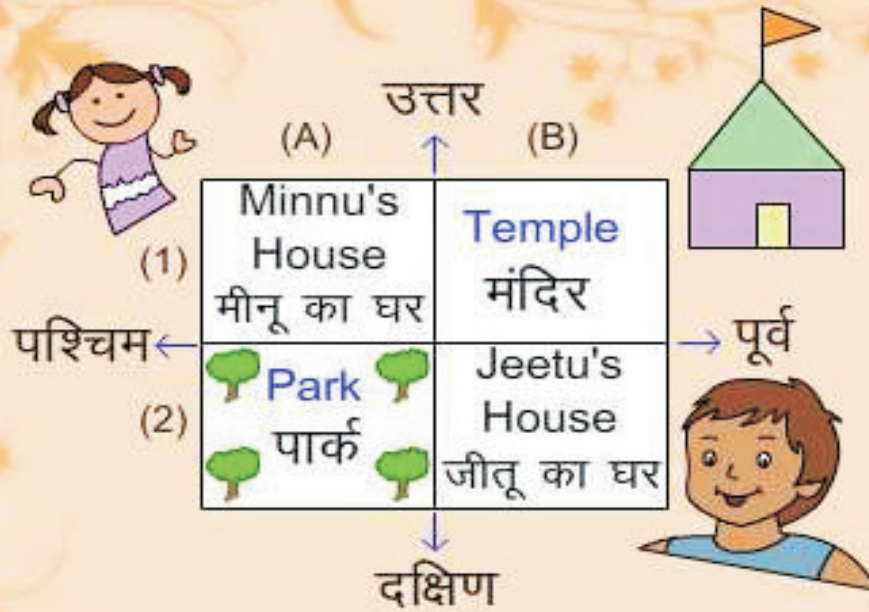


Look at the map of Minnu and Jeetu's house carefully. Now answer the following questions -

- Park is in \_\_\_\_\_ side of Minnu's house  
a) East    b) West    c) North    d) South
- If location of Park is A2, then find the location of Jeetu's house?  
a) A1    b) B2    c) B1    d) A2
- Jeetu is going from his house to temple. In which direction is he moving?  
a) East    b) North    c) West    d) South
- There is a flag at the top of temple. Which direction is it showing?  
a) North    b) East    c) West    d) South

## PASSAGE - 2

19



मीनू और जीतू के घर के नक्शे को ध्यान से देखें। नीचे दिए गए प्रश्नों के उत्तर दें।

1) पार्क, मीनू के घर की ..... दिशा में है?

- a) पूर्व      b) पश्चिम      c) उत्तर      d) दक्षिण

2) यदि नक्शे के अनुसार पार्क की स्थिति A2 है तो जीतू का घर कहां स्थित है?

- a) A1      b) B2      c) B1      d) A2

3) जीतू अपने घर से मंदिर जा रहा है। वह किस दिशा में चल रहा है?


- a) पूर्व      b) उत्तर      c) पश्चिम      d) दक्षिण

4) मंदिर पर एक झंडा लगा हुआ है। वह किस दिशा को दर्शा रहा है?

- a) उत्तर      b) पूर्व      c) पश्चिम      d) दक्षिण

## PASSAGE - 3

20



Some children were asked which kind of television programmes were their favourite.

Look at the circle graph (pie chart) that gives their replies.

1. Which programme is highly liked by children?

- a) Cartoon      b) Sports      c) News      d) Science

2. Which two programmes are equally liked by children?

- a) Cartoon & Sports      b) News and Reality  
c) Science and Reality Shows      d) None

3. How many total number of students were asked of their favourite programme?

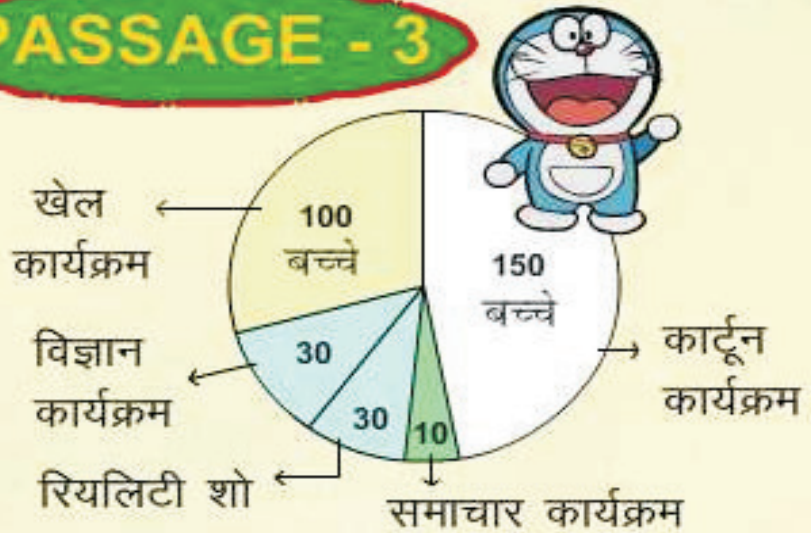
- a) 160      b) 260      c) 60      d) 320

4. Which type of programme is least liked by them?

- a) Sports      b) News      c) Science      d) Reality Shows

## PASSAGE - 3


21



कुछ बच्चों से उनके मनपसंद टेलीविजन कार्यक्रम के बारे में पूछा गया। उपरोक्त पाई चार्ट को देखकर निम्न प्रश्नों के उत्तर दें।

- कौन सा कार्यक्रम बच्चों द्वारा सर्वाधिक देखा जाता है?  
a) कार्टून      b) खेल      c) समाचार      d) विज्ञान
- कौन से दो कार्यक्रम बच्चों द्वारा समान रूप से पसंद किए गए?  
a) कार्टून और खेल      b) समाचार और रियलिटी शो  
c) विज्ञान और रियलिटी शो      d) कोई नहीं।
- कुल कितने बच्चों से उनके मनपसंद कार्यक्रम के बारे में पूछा गया।  
a) 160      b) 260      c) 60      d) 320
- किस प्रकार के कार्यक्रम बच्चों द्वारा सबसे कम पसंद किए गए।  
a) खेल      b) समाचार      c) विज्ञान      d) रियलिटी शो





Payal has drawn this geometrical dog. Can you help her different shapes she has used in counting in making it?  
 पायल ने एक ज्यामितीय आकृति बनाई। क्या आप यह गिनने में उसकी सहायता कर सकते हैं कि उसने कौन सी आकृति कितनी बार बनाई?

1. Number of Circles, She has drawn?

पायल ने कितने वृत्त बनाए?

- a) 3                      b) 4                      c) 6                      d) 7

2. Number of triangles used?

इस आकृति में त्रिकोण कितने हैं?

- a) 2                      b) 4                      c) 5                      d) 7

3. Number of rectangles, used to complete the figure.

कितने आयतों का इस्तेमाल, चित्र को पूरा करने में किया गया?

- a) 4                      b) 7                      c) 5                      d) 6

4. Which shape is used least?

23


कौन सी आकृति सबसे कम बनाई गई?



a)



b)



c)



d)

### PASSAGE - 5

R	L	O	Q	M	T
J	A	I	P	U	R
A	B	C	D	M	E
P	F	I	J	B	K
A	G	H	M	A	L
N	O	A	S	I	A

Identify the name of places in the grid with the help of clues given and select the correct option.

1) The largest continent of the world

- a) Europe   b) Asia   c) North America   d) Africa

2) The Pink City of India.

- a) Agra   b) Jodhpur   c) Jaipur   d) Chandigarh

3) The land of rising sun

- a) Japan   b) Bhutan   c) Korea   d) China

4) Famous Gateway of India is the pride of which city.

- a) Delhi   b) Kolkata   c) Hyderabad   d) Mumbai

ज	य	पु	र	क	मुं
ख	ग	घ	च	छ	ब
ज	र	च	म	न	ई
पा	य	ल	ट	स	ड
न	फ	व	ह	ब	ध
प	भ	ए	शि	या	ठ

दिए गए संकेतो द्वारा जगह पहचानिए। सही उत्तर को ऊपर बने हुए वर्ग में ढूँढे तथा सही विकल्प पर चिह्न लगाएं।

1- दुनिया का सबसे बड़ा महाद्वीप

a) यूरोप b) एशिया c) उत्तर अमेरिका d) अफ्रीका

2- भारत का गुलाबी शहर

a) आगरा b) जोधपुर c) जयपुर d) चंडीगढ़

3- उगते सूरज का देश

a) जापान b) भूटान c) कोरिया d) चीन

4- गेटवे आफ इंडिया शान है जिसकी

a) दिल्ली b) कोलकत्ता c) हैदराबाद d) मुंबई

**Passage - 1**

Q. No. Answer

1. (A)
2. (B)
3. (A)
4. (B)

**Passage -2**

Q. No. Answer

1. (D)
2. (B)
3. (B)
4. (B)

**Passage - 3**

Q. No. Answer

1. (A)
2. (C)
3. (D)
4. (B)

**Passage - 4**

Q. No. Answer

1. (D)
2. (D)
3. (B)
4. (B)

**Passage - 5**

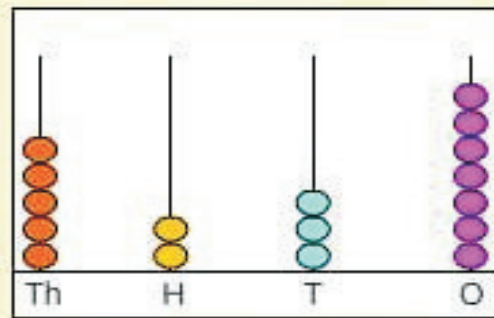
Q. No. Answer

1. (B)
2. (C)
3. (A)
4. (D)

**Section - B**  
**Quantitative Reasoning**  
**STAND ALONE MCQ**

1. Which number is represented by given abacus?

दिया गया अबेकस किस संख्या को प्रदर्शित करता है?



- a) 2357                      b) 5237                      c) 5327                      d) 7325

2. In the given balloon chain, which number is more than 745 but less than 900?

दी गई गुब्बारों की माला में कौन सी संख्या 745 से अधिक और 900 से कम है?



3. Study the pattern and choose the appropriate answer.

पैटर्न को देखकर उचित विकल्प चुनिए।



- a) 6                      b) 7                      c) 5                      d) 10

4. Which box has smallest value?

किस बॉक्स का मान न्यूनतम है?

5000+300+80	3000+700+20	3000+400+80	4000+100+40
(a)	(b)	(c)	(d)

5. If  $\boxed{\text{Ice Cream} + \text{Ice Cream} + \text{Ice Cream}} = 51$ , then what is the value of  $\boxed{\text{Ice Cream}}$  ?

यदि  $\boxed{\text{Ice Cream} + \text{Ice Cream} + \text{Ice Cream}} = 51$  हो तो  $\boxed{\text{Ice Cream}}$  का मान क्या होगा?

- a) 15      b) 19      c) 17      d) 23

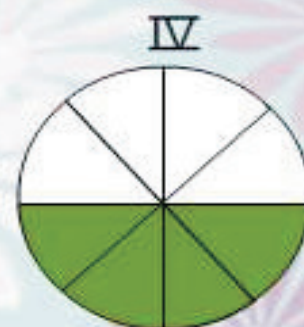
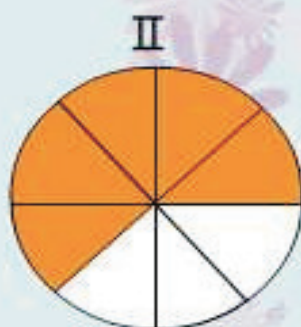
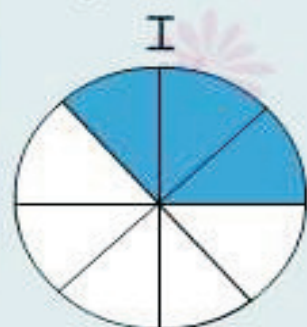
6. The angle formed by hands of clock at 1:15 pm is \_\_\_\_\_  
सांय 1:15 बजे घड़ी की सुइयों द्वारा बनाया गया कोण ..... है।



- a) Acute angle      b) Obtuse angle  
c) Straight Angle      d) Right angle
- a) न्यून कोण      b) अधिक कोण  
c) सरल कोण      d) सम कोण

7. Arrange in ascending order

बढ़ते क्रम में व्यवस्थित करो।



a) I, III, II, IV

b) II, IV, I, III

c) III, II, I, IV

d) III, I, IV, II

8. The flowers in the pots are multiples of which number?

गुलदस्ते में फूल किस संख्या के गुणज हैं?



a) 4

b) 2

c) 3

d) 5

9. Replace \* with correct number

\* के लिए उचित संख्या लिखिए

$$\begin{array}{r}
 6787503 \\
 + 2130*48 \\
 \hline
 8918051
 \end{array}$$

a) 5

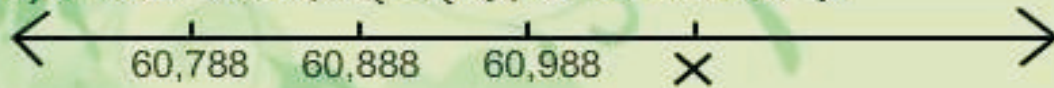
b) 6

c) 4

d) 3

10. Diagram below shows a number line. What is the value of X ?

नीचे एक संख्या रेखा दिखाई गई है। X का मान क्या है?



- a) 61,008                      b) 61,088  
c) 61,889                      d) 61,988

11. On a particular day, 128 boxes of apples were sold in a market. If each box can hold 23 apples, what was the total number of apples sold on that day?

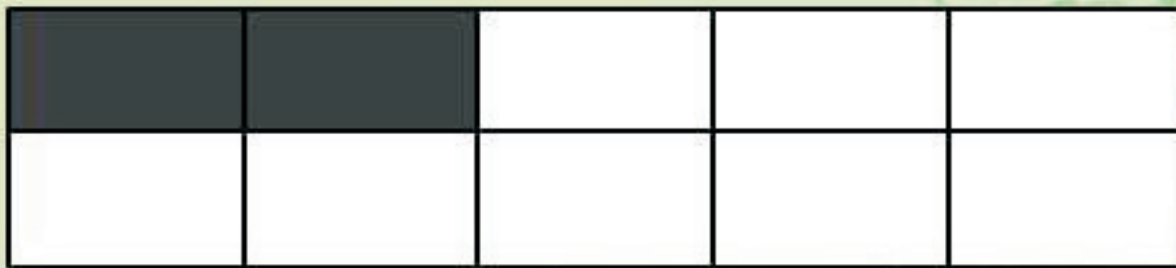
किसी एक निश्चित दिन, मार्केट में बेचे गए सेबों के बॉक्सों की संख्या 128 है।

यदि एक बॉक्स में 23 सेब हों तो उस दिन बेचे गए सेबों की संख्या क्या थी?

- a) 2944                          b) 2946  
c) 2842                          d) 2494

12. Shaded portion represents which fraction?

छायांकित भाग किस भिन्न को दर्शाता है?





- a)  $1/10$                           b)  $1/5$   
c)  $2/4$                           d)  $2/5$



13. Which is a better buy?

कौन सा सौदा उचित है?

- |    |   |   |
|----|---|---|
| a) |  | a) 2 balls for Rs. 30<br>30 रु. में 2 गेंदे |
| b) |  | b) 4 balls for Rs. 40<br>40 रु. में 4 गेंदे |
| c) |  | c) 5 balls for Rs. 60<br>60 रु. में 5 गेंदे |
| d) |  | d) 6 balls for Rs. 65<br>65 रु. में 6 गेंदे |

14. The number of lines of symmetry in the following figure is

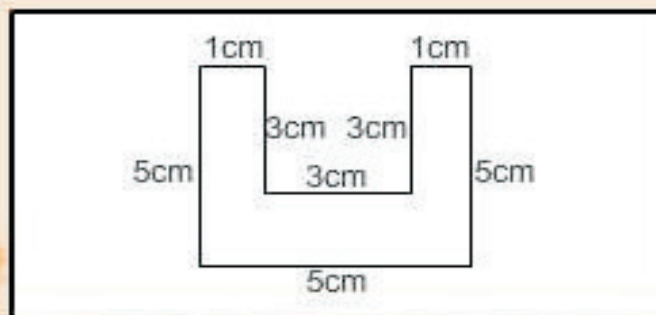
निम्न आकृति में सममित अक्षों की संख्या..... है।



- a) 0      b) 1      c) 2      d) Infinite (अनगिनत)

15. The perimeter of following figure is \_\_\_\_\_

निम्नलिखित आकृति का परिमाप ..... है।



- a) 23 cm      b) 26 cm      c) 20 cm      d) 28 cm

16. On his birthday, Arun brought 91 chocolate to distribute in his class. He distributed  $\frac{5}{7}$  chocolates to the boys. How many chocolates did boys get?



अपने जन्मदिवस पर अरुण अपनी कक्षा में बांटने के लिए 91 चॉकलेट लाया। चॉकलेट की संख्या  $\frac{5}{7}$  उसने लड़कों में बांटी। लड़कों को कितनी चॉकलेट मिली?

- a) 45                      b) 25                      c) 35                      d) 65

17. 5 tens = \_\_\_\_\_  
5 दहाई = .....

- a) 5000/100                      b) 5000/10  
c) 5000/1000                      d) 50/10

18. 31 Students are standing in a line. Ajay is in the middle of line. What is his position from left as well as right?

31 विद्यार्थी एक पंक्ति में खड़े हैं। अजय पंक्ति के मध्य में खड़ा है। दायें अथवा बायें से उसका स्थान कौन सा है?



- a) 15th                      b) 10th                      c) 16th                      d) 17th  
a) 15वां                      b) 10वां                      c) 16वां                      d) 17वां

19. 8:15 PM in 24 hour clock is \_\_\_\_\_

सांय 8:15 का समय, 24 घंटे की घड़ी के अनुसार ..... होगा।


- a) 8015 hours                      b) 0815 hours  
c) 2015 hours                      d) 2105 hours

20. The smallest six digit number formed by using the digits 9,2,5,4,7,0 is (repetition of digits is not allowed)  
 अंको 9,2,5,4,7,0 का प्रयोग करके बनी 6 अंको की सबसे छोटी संख्या ..... है।  
 (अंको को दोहराये बिना)

- a) 975420                      b) 579402  
 c) 204579                      d) 024579

21. Rashi picked four of the flowers given below and wrote two fractions to represent the part of group of flowers she picked. Which two fractions she could have written?

राशि ने नीचे दिए गए फूलों में से चार फूल लिए और इन निकाले गए फूलों के भाग को प्रदर्शित करने के लिए उसने दो भिन्न लिखे। उसने कौन से दो भिन्न लिखे होंगे?



- a)  $\frac{1}{2}$  and  $\frac{4}{8}$                       b)  $\frac{1}{2}$  and  $\frac{2}{8}$   
 c)  $\frac{4}{8}$  and  $\frac{1}{4}$                       d)  $\frac{4}{8}$  and  $\frac{2}{8}$

22. Cost of 180 books is Rs. 5400. The cost of 350 such books is \_\_\_\_\_


180 पुस्तकों का मूल्य 5400 रुपये है। ऐसी 350 पुस्तकों का मूल्य है -----



- a) Rs 9,200    b) Rs 10,200    c) Rs 95,00    d) Rs 10,500

23. A, B, C and D are trees fixed at equal distances. Three cars are parked between A and B as shown. How many more cars can be parked between A and D.

A, B, C और D बराबर दूरियों पर खड़े पेड़ हैं। यदि A और B के बीच तीन कारें खड़ी की गई हैं, जैसा कि दिखाया गया है तो A और D के बीच और कितनी कारें खड़ी की जा सकती हैं?



a) 6

b) 9

c) 12

d) 14

24. If  $256 * 2 = 128$  and  $369 * 3 = 123$ , Then  $605 * 5 =$  \_\_\_\_\_

यदि  $256 * 2 = 128$  और  $369 * 3 = 123$ , तो  $605 * 5 =$  \_\_\_\_\_

a) 610

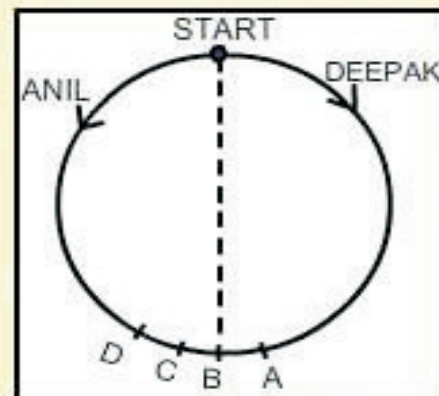
b) 111

c) 121

d) 3025

25. Anil and Deepak start running in opposite directions in a circular track from same point and at same time. Anil is a faster runner. Where are they likely to meet?

अनिल और दीपक एक ही स्थान से एक ही समय पर विपरीत दिशा में भागते हैं। यदि अनिल दीपक से तेज भागता है तो वे एक दूसरे को किस बिन्दु पर मिलेंगे?



a) A

b) B

c) C

d) D

26. \_\_\_\_\_ Gas protects us from the harmful rays of sun.

..... गैस सूर्य की हानिकारक किरणों से हमारी रक्षा करती हैं।

- a) Oxygen      b) Nitrogen      c) Ozone      d) Carbon Dioxide  
 a) ऑक्सीजन      b) नाइट्रोजन      c) ओजोन      d) कार्बन डाइऑक्साइड

27. Oldest animal which remained unchanged on earth for about 250,000,000 years is \_\_\_\_\_

- a) Turtle      b) Kiwi      c) Cockroach      d) Siberian Crane

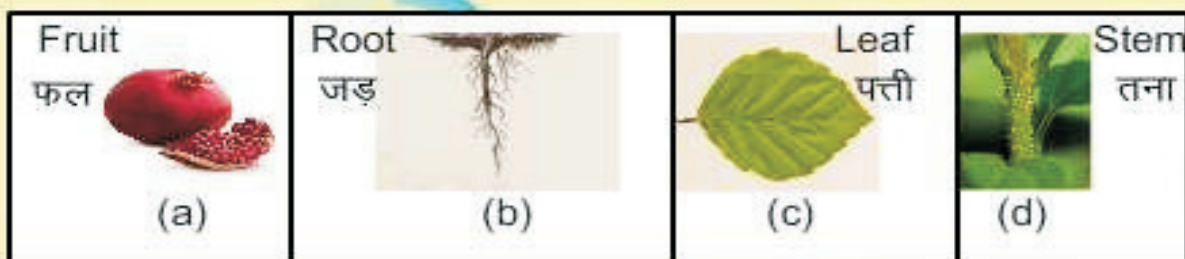


निम्न में से किस प्राचीन जीव में 250,000,000 सालों से कोई बदलाव नहीं आया।

- a) कछुआ      b) कीवी      c) कोंकरोच      d) साइबेरियन क्रैन

28. Which of the following part of plant protects the seeds?

नीचे दिए गए पौधे के भागों में कौन सा भाग बीज को सुरक्षित रखता है?



29. X-Ray is prescribed by a doctor in case of :

- (a) Fracture      (b) Headache      (c) Burns      (d) Dogbite

निम्न में से किस स्थिति में डॉक्टर एक्स-रे की सलाह देता है?

- a) हड्डी टूटना      b) सिर दर्द      c) जलना      d) कुत्ते का काटना

30. \_\_\_\_\_ is a good conductor of electricity.  
 a) Rubber      b) Wood      c) Copper      d) Cork

..... विद्युत का अच्छा चालक है।

a) रबड़      b) लकड़ी      c) ताँबा      d) कॉर्क

31. Guess who I am?

I grow in sandy soil in coastal areas

a) Tea      b) Rice      c) Cotton      d) Coconut



मैं समुद्र के किनारे रेतीली भूमि में उगाया जाता हूँ। मैं कौन हूँ?

a) चाय      b) चावल      c) रुई      d) नारियल

32. Divya is watching a T.V. The senses used by her in this situation are


a) Smell and hearing      b) Hearing and Touch  
 c) Touch and Sight      d) Hearing and Sight



दिव्या टीवी देख रही है। इस स्थिति में उसके द्वारा इस्तेमाल की जाने वाली ज्ञानेन्द्रियाँ कौन सी हैं?

a) सूँघना और सुनना      b) सुनना और छूना  
 c) छूना और देखना      d) सुनना और देखना

33. Anshu was playing with a toy and he observed that it was attracted by a magnet. The toy was made up of



a) Plastic    b) Iron    c) Cotton    d) Clay

अंशु एक खिलौने के साथ खेल रहा था और उसने देखा कि वह खिलौना चुम्बक की तरफ आकर्षित हो गया। खिलौना..... का बना था।

a) प्लास्टिक    b) लोहे    c) रुई    d) मिट्टी

34. The food cooked in solar cooker uses the energy of \_\_\_\_\_

सौर कुकर में बनाया गया खाना ..... की ऊर्जा का प्रयोग करता है।

a) Sound    b) Sun    c) Electricity    d) Water

a) ध्वनि    b) सूर्य    c) विद्युत    d) जल



35. If we add a lot of green leaves and vegetables to our food, we will grow

a) Fat and round  
b) Thin and weak  
c) Healthy and disease free  
d) All of these



यदि हम अपने भोजन में हरी पत्तेदार सब्जियाँ अधिक मात्रा में लें तो हम किस प्रकार बढ़ेंगे?

a) मोटे और गोल    b) पतले और दुर्बल  
c) स्वस्थ और रोग मुक्त    d) उपरोक्त सभी

36. Mohit eats rice daily in all his meals. Suggest which major nutrient he takes daily.

- a) Carbohydrates      b) Proteins  
c) Fats                      d) Vitamins



मोहित प्रतिदिन अपने हर भोजन में चावल खाता है। बताइए कि वह कौन सा पोषक तत्व अधिक मात्रा में प्रतिदिन लेता है।

- a) कार्बोहाइड्रेट                      b) प्रोटीन  
c) वसा                                      d) विटामिन

37. Rahul visited doctor's clinic and saw the human skeleton. He observed that \_\_\_\_\_ is not the part of human skeleton.



- a) Skull      b) Backbone      c) Ribcage      d) Ears.

राहुल डॉक्टर के क्लिनिक पर गया और वहां उसने मानव कंकाल तंत्र देखा। उसने पाया कि ..... मानव कंकाल तंत्र का भाग नहीं है।

- a) खोपड़ी      b) मेरुदंड                      c) पसलियाँ                      d) कान

38. Neha accidentally touched hot utensil and immediately pulled away her hand. This was due to

- a) Repulsion of metal of utensil  
b) Attraction of metal of utensil  
c) Metal was bright  
d) Reflex action



नेहा गलती से गर्म बर्तन को छू लेती है और अचानक ही अपना हाथ हटा लेती है। यह किस कारण होता है?

- a) बर्तन की धातु का प्रतिकर्षण  
b) बर्तन की धातु का आकर्षण  
b) बर्तन की चमक  
b) प्रतिवर्ती क्रिया



39. Arrange the following water bodies in ascending order according to their size.

I) Lake II) Pond III) Ocean IV) River

निम्नलिखित जल स्रोतों को उनके आकार के अनुसार बढ़ते क्रम में लिखो।

I) झील II) तालाब III) समुद्र IV) नदी



a) I, II, III, IV

b) III, I, IV, II

c) II, I, IV, III

d) III, IV, I, II

40. Figure given below shows few organisms in a nature.

निम्न आकृति में प्रकृति में पाए जाने वाले कुछ जीवों के चित्र हैं।



The correct food chain is -

सही आहार श्रृंखला इस प्रकार है -

a) A → B → C → D

b) D → C → B → A

c) B → A → C → D

d) D → C → A → B

## Answer Key to Quantitative Stand Alone MCQ's

39

- |         |         |         |         |         |
|---------|---------|---------|---------|---------|
| 1.(b)   | 2. (c)  | 3. (d)  | 4. (c)  | 5. (c)  |
| 6. (a)  | 7. (d)  | 8. (b)  | 9. (a)  | 10. (b) |
| 11. (a) | 12. (b) | 13. (b) | 14. (b) | 15. (b) |
| 16. (d) | 17. (a) | 18. (c) | 19. (c) | 20. (c) |
| 21. (a) | 22. (d) | 23. (a) | 24. (c) | 25. (a) |
| 26. (c) | 27. (c) | 28. (a) | 29. (a) | 30. (c) |
| 31. (d) | 32. (d) | 33. (b) | 34. (b) | 35. (c) |
| 36. (a) | 37. (d) | 38. (d) | 39. (c) | 40. (b) |

PASSAGE NO. 1



Suraj's mother invited his friends on birthday party. His mother baked pizzas and burgers for 30 children (including Suraj). She also served juice to his friends. After the party, she gave gifts to all his friends. They all shared equally. Answer the following questions based on the above passage.

सूरज की मां ने दोस्तों को उसके जन्मदिन पर आमंत्रित किया। उसकी मां ने 30 बच्चों (दोस्तों को मिलाकर)के लिए पिजा और बर्गर बनाए। उसकी मां ने उन्हें जूस भी दिया। पार्टी के बाद सभी दोस्तों को गिफ्ट भी दिए। सभी को सभी चीजे बराबर मिली। अनुच्छेद पढ़कर निम्नलिखित प्रश्नों के उत्तर दीजिए।

(1)



If one child gets  $\frac{1}{3}$ rd of a pizza, the number of Pizzas baked by his mother are \_\_\_\_\_

यदि प्रत्येक बच्चे को पिजा का  $\frac{1}{3}$  भाग मिला, तो उसकी मां द्वारा बनाए गए पिजा की संख्या..... है।

- a) 15      b) 8      c) 10      d) 5

(2)



If each child gets  $\frac{1}{2}$  of a burger, then the number of burgers prepared by his mother are \_\_\_\_\_

यदि प्रत्येक बच्चे को बर्गर का  $\frac{1}{2}$  भाग मिलता है, तो उसकी मां द्वारा बनाए गए बर्गरों की संख्या.....है।

- a) 20      b) 10      c) 30      d) 15

(3) If total 3 bottles of juice are served, among all children 41 then one bottle of juice is divided into how many glasses?



यदि जूस की कुल 3 बोतलें सभी बच्चों में पूरा हों गई हों तो एक बोतल से भरे गिलासों की संख्या कितनी होगी?

- a) 10      b) 12      c) 15      d) 5


(4) If there are total 60 toys, then each child will get how many toys?




यदि कुल खिलौनों की संख्या 60 हो तो प्रत्येक बच्चे को कितने खिलौने मिलेंगे?

- a) 3      b) 2      c) 4      d) 5

### PASSAGE NO. 2

In Rohini Sector 2, there are six pockets from A to F. The number of flats in each pocket is given in the form of a picture of a house. Each  represents 100 flats. The Pictorial representation is as follows :-

रोहिणी सैक्टर 2 में A से F तक छः पॉकेट हैं। प्रत्येक पॉकेट में फ्लैटों की संख्या को एक घर के चित्र द्वारा दर्शाया गया है। प्रत्येक  100 फ्लैट प्रदर्शित करता है।

POCKET A	
POCKET B	
POCKET C	
POCKET D	
POCKET E	
POCKET F	

1. How many flats are there in Pocket A?

पॉकेट A में कितने फ्लैट हैं?

- a) 3      b) 3000      c) 30      d) 300

2. Which pocket has maximum flats?

किस पॉकेट के अधिकतम फ्लैट हैं?

- a) Pocket A      b) Pocket F      c) Pocket E      d) Pocket D

3. Number of flats in Rohini Sector 2 are -

रोहिणी सेक्टर -2 में फ्लैटों की संख्या - है।

- a) 24      b) 2400      c) 240      d) 24000

4. If 4 people live in each flat of Pocket F, then number of people living in Pocket F are -

यदि पॉकेट F में प्रत्येक फ्लैट में चार सदस्य रहते हैं, तो पॉकेट F में कुल सदस्यों की संख्या - है।

- a) 2000      b) 1200      c) 2800      d) 800



Study the picture carefully and answer the following

चित्र को ध्यान से पढ़कर निम्नलिखित के उत्तर दो –

1. What is the value of note?

नोट का मान क्या है?

- a) ₹ 1000    b) ₹ 500    c) ₹ 10000    d) ₹ 2000

2. Whose face do you see here?

- a) Father of Nation    b) President  
c) Prime Minister    d) Chief Minister

आप नोट पर किसका चेहरा देखते हो?

- a) राष्ट्रपिता    b) राष्ट्रपति    c) प्रधानमंत्री    d) मुख्यमंत्री

3. What is the serial No. of this note?

इस नोट की क्रम संख्या क्या है?

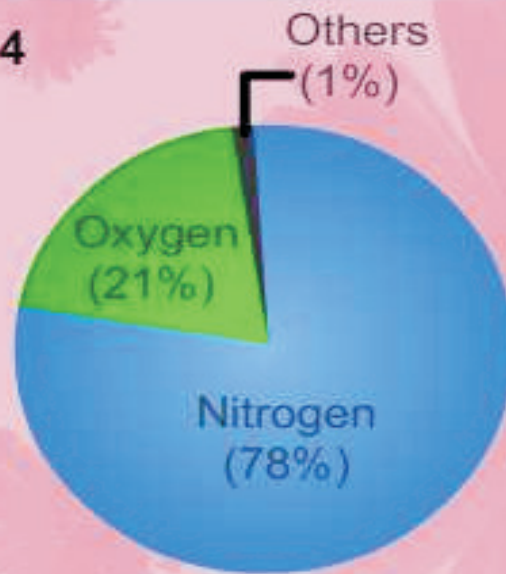
- a) JFG654792    b) JGF 654792    c) JGF 654729    d) JFG645792

4. Which bank has printed this note?

- a) Punjab National Bank    b) State Bank of India  
c) Reserve Bank of India    d) Union Bank of India

इस नोट को किस बैंक ने छापा है?

- a) पंजाब नेशनल बैंक    b) भारतीय स्टेट बैंक  
c) भारतीय रिज़र्व बैंक    d) भारतीय यूनियन बैंक



Air is a mixture of various gases. The two main gases present in the atmosphere are nitrogen and oxygen. Carbon dioxide, water vapour and some other gases are present in small quantities. Nitrogen is an important plant nutrient. Oxygen is needed by living things to breathe. It is also needed for burning.

वायु विभिन्न प्रकार की गैसों का मिश्रण है। हमारे वायुमंडल में पाई जाने वाली दो प्रमुख गैसें नाइट्रोजन और ऑक्सीजन हैं। कार्बन डाईऑक्साइड, जल वाष्प और कुछ अन्य गैसों कम मात्रा में पाई जाती हैं। नाइट्रोजन पौधों का मुख्य पोषक तत्व है। ऑक्सीजन सजीवों द्वारा श्वसन में उपयोग की जाती है। यह जलने के लिए भी आवश्यक है।

1. What is the main constituent of air?

- a) Oxygen b) Nitrogen c) Carbon Dioxide d) Water vapour

वायु का मुख्य संघटक क्या है?

- a) ऑक्सीजन b) नाइट्रोजन c) कार्बन डाईऑक्साइड d) जलवाष्प

2. Name of gas which is an important plant nutrient?

- a) Water Vapours b) Hydrogen c) Nitrogen d) Oxygen

उस गैस का नाम बताइए जो पौधों का मुख्य पोषक तत्व है।

- a) जलवाष्प b) हाइड्रोजन c) नाइट्रोजन d) ऑक्सीजन

3. Name the gas which is present in small quantity.

उस गैस का नाम बताइए जो कम मात्रा में पाई जाती है।

a) Oxygen b) Water vapour c) Nitrogen d) Carbon dioxide

a) ऑक्सीजन b) जलवाष्प c) नाइट्रोजन d) कार्बन डाईऑक्साइड

4. Arun burns a candle and his sister covers it with glass. The candle stops burning due to the absence of which gas?



अरुण एक मोमबत्ती जलाता है और उसकी बहन उसको गिलास से ढक मती है। मोमबत्ती किस गैस की अनुपस्थिति के कारण बुझ जाती है?

a) Carbon dioxide b) Oxygen c) Water Vapour d) Nitrogen

a) कार्बन डाईऑक्साइड b) ऑक्सीजन c) जलवाष्प d) नाइट्रोजन

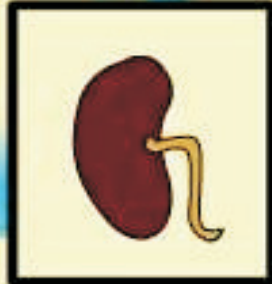


Observe the pictures carefully and answer the questions given below.

चित्रों को ध्यान से देखिए और नीचे दिए गए प्रश्नों के उत्तर दीजिए।



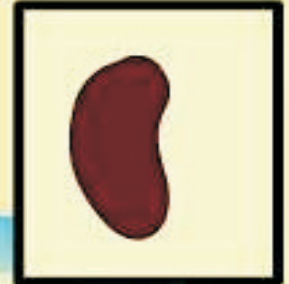
(I)



(II)



(III)



(IV)

1. Which of the following is not required by seed for germination?

निम्नलिखित में से कौन सा विकल्प बीज के अंकुरण के लिए आवश्यक नहीं है?

- a) Sunlight      b) Oil      c) Carbon-dioxide      d) Water  
 a) सूर्य का प्रकाश      b) तेल      c) कार्बन डाईआक्साइड      d) जल

2. Which part of the plant helps to fix the plant in soil?

पौधे का कौन सा भाग उसे मिट्टी में जकड़े रखता है?

- a) Leaves      b) Branches      c) Root      d) Fruits  
 a) पत्तियाँ      b) शाखाएँ      c) जड़      d) फल

3. What do trees not give us?

पेड़ों से हमें क्या प्राप्त नहीं होता?

- a) Plastic      b) Paper      c) Wood      d) Food  
 a) प्लास्टिक      b) कागज      c) लकड़ी      d) भोजन

4. Which of the following is correct sequence for seed germination

निम्नलिखित में से बीजांकुरण के लिए कौन सा क्रम सही है?

- a) I, II, III, IV  
 b) II, I, IV, III  
 c) IV, II, III, I  
 d) IV, I, II, III

**PASSAGE BASED MCQ's**

**PASSAGE 1**

1 (c)    2(d)    3(a)    4(b)

**PASSAGE 2**

1(d)    2(c)    3(b)    4(a)

**PASSAGE 3**

1(a)    2(a)    3(b)    4(c)

**PASSAGE 4**

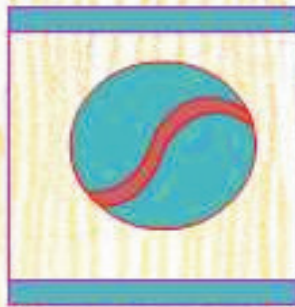
1(b)    2(c)    3(d)    4(b)

**PASSAGE 5**

1(b)    2(c)    3(a)    4(c)

ENGLISH

Q.1. Give the rhyming word for the picture given below :-



- a) bell
- b) tall

- c) cell
- d) sell

Q.2. Identify the expression :-



sad



happy



?

- a) Laughing
- b) Weeping


- c) Angry
- d) Surprised

Q.3. I usually \_\_\_\_\_ up at 7 a.m.

- a) Go
- b) Have
- c) Come
- d) Get

Q.4. To which group do these characters belong :-  
Choota Bheem, Ben10, Doraemon, Mickey Mouse

- a) Actors
- b) Students
- c) Singers
- d) Cartoon Characters



Q.5. Name the object in the picture by filling missing vowels:-

fl\_\_w\_\_rs

- a) o,e
- b) o,o
- c) e,o
- d) a,a



Q.6. Fill in the blank :-

The dog is \_\_\_\_\_ its Kennel.

- a) an
- b) between
- c) In
- d) at




7. The Ice-Cream man comes in \_\_\_\_\_ season.

50

- a) Winter
- b) Autumn

- c) Spring
- d) Summer



8. \_\_\_\_\_ is the king of fruits.

- a) Orange
- b) Mango

- c) Apple
- d) Banana

9. Children \_\_\_\_\_ going to the school.

- a) Is
- b) am
- c) are
- d) was




Q.10. What is Robinson doing?  
Mark the correct spellings.

51

- a) Writting
- b) Righting

- c) Writing
- d) Wrriting



Q.11. Which game do you play with the sport material given in the picture?

- a) Cricket
- b) Hockey

- c) Football
- d) Tennis



Q.12. \_\_\_\_\_ owl can see in darkness of jungle.  
(fill in the blank with the correct article)


- a) The
- b) A

- c) An
- d) Only



Q.13. Where does the horse live?

- a) Tree                      c) Stable  
b) Den                        d) Burrow



Q.14. Fill the correct punctuation mark.

Where are you going \_\_\_\_\_

- a) !                              c) ,  
b) .                              d) ?



Q.15. Arrange the given words alphabetically :-

a) Atom    b) Dog    c) Poor    d) Sun

- a) b,c,d,a                      c) c,b,a,d  
b) a,b,c,d                      d) b,a,d,c

Q.16. Fill in the blank with the opposite of 'Lost'  
Raj has lost his watch and has not \_\_\_\_\_ it.

- a) fond                        c) found  
b) brought                    d) last



Q.17. Which of the following two words have a similar meaning :-

(i) Begin            (ii) Come            (iii) Start            (iv) Act

(a) (i) & (ii)

(c) (iii) & (iv)

(b) (i) & (iii)

(d) (i) & (iv)

Q.18. Find the nouns from the ball -



(a) The, Sweet

(c) an, cry

(b) Play, Rohan

(d) Rohan, Agra

Q.19. Select the related word from the given option.

if honest : honesty

then safe : \_\_\_\_\_

a) save

b) safety

c) saving

d) saves.



Q.20. An apple a day keeps the \_\_\_\_\_ away.  
Choose the related picture.



(a)

(b)

(c)

(d)

Q.21. Which is the correct word?  
I will \_\_\_\_\_ new clothes.

a) by


b) bye

c) buy

d) boy



Q.22. Tick the odd one out.



a) trees

b) truck

c) flowers

d) grass



At what position is Rahul standing (left to right)

- a) First  
b) second  
c) fourth  
d) third

Q.24. The boys are going to playground  
\_\_\_\_\_ want to play football.  
Fill the blank.

- a) He  
b) She  
c) It  
d) They



Q.25. The long form of "can't" is :-

- a) Cannot  
b) could not  
c) can  
d) couldn't

Q.26.

56



**What will come next?**

- a) Nose
- b) Eyes
- c) Legs
- d) Hair

Q.27. Doctor can be written as Dr.  
Mister can be written as \_\_\_\_\_.

- a) Ms.
- b) Mr.
- c) Mt.
- d) Mte.

Q.28.



**Mark the correct sentence :-**


- a) I wants two bottles of coke.
- b) I want two bottles of coke.
- c) I want two bottle of coke.
- d) I wants two bottle of coke.

Q.29. Mira is hiding behind the trees.

Mark the correct question for this answer:-

- a) What was Mira hiding?
- b) Where is Mira hiding?
- c) Where was Mira sitting?
- d) How was Mira hiding?

Q.30. Complete the word according to the picture :-




a) Quit

c) Queen

b) Quench

d) Quest




Q.31. 'A \_\_\_\_\_ of stones' is lying on the roadside.

a) bunch

c) flock

b) heap

d) bouquet





Arrange the words to make a meaningful sentence :-

- a) Tea is mother making.
- b) Mother making is tea.
- c) Mother is making tea.
- d) Making tea is mother.

Q.33. 'A person who talks much' is described as :-

- a) Lazy
- b) Active
- c) Clever
- d) Talkative

Q.34. Watching Choota Bheem is very interesting.  
Can you tell what Choota Bheem is not?

- a) Friendly
- b) Brave
- c) Greedy
- d) Wise



Q.35. Rohan is upset \_\_\_\_\_ his leg is paining.  
Fill the correct connector.

- a) and  
c) while

- b) as  
d) until



36. Hari is \_\_\_\_\_ a car.  
Fill the correct form of verb.

- a) drove  
c) driving

- b) driven  
d) drive



37. Tree 'B' is \_\_\_\_\_ than tree 'A'



Tree 'A'




Tree 'B'

- a) tall  
c) tallest

- b) taller  
d) more Taller

Q.38. Some words are linked by AND. For example :  
BREAD AND BUTTER



Complete the following pairs in the same way,  
Far and \_\_\_\_\_

- |         |         |
|---------|---------|
| a) Then | b) Near |
| c) Tidy | d) Now  |

Q.39. Just as a mother looks after her children, a Cat after  
looks her \_\_\_\_\_.  
Fill the blank

- a) puppies
- b) ducklings
- c) kittens
- d) piglets



Q.40. If you want a hot cup of tea, put the following sentences in order -

61



- 1) Add sugar and milk and let it boil
- 2) Put the Pan on the burner
- 3) Your hot cup of tea is ready.
- 4) Put water and tea leaves in the pan.

- a) 1,3,2,4
- b) 4,3,2,1
- c) 2,4,3,1
- d) 2,4,1,3



English

- |       |       |
|-------|-------|
| 1(b)  | 21(c) |
| 2(b)  | 22(b) |
| 3(d)  | 23(d) |
| 4(d)  | 24(d) |
| 5(a)  | 25(a) |
| 6(c)  | 26(c) |
| 7(d)  | 27(b) |
| 8(b)  | 28(b) |
| 9(c)  | 29(b) |
| 10(c) | 30(c) |
| 11(b) | 31(b) |
| 12(c) | 32(c) |
| 13(c) | 33(d) |
| 14(d) | 34(c) |
| 15(b) | 35(b) |
| 16(c) | 36(c) |
| 17(b) | 37(b) |
| 18(d) | 38(b) |
| 19(b) | 39(c) |
| 20(b) | 40(d) |

Read the poem and answer the following questions



Camels are bumpy  
 Their backs are all lumpy.  
 Bears are so grawly  
 Hyenas are howly  
 Kangaroos have a pocket  
 But no way to lock it  
 Playful monkeys are funny  
 I wish I had a bunny



Q 1. Which animal is not talked about in the Poem?

- a) Camel
- b) Bear
- c) Elephant
- d) Kangaroo



Q 2. Which animal has a pocket?

- a) Camel
- b) Bear
- c) Hyena
- d) Kangaroo




Q 3. What sound do the bears make?

- a) Roar
- b) Moo
- c) Growl
- d) Bark

Q 4. What rhymes with word "lock" ?

- a) Log
- b) Rock
- c) Frog
- d) Bus

Look at the picture and fill in the blanks :-



Q 1. This is the picture of a \_\_\_\_\_

- a) jungle
- b) park
- c) circus
- d) theatre

2. Two children are coming \_\_\_\_\_ the slide

66

- a) up
- b) down
- c) top
- d) side

3. Two ladies \_\_\_\_\_ sitting on the bench

- a) is
- b) am
- c) are
- d) was

4. All \_\_\_\_\_ are playing and enjoying

- a) child
- b) childs
- c) children
- d) childish

Read the passage below and answer the following questions.

### **MY FAMILY**

Hi, I am Rohan. I love my family. I have one brother and one sister. My elder brother helps me in my studies and my younger sister plays with me. My mom and dad make the rules for my family. My sister gets in trouble sometimes. Our favourite thing to do as a family is to play games together.



Q 1. How many people are there in the family?

- a) Four
- b) Five
- c) Three
- d) Six

2. Find out the opposite of elder from the passage

- a) Brother
- b) Sister
- c) Younger
- d) Family

3. Who gets in trouble sometimes?

- a) Sister
- b) Brother
- c) Father
- d) Mother

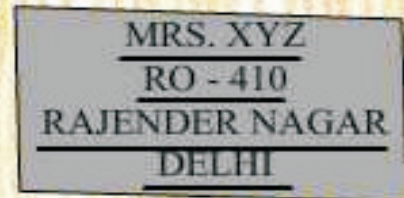
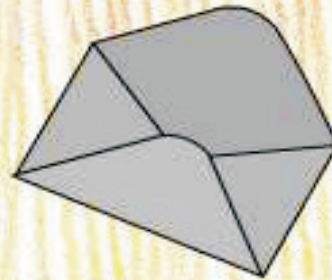
4. Who makes the rules for the family?

- a) Mother
- b) Father
- c) Mother and Father
- d) Brother

Read the letter and answer the following questions :-

A letter to Aunt thanking her for a gift

RO- 410,  
Rajender Nagar  
3rd May 2013  
Respected Aunt



Thank you for the wonderful chess game that you have sent me as a gift. I and my friends spend our leisure time playing with it. It will also help to sharpen my mind. I shall make full use of it.

Please convey my regards to uncle and love to Rishi.

Yours affectionately,


Vikas

Q 1. Who has written the letter?

- a) Vikas
- b) Aunt
- c) Rishi
- d) Uncle

Q 2. What gift has the aunt sent?

- a) Computer
- b) Watch
- c) Chess Game
- d) Football



3. To whom has the letter been written?

69

- a) Nitin
- b) Vikas
- c) Aunt
- d) Friends

4. Change the gender of 'aunt'

- a) aunts
- b) aunt's
- c) uncle
- d) uncle's



Look at the picture of a children's newspaper and answer the following questions :-



- Q 1. What is the name of the newspaper?
- a) The Children's Club                      b) Children's Club  
c) Children's Times                          d) Kids' Times
- Q 2. On which date is the newspaper published?
- a) December 1, 2007                      b) December 13, 2007  
c) December 2, 2007                      d) December 13, 2012
- Q 3. This newspaper is delivered every Friday. It is a
- a) Daily Newspaper                      b) Weekly Newspaper  
c) Monthly Newspaper                      d) Annual Newspaper
- Q 4. On which page, you can read about 'Classic Christmas Party'?
- a) Page A4                                      b) Page B1  
c) Page B3                                      d) Page A2

**Answer Key**  
**Passage Based MCQ**

71

**Passage - I**

- 1(c)
- 2(d)
- 3(c)
- 4(b)

**Passage II**

- 1(b)
- 2(b)
- 3(c)
- 4(c)

**Passage III**

- 1(b)
- 2(c)
- 3(a)
- 4(c)

**Passage IV**

- 1(a)
- 2(c)
- 3(c)
- 4(c)

**Passage V**

- 1(c)
- 2(b)
- 3(b)
- 4(a)

हिन्दी भाषा पर आधारित बहुविकल्पीय प्रश्न -  
नोट - निम्नलिखित प्रश्नों के सही उत्तर के लिए उचित विकल्प  
का चयन कीजिए -

1. इनमें से लिखने के काम आने वाली वस्तु है-

(क)



(ख)



(ग)



(घ)



2. 'जिसकी लाठी, ..... भैंस' में सर्वनाम शब्द से रिक्त  
स्थान भरिए -

(क) किसकी

(ख) उसकी

(ग) सबकी

(घ) जिसकी

3. निम्नलिखित में से शुद्ध वर्तनी पर सही का निशान लगाइए -

(क) बीमार

(ख) विमर

(ग) विमार

(घ) वीमार

4. भाषा के मौखिक रूप का प्रयोग .....  
में होता है।

(रिक्त स्थानों की पूर्ति कीजिए।)


(क) पत्र

(ख) भाषण

(ग) प्रार्थना पत्र

(घ) निबंध लेखन





6.  का वर्ण-विच्छेद है -

(क) म + छ + ल + ई

(ख) म + छ + ली

(ग) म् + अ + छ् + अ + ल् + इ

(घ) म् + अ + छ् + अ + ल् + ई

7. बच्चों, जब हमारे घर कोई व्यक्ति आता है तब हम  
..... करके उसका स्वागत करते हैं। (बताइए क्या?)

(क) नमस्कार

(ख) धन्यवाद

(ग) तिरस्कार

(घ) मुँह चिढ़ाकर

8. जाति वाचक संज्ञा का सही विकल्प छांटिए -



बूझो तो जाने - (प्रश्न 9 और 10 के लिए)

9. रस्सी सी पूँछ मेरी, पंखे से कान।

जो मुअझ पर बैटे, बढे उसकी शान।।

(क)



(ख)



(ग)



(घ)



10. कान को पकड़कर करूँ नाक की में सवारी।

अगर कहीं गुम हो जाऊँ, तो देखना होगा भारी।।

(क)



(ख)



(ग)



(घ)



अ

ब

1.



A. हँसना

2.



B. सीधा

3.



C. रात

(क) 1-B, 2- C, 3- A

(ख) 1- B, 2-A, 3- C

(ग) 3- B, 2- A, 1- C

(घ) 1- A, 2- B, 3- C

12. गाय भेड़िये को देखकर ..... लगी।



(क) दहाड़ने

(ख) रंभाने

(ग) मिमियाने

(घ) घरघराने

13. सांप के ? हिस्से में उचित विकल्प भरिए -

चवर्ग



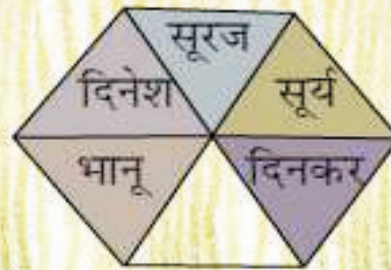
(क) भ

(ख) झ

(ग) ल

(घ) ड

14. षट्कोण के बचे हिस्से को सही त्रिभुज से पूरा कीजिए -



(क) रवि (ख) शशि (ग) धरा (घ) जलद

15. '?' वाला गुब्बारा कौन सा होगा? चयन कीजिए।



(क) महाकाल





(ख) राक्षस काल

(ग) भूत काल

(घ) अल्पकाल

वर्ग पहेली भरिए - ( प्रश्न 16-18 तक ) वर्ग पहेली 16 77

		16	
17	18		

16. (क)  (ख)  (घ)  (ग) 

बचपन में सबके मन  
भाती, बड़ी हो कर मैं फूल  
बन जाती।

17. (क)  (ख)  (घ)  (ग) 

जल की मैं रानी।  
जीवन मेरा पानी।

18. (क)  (ख)  (ग)  (घ) 

घरों का जब मौसम आए,  
मेरे बिन कोई बाहर न जाए।



19.



उचित विकल्प से वाक्य पूरा कीजिए -  
 मेज ..... फूल दान है  
 (क) के नीचे (ख) के ऊपर  
 (ग) के आगे (घ) के बाहर

20  
(क)

(ख)



नीरज



(घ)

(ग)



इनमें से एक पर्यायवाची शब्द नहीं है उसे छांटिए।

21.



टोकरी में फल हैं। ..... फल ताजे हैं।  
 (क) यह (ख) थे  
 (ग) ये (घ) वह

22. विस्मयादिबोधक शब्द से रिक्त स्थान भरिए -

79

(क) ओह

(ग) वाह



(ख) हाय

(घ) छीं-छीं

23. 'छोटा भीम'



की मनपसंद मिठाई लड्डू है। लड्डू खाकर छोटा भीम को ..... का अहसास हुआ।

(क) नमकीन

(ग) कड़वाहट

(ख) खटास

(घ) मिठास

24. हलवाई



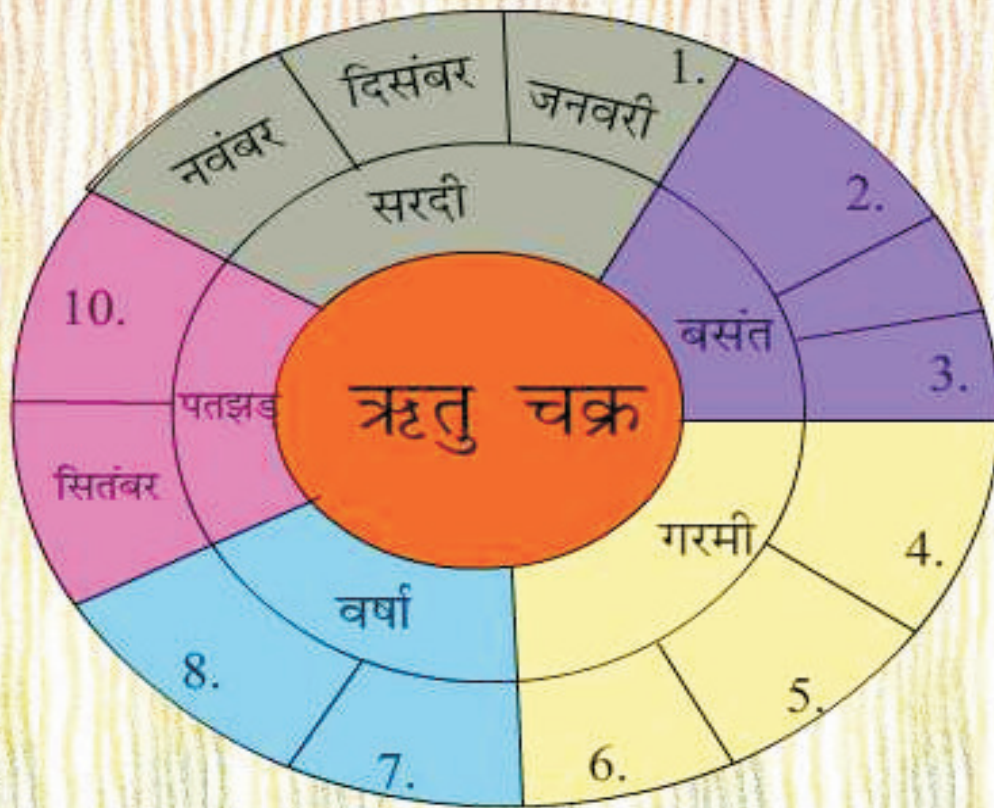
बड़ी स्वादिष्ट मिठाइयाँ बनाता है पर उसकी ..... को कुछ भी नहीं आता।

(क) हलवाईन

(ग) पुजारिन

(ख) ग्वालिन

(घ) लुहारिन



वर्ष में बारह महीने व पांच ऋतुएं होती हैं। ऋतु चक्र देखकर प्रश्नों (34 व 35 के लिए) के उत्तर दीजिए-

25. वर्ष का सातवां महीना होगा -

- (क) जुलाई (ख) अगस्त  
(ग) सितंबर (घ) नवंबर

26. अक्टूबर का महीना ..... ऋतु में होगा ।

- (क) सर्दी (ख) बसंत  
(ग) गर्मी (घ) पतझड़


27. राष्ट्रीय पर्व स्वतंत्रता दिवस वर्ष के ..... महीने में मनाया जाता है।

- (क) अगस्त (ख) सितंबर  
(ग) अप्रैल (घ) जून

28. .... ऋतु को ऋतुराज कहा जाता है।

- (क) वर्षा (ख) सर्दी  
(ग) बसंत (घ) गर्मी

प्रश्न 29.



- (क) पेट में चूहे कूदना।
- (ख) पेट में दर्द होना।
- (ग) पीठ में दर्द होना।
- (घ) हाथ में मोच आना।

प्रश्न 30.



का अर्थ है -

- (क) भाग जाना
- (ख) खो जाना
- (ग) मर जाना
- (घ) डर जाना

31. कृष्ण माता यशोदा के .....

- (क) एक मात्र सहारा
- (ख) आँखों के तारे
- (ग) सिर का दर्द
- (घ) आँखा की किरकिरी



32. 'नोबिता और डोरेमॉन आसमान में उड़ रहे हैं।' वाक्य में क्रिया-पद है - 82



(क) नोबिता

(ख) उड़ रहे हैं

(ग) डोरेमॉन

(घ) आसमान में

33. फसलों से जुड़ा त्यौहार है -

(क) गुरु पर्व

(ख) बैसाखी

(ग) दिवाली

(घ) क्रिसमस

34. 'दूर फिरंगी को करने की सबने मन में ठानी थी। खूब लड़ी मर्दानी  
वह तो, झाँसी वाली रानी थी।।

पंक्ति में झाँसी वाली रानी ..... थी।



(क) अहिल्याबाई

(ख) जीजा चाई

(ग) लक्ष्मीबाई

(घ) चांद बीबी

प्रश्न 35. सविता ने परीक्षा में कुल 48 अंक प्राप्त किए। बताइए सविता की उत्तर पुस्तिका कौन सी है?



(क)



(ख)

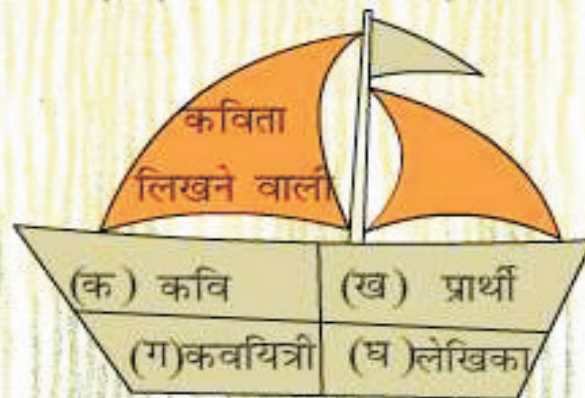


(ग)



(घ)

प्रश्न 36. वाक्यांश के लिए एक शब्द छांटिए -



प्रश्न 37. पेड़ पर बैठी चिड़िया किस घोंसले में बैठेगी?



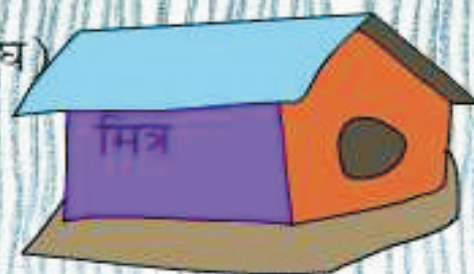
(ख)



(ग)




(घ)



प्रश्न 38. जहाँ बहुत सारी गाय पाली जाती हैं, उसे ..... कहते हैं।

- (क) रंगशाला (ख) दुशाला  
(ग) पाठशाला (घ) गौशाला

प्रश्न 39. एक वचन शब्द छांटिए -



प्रश्न 40. पहले तो मोहन का हाथ जल गया फिर उसे पीने को ..... न मिला।

(रिक्त स्थान की पूर्ति रेखांकित श्रुति सम भिन्नार्थक शब्द से कीजिए)

- (क) दूध (ख) नदी  
(ग) जल (घ) चाय

बहुविकल्पीय प्रश्न  
( उत्तरमाला )

1(क)	2(ख)	3(क)	4(ख)	5(घ)	6(घ)	7(क)	8(ख)
9(ग)	10(क)	11(क)	12(ख)	13(ख)	14(क)	15(ग)	16(क)
17(ख)	18(क)	19(ख)	20(घ)	21(ग)	22(ग)	23(घ)	24(क)
25(क)	26(घ)	27(क)	28(ग)	29(क)	30(क)	31(ख)	32(ख)
33(ख)	34(ग)	35(ख)	36(ग)	37(ख)	38(घ)	39(क)	40(ग)





चित्र देखकर अनुच्छेद पूरा कीजिए -

राघव (1) ..... से (2) ..... गया। वहां उसने (3)  
..... देखा। वह उसकी (4) ..... देखकर दंग रह गया।

- |                 |               |
|-----------------|---------------|
| 1.(क) रेलगाड़ी  | (ख) रिक्शा    |
| (ग) बस          | (घ) साइकिल    |
| 2.(क) दिल्ली    | (ख) शिमला     |
| (ग) आगरा        | (घ) मसूरी     |
| 3.(क) लालकिला   | (ख) कुतुबमीना |
| (ग) हवामहल      | (घ) ताजमहल    |
| 4.(क) एकात्मकता | (ख) सुंदरता   |
| (ग) भावुकता     | (घ) मलिनता    |

राजू को स्कूल जाते समय रेल की पटरी पार करनी पड़ती थी। एक दिन उसने पटरी अपनी जगह से उखड़ी हुई देखी और दूसरी ओर से रेल आती दिखाई दी। राजू अपनी लाल कमीज उतारकर झण्डी की तरह हिलाने लगा। ड्राइवर ने रेल रोक दी। उसकी सूझ-बूझ से सैकड़ों लोगों की जान बच गई।

1. घटना का उचित शीर्षक ..... है।

(क) उखड़ी पटरी

(ख) राजू की सूझ-बूझ

(ग) रेलगाड़ी

(घ) लाल कमीज

2. उखड़ी पटरी देखकर राजू ने क्या किया?

(क) सहायता के लिए लोगों को बुलाया।

(ख) जोर-जोर से रोने लगा।

(ग) राजू ने अपनी सूझबूझ दिखाई।

(घ) चुपचाप वहां से चला गया।

3. रेल रोकने के लिए राजू ने लाल कमीज हिलाई। क्यों?

(क) वह करतब करना चाहता था।

(ख) लाल रंग खतरे के निशान का सूचक है।

(ग) वह डर गया था।

(घ) उसे गर्मी लग रही थी।

4. 'सूझ-बूझ' शब्द का अर्थ है-


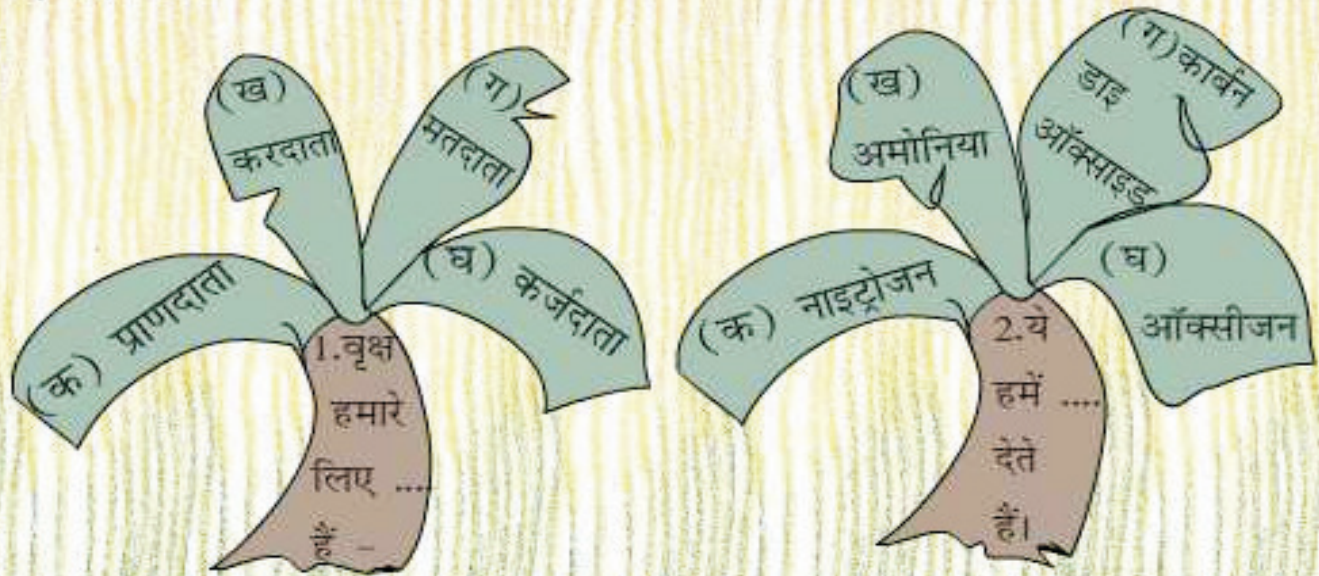
(क) नालायकी

(ख) चालाकी

(ग) बदतमीजी

(घ) बुद्धिमानी

वृक्ष हमारे प्राणदाता हैं। ये हमें ऑक्सीजन और फल-फूल देते हैं। ये पक्षियों के शरण-स्थल हैं। वृक्षों के सभी हिस्से हमारे काम आते हैं। किन्तु बढ़ती जनसंख्या के कारण हम इन्हें काटते जा रहे हैं। जिससे प्रदूषण, बीमारियाँ और असंतुलन बढ़ रहा है।





संवाद/वार्तालाप


पोता (1) ..... जो पौधा आप लगा रहे हैं, इसमें आम आने में तो सालों लगेंगे। आप ये आम खा भी पाएंगे?

दादाजी - नहीं बेटा, अब मैं जो (2) ..... खाता हूँ, उनके पौधे मेरे दादा ने लगाए थे। आज मैं जो (3)..... लगा रहा हूँ, उनके आम तुम्हें खाने को मिलेंगे।

पोता - धन्यवाद, दादा जी! आप (4).....

- |                      |                     |
|----------------------|---------------------|
| 1. (क) पिता जी       | (ख) दादा जी         |
| (ग) माता जी          | (घ) दादी जी         |
| 2. (क) दाम           | (ख) काम             |
| (ग) आम               | (घ) गुलाम           |
| 3. (क) मिट्टी        | (ख) पौधे            |
| (ग) गमलें            | (घ) खाद             |
| 4. (क) बहुत खराब हैं | (ख) बहुत भोले हैं।  |
| (ग) बहुत नाराज हैं   | (घ) बहुत अच्छे हैं। |

## अनुच्छेद - 5



यह कदंब का पेड़ अगर मां होता यमुना तीरे,  
मैं भी उस पर बैठ कन्हैया बनता धीरे-धीरे।  
ले देती यदि मुझे बांसुरी तुम दो पैसे वाली,  
किसी तरह नीचे हो जाती यह कदंब  
की डाली॥

प्रश्न 1. काव्यांश में 'मैं' किसके लिए प्रयुक्त हुआ है?

- (क) मां (ख) कदंब का पेड़  
(ग) छोटा बच्चा (घ) यमुना

प्रश्न 2. दो पैसे वाली वस्तु ..... है।

- (क) बांसुरी (ख) बीन  
(ग) डाली (घ) बाजा

प्रश्न 3. काव्यांश में 'तीरे' शब्द का समान लय वाला शब्द है। -

- (क) डाली (ख) वाली  
(ग) धीरे (घ) पैसे

प्रश्न 4. 'पेड़' शब्द का पर्यायवाची है -

- (क) तरु (ख) वीरु  
(ग) गिरि (घ) धीर

उत्तर माला

प्रासंगलक आधारलत बहुवलकल्पीय प्रश्न

अनुच्छेद 1

- |   |     |
|---|-----|
| 1 | (क) |
| 2 | (ग) |
| 3 | (घ) |
| 4 | (ख) |

अनुच्छेद 4

- |   |     |
|---|-----|
| 1 | (ख) |
| 2 | (ग) |
| 3 | (ख) |
| 4 | (घ) |

अनुच्छेद 2

- |   |     |
|---|-----|
| 1 | (ख) |
| 2 | (ग) |
| 3 | (ख) |
| 4 | (घ) |

अनुच्छेद 5

- |   |     |
|---|-----|
| 1 | (ग) |
| 2 | (क) |
| 3 | (ग) |
| 4 | (क) |

अनुच्छेद 3

- |   |     |
|---|-----|
| 1 | (क) |
| 2 | (घ) |
| 3 | (ख) |
| 4 | (ग) |

## Important Instructions

Read the following instructions before solving sample papers.

1. The test paper contains 40 questions
2. All questions are compulsory
3. Each of the question has four options out of which only ONE option is correct.
4. Q. No. 1-12 based on Qualitative Reasoning.  
Q. No. 13-24 based on Quantitative Reasoning  
Q. No. 25-40 based on Language Conventions.

### महत्वपूर्ण निर्देश

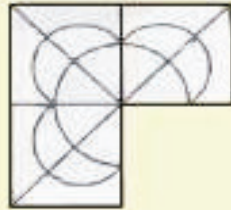
सैम्पल पेपर हल करने से पहले निर्देशों को ध्यान से पढ़ें।

1. इस प्रश्न पत्र में 40 प्रश्न हैं।
2. सभी प्रश्न अनिवार्य हैं।
3. सभी प्रश्नों के चार विकल्प हैं, जिनमें से केवल एक विकल्प सही है।
4. प्र. 1-12 गुणात्मक तर्क पर आधारित है।  
प्र. 13-24 मात्रात्मक तर्क पर आधारित हैं  
प्र. 25-40 भाषीय आचार पर आधारित है।

**QUALITATIVE**

Q.1) Complete the given figure -

दी गई आकृति को पूरा करें-



Q.2) How many triangles will complete the pattern.

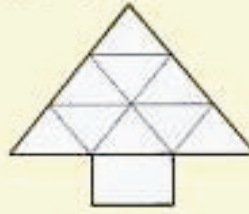
अगले क्रम में कितने त्रिभुजों का प्रयोग होगा?



a) 10



b) 16



c) 12



d) 13

Q.3)



I am a postage stamp. I am from India. What is my face value?

मैं एक डाक टिकट हूँ। मैं भारत देश से हूँ। मेरा अंकित मूल्य क्या होगा?

a) ₹5

b) ₹50

c) ₹500

d) ₹ 0.05



Q 4. A digital clock shows time as **8:45** Which of the following wall clock is showing the same time.

एक अंकीय घड़ी **8:45** समय दिखा रही है। नीचे दिखाई गई घड़ियों में से किस घड़ी का समय अंकीय घड़ी के समान है।



(a)



(b)



(c)



(d)

5. Which is the right Match?

- |                          |                    |
|--------------------------|--------------------|
| a) Book of Maps          | 1) Phone Directory |
| b) Book of word meanings | 2) Bhagwat Geeta   |
| c) Book of phone numbers | 3) Dictionary      |
| d) A holy book           | 4) Atlas           |

सही मिलान कीजिए -

- |                       |                   |
|-----------------------|-------------------|
| अ) नक्शों की किताब    | 1) फोन डायरेक्टरी |
| ब) शब्द अर्थ की किताब | 2) भगवत गीता      |
| स) फोन नम्बर की किताब | 3) शब्द कोष       |
| द) एक धार्मिक पुस्तक  | 4) एटलस           |

- a) A4, B3, C1, D2  
c) A2, B3, C3, D4

- b) A3, B1, C2, D4  
d) A1, B2, C4, D1

Q.6.



Charkha is associated with

95

- a) Mahatma Gandhi
- b) Chacha Nehru
- c) Indira Gandhi
- d) Rabindra Nath Tagore

चरखा इन में से किससे सम्बन्धित है।

- A) महात्मा गांधी
- B) चाचा नेहरू
- C) इन्दिरा गांधी
- D) रविन्द्रनाथ टैगोर

Q.7. Which of the following is air based musical instruments?

इनमें से कौन सा वाद्य यंत्र वायु पर आधारित है।

(A)



(B)



(C)



(D)



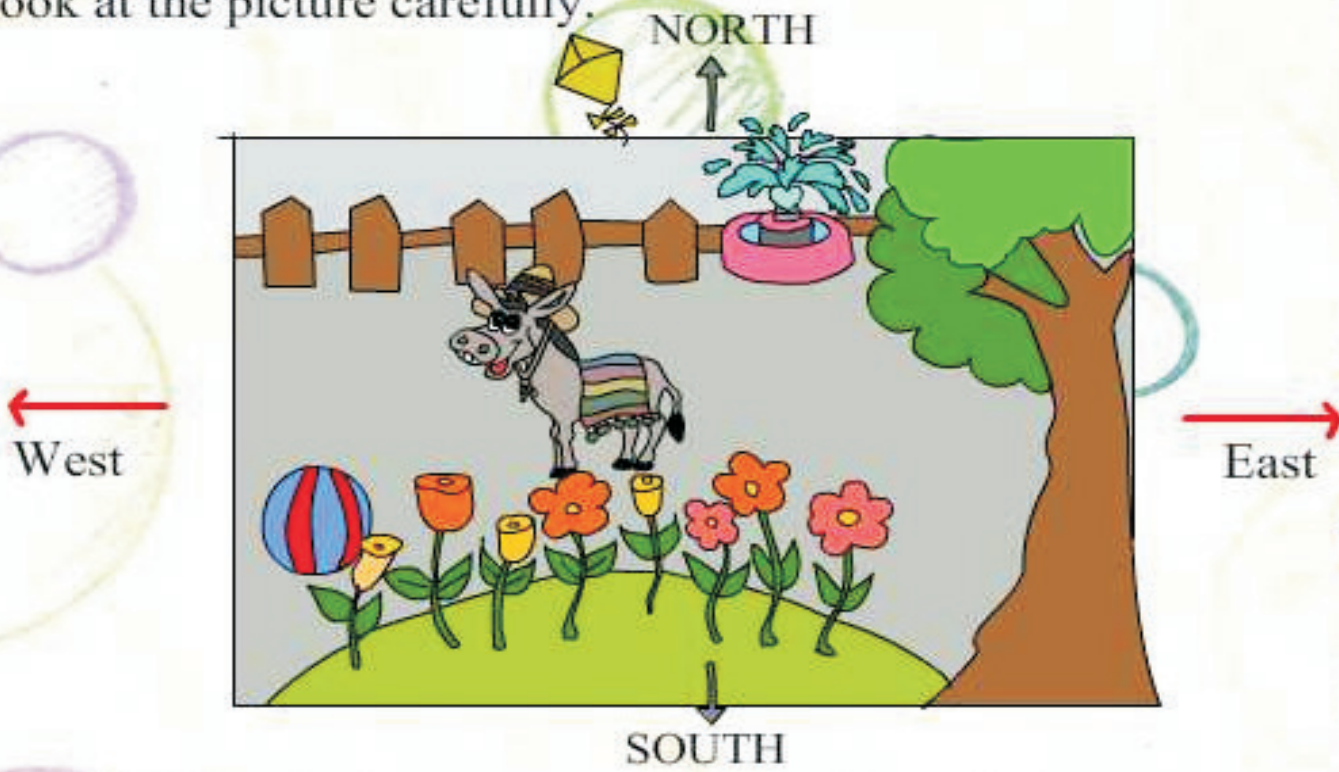
Q.8. Arrange the following in order of their occurrence within a year.

- 1) Gandhi Jayanti
- 2) Independence Day
- 3) Republic Day
- 4) Earth Day

निम्न लिखित को उस क्रम में लगाइए जिस क्रम में वे एक साल में आते हैं।

- 1) गांधी जयन्ती
  - 2) स्वतंत्रता दिवस
  - 3) गणतंत्र दिवस
  - 4) पृथ्वी दिवस (अर्थ डे)
- a) 1,2,3,4
  - b) 4,3,2,1
  - c) 3,4,2,1
  - d) 3,1,2,4

Look at the picture carefully.



Q.9. The tree is in \_\_\_\_\_ direction of fountain.

पेड़, फुव्वारे के ..... में है।

- |          |           |
|----------|-----------|
| a) East  | a) पूर्व  |
| b) West  | b) पश्चिम |
| c) North | c) उत्तर  |
| d) South | d) दक्षिण |

10. The donkey is walking towards \_\_\_\_\_ direction.

गधा ..... की ओर जा रहा है।

- |          |           |
|----------|-----------|
| a) East  | a) पूर्व  |
| b) West  | b) पश्चिम |
| c) North | c) उत्तर  |
| d) South | d) दक्षिण |

11. Wind has blown the kite in which direction?

वायु पतंग को किस दिशा में उड़ा रही है?

- |          |           |
|----------|-----------|
| a) East  | a) पूर्व  |
| b) North | b) उत्तर  |
| c) South | c) दक्षिण |
| d) West  | d) पश्चिम |

12. In southern side of park, there is a \_\_\_\_\_

पार्क की दक्षिण दिशा की ओर ..... है।

- |               |             |
|---------------|-------------|
| a) Ball       | a) गेंद     |
| b) Fountain   | b) फुव्वारा |
| c) Flower bed | c) क्यारी   |
| d) Fence      | d) बाड़     |

## STAND ALONE MCQ'S QUANTITATIVE

13. How many triangles are there in the figure?

आकृति में कितने त्रिभुज हैं?



a) 14

b) 5

c) 13

d) 17

14. The minute hand moves \_\_\_\_\_ times round the clock in one day.

मिनट की सूई एक दिन में ..... बार घड़ी का चक्कर लगाती है।

a) 60

b) 3600


c) 24

d) 120



15. Find the brick whose value is different from others

वह ईंट ज्ञात करो जिसका मान अन्य ईंटों से अलग हो।



16. Observe the numbers given below. If they are arranged in descending order, then what will be the middle number?

नीचे दी गई संख्याओं को देखिए। यदि उन्हें घटते क्रम में व्यवस्थित किया जाए तो सबसे मध्य में कौन सी संख्या होगी?

5, 25, 17, 32, 19, 15, 41, 13, 27

a) 25

b) 17

c) 13

d) 19

17. Arun's height is 160 cm. Manav's height is  $\frac{3}{4}$  of Arun's height but 20 cm less than Vinay's height. What is Vinay's height?

अरुण की ऊँचाई 160 सेमी है। मानव की ऊँचाई अरुण की ऊँचाई का  $\frac{3}{4}$  है, परंतु विनय से 20 सेमी कम है। विनय की ऊँचाई क्या है?

- a) 140 cm      b) 130 cm      c) 120 cm      d) 160 cm

18. An electric fire should not be put off by using water since there is a danger of

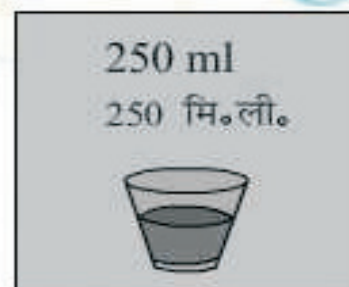
- a) burning      b) fracture      c) spreading fire      d) electrocution

विजली से लगी आग को पानी से नहीं बुझाना चाहिए। उससे निम्नलिखित का खतरा होता है

- a) जलने का      b) फ्रैक्चर का      c) आग फैलने का      d) करंट लगने का

19. 1 litre of Jug can fill \_\_\_\_\_ glasses of 250 ml each.

1 लीटर का जग 250 मिली लीटर के ..... गिलासों को भर सकता है।



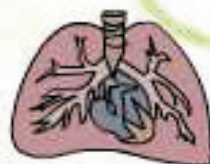
- a) 4      b) 5      c) 10      d) 2

20. Which of the following parts of body is not external.

- (a) Ear (b) Lungs (c) Eye (d) Arm

निम्नलिखित में से कौन सा शरीर का बाह्य भाग नहीं है?

- अ) कान ब) फेफड़े स) आँख द) बाजू



## PASSAGE - 2

Radhika visited a market with her aunt. They discussed about the disposal of waste which is an important part of clean environment. Aunt told her that most big cities have underground sewage disposal system. Solid wastes like vegetable peels, waste paper, plastic bags, bottles are thrown in covered garbage bins. The wastes which decompose are called biodegradable and the wastes which do not decompose are called non-biodegradable.

Answer the following questions.

राधिका अपनी आंटी के साथ बाजार गई। उन्होंने कचरे के निपटारन के बारे में चर्चा की जो कि स्वच्छ वातावरण के लिए आवश्यक है। आंटी ने बताया कि अधिकतर बड़े शहरों में सीवेज के निपटारन के लिए भूमिगत प्रणाली होती है। ठोस अपशिष्ट पदार्थ जैसे सब्जियों के छिलके, खराब कागज, प्लास्टिक बैग, बोतलो आदि को बंद कूड़ेदान में डालते हैं। जो कूड़ा अपघटित हो जाता है उसे जैव निम्नीकरणीय कहते हैं तथा जो कूड़ा अपघटित नहीं होता उसे अजैव निम्नीकरणीय कहते हैं। निम्नलिखित प्रश्नों के उत्तर दो :-

21. Choose the one which is biodegradable.

वह विकल्प चुनिए जो कि जैव निम्नीकरणीय है।

a) Plastic Bag

a) प्लास्टिक बैग



b) Tin can

b) टिन केन



c) Jute Bag

c) जूट बैग



d) Glass Bowl

d) ग्लास की कटोरी



22. For sewage which kind of disposal arrangement is made :



सीवेज के लिए किस प्रकार की व्यवस्था होती है?

a) Underground

a) भूमिगत

b) Non-biodegradable dustbin

b) अजैव निम्नीकरण कूड़ादान

c) Biodegradable dustbin

c) जैव निम्नीकरण कूड़ादान

d) Plastic Bags

d) प्लास्टिक बैग

23. Kitchen waste can be used as :

रसोईघर का कूड़ा किस प्रकार उपयोग में लाया जाता है -

a) Fertilizer

a) उर्वरक

b) Manure

b) खाद

c) Plastic Bag

c) प्लास्टिक बैग

d) None of them

d) कोई भी नहीं







24. There are two different coloured dustbins used for biodegradable and non-biodegradable waste. The dustbin used for non -biodegradable waste is

जैव निम्नीकरण और अजैव निम्नीकरण कूड़े के लिए दो विभिन्न रंगों के कूड़ेदान प्रयोग किए जाते हैं। अजैव निम्नीकरण कूड़े के लिए नीचे दिए गए विकल्पों में से कौन सा सही है?

a) Green

a) हरा



b) Blue

b) नीला



c) Yellow

c) पीला



d) Brown


d) भूरा



## ENGLISH CONVENTIONS

25. Rearrange the following to make a meaningful sentence -

- a) Sweets I want some.
- b) Want I sweets some.
- c) I want some sweets.
- d) Some want sweets I.



26. Who am I ?

Hints - I am green in colour

I eat chillies and nuts

I can repeat what you say

- a) Tree
- b) Dinosaur
- c) Parrot
- d) Flower

27. Rewrite the sentence using apostrophe (')

This car is of my father

- a) This is my's father car.
- b) This is my father's car.
- c) This is my car's father.
- d) This's my father car.



28. Which group do these belong?

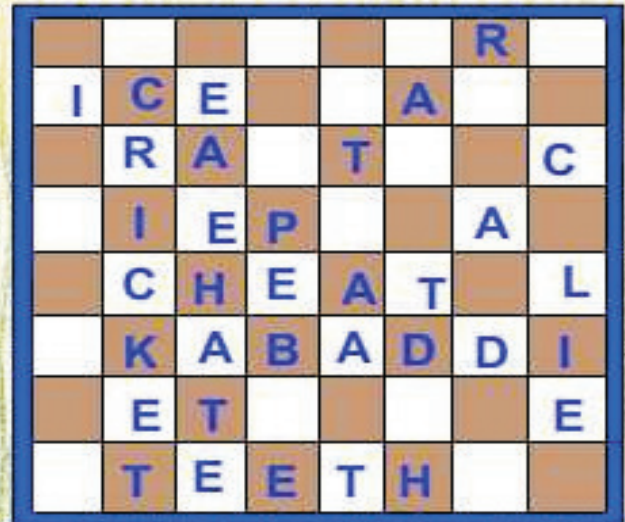
104

- a) Colours
- b) Seasons
- c) Flowers
- d) Birds



29. Two Games which appear in the square are -

- a) Cricket and Kabaddi
- b) Kabaddi and Tennis
- c) Cricket and Tennis
- d) Cricket and Football



30. The dog is \_\_\_\_\_ near the gate

- a) barking
- b) mooing
- c) mew-Mew
- d) roaring





Look at the above picture, and answer. QNO 31& 32

31. Sam is speaking to Mansi. Complete the Sentence - \_\_\_\_\_,  
Shut the door.

- a) Sorry,
- b) Please
- c) Thank you
- d) No

32. Sam \_\_\_\_\_ Mansi are speaking to each other.

- a) and
- b) or
- c) because
- d) To

33. वाक्य के लिए सही विकल्प छांटिए -  
देखो बाहर ..... आया है?

- क) किनको
- ख) कौन
- ग) किसको
- घ) किसमें



34. चित्र में भाषा का कौन सा रूप प्रयोग हो रहा है?

- क) मौखिक
- ख) लिखित
- ग) बाहरी
- घ) सांकेतिक



35. चाबी के गुच्छे की एक ..... मेरे पास है। (वाक्य पूरा करो)

- क) चाबी
- ख) कील
- ग) चूड़ी
- घ) चम्मच



36. इंद्रधनुष में कुल कितने रंग होते हैं?

- क) चार
- ख) पंद्रह
- ग) नौ
- घ) सात

प्रश्न 37. चित्र देखकर शुद्ध वर्तनी का चयन कीजिए -



- क) गिलैरी
- ख) गीलहरि
- ग) गिलहरी
- घ) गिलहैरी

प्रश्न 38. रिक्त स्थान की पूर्ति रेखांकित श्रुति सम भिन्नार्थक शब्द से कीजिए -  
मैं खाना बनाने की प्रतियोगिता हार गई, इसलिए मुझे इनाम में .....



..... नहीं मिल पाया।

- |          |        |
|----------|--------|
| क) प्यार | ख) चार |
| ग) हार   | घ) तार |

#### अनुच्छेद - 4

प्रश्न 39 और 40 के लिए :-



यह चित्र (I) ..... देवी का है। इनके हाथ में (II) ..... वाद्य यंत्र हैं।

39. (I) क) मां सरस्वती  
ग) मां गायत्री

- ख) मां लक्ष्मी  
घ) मां काली

- प्रश्न 40. (II) क) सितार  
ग) वीणा

- ख) तानपुरा  
घ) इकतारा

**QUALITATIVE ANALYSIS**

- 1 (B)
- 2 (B)
- 3 (A)
- 4 (D)
- 5 (A)
- 6 (A)
- 7 (C)
- 8 (C)

**LANGUAGE CONVENTIONS - ENGLISH**

- 25(C)
- 26(C)
- 27(B)
- 28(A)
- 29(A)
- 30(A)
- 31(B)
- 32(A)

**Passage**

- 9 (A)
- 10 (B)
- 11 (B)
- 12 (C)

**LANGUAGE CONVENTIONS - HINDI**

- 33 (ख)
- 34 (ख)
- 35 (क)
- 36 (घ)
- 37 (ग)
- 38 (ग)
- 39 (क)
- 40 (ग)

**QUANTITATIVE ANALYSIS**

- 13(D)
- 14(C)
- 15(A)
- 16(D)
- 17(A)
- 18(D)
- 19(A)
- 20(B)

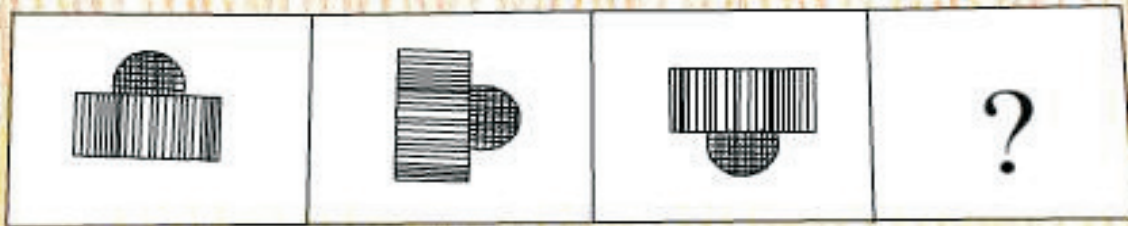
**Passage**

- 21(C)
- 22(A)
- 23(B)
- 24(B)

## SAMPLE PAPER - II (Qualitative)

Q1. Complete the sequence :-

क्रम पूरा करें :-



Q2. Mickey Mouse is standing in front of the Petrol Pump holding the balloons. What does CNG means here -



मिकी माउस पेट्रोल पम्प के सामने गुब्बारे लेकर खड़ा है जिन पर CNG लिखा है। यहां CNG का अर्थ है।

- a) Compressed Natural Gas
- b) Compressed Nitrogen Gas
- c) Compressed Neutral Gas
- d) Compressed Neon Gas

- (a) संपीडित प्राकृतिक गैस
- (b) संपीडित नाइट्रोजन गैस
- (c) संपीडित न्यूट्रल गैस
- (d) संपीडित नियोन गैस

3. A school gets over at 1:30 P.M. What is the time according to 24 hour clock?

किसी विद्यालय में अवकाश का समय 1:30 P.M. हैं इस समय को 24 घंटे वाली घड़ी में कैसे दर्शायेंगे?

- a) 23:30
- b) 13:30
- c) 15:30
- d) 18:30



4) Put the right sign on FIRST AID BOX

110

फर्स्ट एड बॉक्स पर उचित चिह्न लगायें।



(A)



(B)



(C)



(D)

5.



This Sign Symbolises which of the following?


यह चिह्न निम्न में से किस को प्रदर्शित करता है?

a) Danger b) Eco-friendly c) Pollution d) Earthquake

a) खतरा b) पर्यावरण हितैषी c) प्रदूषण d) भूकम्प

6. Which Pattern among the following is made by combining all these given four samples?

ये चारों नमूने मिलाकर निम्न में से कौन सा पैटर्न बनाते हैं?



(A)



(B)



(C)



(D)

7. Following are given some pairs of states with their capitals. Choose and tick which pair is incorrect?

- a) Punjab-Chandigarh
- b) Uttar Pradesh- Lucknow
- c) Himachal Pradesh-Kohima
- d) Haryana - Chandigarh

नीचे राज्य और उनकी राजधानियों के कुछ जोड़े दिए गए हैं। इनमें से गलत जोड़े को चुनकर निशान लगायें।

- a) पंजाब - चण्डीगढ़
- b) उत्तर प्रदेश - लखनऊ
- c) हिमाचल प्रदेश - कोहिमा
- d) हरियाणा - चण्डीगढ़

8. Seasons on the Earth are caused by :-

- a) Rotation
- b) Revolution
- c) Shape of the earth
- d) None

पृथ्वी पर मौसम परिवर्तन का कारण है -

- a) परिक्रमण
- b) परिभ्रमण
- c) पृथ्वी के आकार के कारण
- d) इनमें से कोई नहीं।



This is a picture of the first Prime Minister of India. He fought against the British to get freedom for our country. He loved children so much

that his birthday, November 14th is celebrated as children's day in India. Children used to call him 'Chacha Nehru'.

9. Look at the picture. Who is this?

- a) Jawaharlal Nehru
- b) Lal Bahadur Shastri
- c) Mahatma Gandhi
- d) Rajendra Prasad

10. Which was his favourite flower?

- a) Tulip
- b) Lotus
- c) Rose
- d) Sunflower

11. He is popularly known as

- a) Bapu
- b) Chacha Nehru
- c) Netaji
- d) Iron Man

12. His memorial, 'Samadhi' is known as -

- a) Rajghat
- b) Shantivan
- c) Vijay Ghat
- d) Veer Bhoomi



यह चित्र भारत के प्रथम प्रधानमंत्री का है। हमारे देश को इन्होंने अंग्रेजों से आजाद कराया। वह बच्चों से बहुत प्यार करते थे, इसलिए उनका जन्मदिन 14 नवम्बर हमारे देश में

बाल दिवस के रूप में मनाया जाता है। बच्चे उन्हें प्यार से 'चाचा नेहरू' के नाम से पुकारते हैं।

9. यह किसकी फोटो है?

- |                    |                        |
|--------------------|------------------------|
| a) जवाहर लाल नेहरू | b) लाल बहादुर शास्त्री |
| c) महात्मा गांधी   | d) राजेन्द्र प्रसाद    |

10. उनका प्रिय फूल कौन सा है?

- |            |             |
|------------|-------------|
| a) ट्यूलिप | b) कमल      |
| c) गुलाब   | d) सूरजमुखी |

11. वह किस नाम से प्रसिद्ध है?

- |           |               |
|-----------|---------------|
| a) बापू   | b) चाचा नेहरू |
| c) नेताजी | d) लौह पुरुष  |

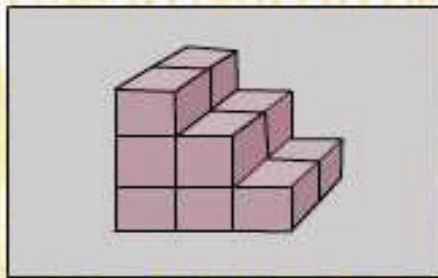
12. इनकी समाधि किस नाम से जानी जाती है?

- |             |             |
|-------------|-------------|
| a) राजघाट   | b) शान्तिवन |
| c) विजय घाट | d) वीर भूमि |

**SAMPLE PAPER - 2**  
**QUANTITATIVE**  
**STAND ALONE MCQs**

13. The number of cubes in the figure given below are -

नीचे दी गई आकृति में घनों की संख्या ..... है।



a) 10

b) 5

c) 6

d) 12

14. Select the correct angles in the following picture

निम्नलिखित चित्र में सही कोणों को चुनिए

a) I - Right angle, II - Obtuse angle

I सम कोण , II अधिक कोण

b) I - Acute angle, II - Straight angle


I न्यून कोण , II सरल कोण

c) I - Acute angle, II - Obtuse angle

I न्यून कोण , II अधिक कोण

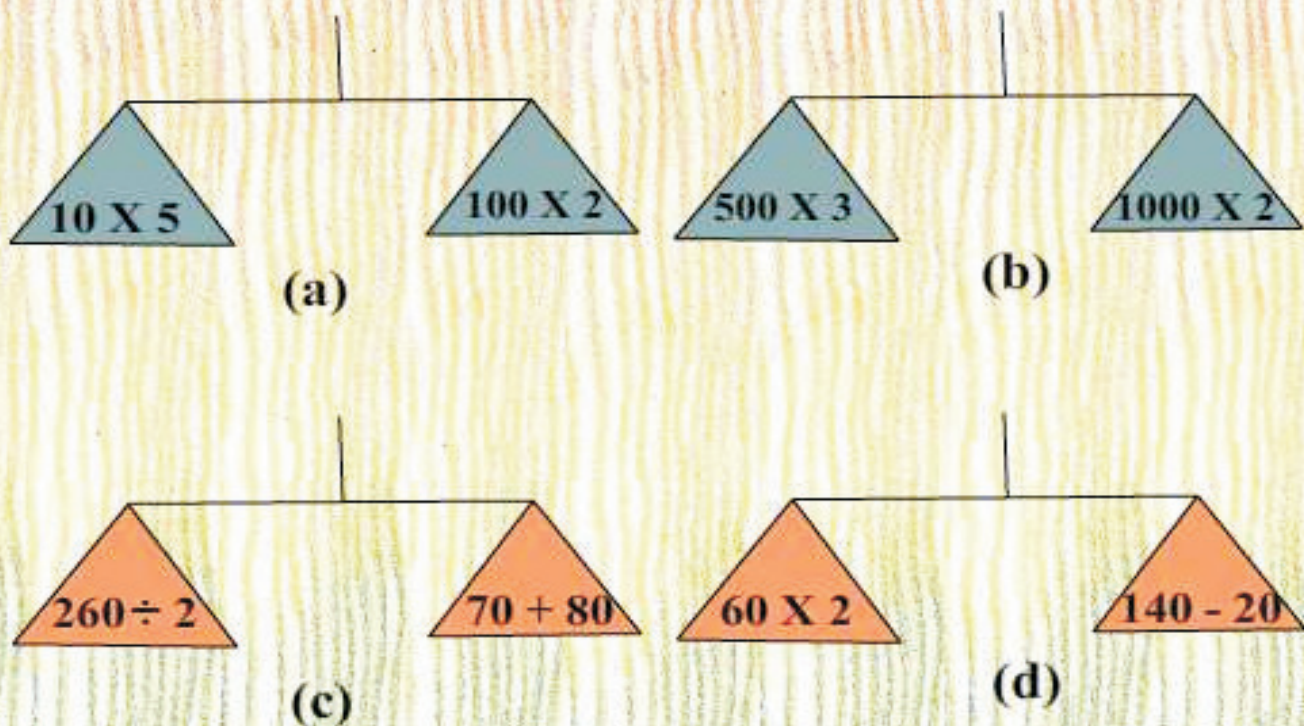
d) I - Right angle, II - Straight angle

I सम कोण , II सरल कोण



15. Which of the following figure is balanced?

निम्नलिखित में कौन सी आकृति संतुलित है?



16. The Jar shows the rounded figure of pebbles in it. Choose the number of pebbles that could be in the Jar.

दिए गए ज़ार में कंचों के सन्निकट संख्या दिखाई गई है। नीचे दिए गए उचित विकल्पों में से कौन सी संख्या ज़ार में कंचों का दर्शाती है।

**1800**



- a) 1733      b) 1892      c) 1789      d) 1749

17. In which form, the energy is stored in battery?

बैटरी में ऊर्जा किस रूप में संरक्षित होती है?



- a) Electrical energy    b) Nuclear energy  
c) Chemical energy    d) Mechanical energy

- a) विद्युत ऊर्जा                      b) नाभिकीय ऊर्जा  
c) रासायनिक ऊर्जा                d) यांत्रिक ऊर्जा

18. The instrument used to measure temperature is \_\_\_\_\_

तापमान को मापने वाली युक्ति का नाम ..... है।

- a) Protractor                      b) Stethoscope

a) कोण मापक



b) स्टेथोस्कोप



c) Thermometer

d) None of above

c) थर्मामीटर

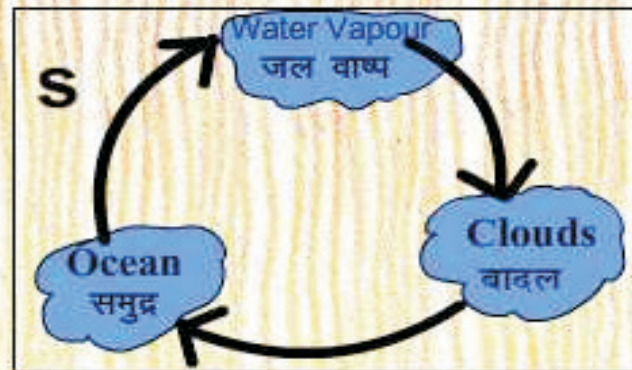
d) कोई भी नहीं



19. The diagram below shows part of a water cycle

117

निम्न चित्र जल चक्र के भाग को दर्शाता है।



Which process is taking place at 'S'?

'S' किस प्रक्रिया को दर्शाता है?

a) Melting

b) Condensation

a) पिघलना

b) संघनन

c) Evaporation

(d) Precipitation

c) वाष्पीकरण

(d) अवक्षेपण

20. Which of the following is reversible?

निम्नलिखित में से कौन सी प्रक्रिया परिवर्तनीय है?

a) Toasting a piece of bread

b) Melting of a chocolate

a) ब्रेड का सेकना

b) चॉकलेट का पिघलना



c) Baking of cake

d) None of these

c) केक को बेक करना

d) कोई भी नहीं



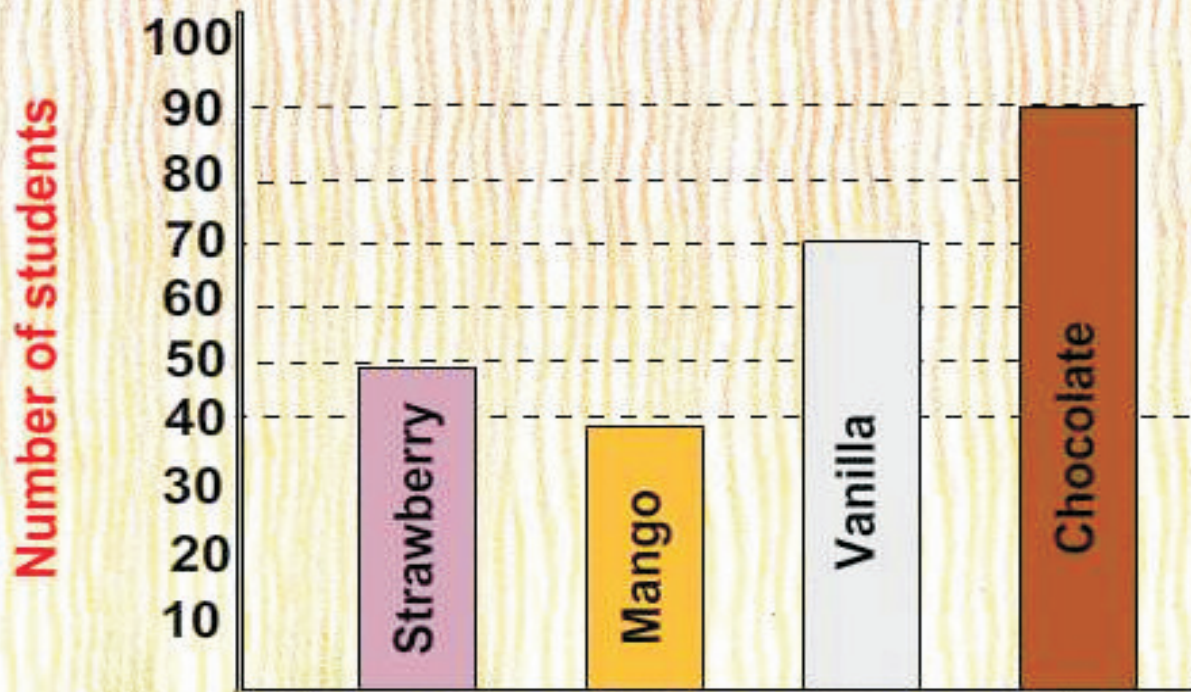




## PASSAGE

A survey was done on a group of students regarding the popularity of flavours of ice - creams namely mango, vanilla, strawberry and chocolate. The results are shown in the form of a bar graph given below. Answer the following questions.

एक विद्यार्थी समूह का आइसक्रीम के विभिन्न स्वादों जैसे मैंगो, वनीला, स्ट्रॉबेरी तथा चाकलेट से संबंधित सर्वेक्षण किया गया। प्राप्त परिणामों को निम्नलिखित दंडालेख द्वारा दर्शाया गया है। निम्नलिखित प्रश्नों के उत्तर दो -



### Flavours of Ice Cream

21. Which is the most popular flavour?

सबसे अधिक लोकप्रिय स्वाद कौन सा है?

a) Mango    b) Vanilla    c) Strawberry    d) Chocolate

a) मैंगो    b) वनीला    c) स्ट्रॉबेरी    d) चाकलेट

22. Which is the least popular flavour?

सबसे कम लोकप्रिय स्वाद कौन सा है?

a) Vanilla    b) Mango    c) Chocolate    d) Strawberry

a) वनीला    b) मैंगो    c) चॉकलेट    d) स्ट्रॉबेरी

23. How many Students were surveyed?

कितने विद्यार्थियों का सर्वेक्षण किया गया?

- a) 90
- b) 200
- c) 250
- d) 100

24. How many more students preferred chocolate than Vanilla?

कितने विद्यार्थियों ने चाकलेट को वनीला से अधिक पसंद किया?

- a) 20
- b) 40
- c) 50
- d) 30

25. To which group do these animals belong?

- a) Pet animals
- b) Wild animals
- c) Birds
- d) Domestic animals



26. Tall : Short

Up : ?

- a) Thin
- b) Down
- c) Low
- d) Fat




27. A peacock is sitting \_\_\_\_\_ the branch of a tree.

- a) in
- b) below
- c) at
- d) on



28.

**Key**

a) Keyes

b) Keys

c) Keeys

d) Kesy

Q . 29



Mr. Jo has forgotten the spelling.  
Kindly help him.

a) Beaaautiful




b) Bewtiful

c) Beautiful

d) beootiful



33. नीचे दिए गए संज्ञा के पेड़ पर आप अगला आम कौन सा लगाओगे?



पहेलियों बूझकर वर्ग-पहेली भरिए - (प्रश्न 34 व 35 के लिए)

34. हरे महल की लाल दीवार,  
जिसमें कई काले पहरेदार।

- क) नाशपाती  
ग) हरा सेव

- ख) तरबूज  
घ) अंगूर



35. खौं-खौं करके नाच मैं दिखलाता, नकल करके नकलची मैं कहलाता।



36. चित्र देखकर सही मुहावरे का विकल्प छांटिए -

- क) फूला न समाना
- ख) नौ-दो ग्यारह होना
- ग) आस्तीन का सांप
- घ) लोहा लेना



37. चित्र के बहुवचन रूप से रिक्त स्थान पूरा कीजिए -  
फलवाले से एक दर्जन ..... खरीदे, उसमें से

एक



खराब था।

- क) केले
- ख) सेब
- ग) अंगूर
- घ) संतर

38. बताओ, मैं कौन हूँ?



- क) माली
- ख) कुम्हार
- ग) धोबी
- घ) लुहार



प्रस्तुत कविता पढ़कर प्रश्नों के उत्तर दीजिए -

सबके दुख को अपना जानो,  
 सबको अपना भाई मानो।  
 आपस में मत करो लड़ाई,  
 लड़ने में है नहीं बड़ाई।।  
 झूठ कभी मत बोलो भाई,  
 सदा विजय पाती सच्चाई।  
 सबकी इज्जत अगर करोगे,  
 सबके प्यारे सदा बनोगे।।



प्रश्न 39. रेखांकित शब्द 'भाई' का समान लय वाला शब्द कविता में क्या दिया गया है?

- क) सच्चाई
- ख) दिखाई
- ग) ताई
- घ) नाई

प्रश्न 40. 'झूठ' शब्द का विपरीतार्थक शब्द बताइए -

- क) गम
- ख) हठ
- ग) सच
- घ) लट्ठ

**ANSWER KEY****QUALITATIVE****Stand Alone MCQs**

1(a)

2(a)

3(b)

4(d)

5(b)

6(a)

7(c)

8(b)

**Passage**

9(a)

10(c)

11(b)

12(b)

**Quantitative**

13(d)

14(c)

15(d)

16(c)

17(c)

18(c)

19(c)

20(b)

**Passage**

21(d)

22(b)

23(c)

24(a)

**English**

25(a)

26(b)

27(d)

28(b)

29(c)

30(b)

31(c)

32(d)

**Hindi**

33 (ग)

34 (ख)

35 (घ)

36 (ग)

37 (क)

38 (ग)

39 (क)

40 (ग)

**SAMPLE PAPER - 3**  
**QUALITATIVE REASONING**

128

1. What comes next



: No Honking ::



: ?

- a) No U- Turn  
c) Spead Breaker

- b) School Ahead  
d) Speed limit

ऊपर दिए गए चित्र को देखकर क्रम पूरा कीजिए

- a) **U** नहीं मुड़ना  
c) गति अवरोधक

- b) आगे स्कूल है।  
d) गति सीमा

2. I lay eggs in stagnant water and spread Malaria. Who am I?

- a) Housefly  
c) Mosquito

- b) Ant  
d) Spider

मैं ठहरे हुए जल में अंडे देता हूँ और मलेरिया फैलाता हूँ। मैं कौन हूँ?

- a) मक्खी  
c) मच्छर

- b) चींटी  
d) मकड़ी

3. Which picture shows Evaporation ?

129



1.



2.



3.



4.

- a) 1 Only      b) 3 Only      c) 1 and 3 Both  
d) 1 and 4 Both

ऊपर दिए गए चित्रों में से कौन सा चित्र वाष्पीकरण दर्शाता है


- a) केवल 1      b) केवल 3      c) 1 और 3 दोनों  
d) 1 और 4 दोनों

4. Sumedha is excited as there is a fire safety mock drill in her school. What is the purpose of mock drill in the school?

- a) Have a break from studies  
b) To have fun  
c) To make students learn how to use stairs  
d) To make students understand how to evacuate building in case of disaster

सुमेधा आज बहुत खुश है। उसके स्कूल में आज अग्नि सुरक्षा मॉक ड्रिल है। इस मॉक ड्रिल का उद्देश्य है?

- a) पढ़ाई से बचने के लिए
- b) मनोरंजन के लिए
- c) बच्चों को सीढ़ियों का सही प्रयोग सिखाने के लिए
- d) बच्चों को समझाने के लिए कि वे आपदा के समय भवन कैसे खाली करें।



Four children Sonu, Monu, Tina and Rina are climbing the stairs. If Sonu is at the top of the stairs and Monu is at the bottom. Tina is just behind Sonu then at which step is Rina?

- a) 1
- b) 2
- c) 3
- d) 4

चार बच्चे सोनू, मोनू, टीना और रीना सीढ़ियां चढ़ रहे हैं। यदि सोनू सबसे ऊपर वाली सीढ़ी पर है और मोनू सबसे नीचे वाली सीढ़ी पर है। टीना मोनू के एकदम पीछे है तो रीना कौन सी सीढ़ी पर है?

- a) 1
- b) 2
- c) 3
- d) 4

6. Match the following -

- |  |                      |
|--|----------------------|
| 1) A bus is honking                            | a) Air Pollution     |
| 2) Coal mine dumping its waste in open ground  | b) Soil Pollution    |
| 3) A man is burning leaves                     | c) Noise Pollution   |
| 4) An oil tanker has spilled oil into the sea. | d) Water Pollution   |
| a) 1a , 2b , 3d , 4c                           | b) 1c , 2b , 3d , 4a |
| c) 1b , 2c , 3a , 4d                           | d) 1c , 2b , 3a , 4d |

- |   |                   |
|---|-------------------|
| 1) बस द्वारा जोर से हार्न बजाना                     | अ) वायु प्रदूषण   |
| 2) कोयले की खान द्वारा अपशिष्ट खुले मैदान में डालना | ब) मृदा प्रदूषण   |
| 3) एक व्यक्ति द्वारा खुले में पत्तियां जलाना        | स) ध्वनि प्रदूषण  |
| 4) किसी टैंकर द्वारा समुद्र में तेल उड़ेलना         | द) जल प्रदूषण     |
| a) 1a, 2b, 3d, 4c                                   | b) 1c, 2b, 3d, 4a |
| c) 1b, 2c, 3a, 4d                                   | d) 1c, 2b, 3a, 4d |

7. Which of the following will not change when a child grows into an adult?



- a) Number of fingers  
b) Height  
c) Weight  
d) Length of bones

निम्न में से क्या चीज परिवर्तित नहीं होगी जब एक छोटा बच्चा, व्यस्क में बदलेगा?

- a) उंगलियों की संख्या  
b) लम्बाई  
c) भार  
d) हड्डियों की लंबाई

Q 8. Sania Nehwal won medal in London Olympics 2012 for badminton.



- a) Gold  
b) Silver  
c) Platinum  
d) Bronze

साईना नेहवाल ने लंदन ओलंपिक 2012 में बैडमिंटन खेल के लिए..... पदक जीता।

- a) स्वर्ण  
b) रजतस  
c) प्लैटिनम  
d) कांस्य

## PASSAGE - 1

Label on any product gives us important information about that product. we should read the label carefully before buying any packed item.



On seeing the lable, answer the following questions :-




9. What is the quantity of product, mentioned on the label?

- a) 600 ml
- b) 6962
- c) 06.08.13
- d) Not given

10. What is the expiry date of the product?

- a) 06.08.13
- b) 600 ml
- c) Not given
- d) 110

11. Which mark on the label indicates that this product contains only vegetarian ingredient?

- a) 
- b) 
- c) 
- d) none

12. What information do we get from label?

- a) About Shopkeeper
- b) About the customer
- c) About the product inside
- d) None of these

## PASSAGE - 1

किसी भी उत्पाद पर लगा हुआ उसका लेबल हमें उस उत्पाद की विभिन्न जानकारी देता है। हमें किसी भी पैकेट बन्द वस्तु खरीदने से पहले उसका लेबल ध्यानपूर्वक पढ़ना चाहिए।



लेबल को देखने के बाद निम्नलिखित प्रश्नों के उत्तर दें :-

9. लेबल में दर्शाई गई उत्पाद की मात्रा बतायें ?

- a) 600 मि०ली०                      b) 6962  
c) 06.08.13                          d) दी नहीं गई

10. उत्पादन के लेबल पर कौन सी तिथि दर्शाई गई है जिसके बाद उसे प्रयोग में नहीं लाना चाहिए।

- a) 06.08.13                          b) 600 मि०ली०  
c) नहीं दिया गया                  d) 110

11. लेबल पर किस चिह्न से पता लग रहा है कि इसमें प्रयुक्त होने वाले सभी पदार्थ शाकाहारी हैं।

- a)                       b)   
c)                       d) कोई नहीं

12. हमें लेबल से कौन सी सूचना प्राप्त हो रही है?

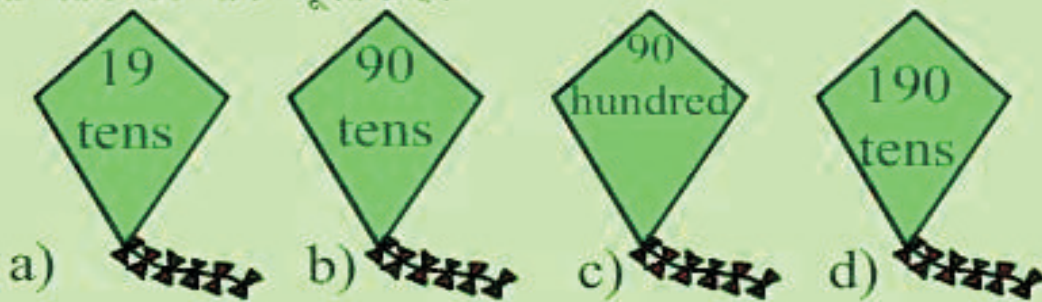
- a) दुकानदार के बारे में              b) ग्राहक के बारे में  
c) अन्दर के उत्पाद के बारे में      d) इनमें से कोई नहीं



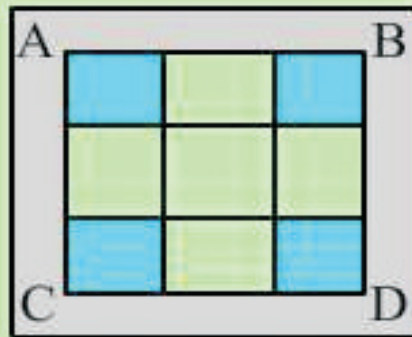
**SAMPLE PAPER - 3**  
**STAND ALONE MCQs**  
**QUANTITATIVE**

13. Which kite has smallest value?

किस पतंग का मान न्यूनतम है?



14.



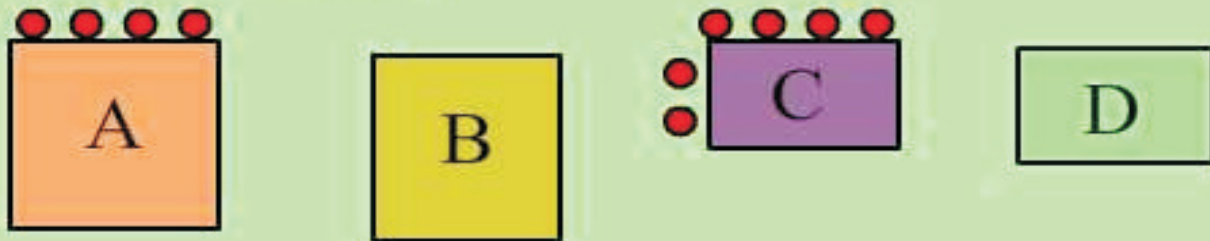
ABCD is a piece of cardboard having a shape of square. From each corner the shaded square part is cut off and the remaining is folded. What do you get?

- a) Cube with open top      b) Closed Cube  
c) Closed cuboid          d) Cuboid with open top.

ABCD एक वर्गाकार गत्ते का टुकड़ा है। प्रत्येक कोने से छायांकित वर्गाकार भाग काट लिए गए हैं और शेष आकृति को मोड़ा गया है। आपको क्या प्राप्त होता है?

- a) ऊपर से खुला घन                      b) बन्द घन  
c) बंद घनाभ                                d) ऊपर से खुला घनाभ

15. A restaurant has two square tables (A and B) of same size. Also it has two rectangular tables (C and D) of same size. A party is to be organised in restaurant. Chairs will be placed on each side of all the tables. So far 10 chairs have been placed. How many more chairs can be placed if same pattern is followed?



एक रेस्टोरेंट में दो वर्गाकार मेज (A और B) एक ही आकार के हैं। एक ही आकार के दो आयताकार मेज (C और D) भी हैं रेस्टोरेंट में पार्टी आयोजित की जानी है। मेजों के चारों तरफ कुर्सियां रखी जानी है। अभी तक 10 कुर्सियां रखी गई है। यदि यही पैटर्न अपनाया जाए तो और कितनी कुर्सियां रखी जा सकती हैं?

- (a) 24      (b) 20      (c) 46      (d) 36

16. Find the flower whose value is different from others.

वह फूल ज्ञात करो जिसका मान अन्य फूलों से अलग है।



- a)                      b)                      c)                      d)

17 .Poorva wants to make her dress with natural fibre cloth.

Choose the option which does not suit her choice.

पूर्वा प्राकृतिक रेशों से बने वस्त्र की पोशाक बनाना चाहती है।

वह विकल्प चुनिए जो प्राकृतिक रेशों से नहीं बना।

a) Cotton

b) Nylon

a) सूती

b) नाइलॉन

c) Jute

d) Silk

c) जूट

d) रेशम



18. In a class a discussion started about the modern means of communication, Vijay listed the modern means but Raju was not satisfied with one of them. Guess what it could be?

एक कक्षा में संचार के आधुनिक साधनों के बारे में चर्चा हुई। विजय ने कुछ

आधुनिक साधनों की सूची बनाई। परंतु राजू उनमें से एक विकल्प से सहमत नहीं था। अनुमान लगाइए कि वह क्या हो सकता है?

a) Mobile Phone

b) News paper

a) मोबाइल फोन

b) समाचार पत्र



c) Television

d) Carrier Pigeon

c) टेलीविजन

d) पत्रवाहक कबूतर



19. Which of the following is not a form of water?

निम्नलिखित में से कौन जल का रूप नहीं है?

a) Steam

a) भाप

c) Coal

c) कोयला

b) Dew

b) ओस

d) Snow

d) बर्फ



20. Rohit grouped animals into some categories according to the food they eat. He categorized dog as -

रोहित ने जीवों को उनके भोजन के अनुसार व्यवस्थित किया। उसने कुत्ते को किस वर्ग में रखा होगा?

a) Herbivores

a) शाकाहारी

c) Omnivores

c) सर्वाहारी

b) Carnivores

b) मांसाहारी

d) Scavengers

d) अपमार्जक



Shruti and Jatin went to the market for shopping for Diwali festival. Shruti bought 20 Diyas for Rs. 3 each and two packets of candles for Rs. 50, Then they went to a sweet shop and bought 1kg Pista Burfi for Rs. 320 and 1 kg laddoo for Rs. 150. Read the above passage and answer the following.

श्रुति और जतिन दीपावली के त्यौहार की खरीदारी के लिए बाजार गए। उन्होंने 20 दीये खरीदे जिसमें प्रत्येक दीये का मूल्य 3 रुपये था और 50 रुपये के दो मोमबतियों के पैकेट खरीदे। फिर वे मिठाई की दुकान पर गए। उन्होंने वहां पर 320 रुपये की 1 किलो पिस्ता बर्फी खरीदी और 150 रुपये के 1 किलो लड्डू खरीदे।

ऊपर दिए गए अनुच्छेद को पढ़िए और निम्न प्रश्नों के उत्तर दीजिए -

21. Shruti and Jatin went to the market for shopping for

- |                   |                     |
|-------------------|---------------------|
| a) Birthday party | b) Wedding Function |
| c) Diwali         | d) Christmas        |

श्रुति और जतिन बाजार में किस अवसर के लिए खरीदारी करने गए।

- |                   |                 |
|-------------------|-----------------|
| a) जन्मदिन पार्टी | b) विवाह समारोह |
| c) दीपावली        | d) क्रिसमस      |

22. How much money they spent on buying sweets?

उन्होंने मिठाई खरीदने के लिए कितने रूपये खर्च किए?



a) Rs. 450

b) Rs. 150

c) Rs. 320

d) Rs. 470

23. How much money Shruti paid for 20 diyas?

श्रुति ने 20 दीयो के लिए कितने रूपये दिए?

a) Rs. 20

b) Rs. 60

c) Rs. 3

d) Rs. 75

24. How much money did they spend in total?

उन्होंने कुल कितने रूपये खर्च किए?

a) Rs. 580

b) Rs. 470

c) Rs. 523

d) Rs. 630

25. Write the Rhyming word for the above picture.



- a) Hat                      b) Pan  
c) Hut                      d) Pen

26. Tell the silent letter in the name of the given picture.

- a) N                      b) P  
c) K                      d) O




27. Arrange the meals in the correct sequence.

1. Dinner
2. Breakfast
3. Evening Snacks
4. Lunch

- a) 1,2,3,4                      b) 2,4,3,1  
c) 4,3,2,1                      d) 3,2,1,4

28. Rohan's chair is broken. To whom will he go for repair ?

- a) Tailor                      b) Chemist  
c) Carpenter                      d) Farmer



29. With the letter in the word 'UMBRELLA' make a new word (Hint : Young one of a sheep) \_\_\_\_\_

- a) Cub
- b) Puppy
- c) Lamb
- d) Kitten



30. How can you make the opposite of 'Complete' by adding -

- a) dis
- b) im
- c) un
- d) in



31. Sohan likes reading. Do you also like reading?

Sohan wants to read the book.

Give him \_\_\_\_\_ book.

Fill in the correct option.

- a) there
- b) these
- c) that
- d) those



32. Our grandparents love us so much. Look at the picture.

Grandmother is cooking food and

\_\_\_\_\_ is helping her. (change the gender of the underlined word)

- a) Grandson
- b) Father
- c) Husband
- d) Grandfather





33.



संज्ञा के इंजन में सही शब्दों वाले डिब्बे लगाइए -

- क) बूढ़ा लाल अच्छा दो ख) जाता है था होगा
- ग) वह हम तुम सब घ) झाड़ू बरेली शेर राम

34..... विस्मयादिबोधक चिह्न है

- क) ! ख) '
- ग) ; घ) ( )

35.बच्चों, जिस रात पूरा चांद निकलता है, वह रात पूर्णिमा कहलाती है और जिस रात चांद नहीं दिखाई देता है उसे ..... कहते हैं।


- क) फागुन ख) अक्षय तृतीया
- ग) कार्तिक घ) अमावस्या

36.हाथी अपनी हथिनी और बंदर अपनी ..... के साथ जंगल में रहते थे।

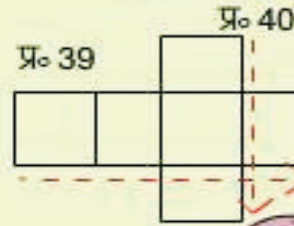
- क) गुड़िया ख) बंदरिया
- ग) चिड़िया घ) डिबिया

वर्ग पहेली बुझिए —

प्रश्न 39 व 40



बाहर से सख्त,  
अन्दर से नरम।  
पूजा के आता मैं काम,  
जल्दी बताओ मेरा नाम।



प्र० 40

मीठी-मीठी बोली मेरी,  
मीठा मेरा नाम।  
दूसरे के धोंसले में रहती,  
बिन मेहनत बिन काम।।



37. 'डाकिया' शब्द का वर्ण-विच्छेद होगा -

- क) ड् + आ + क् + इ + या ख) डा + कि + या  
ग) ड् + आ + क् + इ + य् + आ घ) ड + क + ई + य + आ



38. चित्र देखकर मुहावरा पहचानिए -

- क) हवा से बातें करना।  
ख) कमर कसना।  
ग) हवाई किले बनाना।  
घ) खरी-खोटी सुनाना।

## Qualitative Paper - 3

		English Language
1	(c)	
2	(c)	
3	(c)	25(d)
4	(d)	26(c)
5	(b)	27(b)
6	(d)	28(c)
7	(a)	29(c)
8	(d)	30(d)
		31(c)
		32(d)

### Passage

## Hindi Language

9(a)	
10(a)	
11(c)	
12(c)	33 (घ)
	34 (क)
	35 (घ)
	36 (ख)
	37 (ग)
	38 (ख)
	39 (क)
	40 (ख)

### Quantitative

13(a)	
14(a)	
15(c)	
16(c)	
17(b)	
18(d)	
19(c)	
20(c)	

### Passage

- 21(c)
- 22(d)
- 23(b)
- 24(a)