

DIRECTORATE OF EDUCATION

GOVT. OF NCT , DELHI

SUPPORT MATERIAL

2013-2014

PROBLEM SOLVING ASSESSMENT

CLASS-IV

**GROUP LEADER : POONAM KHANNA
VICE PRINCIPAL
SKV, ADARSH NAGAR.**

DIRECTORATE OF EDUCATION

GOVT. OF NCT , DELHI

PROBLEM SOLVING ASSESSMENT

2013-2014

CLASS-IV



**LIST OF MEMBERS WHO PREPARED SUPPORT MATERIAL
PROBLEM SOLVING ASSESSMENT (PSA)
FOR CLASS – IV
SESSION - 2013 - 14**

GROUP LEADER : MRS. POONAM KHANNA- PRINCIPAL SKV ADARSH NAGAR

TEAM MEMBERS

Sr. No.	Name	Designation
---------	------	-------------

LANGAUGE COVNENTION

1.	Mrs. Anu Rani	Assistant Teacher SKV Dakka
2.	Ms. Preeti Jindal	Assistant Teacher SKV Dakka
3.	Mrs. Lalita	Assistant Teacher RCSKV ,D- Block, Jahangir puri
4.	Mrs. Neeru Chandwani	Assistant Teacher RCSKV ,D- Block, Jahangir puri
5.	Mrs. Manisha Shakya	Assistant Teacher GSKV , BL- Block, Shalimar Bagh
6.	Mrs. Harjeet Kaur	Assistant Teacher GSKV , BL- Block, Shalimar Bagh

QUANTITATIVE REASONING

1.	Mrs. Manju Malik	Assistant Teacher SKV, Adarash Nagar
2.	Ms. Ruchi Sharma	Assistant Teacher SKV, JJ Colony Wazir Pur
3.	Mr. Hari Mohan	Assistant Teacher GSKV,(AH)Block ,Shalimar Bagh

QUALITATIVE REASONING

1.	Mrs. Lalita Singhal	Assistant Teacher SKV , Adarash Nagar
2.	Mrs. Alka Malhotra	Assistant Teacher SKV, Adarash Nagar
3.	Mrs. Smriti	Assistant Teacher SKV, Adarash Nagar
4.	Mrs. Monika	Assistant Teacher SKV, No-1 Modal Town -III
5.	Mrs. Kiran Rathee	Assistant Teacher SKV, , No-1 Modal Town

संज्ञा :-

खण्ड - (i) व्याकरण

किसी प्राणी, वस्तु, स्थान और भाव के नाम का बोध कराने वाले शब्द संज्ञा कहलाते हैं। जैसे - राम, मोहन, ताजमहल, हिमालय, लड़का, खुशी आदि।

संज्ञा के भेद



व्यक्तिवाचक संज्ञा :- किसी विशेष प्राणी, वस्तु या स्थान के नाम को व्यक्तिवाचक संज्ञा कहते हैं।

जातिवाचक संज्ञा :- जिन संज्ञा शब्दों से प्राणी, वस्तु या स्थान की पूरी जाति का बोध हो। जैसे :- लड़का, अध्यापक, राज्य, देश, पुस्तक आदि।

भाववाचक संज्ञा :- जिन संज्ञा शब्दों को हम छू, देख व पकड़ नहीं सकते, सिर्फ महसूस कर सकते हैं, भाववाचक संज्ञा कहलाते हैं। जैसे :- अच्छाई, भलाई, खुशी, हरियाली आदि।

शिक्षक सूत्र :-

व्यक्ति, जाति भाव हैं मेरे याद करो तुम सुबह सेवेरे। बन जाओगे ज्ञाता ज्ञानी। मैं हूँ बच्चों संज्ञा रानी।

1) ममता पढ़ने में बहुत तेज है। - इसमें कौन सा शब्द है?

- क) पढ़ने में
ग) तेज

- ख) बहुत
घ) ममता

2) आपसे मिलकर खुशी हुई ।

रेखांकित शब्द कौन सी संज्ञा है?

क) व्यक्तिवाचक

ग) भाववाचक

ख) जातिवाचक

घ) द्रव्यवाचक

3) अध्यापक कक्षा में पढ़ा रहे हैं।

क) जातिवाचक

ग) भाववाचक

ख) द्रव्यवाचक

घ) व्यक्तिवाचक

4) उचित संज्ञा शब्द भरो –

चुटकुला सुनकर मुझे आ गई है।

क) हँसी

ग) नींद

ख) भूख

घ) प्यास

5) जातिवाचक, व्यक्तिवाचक और भाववाचक के भेद हैं।

क) संज्ञा

ग) विशेषण

ख) सर्वनाम

घ) क्रिया

6. व्यक्तिवाचक संज्ञा पहचानो –

क) महात्मा गाँधी

ग) सच्चाई

ख) लड़की

घ) गाँव

सर्वनाम

संज्ञा के स्थान पर प्रयोग होने वाले शब्द सर्वनाम कहलाते हैं जैसे :- मैं, यह, वह, तुम, आदि।



- 1) **पुरुषवाचक सर्वनाम** :- जो सर्वनाम शब्द बोलने वाले, सुनने वाले व किसी अन्य व्यक्ति के लिये प्रयोग में लाए जाते हैं। जैसे - मैं, वह, तुम आदि।
- 2) **निश्चयवाचक सर्वनाम** :- किसी व्यक्ति या वस्तु के बारे में निश्चित जानकारी देने वाले शब्द। जैसे :- यह, इसने, उसने आदि।
- 3) **अनिश्चयवाचक सर्वनाम** :- किसी व्यक्ति या वस्तु की निश्चित जानकारी न देने वाले शब्द। जैसे :- कोई, किसी, कुछ आदि।
- 4) **प्रश्नवाचक सर्वनाम** :- ऐसे सर्वनाम शब्द जो प्रश्न पूछने के काम आते हों। जैसे :- कौन, कहाँ, कैसे, किसे आदि।
- 5) **संबंधवाचक सर्वनाम** :- वह सर्वनाम शब्द जो वाक्य में आने वाले दूसरे सर्वनाम शब्दों से उसका संबंध बताए। जैसे - जैसा-वैसा, जो-सो आदि।
- 6) **निजवाचक सर्वनाम** :- जिन सर्वनाम शब्दों का प्रयोग हम अपने लिए करते हैं। जैसे - स्वयं, खुद, अपने, आम आदि।

शिक्षक सूत्र :-

संज्ञा के स्थान पर आता, सर्वनाम कहलाता हूँ
ये, वे, आप, कभी, तुम, से मैं, भाषा सरल बनाता हूँ।

- 7) एक दूसरे का साथ देना चाहिए।
 क) मैं ख) हमें
 ग) वह घ) तुम
- 8) सर्वनाम शब्द चुनो –
 क) पूनम ख) तुम
 ग) यहाँ घ) आओ
- 9) "जैसा करोगे, वैसा भरोगे" किस प्रकार का सर्वनाम है?
 क) संबंधवाचक ख) अनिश्चयवाचक
 ग) प्रश्नवाचक घ) निजवाचक
- 10) उचित सर्वनाम शब्द चुनकर वाक्य पूरा करो।
 माँ मुझे खाने के लिए दे दो।
 क) कोई ख) जो
 ग) स्वयं घ) कुछ
- 11) मैं बाजार अपने-आप जाऊँगी। रेखाकित शब्द सर्वनाम का कौन सा प्रकार है?
 क) संबंधवाचक ख) निश्चयवाचक
 ग) निजवाचक घ) प्रश्नवाचक
- 12) मेरा दोस्त है। इस वाक्य में कौन सा शब्द नहीं आएगा।
 क) यह ख) वह
 ग) राम घ) कोई

विशेषण

जो शब्द संज्ञा या सर्वनाम की विशेषता बताते हैं, विशेषण कहलाते हैं। जैसे :- काला घोड़ा, नटखट बंदर, लाल रंग।

विशेषण के भेद

गुणवाचक

संख्यावाचक

परिमाणवाचक

सार्वनामिक

1) गुणवाचक विशेषण :- जो विशेषण शब्द संज्ञा या सर्वनाम शब्दों के गुण, दोष, स्वभाव, रंग और आकार आदि के बारे में जानकारी देते हैं। जैसे :- काला घोड़ा, पुराना घर



2) संख्यावाचक विशेषण :- जो विशेषण शब्द संज्ञा और सर्वनाम की संख्या की जानकारी देते हैं। जैसे :- दो बच्चे खेल रहे हैं।



3) परिमाणवाचक विशेषण :- जो विशेषण शब्द संज्ञा या सर्वनाम के माप-तौल के बारे में जानकारी देते हैं। जैसे :- चार लीटर दूध, दस किलो अनाज आदि।



4) सार्वनामिक विशेषण :- जो सर्वनाम शब्द संज्ञा से पहले लगकर उसकी विशेषता के बारे में जानकारी देते हैं। जैसे :- यह किताब मेरी है।



शिक्षक सूत्र :-

विशेषता बतलाना मेरा काम,
तभी विशेषण मेरा नाम ।
चार भेदों की करो यात्रा,
गुण, संख्या, संकेत, मात्रा ।

- 13) उचित विशेषण शब्द चुनकर रिक्त स्थान भरिए।
मुझे आलू दे दो।
क) दो किलो
ग) दो मीटर
ख) दो लीटर
घ) दो सेंटीमीटर
- 14) विशेषण शब्द चुनो। मुझे ठंडा पानी चाहिए।
क) चाहिए
ग) ठंडा
ख) मुझे
घ) पानी
- 15) कौन सा शब्द विशेषण नहीं है?
क) लाल कमीज
ग) मोटा आदमी
ख) हरा तोता
घ) ताजमहल
- 16)वह..... बंदर शैतान है। रेखांकित शब्द विशेषण का कौन सा भेद है?
क) संख्यावाचक
ग) परिमाणवाचक
ख) सार्वनामिक
घ) गुणवाचक
- 17)चाट को देखकर मेरे मुँह में पानी आ गया।
क) चार
ग) कुछ
ख) छोटी
घ) चटपटी
- 18) गुणवाचक विशेषण छाँटो।
क) नीला आसमान
ग) वह पुस्तक
ख) दो किलो चीनी
घ) कुछ जानवर

क्रिया

वे शब्द जिनसे किसी काम के करने या होने का पता चले, क्रिया कहलाते हैं। जैसे :- जाना, पढ़ना, सोना, लिखना, खेलना आदि।

क्रिया के भेद

सकर्मक क्रिया

जब क्रिया कर्म के साथ आती है तो सकर्मक कहलाती है।
जैसे :- माली पौधे लगा रहा है।

अकर्मक क्रिया

जब क्रिया कर्म के बिना आती है तो अकर्मक कहलाती है।
जैसे:- चिड़िया उड़ रही है।



शिक्षक सूत्र

कर्म के साथ सकर्मक हूँ, कर्म बिना अकर्मक हूँ। मेरे बिना है वाक्य अधूरा, क्रिया मेरा नाम है पूरा।

19) अध्यापक ने बच्चों को।

- क) समझाना
ग) समझाया

- ख) समझ
घ) समझी

20) 'रीना सो रही है।' इस वाक्य में कौन सी क्रिया है?

- क) सकर्मक
ग) दोनों

- ख) अकर्मक
घ) कोई नहीं

21) कौन सा जोड़ा मेल नहीं खाता?

- क) घड़ी देखना
ग) किताब-रखना

- ख) सब्जी-लिखना
घ) धोख-खाना

22) उचित कर्म लगाकर वाक्य पूरा कीजिए। चिड़िया छत परचुग रही है।

- क) दाना
ग) पत्ता

- ख) पानी
घ) धागा

23) वह रोज पार्क में है।

क) दौड़ना

ख) दौड़

ग) दौड़ा

घ) दौड़ता

24) तान्या तस्वीर बना रही हैं – वाक्य में से कर्म छाँटो।

क) तान्या

ख) बना

ग) तस्वीर

घ) रही है।



मुहावरे

किसी वाक्य में शब्दों का वह समूह जो सामान्य अर्थ न देकर कोई विशेष अर्थ प्रकट करें, मुहावरा कहलाता है।

जैसे :- पेट में चूहे कूदना

अर्थ :- तेज भूख लगना

शिक्षक सूत्र :-

भाषा रोचक बनाता हूँ, प्रभाव दिखलाता हूँ।

अर्थ विशेष दर्शाता हूँ, तभी मुहावरा कहलाता हूँ।

25) दातो तले उगली दबाना ।

क) लंबी चौड़ी बातें करना

ख) इधर - उधर बिखेर देना

ग) हैरान रह जाना

घ)

26) वाक्य में उचित मुहावरा लगाइए।

गोलगप्पे को देखते ही मेरे.....

क) मुँह की खाना

ख) मुँह लगाना

ग) अंग-अंग ढीला होना

घ) मुँह में पानी आ गया

27)



चित्र देखकर मुहावरे लिखो।
क) कानों कान खबर न होना
ख) कान पर जूँ न रेंगना
ग) आग में घी डालना
घ) कान काटना

28)



क) पाँव जमीन पर न पड़ना
ख) पाँव पर कुल्हाड़ी मारना
ग) नौ दो ग्यारह होना
घ) हाथ-पैर मारना।

29)

मुहावरे का सही अर्थ पहचानों
चोर पुलिस की आँखों में धूल झाँककर भाग गया।
क) धोखा देना
ख) अंधा करना
ग) आँखों में मिट्टी डालना
घ) डराना

लिंग परिवर्तन

जिन शब्दों से पुरुष जाति या स्त्री जाति का बोध हो, उसे लिंग कहते हैं। जैसे - बेटा-बेटी आदि।

लिंग के भेद



पुल्लिंग

पुरुष जाति का बोध कराने वाले शब्द पुल्लिंग कहलाते हैं।
जैसे - लड़का, आदमी, मोर आदि



स्त्रीलिंग

स्त्री जाति का बोध कराने वाले शब्द स्त्रीलिंग कहलाते - लड़की, सेठानी चुहिया आदि।

शिक्षक सूत्र -

स्त्री-पुरुष का भेद बताऊँ,
तभी तो बच्चों लिंग कहलाऊँ।

30) सही लिंग चुनकर वाक्य पूरा करो। कहानी सुना रही हैं।

क) नाना

ख) नानी

ग) दादा

घ) मामा

31) पुल्लिंग बताओ –

क) मुरगी

ख) लोमड़ी

ग) सिंहनी

घ) हिरन

32) बालक का स्त्रीलिंग है –

क) बालिका

ख) बाला

ग) बाली

घ) वालिका



33) रेखाकित शब्द का स्त्रीलिंग रिक्त स्थान में भरे।

आज लेखकों और का सम्मान होगा।

क) कवियों

ख) लेखनी

ग) कवयित्रियों

घ) लेखिकाओं

34) कौन सा शब्द स्त्रीलिंग नहीं है –

क) चुहिया

ख) गाय

ग) राधा

घ) बकरा

खण्ड – (i) व्याकरण

उत्तरमाला

- | | | | | |
|-------|-------|-------|-------|-------|
| 1) घ | 2) ग | 3) क | 4) क | 5) क |
| 6) क | 7) ख | 8) ख | 9) क | 10) घ |
| 11) ग | 12) घ | 13) क | 14) ग | 15) घ |
| 16) ख | 17) घ | 18) क | 19) ग | 20) ख |
| 21) ख | 22) क | 23) घ | 24) ग | 25) ग |
| 26) घ | 27) ख | 28) ख | 29) क | 30) ख |
| 31) घ | 32) क | 33) घ | 34) घ | |

खण्ड - (ii) (शब्द - ज्ञान)

विलोम शब्द :- जो शब्द एक दूसरे के विपरीत या उल्टा अर्थ बताएँ, उन्हें विलोम शब्द कहते हैं।

शब्द ज्ञान आधारित बहुविकल्पीय प्रश्न

1) कौन से शब्द विलोम हैं)

क) नवीन - प्रचीन

ख) भलाई - नेकी

ग) उदार - उदारता

घ) हित-सहित

2) व्यापार में लाभ - तो होते रहते हैं।

क) पैसा

ख) घर

ग) हानि

घ) सम्मान

3) कौन सा जोड़ा विलोम नहीं है।

क) कोमल X कठोर

ख) शत्रु X मित्र

ग) विजय X पराजय

घ) ठंडा X शीतल

4) आस्तिक का विलोम शब्द है-

क) ईश्वरवादी

ख) अंहकारी

ग) ईमानदार

घ) नास्तिक

5) सूर्य पूर्व में उदय होता है और पश्चिम में

क) भ्रष्ट

ख) अस्त

ग) खत्म

घ) नष्ट

6) प्रसन्न का विलोम है -

क) खुश

ख) अप्रसन्न

ग) हंसी

घ) योग्य

वाक्यांश के लिए शब्द - जो शब्द अनेक शब्दों के अर्थ को अपने भीतर समेटे रहता है। जैसे - जिसका कोई आकार न हो - निराकार।

7) ईश्वर पर विश्वास रखने वाला

क) नास्तिक

ग) अभागा

ख) आस्तिक

घ) ईश्वरवादी

8) संदेश ले जाने वाला

क) समाचारवाहक

ग) पत्रवाहक

ख) भारवाहक

घ) संदेशवाहक

9) जो सदा सत्य बोलता हो

क) सदाचारी

ग) सच्चाई

ख) सत्यवादी

घ) सत्यवान

10) राहुल चित्र बनाता है वह है।

क) पत्रकार

ग) चित्रकार

ख) फिल्मकार

घ) कहानीकार

11) यह कार्यक्रम सप्ताह में एक बार आता है, ये है।

क) वार्षिक

ग) मासिक

ख) दैनिक

घ) साप्ताहिक

12. जिसका कोई मूल्य न हो

क) दुर्लभ

ग) कीमती

ख) अमूल्य

घ) मूल्यवान

पर्यायवाची शब्द -

समान अर्थ बताने वाले शब्दों को पर्यायवाची शब्द कहते हैं।



वृक्ष :- पेड़, तरु, विटप

13) रेखाकित शब्द का उपयुक्त पर्यायवाची शब्द चुनो। भोर होते ही किसान निकल पड़ते हैं।

क) बारिश

ग) सेवरा

ख) इच्छा

घ) रात्रि

14) मेरा मित्र मोहन बहुत अक्लमंद है।

क) चौकन्ना

ख) होशियार

ग) परेशान

घ) खुश

15) चित्र देखकर पर्यायवाद शब्द की पहचान करो।



फूल

क) अनुज

ख) वृक्ष

ग) सुमन

घ) शाखा

16) हवा का पर्यायवाची है -

क) पवन

ख) पावन

ग) अनल

घ) पावक

17) पुत्र का पर्यायवाची है -

क) बालक

ख) अनुज

ग) बेटा

घ) राकेश

18) गलत पर्यायवाची पर निशान लगाएँ। धरती :-

क) भू

ख) भूमि

ग) धरा

घ) धारा

अशुद्धि - शोधन

व्याकरण हमें शब्दों और वाक्यों के सही उच्चारण की जानकारी देता है। लेकिन कभी-कभी व्याकरण के नियमों की सही जानकारी न होने के कारण शब्दों और वाक्यों में अशुद्धियाँ आ जाती हैं जिसे हम अभ्यास द्वारा सुधार सकते हैं।

19) शुद्ध शब्द का चुनाव करें।

क) अतीथी

ख) अतिथि

ग) अतिथी

घ) आतिथि

क. प्रमे

ख. प्रेम

ग. परेम

घ. प्रुमे

क. प्रसन

ख. पृश्न

ग. प्रश्न

घ. प्रश्न

क. वयु

ख. वायु

ग. बायू

घ. वायू

क. दीवार

ग. दिवार

ग. दिवार

घ. दीबार

वचन

शब्द के जिस रूप से संज्ञा या सर्वनाम के एक या अनेक होने का बोध हो, उसे वचन कहते हैं। वचन से संख्या का बोध होता है।

शिक्षक सूत्र :- संख्या का जो ज्ञान कराए,
वही तो बच्चों वचन कहलाए।
एकवचन और बहुवचन
दोनों इसके भेद कहलाएँ।

24) रिक्त स्थान भरिए।

सड़क पर दौड़ रही हैं।

- | | |
|---------|---------|
| क) बस | ख) बसें |
| ग) बसों | घ) बसाँ |

25) मिठाई पर मक्खी भिनभिना रही है।

रेखांकित शब्द का वचन बदलो -

- | | |
|-------------|-------------|
| क) मक्खियाँ | ख) मक्खी |
| ग) मक्खियों | घ) मक्खीयों |

26) गिलहरी - बहुवचन छाँटो।

- | | |
|--------------|--------------|
| क) गिलहरियों | ख) गिलहरियाँ |
| ग) गीलहरी | घ) गीलहरीयाँ |

27) साधु - बहुवचन चुनो।

- | | |
|-----------|------------|
| क) साधो | ख) सज्जनों |
| ग) साधुओं | घ) साधौ |

28) वधु - बहुवचन चुनो

- | | |
|-----------|----------|
| क) वधुओं | ख) वधुएँ |
| ग) विदुषी | घ) विधुर |

29) पेड़ पर अनेक लगे हैं।

- | | |
|-----------|-------------|
| क) पत्ता | ख) पत्ते |
| ग) पत्तों | घ) पत्तियों |

विराम – चिह्न

पढ़ते या लिखते समय वाक्य में रुकने के लिए लगाए गए चिहनों को विराम – चिह्न कहते हैं।

विराम चिह्न के प्रकार

- | | |
|-------------------------|--------------------------|
| 1) पूर्णविराम (।) | 2) अल्पविराम (,) |
| 3) प्रश्नवाचक चिह्न (?) | 4) विस्मय बोधक चिह्न (!) |

1) **पूर्णविराम (।)** :- वाक्य पूरा होने पर पूर्ण विराम लगाते हैं। जैसे :- आज रीना का जन्मदिन है।

2) **अल्पविराम (,)** :- बोलते या पढ़ते समय हम जहाँ थोड़ी देर के लिए रुकते हैं, वहाँ अल्पविराम लगाते हैं।

जैसे :- तापस, तरुण और करण खेल रहे हैं।

3) **प्रश्नवाचक चिह्न (?)** :- प्रश्न पूछते या लिखते समय वाक्य के अंत में इस चिह्न का प्रयोग होता है।

जैसे :- तुम कहाँ रहते हो ?

4) **विस्मयादिबोधक चिह्न (!)** :- घृणा, दुःख, खुशी और आश्चर्य का भाव दर्शाने वाले वाक्यों में इस चिह्न का प्रयोग होता है।

जैसे :- वाह! क्या खूबसूरत बगीचा है।

शिक्षक सूत्र :-

वाक्य अंत हो, 'पूर्णविराम'
जरा रुको तो, 'अल्पविराम'
कुछ पूछो तो, 'प्रश्नचिह्न'
आश्चर्य दर्शाए 'विस्मय चिह्न'
मिले समय तो करो विश्राम,
कहते मेरे चिह्न – विराम।

दिए गए विराम चिह्नो चुनकर लिखो।

तेज बारिश हो रही थी (1) बंदर टंड के मारे काँप रहा था (2) चिड़िया से रहा न गया। वह बोली – अरे (3) बंदर भैया आप टंड से काँप रहे हैं। आप इतने शक्तिशाली और समझदार हैं (4) फिर भी अपने लिए कोई घर नहीं बना पाए। यदि आज आपका घर होता तो इस तरह वर्षा में भीगना न पड़ता।

30) क) ख)
ग) घ)

31 क) ख)
ग) घ)

31 क) ख)
ग) घ)

33) क) ख)
ग) घ)

34) थोड़ा रूकने पर कौन सा चिह्न लगाया जाता है ?

क) अल्पविराम ख) पूर्णविराम
ग) प्रश्नवाचक घ) विस्मयबोधक

35) वाक्य में सही विराम चिह्न लगाओ।

तुम कहाँ जा रहे हो

क) ख)
ग) घ)

खण्ड – (iii)

प्रश्न 1. निम्नलिखित गद्यांश पढ़कर प्रश्नों के सही विकल्प चुनें।

कृष्ण और सुदामा एक ही गुरु से शिक्षा पाते थे। वे दोनों अपने गुरु संदीपन के साथ गुरुकुल में ही रहते थे। जब शिष्य बाहर किसी काम से जाते तो गुरुमाता उन्हें खाने के लिए कुछ दे देती थी। एक दिन कृष्ण और सुदामा लकड़ी काटने जंगल में गए। गुरुमाता ने उन्हें खाने के लिए कुछ चने दे दिए। जंगल में जब वे दोनों लकड़ी काट रहे थे, तब अचानक मूसलाधार वर्षा होने लगी। दोनों मित्र एक दूसरे से अलग हो गए। चने सुदामा के पास थे। सुदामा को भूख लगी और उसने सारे चने खा लिए। सुदामा और कृष्ण की मित्रता बहुत पक्की थी, पर कृष्ण को यह घटना सदा याद रही।

1) इस गद्यांश में किन दो मित्रों की बात हो रही है?

क) राम - श्याम

ख) कृष्ण - सुदामा

ग) संदीपन - सुदामा

घ) कृष्ण - संदीपन

2) मित्र का पर्यायवाची क्या है?

क) लड़का

ख) आदमी

ग) दोस्त

घ) शत्रु

3) कृष्ण और सुदामा जंगल में क्यों गए?

क) चने खाने

ख) लकड़ियाँ काटने

ग) खेलने

घ) पढ़ने

4) मित्रता का विलोम शब्द क्या है?

क) पराया

ख) मित्र

ग) शत्रु

घ) शत्रुता

5) गुरुमाता ने उन्हें खाने के लिए क्या दिया था?

क) चने

ख) खाना

ग) रोटी

घ) मिठाई

निम्नलिखित पद्यांश को पढ़कर प्रश्नों के सही विकल्प चुनें।

प्र० 2

उपवन तुमने देखा होगा,
देखी होगी उसकी क्यारी।
सतरंगे फूलों की शोभा,
देखी होगी प्यारी – प्यारी।

सुमनों ने कब लड़ना सीखा,
वे हँसते-हँसते जीते हैं,
औरों को सौरभ देते हैं,
अपना रस कभी न पीते हैं।

बच्चों! तुम भी हँसों फूल से,
सबको अपना प्यार बाँट दो।
बाधाओं में अडिग रहो तुम,
भेदभाव को दूर छाँट दो।

(i) उपवन का पर्यावाची शब्द लिखो।

- क) पेड़
ग) नदियाँ

- ख) बाग-बगीचा
घ) पहाड़

(ii) बच्चों को फूलों से क्या शिक्षा लेनी चाहिए?

- क) खुशबू फैलाना
ग) बाधाओं में अडिग रहना

- ख) सवारी
घ) खिलना

(iii) 'प्यारी' का एक ल्यात्मक शब्द चुनो।

- क) प्यारा
ग) सरदी

- ख) सवारी
घ) क्यारी

(iv) कविता में आए शब्दों से फूलों का विशेषण शब्द लिखो।

- क) सुमन
ग) सतरंगे

- ख) उपवन
घ) प्यारे

(v) फूल कैसे जीते हैं?

- क) रोते रोते
ग) खिलकर

- ख) हँसते-हँसते
घ) लड़कर

चित्र देखकर प्रश्नों के सही उत्तर दीजिए।

प्र० 3



- i) इस चित्र में कौन सा त्यौहार मनाया जा रहा है
क) होली
ख) दीपावली
ग) ईद
घ) क्रिसमस
- ii) यह त्यौहार को मनाया जाता है।
क) 15 अगस्त
ख) 2 अक्टुबर
ग) 25 दिसम्बर
घ) 26 जनवरी
- iii) क्रिसमस के दिन पूजा करने कहाँ जाते हैं?
क) चर्च
ख) मंदिर
ग) मस्जिद
घ) गुरुद्वारा
- iv) घर किस चीज से ढका हुआ है?
क) पानी
ख) बर्फ
ग) पत्ते
घ) उपहार
- v) इस दिन कौन सा पेड़ सजाया जाता है?
क) पीपल
ख) बरगद
ग) क्रिसमस ट्री
घ) खजूर

निम्नलिखित गद्यांश को पढ़कर प्रश्नों के सही विकल्प चुनें।

मानव जीवन में खेलों का बहुत अधिक महत्व होता है। खेलने से ही हमारा तन मन स्वस्थ होता है। हमारे शरीर में ताजगी और स्फूर्ति आती है। हम अधिक मन लगाकर पढ़ाई भी करते हैं।

खेल दो प्रकार के होते हैं— घर के अंदर खेले जाने वाले खेल,

जैसे – लूडो, शतरंज आदि तथा घर के बाहर खुले मैदान में खेले जाने वाले खेल, जैसे – फुटबाल, क्रिकेट, हॉकी आदि। खेलने से हमारा व्यायाम अपने आप हो जाता है। खेल में

हम अनुशासन सीखते हैं तथा हार-जीत को स्वीकार करना सीखते हैं। इससे परस्पर प्रेम और भाईचारा भी बढ़ता है। अब तो खेलों के द्वारा प्रसिद्धि व धन भी कमाया जा सकता है।

(i) जीवन में खेलों का महत्व क्यों है?

क) पैसा मिलता है।

ख) दोस्त बनते हैं।

ग) तन मन स्वस्थ बनता है।

घ) समय की बचत होती है।

(ii) खेल कितने प्रकार के होते हैं?

क) चार

ख) दो

ग) पता नहीं

घ) तीन

(iii) खेलों में भाग लेने से क्या कमाया जा सकता है?

क) भारत-रत्न

ख) प्रेरणा

ग) सामान

घ) प्रसिद्धि व धन

(iv) घर के बाहर खेले जाने वाले खेल हैं _____

क) शतरंज व लूडो

ख) हॉकी व शतरंज

ग) फुटबॉल व क्रिकेट

घ) लूडो व बैडमिन्टन

(v) खेलों द्वारा हम क्या सीखते हैं?

क) अनुशासन

ख) बागवानी

ग) कविता करना

घ) पढ़ाई

प्रश्न-5

निम्नलिखित पद्यांश को पढ़कर प्रश्नों के सही विकल्प चुनें।

अम्मा! आज जन्मदिन मेरा, मैं तो खुशी मनाऊँगा। केक-वेक कुछ नहीं काटूँगा, मैं तो पेड़ लगाऊँगा। केक-वेक कुछ नहीं काटूँगा, मैं तो पेड़ लगाऊँगा। वर्षा में है पेड़ सहायक, हवा साफ़ ये करते हैं।

रोटी - कपड़ा सब कुछ इनसे, फल - फूल भी देते हैं। जड़ी-बूटियाँ इनसे आती, स्वस्थ हमें ये रखते हैं। पेड़ हमारे सच्चे साथी, इनको खूब उगाऊँगा। केक-वेक कुछ नहीं काटूँगा, मैं तो पेड़ लगाऊँगा।

(i) बच्चा अपने जन्म-दिन पर क्या करना चाहता है?

क) केक काटना

ख) धूमना

ग) पेड़ लगाना

घ) विद्यालय जाना

(ii) पेड़ों से मिलने वाली चीजें

क) पुस्तक, चिड़ियां

ख) तारें, नदियां

ग) केक, समोसा

घ) जड़ी बूटी, फल

(iii) बच्चा क्या संदेश दे रहा है?

क) जन्मदिन मनाना

ख) पेड़ लगाना

ग) जड़ी बूटियां उगाना

घ) खुशी मनाना

(iv) पेड़ हमारे सच्चे हैं।

क) पड़ोसी

ख) परिवार

ग) बहन

घ) साथी

(v) वर्षा का समानार्थी शब्द है

क) नदी

ख) बारिश

ग) तालाब

घ) समुद्र

खण्ड - (ii) उत्तरमाला

1) (क)	2) (ग)	3) (घ)	4) (घ)
5) (ख)	6) (ख)	7) (ख)	8) (घ)
9) (ख)	10) (ग)	11) (घ)	12) (ख)
13) (ग)	14) (ख)	15) (ग)	16) (क)
17) (ग)	18) (घ)	19) (ख)	20) (ख)
21) (घ)	22) (ख)	23) (क)	24) (ख)
25) (क)	26) (ख)	27) (ग)	28) (ख)
29) (ख)	30) (ग)	31) (क)	32) (ग)
33) (ग)	34) (क)	35) (ग)	

खण्ड (iii) उत्तरमाला

1) (i) (ख)	(ii) (ग)	(iii) (ख)	(iv) (घ)	(v) (क)
2) (i) (ख)	(ii) (ग)	(iii) (घ)	(iv) (ग)	(v) (ख)
3) (i) (घ)	(ii) (ग)	(iii) (क)	(iv) (ख)	(v) (ग)
4) (i) (ग)	(ii) (ख)	(iii) (घ)	(iv) (ग)	(v) (क)
5) (i) (ग)	(ii) (घ)	(iii) (ख)	(iv) (घ)	(v) (ख)

NAMING WORDS

Mr. Gupta



(Person)



Red Fort (Place)

Yummy!
Ice Cream



(Thing)

Fury
Cat




(Animal)

Names of persons, places, animals, or things are called Naming Words or Noun.

Types of Naming Words (Noun)

Proper Noun



Paste your
picture.

My name is.....

Proper nouns are name of particular persons, Places or things, They always begin with a capital letter. Eg. Rani, Delhi Taj mahal etc.

Common Noun



An apple

Common Nouns are the name given in Common to every person, place or thing of the same kind. Eg. School, book, girl, boy, toy etc.

Collective Noun



Team of players.

A Collective Noun is the name of a collection of persons or things taken together. Eg. Team, bunch, heard etc.

Ques:1 Tick, which is a naming word:

(a) Sleep (b) Seeta (c) Play (d) Grow.

Ques:2 Tick, which is not a naming word:

(a) Book (b) Pencil (c) Draw (d) Eraser.

Ques:3 Colour green in naming words. And then tick correct answer.

Egg

Milkman

She

Talking

Zebra

Delhi

Good

potato

(a) Egg , Milkman , Zebra , Delhi , Potato

(b) Egg , Milkman , Zebra , talking , She

(c) Egg , Milkman , talking , Zebra , Delhi

(d) Egg , Milkman , She , talking , potato.

Ques:4 Choose the common noun from the following words:

(a) Honesty (b) Micky (c) Chair (d) Jaipur

Ques:5 Choose the proper noun from the following words:

(a) tree (b) book (c) mobile phone
(d) Mahatma Gandhi.

Ques:6 Choose the correct group for:
Rose, Lotus, Lilly, Marigold.

- (a)Vegetables (b) Countries
(c) Fruits (d)Flowers.

Ques:7 Choose the Collective Noun for:

A class of.....

- (a)players (b)students (c)people (d)cards.

Ques:8

A herd of.....

- (a)deer (b)lion (c)sheep (d)Zebra

I,m a
Singular
Noun,
means
one person,
Place
or
Thing.



I,m a
plural
noun,
means
more than
one
persons,
place or
thing.

Let's do some Practice

Ques:1 Give plural of the following.

1. Baby-
(a)Babys (b)Babies (c)Babyes (d)Babes.
2. Mosquito-.....
(a)Mosquitoes (b)Mosquitos (c)Mosquitous (d)Mosquity.

Ques:3 Horse-.....

- (a)Horses (b)Horsees
(c)Horsee (d)Horse



Ques:4 Flower-.....

- (a)Flowers (b)Floweres
(c)Flowerrs (d)Flower



Ques: Fill in the blanks with the plural nouns in the bracket.

Q.5. The cat killed the(mouse).

- (a)mouses (b)mousees (c)mouse (d)mice

Q.6. All the (man).....and (woman).....
clapped for the singer.

- (a)Man, Woman (b)Men, Woman
(c)Men, Women (d)Mans, Womans.



John is a Boy.
He lives in Delhi.
He loves to eat snacks.
He plays football.

Ani is a Girl.
She also lives in Delhi.
She loves to eat fruits.
She plays badminton.

Let' do some practice:

Read the passage carefully and change the gendre of the words given in the bracket.

I am a farmer. I have four...①.....(sons) and one ...②.....
(daughter). My....③.....(husband) loves....④.....
(his) elder....⑤.....
(son) very much. My son married to a.....⑥.....(boy),
who is a....⑦.....(poet).

1. (a) girls (b) daughters (c) ladies (d) babies
2. (a) son (b) boy (c) baby (d) Child
3. (a) girl (b) widow (c) wife (d) lady
4. (a)him (b) her (c) she (d) my
5. (a) girl (b) lady (c) baby (d) daughter
6. (a) girl (b) wife (c) she (d) her
7. (a) nun (b) poetess (c) woman (d) actor

Answer Key

1.(b) 2.(c) 3.(a) 4.(c) 5.(d) 6.(d) 7.(b) 8.(a)

One and Many

1.(b) 2.(a) 3.(a) 4.(a) 5.(d) 6.(c)

He or She

1.(b) 2.(a) 3.(c) 4.(b) 5.(d) 6.(a) 7.(b)

NOUN REPLACING WORDS

PRONUONS

Let's read the following sentences:

1. Sonu has a ball.
He has a ball.
2. Meera is eating bread.
She is eating bread.
3. The bird is flying with a flower.
It is flying with a flower.



He, She, It are used in place of Sonu, Meera and Bird. These words (he, she, and it) are called pronoun.

A pronoun is a word used in place of a noun.

Now, let's study the table and know about more pronouns.

	Singular pronoun	Plural pronouns
First person	I, me, mine	We, us, ours
Second person	You, yours	You, yours
Third person	He, she, it, him, her, his, its	They, them, theirs

Choose the pronouns from the following sentences:

1. We are going on the picnic.
(a) are (b) a (c) on (d) we
2. He is a very good boy.
(a) boy (b) very (c) he (d) is
3. Neha helps her mother in the kitchen.
(a) her (b) Neha (c) mother (d) the



B. Replace under lined Words with pronouns:

4. I drew a picture. I gave the picture to my sister.

- (a) them (b) his (c) it (d) he.

5. The farmer is working in the field, The farmer is planting seeds .

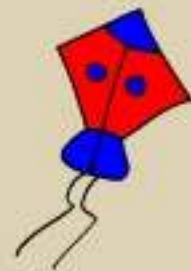
- (a) It (b) He (c) They (d) We



6. Titli and I are going to market.

Titli and I are going to buy a kite.

- (a) We (b) they (c) him (d) he.



C. Choose the correct pronouns from the following sentences:

7. Who will give.....a glass of water.

- (a) I (b) his (c) me (d) he.

8. Bill andare going the party.

- (a) me (b) I (c) her (d) his.

9. Mary can't come as.....is ill.

- (a) he (b) she (c) it (d) I

10. Reena's mother asked.....to clean up bathroom.

- (a) his (b) him (c) our (d) her.



Answer key

- | | | | | |
|-----|--------|--------|--------|---------|
| (A) | 1. (d) | 2. (c) | 3. (a) | |
| (B) | 4. (c) | 5. (b) | 6. (a) | |
| (C) | 7. (c) | 8. (b) | 9. (b) | 10. (d) |

DESCRIBING WORDS
ADJECTIVES



Red apples



Fat boy



Tasty cake

Here the words red, tasty, and fat describes the naming words such as apple, cake and boy.

So,

Words that describe nouns are called
Describing words or Adjectives.

Adjectives tell about-

- size : big, Large, small
- Shape : square, round
- Colour : red, blue
- Number : ten, seven
- Speed : fast, slow
- Quality / feeling : good, sad, happy, beautiful
- Age : young, old



A square table.



A red top.



5 kg apple



The earth is round.

Tick (✓) the adjectives for the following sentences:

1. Rinku has a very sweet voice.

(a) Very (b) voice (c) sweet (d) Rinku

2. The rainbow has seven colours.

(a) colour (b) seven (c) rainbow (d) the

3. Beautiful rose grow in the garden.


(a) roses (b) garden (c) grow (d) beautiful.

4. This is a fat hen.

(a) hen (b) fat (c) this (d) is.

5. Fresh vegetables are good for health

(a) good (b) health (c) fresh (d) vegetables.



Choose the correct adjectives for the following sentences:

6. I likerose.

(a) good (b) fat (c) heavy (d) red.

7. Giraffe has a.....neck.

(a) short (b) long (c) small (d) big.

8. Delhi is a..... city.

(a) big (b) round (c) large (d) bad.

9. Thecat drank all the milk.

(a) hot (b) thirsty (c) heavy (d) sweet.

10. My Grandfather is very.....

(a) young (b) blue (c) fresh (d) old.

Choose the opposites for underlined words.

11. Rohan wears new clothes.

(a) old (b) expensive (c) fresh (d) long.

12. Shilpa has long black hair.

(a) big (b) small (c) dirty (d) short.

ARTICLES

A, AN, THE

Vowels and Consonants

a, b, c, d, e, f, g, h, i, j, k, l,, x, y, z are letters of the alphabet. There are 26 letters in all. Of these **a, e, i, o, u** are called vowels. The rest are consonants.

A

A is used before words beginning with a consonant sound.



a tree



a book

An

An is used before words beginning with a Vowel sound.



an apple



an umbrella

Note:- We also Write an ass, an ant, an owl, an eye, an artist, an elephant, an hour, an honest person.

The

The is used with special names of places, rivers, books or things.



the moon,



the Gita

(A) Tick (✓) the correct Article (a or an)

1. (a/an) apple
2. (a/an) school
3. (a/an) ear
4. (a/an) umbrella
5. (a/an) pen

(B) Fill with correct article

6. I have _____ new hat.
(a) an (b) a (c) the (d) none
7. _____ Taj Mahal is in Agra.
(a) a (b) the (c) an (d) none
8. Aladdin had _____ wonderful lamp.
(a) the (b) an (c) a (d) none
9. He is _____ honest man.
(a) an (b) a (c) the (d) none
10. The earth revolves around _____ sun.
(a) a (b) the (c) an (d) none

JOINING WORDS

Connectors

1. Meera has a English book.
Meera has a Hindi book.
→ Meera has a English **and** a Hindi book.



Golu is fat. Dolly is slim.

→ Golu is fat **but** Dolly is slim.



You can have a ice-cream.

You can have a cup of tea.



→ You can have an ice-cream **or** a cup of tea.

The words and, but, or, connect two or more words or sentences. They are called connectors or joining words.

Tick (✓) the joining words in following sentences:

- You can speak Hindi or English.
(a) can (b) you (c) speak (d) or
- Ram and Shyam are brothers.
(a) and (b) Ram (c) are (d) brothers
- He is old but strong.
(a) old (b) he (c) but (d) is
- Do you want a pen or a pencil.
(a) a (b) or (c) you (d) want

Choose the correct joining word from the following and fill the blanks.

- He is clever _____ lazy boy.
(a) he (b) but (c) or (d) and

6. I ran fast _____ missed the train.

(a) and (b) but (c) or (d) none

7. Sonal wants a pastry _____ cold drink.

(a) and (b) but (c) or (d) none

8. Seema can go by bus _____ by car.

(a) or (b) but (c) and (d) none

HOMOPHONES



We **see** many animals
in the zoo.



The ship is sailing
in the **sea**.

8

I ate eight
ice creams in
the fair.



The sun is shining
brightly.



Rohan is Mr. Gupta's
son.

**Homo means same
phone means sound**

Homophones are words which have the same sound but they do not mean the same. they are also spelt differently.

Lets do some practice:

Choose the correct homophone words-

1. The cow has a long _____. (tale , tail)
2. Rohan ate the _____ (whole , hole) cake.
3. Mr. Ravi Shankar is our school _____.
(principal , principle)
4. We cut some _____ (would , wood) for furniture.
5. Did you _____ (meat , meet) our new teacher?

Choose the correct homophones for the underlined words:-

6. The golden deer was very _____ to him.
(a) fear (b) dear (c) bear (d) near
7. He had a fever for a week and he is feeling very _____.
(a) weak (b) meek (c) leak (d) seek
8. He writes with his _____ hand.
(a) left (b) might (c) sight (d) right

Answer Key (describing words)

- | | | | | |
|---------|---------|--------|--------|---------|
| 1. (c) | 2. (b) | 3. (d) | 4. (b) | 5. (c) |
| 6. (d) | 7. (b) | 8. (a) | 9. (b) | 10. (d) |
| 11. (a) | 12. (d) | | | |

Articles (a, an, the)

- | | | | | |
|--------|--------|--------|--------|---------|
| 1. an | 2. a | 3. an | 4. an | 5. a |
| 6. (b) | 7. (b) | 8. (c) | 9. (a) | 10. (b) |

Joining Words (connectors)

- | | | | | |
|--------|--------|--------|--------|--------|
| 1. (d) | 2. (a) | 3. (c) | 4. (b) | 5. (b) |
| 6. (b) | 7. (a) | 8. (a) | | |

Homophones

- | | | | |
|---------|----------|--------------|---------|
| 1. tail | 2. whole | 3. principal | 4. wood |
| 5. meet | 6. (b) | 7. (a) | 8. (d) |

PUNCTUATION



Full stop



Capital letter



Comma



Question mark

These are Punctuation marks.

Punctuation help us to understand where to pause in a sentence and indicates where we need to stop.

A **Full stop** is used to mark the end of a sentence.

A **Question mark**(?) is used to end a question.

A **comma** (,) is used to show a short pause or break between part of sentence.

Capital letters are used to begin a sentence, to begin all proper nouns and pronoun I.

Let's practice -

Rewrite these sentences using punctuation marks.

1. i wanted to by sugar tea jam and cornflakes.

2. where does your grandfather live

3. we are going to delhi

4. do you want to see the taj mahal

5. rani saw ducks boats and her friend rashmi

PLAY WITH WORDS



1. Complete the blanks to form a new word P__CO_K
(a) paeccok (b) peacock
(c) poacock (d) peccoak
2. Tick (✓) the silent letter in word often
(a) f (b) e (c) t (d) o
3. Which word can't be formed CATERPILLER
(a) CAT (b) RAT (c) ATE (d) DATE
4. Choose the correct spelling from the following
(a) feinrds (b) friends (c) frndies (d) fnerids
5. Tick(✓) the silent letter in word HONEST
(a)H (b)E (c)O (d)S

Answer key

Punctuation

1. I wanted to buy sugar, tea, jam and cornflakes.
2. Where does your grandfather live?
3. We are going to Delhi.
4. Do you want to see the Taj Mahal?
5. Rani saw ducks, boats and her friend Rashmi.

Play with words

- 1.(b) 2.(c) 3.(d) 4.(b) 5.(a)

ACTION WORDS -VERBS



BRUSHING DANCING PLAYING SLEEPING

In above pictures, the action being done are brushing, Dancing, playing, and sleeping. So these are doing or action words or verbs.

A verb is an action or doing word and tells what a person, animal or thing does.

Let's do some practice:

Choose the correct verbs from the following Sentences:

1. The old man shouted at the children.

(a) old man (b) children (c) shouted (d) at

2. Radha is singing a song.

(a) song (b) singing (c) a (d) Radha

Complete the following sentences using suitable verb:

3. Seeta is _____ the television.

(a) seeing (b) looking (c) Watching (d) listening

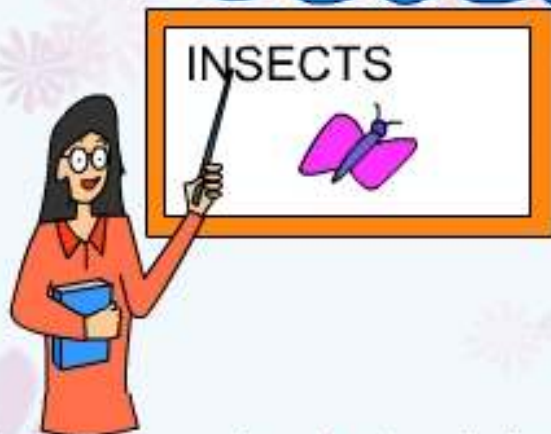
4. The kite is _____ in the sky.

(a) Running (b) flying (c) Walking (d) dancing

5. The mother bird is _____ the chicks.

(a) feeding (b) giving (c) eating (d) taking

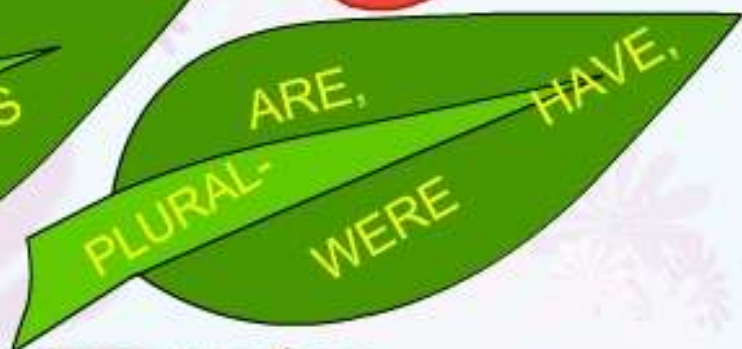
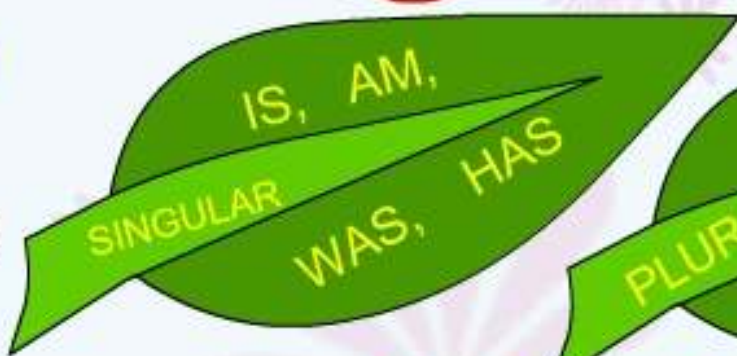
HELPING VERBS (Auxiliaries)



1. The teacher **is** teaching in the class.

2. The sweet girl **was** sleeping soundly.

Action words need the help of is, are, am, was, and were to describe the action. Therefore is, are, am, was and were are called Helping verbs or auxiliaries.



Let's do some practices

Choose the correct helping verb for the following sentences:-

1. There _____ a book on the table.

(a) is (b) was (c) am (d) were

2. The buses _____ standing at the bus stand.

(a) is (b) was (c) are (d) None

3. Last year, Mr. Gupta _____ my doctor.

(a) is (b)are (c)was (d)were

4. The boys _____ playing in the garden yesterday.

(a)were (b)is (c)are (d)was

Select the helping verb from the following sentences:-

5. A lion has strong teeth.

(a)Lion (b) has (c) strong (d)teeth

6. The parrots have eaten all the chillies.

(a)chillies (b)parrots (c)have (d)eaten

7. A Giraffe has a long neck.

(a)has (b)long (c)neck (d)none

8. I am the monitor of my class.

(a) I (b) class (c) am (d)none

Choose the suitable helping verb:

9. Sapna _____ crossing the road when a motor bike came and hit her.

a) is (b)was (c)were (d)had

10. We _____ playing in the park, when it started raining.

a) was (b)were (c)are (d)have

SIMPAL PAST TENSE

Simpal past is used to show actions that happened some time in the past.



Mother Teresa was a great saint. She helped the poor and needy people. She left her family for the welfare of needy people.

Note:- The words **Was, helped, and left** shows the past actions.

Let's practice:

Colour the correct past form of the action word:

1. Play. (a) Plays (b) Playing (c) Played (d) none
2. Wish (a) Wished (b) Wishes (c) Wishing (d) none
3. Come (a) Coming (b) Comes (c) Came (d) none
4. Go (a) Gone (b) Went (c) Going (d) Goes
5. Eat (a) Eating (b) Eats (c) Ate (d) Eaten

Tick (✓) the correct past form of action Words given in brackets:

6. My mother _____ (make) very tasty food.
(a) make (b) made (c) making (d) maked
7. Everybody _____ (laugh) at my joke.
(a) laughs (b) laughing (c) laughed (d) laugh

8. An elephant _____ (walk) slowly.
(a) walked (b) walks (c) walking (d) walk
9. I _____ (get) up early in the morning yesterday.
(a) get (b) getting (c) got (d) gets
10. The man _____ (shout) loudly.
(a) shout (b) shouted (c) shouts (d) shouting

Answer Key

Action words

1. (c) 2. (b) 3. (c) 4. (b) 5. (a)

Helping Verbs (Auxiliaries)

1. (a) 2. (c) 3. (c) 4. (a) 5. (b)
6. (c) 7. (a) 8. (c) 9. (b) 10. (b)

Simple Past Tense

1. (c) 2. (a) 3. (c) 4. (b) 5. (c)
6. (b) 7. (c) 8. (a) 9. (c) 10. (b)

ASKING QUESTIONS

Question Words

WH family

What When Why Which Who Whom How

These are the members of 'WH' family. These are question words we use them to begin Questions And Question ends with '?'

Exercise

Question: Complete following questions from the 'WH' family.

Ques 1: _____ is the name of your class teacher?

(a) which (b) how (c) why (d) what

Ques 2: In _____ street do you live?

(a) How (b) which (c) whom (d) why

Ques 3: _____ are you going in the evening?

(a) whom (b) when (c) where (d) why

Ques 4: _____ were you late to school yesterday?

(a) why (b) whom (c) how (d) where

Ques 5: _____ do you have your lunch?

(a) which (b) what (c) how (d) when

POSITION WORDS (PREPOSITIONS)

1. The bird is in the cage.



2. The inkpot is on the table.



3. The boy is standing behind the wall.



The words **in**, **on**, **behind** show the relationship between a noun or a pronoun and other words in a sentence. They are called **prepositions**.

So, **Prepositions** are words that tell us the place and position of people, animals and things in a sentence.

Note- The words **at**, **into**, **of**, **with**, **over**, **under**, **near**, **above** are some other position words.



The dog is sleeping under the cot.



The man is standing near the car.



The bridge is over the river.



The painter paints with the brush.

(A) Choose the correct position words from the following.

1. Amit lives _____ Delhi.
(a) at (b) on (c) in (d) with
2. Our school begins _____ Seven o'clock.
(a) for (b) at (c) on (d) to
3. Humpty Dumpty sat _____ a wall.
(a) to (b) near (c) over (d) on
4. He jumped _____ the river.
(a) in (b) to (c) into (d) over
5. The sky is _____ our head.
(a) over (b) under (c) on (d) in

(3) Tick (✓) the correct position word from the following.

6. We took shelter under a tree.
(a) tree (b) under (c) we (d) a
7. We cut clothes with scissors.
(a) scissors (b) clothes (c) cut (d) with
8. Rama hid behind the door.
(a) behind (b) hid (c) door (d) Rama
9. The jug is full of water.
(a) jug (b) water (c) full (d) of
10. The cow is standing near the log.
(a) near (b) log (c) cow (d) standing

Answer Key

Asking Words

1.(d) 2.(b) 3.(c) 4.(a) 5.(d)v

(PREPOSITIONS) Position Words

1.(c) 2.(b) 3.(d) 4.(c) 5.(a)
6.(b) 7.(d) 8(a) 9.(d) 10.(a)

COMPREHENSION

A. Read the following passage carefully:

Chutki lives with her parents and brothers in Pune. She loves her toys. She has many story books and toys. Chutki loves to watch animal planet and cartoon network and listen to stories. She has dinner at night with her family. Her father makes breakfast for her every day. Her mother makes tasty dosas and halwa for her.

Now, (✓) the correct answer for the statements:

1. Chutki lives in
(a) Delhi (b) Mumbai (c) Pune (d) Patna
2. Chutki loves to watch
(a) bird planet (b) animal planet (c) big planet (d) night planet
3. Chutki's mother makes tasty
(a) dosaa and halwa (b) pani poori (c) pakoda (d) ice-cream
4. Who makes breakfast for Chutki every day?
(a) mother (b) brother (c) father (d) sister

B. Read the following passage carefully:

I am Appu . I am an elephant. I work in circus. My master is good. He gives me banana and sugarcane to eat. But ,I miss my home a lot. I miss the jungle and fresh leaves of trees. I miss the herd of elephants. I perform many tricks in the circus. And please the people . I feel happy to see them happy.

Now tick (✓) the correct answer for the statements:

1. Who is Appu ?

(a) a lion (b)an elephant (c)a dog (d)a parrot

2. Appu works in

(a) jungle (b)home (c)temple (d)circus.

3. Appu performs _____ in the circus.

(a) tricks (b)pricks (c)jerks (d)drivers

4. collective noun for group of elephants is -

(a)Flock (b)swarm (c)herd (d)circus

Read the poem carefully

A bird fall seed on the ground,

And a new plant came at its own crown.

The plant grew high and high,

I looked after it day and night.

When it's flowers bloom,

It fill my heart with gloom.

Now tick (✓) the correct answer:

1. Who fall the seed on the ground?

(a) bird (b)cow (c)crow (d)Sparrow

2. What happened when the seed fell on the ground?

(a) a baby came out (b) a new plant came out

(c) a seed came out

(d) a flower came out

3. The rhyming words for bloom is

(a) slow (b)blow (c)gloom (d)fume.

4. Choose the opposite of day from following words:

(a) high (b)crown (c)flowers (d)night

Answerkey

1. (c)

2.(b)

3.(a)

4.(c)

1. (b)

2.(d)

3.(a)

4.(c)

1. (a)

2.(b)

3.(c)

4.(d)

PICTURE READING



Ques: Read the picture carefully and answer the following questions.

Ques: 1. This is a scene of _____.

(a) Library (b) Office (c) cinema (d) Classroom.

Ques: 2. How many children are shown in the picture?

(a) Two (b) Three (c) four (d) five

Ques: 3. Which among the following is not shown in the picture?

(a) Dustbin (b) Book (c) Fan (d) Cupboard.

Ques: 4. Who wants to give the answer to the teacher's Question?

(a) a girl (b) a boy (c) all boys (d) all girls.

Ques: 5. What is written on the blackboard?

(a) Tables (b) Puzzles (c) Nothing (d) Sums.

Picture-2



Ques Answer the following Questions with help of Picture.

- Q.1. Name of the paste is _____
(a) BRUSH (b) TEETH (c) SHINING (d) I AM STARS
- Q.2. It is suggesting to brush the teeth at least _____
a day.
(a) Once (b) Twice (c) Thrice (d) None
- Q.3. This paste will make your teeth as Shining as _____
(a) Moon (b) Stars (c) Diamond (d) Clay.

Answer key
Picture Reading

1.(d)
1.(d)

2.(c)
2.(b)

3.(c)
3.(b).

4.(a)

5.(c)

- Q-1 Bridge is used by
- (a) People on foot
 - (b) Vehicles
 - (b) animals
 - (d) All the above



- प्र० पुल का प्रयोग कौन करता है?
- क) पैदल यात्री
 - ख) वाहन
 - ग) जानवर
 - घ) उपरोक्त सभी

Q 2. What is Vallam?

- (a) A Cart
- (b) Bridge
- (c) small wooden boat
- (d) Trolley



- प्र० वल्लम क्या होती है?
- क) एक रेड़ी
 - ख) पुल
 - ग) छोटी लकड़ी की नाव
 - घ) ट्रॉली

Q-3 If we use this to draw water from a well, it will be much easier.

What is this?

- (a) iron rod
- (b) Bamboo
- (b) bridge
- (d) Pulley

प्र० यदि इसका प्रयोग कुएं से पानी खींचने के लिए करते हैं तो निम्न में से सबसे आसान तरीका क्या होगा ?

- क) लोहे की छड़
- ख) बाँस
- ग) पुल
- घ) धिरनी



- Q-4 The best way to travel in a desert
- (a) Camel Cart
 - (b) car
 - (c) boat
 - (d) bicycle



- प्र० रेगिस्तान में यात्रा का सबसे आसान तरीका क्या होगा?
- क) ऊँट गाड़ी
 - ख) कार
 - ग) नाव
 - घ) साइकिल

- Q-5 An animal which was found on earth many years ago, but not any more is -
- (a) Cheetah
 - (b) Dinosaur
 - (c) Ant
 - (d) Deer

- प्र० एक जानवर कई वर्षों पहले पाया जाता था, परन्तु अब पृथ्वी पर नहीं है—
- क) चीता
 - ख) डायनोसोर
 - ग) चींटी
 - घ) हिरन

- Q-6 Who is the leader in elephant's herd ?
- (a) Oldest Male
 - (b) Oldest Female
 - (c) Children
 - (d) All the above

प्र० हाथी के झुंड का मुखिया कौन होता है?

- क) वृद्ध पुरुष
- ख) वृद्ध महिला
- ग) बच्चे
- घ) उपरोक्त सभी



Q-7 Trees are our friends because they give us -

- (a) Food
- (b) Medicine
- (c) Timber
- (d) All the above

प्र० पेड़ हमारे मित्र हैं क्योंकि वे हमें देते हैं -

- क) भोजन
- ख) दवाइयाँ
- ग) लकड़ी
- घ) उपरोक्त सभी




Q-8 Which insect among the following live together in a group.

- (a) Cockroach
- (b) ants
- (c) spider
- (d) None of the above

प्र० निम्न में से कौन झुंड में रहते हैं ?

- क) कोंकरोच
- ख) चींटी
- ग) मकड़ी
- घ) इनमें से कोई नहीं



Q-9 In a bee hive, who lays eggs.

- (a) Worker bees
- (b) Male bees
- (c) Queen bee
- (d) All the above

प्र० मधुमक्खी के छत्ते में कौन अंडे देता है ?

- क) मजदूर मक्खी
- ख) पुरुष मक्खी
- ग) रानी मक्खी
- घ) उपरोक्त सभी



Q-10 How do the members in a family increase .

- (a) Birth of a Baby
- (b) Marriage of a son
- (c) Arrival of grand parents
- (d) All the above

प्र० परिवार में सदस्य किस प्रकार बढ़ते हैं ?

- क) बच्चे के जन्म से
- ख) बेटे की शादी से
- ग) दादा दादी का आना
- घ) उपरोक्त सभी



Q-11 How many players are there in a kabbadi team?

- (a) 11
- (b) 9
- (c) 12
- (d) 8

प्र० कबड्डी की एक टीम में कितने खिलाड़ी होते हैं?

- क) 11
- ख) 9
- ग) 12
- घ) 8

Q- 12 Leg : Walk :: Wing :-

- (a) See
- (b) Hear
- (c) Smell
- (d) Fly

प्र० पैर : चलना :: पंख :-

- क) देखना
- ख) सुनना
- ग) सूंघना
- घ) उड़ना

Q- 13 Who Carries Luggage at the railway station?

- (a) Guard
- (b) Sweeper
- (c) Coolie
- (d) Ticket Checker

प्र० स्टेशन पर बोझा कौन ढोता है?

- क) गार्ड
- ख) सफाई कर्मचारी
- ग) कुली
- घ) टिकट देख




Q- 14 A flower found in muddy water is

- (a) Jasmine
- (b) Dahlia
- (c) Lotus
- (d) Arnica

प्र० कीचड़ में पाए जाने वाला फूल कौन सा है?

- क) जैसमीन
- ख) डहेलिया
- ग) कमल
- घ) आरनिका



Q- 15 The flower that has medicinal value

- (a) Arnica
- (b) Dahlia
- (c) Marigold
- (d) Zenia

प्र० ऐसे फूल का नाम बताओ जिससे दवाई प्राप्त की जाती है ?

- क) आरनिका
- ख) डहेलिया
- ग) गेंदा
- घ) जीनिया



Q- 16 Rose grows on

- (a) Creeper
- (b) Bush
- (c) Water
- (d) Tree

प्र० गुलाब किस पर उगता है ?

- क) बेल
- ख) झाड़ी
- ग) पानी
- घ) पेड़

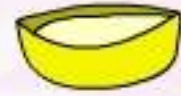


Q- 17 Which of the following does not dissolve in water.

- (a) Oil
- (b) Salt
- (c) Sugar
- (d) Lemon

प्र० निम्न में से कौन सा पदार्थ पानी में नहीं घुलता ।

- क) तेल
- ख) नमक
- ग) चीनी
- घ) नींबू का रस



Q- 18 Marigold : Colour :: Kewra :-

- (a) Medicine
- (b) Vegetable
- (c) Scent
- (d) Fruit

प्र० गेंदा : रंग :: केवड़ा

- क) दवाई
- ख) सब्जी
- ग) इत्र
- घ) फल

Q- 19 Which of the following easily dissolves in water ?

- (a) Salt
- (b) Dal
- (c) Peas
- (d) Rice

प्र० निम्न में से कौन सा पदार्थ पानी में आसानी से घुल जाता है ।

- क) नमक
- ख) दाल
- ग) मटर
- घ) चावल



Q- 20 Flowers of Litchi bloom in

- (a) Summer
- (b) Winter
- (c) Spring
- (d) Rainy

प्र० लीची के फूल किस मौसम में खिलते हैं?

- क) गर्मी
- ख) सर्दी
- ग) बसन्त
- घ) वर्षा

Q- 21 Which area is shown by brown colour in the given map?

- (a) mountain (b) Plateau
(c) Ocean (d) Plains

प्र० निम्न मानचित्र में भूरा रंग किस क्षेत्र को दर्शाता है ?

- क) पर्वत ख) पठार
ग) समुद्र घ) मैदान



Q- 22 Which dance form is shown in the following picture ?

- (a) Bhangra
(b) Kathakali
(c) Bharat Nattyam
(d) Manipuri

प्र० निम्नलिखित चित्र में किस नृत्य शैली का कलाकार है?

- क) भांगड़ा ख) कथकली
ग) भरतनाट्यम घ) मणिपुरी



Q- 23 Which state is shown in the given map ?

- (a) Andhra Pradesh
(b) Orissa
(c) Chattisgarh
(d) Jharkhand

मानचित्र में कौन सा राज्य दर्शाया गया है।

- क) आंध्रप्रदेश ख) उड़ीसा
ग) छत्तीसगढ़ घ) झारखण्ड



Q- 24 Which trees are mostly found in coastal areas?

- (a) Date
(b) Banana
(c) Coconut
(d) Rice

प्र० तटीय क्षेत्रों पर कौन से पेड़ अधिकतर पाये जाते हैं ?

- क) खजूर ख) केला
ग) नारियल घ) चावल



Q- 25



- (a) Gujrat
(c) Haryana



- (b) Punjab
(d) Delhi



- क) गुजरात
ग) हरियाणा



- ख) पंजाब
घ) दिल्ली

Q.26



- (a) Tennis
(c) Table Tennis



- (b) Badminton
(d) Playing Card



- क) टेनिस
ग) टेबल-टेनिस



- ख) बैडमिन्टन
घ) ताश

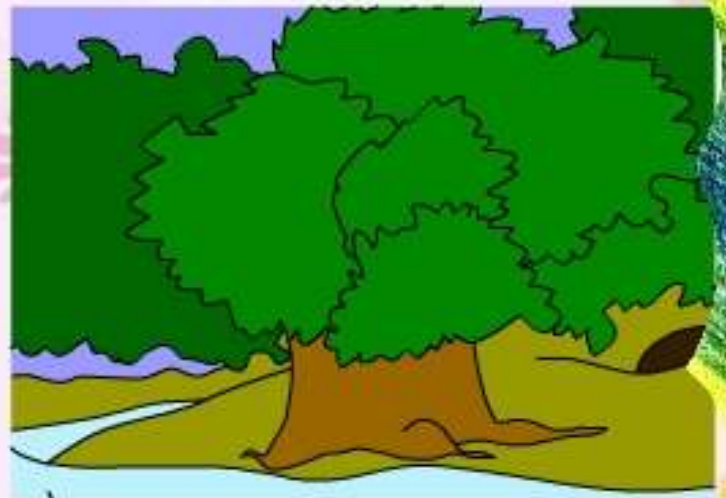


Q- 27 Which river flows in China, Pakistan and India-all three countries ?

- (a) Sindhu
- (b) Satluj
- (c) Brahmputra
- (d) Nile

प्र० कौन सी नदी चीन, पाकिस्तान एवं भारत तीनों देशों में बहती है ?

- क) सिंधू
- ख) सतलुज
- ग) ब्रह्मपुत्र
- घ) नील



Q- 28 Where do we find the alluvial plains ?

- (a) in the river
- (b) at sea shore
- (c) at river banks
- (d) on mountains

प्र० ज्यादा उपजाऊ जमीन कहाँ पाई जाती है ?

- क) नदियों के अंदर
- ख) समुद्र के किनारे
- ग) नदियों के किनारे
- घ) पहाड़ों पर



Q- 29 What is the holy book of sikh religion ?

- (a) Bible
- (b) Bhagwat Geeta
- (c) Guru Granth Sahib
- (d) Quran

प्र० सिक्ख धर्म की धार्मिक पुस्तक कौन सी है ?

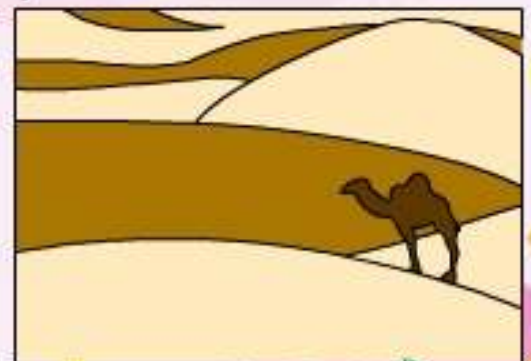
- क) बाइबल
- ख) भगवत गीता
- ग) गुरु ग्रंथ साहिब
- घ) कुरान

Q- 30 Where is the Thar Desert located ?

- (a) Gujrat
- (b) Maharastra
- (c) Uttar Pradesh
- (d) Rajasthan

प्र० थार मरुस्थल कहाँ स्थित है ?

- क) गुजरात
- ख) महाराष्ट्र
- ग) उत्तर प्रदेश
- घ) राजस्थान



Q- 31 Which material is used to make houses and household items by Aadi Tribe ?

- (a) by cement (c) by bamboo
(b) by mud (d) by bones

प्र० आदी जाति के कबिले के अधिकतर घर व घर का सामान किससे बना होता है ?

- क) सीमेंट ख) मिट्टी से
ग) बाँस से घ) हड्डियों से

Q- 32 What is Jhoom method of farming ?

- (a) Cutting Forest
(b) Cutting crop-field
(c) Burning Forest
(d) burning crop-field

प्र० झूम खेती किस प्रकार होती है ?

- क) जंगल काटकर
ख) खेत काट कर
ग) जंगल जलाकर
घ) खेत जलाकर

Q- 33..... is famous for its tea and silk

- (a) Meghalya
(b) Mizoram
(c) Arunachal Pradesh
(d) Assam

प्र० चाय के बागान व रेशम के लिए प्रसिद्ध है ।


- क) मेघालय ग) अरुणाचल प्रदेश
ख) मिजोरम घ) असम

Q- 34 What is sunder ban ?

- (a) Forest (c) Delta
(b) Tree (d) Bay

प्र० सुन्दरवन क्या है ?

- क) वन ग) डेल्टा
ख) वृक्ष घ) खाड़ी



Q- 35 Which crop is mostly cultivated in coastal areas due to heavy monsoon rainfall?

- (a) Sugar cane (c) Maize
(b) Wheat (d) Rice paddy

प्र० मानसून की अधिक वर्षा के कारण तटीयभागों में अधिकतर क्या उगाया जाता है ?

- क) गन्ना ग) ज्वार
ख)गेहूँ घ) चावल



Q- 36 Which will we get if we collect and dry sea water in columns?


Picture pasting

प्र० समुद्र के पानी को क्यारियों में इकट्ठा करके सुखाने से क्या मिलता है?

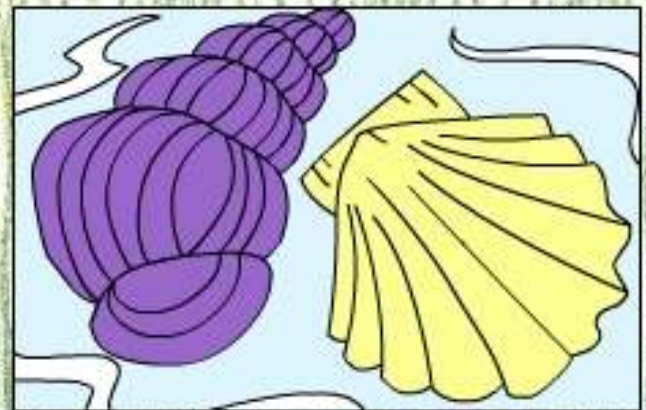
a



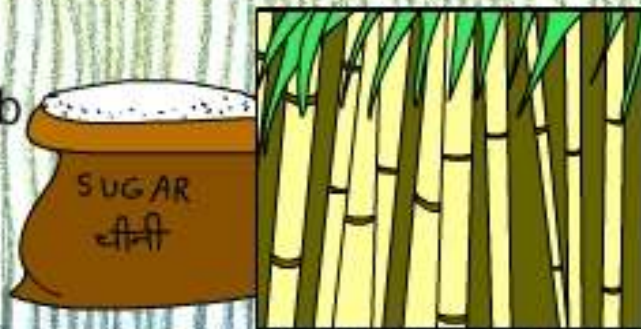
c



d



b



Q- 37 Stories ofare associated with Dusshera

- (a) Shiva (c) Ibrahim
(b) Durga (d) Jesus Christ

प्र० दशहरासेकी कथाएँ

जुडी हुई है ?

- क) शिव ग) इब्राहिम
ख) दुर्गा घ) ईसा मसीह



Q- 38 Match the following with picture and choose the correct answer-

सही चित्र के साथ जोड़ा बनाकर सही विकल्प उत्तर चुनो -

1. Chess शतरंज

(i)



2. Ludo लूडो

(ii)



3. Skating स्केटिंग

(iii)



4. Cricket क्रिकेट

(iv)



5. Carrom कैरम

(v)



(a) (iv) (ii) (iii) (i) (v)

(b) (ii) (iii) (iv) (v) (i)

(c) (ii) (i) (v) (iii) (iv)

(d) (iv) (v) (iii) (ii) (i)

Q- 39 Which occasion is linked to sacrifices of Hussan and Hussain ?

(a) Eid

(c) Guru Parv

(b) Diwali

(d) Muharram

प्र० हुसैन और हसन के शहादत की कहानी किस पर्व से जुड़ी है ?

क) ईद

ग) गुरु पर्व

ख) दिवाली

घ) मुहर्म्म

Q- 40 When do we celebrate Christmas ?

(a) 26 January

(c) 2 October

(b) 15 August

(d) 25 Decem Ber

प्र० हम क्रिसमस कब मनाते है?

क) 26 जनवरी

ग) 2 अक्तुबर

ख) 15 अगस्त

घ) 25 दिसम्बर

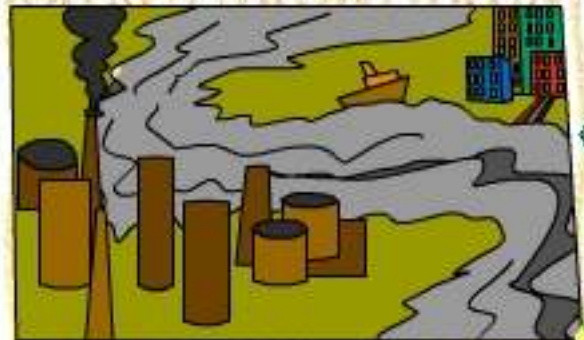


Q- 41 Causes of water pollution are?

- (a) Throwing garbage in rivers
- (b) Washing and bathing
- (c) Flowing of drain water in rivers
- (d) All the above

प्र० जल प्रदुषण के क्या कारण हैं ?

- क) नदी में कूड़ा फेंकना
- ख) नदी में नहाना
- ग) नालियों का पानी नदी में डालना
- घ) उपरोक्त सभी



Q- 42 Neem and Keekar are names of -

- (a) Flowers
- (b) Trees
- (c) Cities
- (d) Persons

प्र० नीम और कीकर नाम हैं -

- क) फूलों के
- ख) वृक्षों के
- ग) शहरों के
- घ) व्यक्तियों के



Q- 43 The fastest mode of transport to travel from Delhi to Mumbai is

- (a) aeroplane
- (b) train
- (c) Car
- (d) Bus

प्र० दिल्ली से मुम्बई जाने का तीव्र साधन कौन सा है ?

- क) हवाई जहाज
- ख) रेलगाड़ी
- ग) कार
- घ) बस




Q- 44 Who checks the tickets in the train?

- (a) Lawyer
- (b) Police Man
- (c) Ticket Checker
- (d) Coolie

प्र० रेलगाड़ी में टिकट कौन देखता है ?

- क) वकील
- ख) पुलिस
- ग) टिकट निरीक्षक
- घ) कुली




Q- 45 Unwanted plants are called

- (a) Shoots (b) Weeds
(c) Sprouts (d) Roots

प्र० अवांछित पौधे कहलाते हैं ?

- क) तना ख) खरपतवार
ग) अंकुरित घ) जड़



Q- 46 There is a special child in your class. How will you behave ?

- (a) Tease him (b) Ignore him
(c) Cooperate with him (d) Discourage him

प्र० अपनी कक्षा के एक विशिष्ट बच्चे के साथ आप कैसा व्यवहार करोगे ?

- क) चिढ़ाओगे
ख) अनदेखा करोगे
ग) सहयोग दोगे
घ) अनुत्साहित करोगे



Q- 47 In which of the following seasons will you see rainbow more often ?

- (a) Summer
(b) Winter
(c) Rainy
(d) Autumn

प्र० इन्द्रधनुष प्रायः किस मौसम में दिखाई देता है ?

- क) गर्मी
ख) सर्दी
ग) बरसात
घ) पतझड़

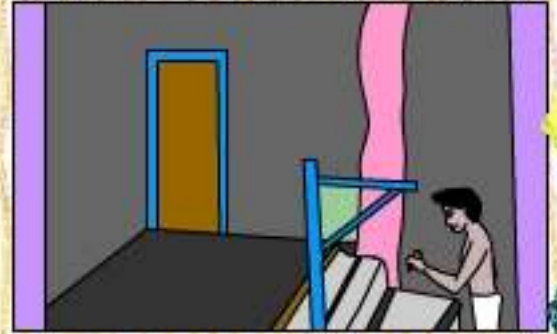


Q- 48 The bundles of thread are put into _____ to weave cloth.

- (a) boiling water
- (b) dye
- (c) loom
- (d) Name of the above

प्र० धागे की गुच्छियाँ पर रख कर कपड़ा बुना जाता है ।

- क) उबलते
- ख) रंग
- ग) लूम
- घ) इनमे से कोई नहीं



Q- 49 When a coin is dropped in a glass of water, it will

- (a) Float
- (b) Float mid way
- (c) Sink
- (d) Break the glass

प्र० पानी से भरे गिलास में एक सिक्का डालने पर सिक्के की स्थिति क्या होगी?

- क) तैरेगा
- ख) बीच में तैरेगा
- ग) डूब जाएगा
- घ) गिलास टूट जाएगा



Q- 50 Water can be cleaned by -

- (a) Boiling
- (b) Filtering
- (c) Settling down the sand
- (d) All the above

प्र० पानी को स्वच्छ किया जा सकता है—

- क) उबालकर
- ख) छानकर
- ग) मिट्टी को नीचे बिठाना
- घ) उपरोक्त सभी




Q- 51 Which of the following vegetables do not grow under the ground ?

- (a) Radish (b) Potato
(c) Carrot (d) Cabbage

प्र० निम्न में से कौन सी सब्जी जमीन के नीचे नहीं उगती ।

- क) मूली ख) आलू
ग) गाजर घ) गोभी



Q- 52 The sound with lightning is called -

- (a) Hail (b) Breeze
(c) Fog (d) Thunder

प्र० बादलों की बिजली की साथ होने वाली ध्वनि को क्या कहते हैं ?

- क) ओले ख) हवा
ग) धुंध घ) बादल गर्जना

Q- 53 The doctor who looks after our teeth is known as -

- (a) Scientist (b) Dentist
(c) Geologist (d) Botanist

प्र० दांतों की देखभाल करने वाले डॉक्टर को कहते हैं ?

- क) वैज्ञानिक ख) दन्त चिकित्सक
ग) भू वैज्ञानिक घ) वनस्पति वैज्ञानिक

Q- 54 Groundnut is found in part of the plant.

- (a) Branch (b) Stem
(c) Bushes (d) Roots

प्र० मूंगफली पौधे के भाग में पाई जाती है ।

- क) टहनी
ख) तन्त्र
ग) झाड़ी
घ) जड़



Q-55. Which of the following vegetables does not have seeds


- (a) Cucumber
(c) Potato

- (b) Tomato
(d) Capsicum

प्र० निम्नलिखित में से किस सब्जी में बीज नहीं पाए जाते ?

- क) खीरा
ग) आलू

- ख) टमाटर
घ) शिमला मिर्च




Q-56 Date Palms are found in

- (a) Deserts (b) Seas
(c) Mountains (d) All the above

प्र० खजूर का पौधा कहाँ पाया जाता है ?

- क) रेगिस्तान में
ग) पर्वत में

- ख) समुद्र में
घ) सभी जगह



Q-57 A Shopkeeper gives back more money in return by mistake, what will you do ?

- (a) Keep the money
(b) buy ice-cream with the extra money.
(c) return the extra money
(d) Give the money to a friend.

प्र० एक दुकानदार ने आपको गलती से अधिक रूपये लौटा दिए हैं । उन अधिक रूपयों का आप क्या करेंगे?

- क) अधिक रूपये रख लोगे
ग) अधिक रूपये लौटा दोगे

- ख) आइमक्रीम खा लोगे
घ) मित्र को दोगे



Q-58 If you don't like some one's touch, what will you do

- (a) Start shouting
- (b) Tell your parents
- (c) Share with friends
- (d) All the above

प्र० किसी के स्पर्श को आप पसंद नहीं करते।
आप ऐसी स्थिति में क्या करोगे?

- क) चिल्लाओगे
- ख) माता-पिता को बताओगे
- ग) मित्र को बताओगे
- घ) उपरोक्त सभी

Q-59 Seeds are produced
inpart of a plant.

- (a) Flowers
- (b) Branch
- (c) Stem
- (d) Root

प्र० पौधे के किस भाग में बीज होते हैं?

- क) फूल
- ख) टहनी
- ग) तना
- घ) जड़

Q-60 I have sharp curved teeth,
but I do not chew my prey,
I always swallow the food.
who am I ?

- (a) Rabbit
- (b) Cat
- (c) Snake
- (d) Tiger

प्र० मेरे नुकीले मुड़े हुए दाँत हैं, मैं अपना
शिकार चबाता नहीं, निगलता हूँ,
बताओ मैं कौन हूँ ?

- क) खरखोश
- ख) बिल्ली
- ग) साँप
- घ) चीता



Find the odd one out :-

निम्न में से भिन्न विकल्प को चुनिए :-

61.(a) Nepali (c) Bengali

(b) Bhutani (d) Delhi

(a) नेपाली (c) बंगाली

(b) भूटानी (d) दिल्ली



62. (a) Kathmandu (c) Thimpu

(b) Dhaka (d) Bangladesh

(a) काठमान्डू (c) थिम्पू

(b) ढाका (d) बांग्लादेश



63. (a) Ravi (c) Mahanadi

(b) Diwali (d) Brahmputra

(a) रावी (c) महानदी

(b) दिवाली (d) ब्रह्मपुत्र



64. (a) Football (c) Ludo

(b) Tennis (d) Badminton

(a) फुटबॉल (c) लूडो

(b) टेनिस (d) बैड मिन्टन



65. Water boils at _____ centigrade

(a) 100° (c) 50°

(b) 200° (d) 75°

पानी _____ सेंटीग्रेड पर उबलता है।

(a) 100° (c) 50°

(b) 200° (d) 75°



Q-66 What do you call hot dry summer wind that blows in northern India

- (a) Cyclone (c) Loo
(b) Storm (d) Thunder

प्र० गर्मी के मौसम में उत्तरी भारत में चलने वाली सूखी व गर्म हवा क्या कहलाती है

- क) भवंडर ग) लू
ख) आँधी घ) तूफान



Q-67 Due to the low moisture in the air in the deserts, there is

- (a) low temperature
(b) High temperature
(c) Scarce Rainfall
(d) Harsh Winter

प्र० रेगिस्तान में हवा में नमी कम होने के कारण वहाँ -

- क) गर्मी कम होती है।
ख) गर्मी ज्यादा होती है।
ग) बारिश कम होती है।
घ) सर्दी ज्यादा होती है।



Q-68 Game of was introduced in England

..... खेल की शुरुआत इंग्लैंड में हुई थी ?

- (a) Football
फुटबाल



- (c) Swimming
तैराकी



- (b) Carrom
कैरम



- (d) Cricket
क्रिकेट



Q-69 Who is the Indian Chess Grandmaster ?

- (a) Sachin Tendulkar (c) Amitabh Bachchan
(b) Vishwanathan Anand (d) Major Dhyanchand

प्र० भारत का शतरंज में ग्रैंडमास्टर कौन है?

- क) सचिन तेदूलकर ग) अमिताभ बच्चन
ख) विश्वनाथन घ) मेजर ध्यानचन्द



Q-70 Which game is called 'Chheduguddu' in South India?

- (a) Ludo (c) Skipping
(b) Kabaddi (d) Cricket

प्र० दक्षिणी भारत में 'छेडूगूडू' किस खेल का नाम है?

- क) लूडो
ख) कबड्डी
ग) रस्सा कूदना
घ) क्रिकेट



Q-71 On a ten rupee note picture of which animal is printed?

- (a) Dog (c) Peacock
(b) Dinosaur (d) Rhinoceros

प्र० 10 रूपये के नोट पर निम्न में से कौन से जानवर का चित्र होता है?

- क) कुत्ता ग) मोर
ख) डायनासॉर घ) गैंडा

Q-72 Who is the first citizen of the country ?

- (a) Father of nation (c) President
(b) Prime Minister (d) Judge

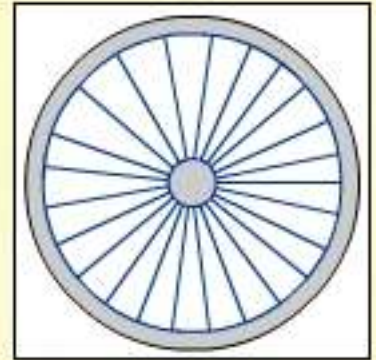


प्र० देश का प्रथम नागरिक कौन होता है?

- क) राष्ट्रपिता ग) राष्ट्रपति
ख) प्रधानमंत्री घ) न्यायधीश

Q-73 Charka is a symbol of..... in the tricolour flag ?

- (a) Sacrifice (c) nonvoilence
(b) progress(d) Hard work



प्र० तिरंगे झंडे में चक्र का प्रतीक है

- क) त्याग ग) अहिंसा
ख) उन्नति घ) परिश्रम

Q-74 Which of the following is our national anthem ?

- (a)Sare Jahan Se Achcha (c) Jan-Gan-Man
(b) Vande Matram (d) Hum Honge Kamyaab

प्र० निम्न में से हमारा राष्ट्रगान कौन-सा है?

- क) सारे जहान से अच्छा ग) जन-गण-मन
ख) वन्दे मातरम् घ) हम होंगे कामयाब

Q-75 Our national emblem is -

- (a) Ashoka Pillar
(b) Qutubminar
(c) Four lion on circular platform
(d) Platform Tajmahal



प्र० हमारा राष्ट्रीय चिह्न है .

- क) अशोक स्तम्भ ग) चार शेरों वाली मूर्ति
ख) कुतुबमीनार घ) ताजमहल

Q-76 Which neighbouring countries are to the east of India?-

- (a)Pakistan-China (c) Nepal-Bhutan
(b) Shri lanka-Bangladesh (d) Pakistan-Bangladesh

- प्र० भारत के पूर्व में पड़ोसी देश कौन से हैं?
क) पकिस्तान ग) नेपाल-भूटान
ख) श्रीलंका-बांग्लादेश घ) पाकिस्तान – बांग्लादेश

Q-77 Among the following which mode of transport is used for going from India to Srilanka ?

- (a) Ship (c) Bullock cart
(b) Train (d) Metro Train

प्र० भारत से श्रीलंका जाने के लिए इनमें से किस साधन का प्रयोग किया जाता है?

- क) समुद्री जहाज ग) बैलगाड़ी
ख) रेलगाड़ी घ) मेट्रो रेल




Q-78 Tenzing Nargay is famous for what ?

- (a) king of Nepal (c) for climbing Everest
(b) king of Bhutan (d) for Crossing Indian Ocean

प्र० तेनजिग नोरगे किस लिए प्रसिद्ध है ?

- क) नेपाल के राजा ग) एवरेस्ट पर चढ़ने के लिए
ख) भूटान के राजा घ) हिन्द महासागर पार करने करने के लिए



Q-79 Barend Doab is famous for the cultivation of what ?

- (a) Sugarcane (c) Cotton
(b) fig (d) Jute

प्र० बारेंद दोआब किस चीज की खेती के लिए मशहूर है ?

- क) गन्ना ग) कपास
ख) अंजीर घ) जूट

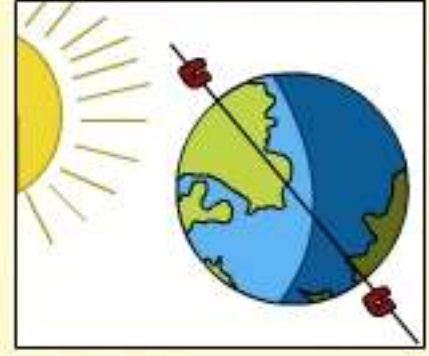


80. How many poles are there on the Earth?

- (a) One (b) two
(c) three (d) four

पृथ्वी पर कितने ध्रुव हैं ?

- (a) एक (b) दो
(c) तीन (d) चार



ANSWER KEY

उत्तरमाला

- | | | | |
|--------|--------|--------|--------|
| 1 (d) | 21 (b) | 41 (d) | 61 (d) |
| 2 (c) | 22 (b) | 42 (b) | 62 (d) |
| 3 (d) | 23 (b) | 43 (a) | 63 (b) |
| 4 (a) | 24 (c) | 44 (c) | 64 (c) |
| 5 (b) | 25 (b) | 45 (b) | 65 (a) |
| 6 (b) | 26 (b) | 46 (c) | 66 (c) |
| 7 (d) | 27 (b) | 47 (c) | 67 (c) |
| 8 (b) | 28 (c) | 48 (c) | 68 (d) |
| 9 (c) | 29 (c) | 49 (c) | 69 (b) |
| 10 (d) | 30 (d) | 50 (d) | 70 (b) |
| 11 (d) | 31 (c) | 51 (d) | 71 (d) |
| 12 (d) | 32 (c) | 52 (d) | 72 (c) |
| 13 (c) | 33 (d) | 53 (b) | 73 (b) |
| 14 (c) | 34 (c) | 54 (d) | 74 (c) |
| 15 (a) | 35 (d) | 55 (c) | 75 (c) |
| 16 (b) | 36 (a) | 56 (a) | 76 (c) |
| 17 (a) | 37 (b) | 57 (c) | 77 (a) |
| 18 (c) | 38 (c) | 58 (d) | 78 (c) |
| 19 (a) | 39 (d) | 59 (a) | 79 (c) |
| 20 (c) | 40 (d) | 60 (c) | 80 (b) |

Q-1 Which of these is face of a brick?

प्र० इनमें से कौन सी आकृति एक ईंट की सतह को दिखाती है ?

(a)



(b)



(c)



(d)



प्र० इनमें से कौन सी संख्या एक सौ हजार को दिखाती है ?


Q-2 Which of these shows one hundred thousand ?



(a)



(b)



(c)



(d)

Q-3 In a picture how the edge of the bricks are used :

निम्न चित्रों में ईंट के किनारों को किस आकृति के रूप में प्रयोग किया गया है :



(a) Rectangular

आयताकार

(b) Triangular

त्रिभुजाकार

(c) Square

वर्गाकार

(d) Circular

वृत्ताकार

Q-4 Which of these is in circular form ?

निम्न में से किस आकृति में वृत्ताकार पैटर्न को दिखाया गया है ?



(a)



(b)



(c)



(d)

Q-5 You have seen an arch on ?
आपने मेहराब की आकृति कहाँ देखी है ?



(a) bridge

पुल



(b) roof

छत



(c) floor

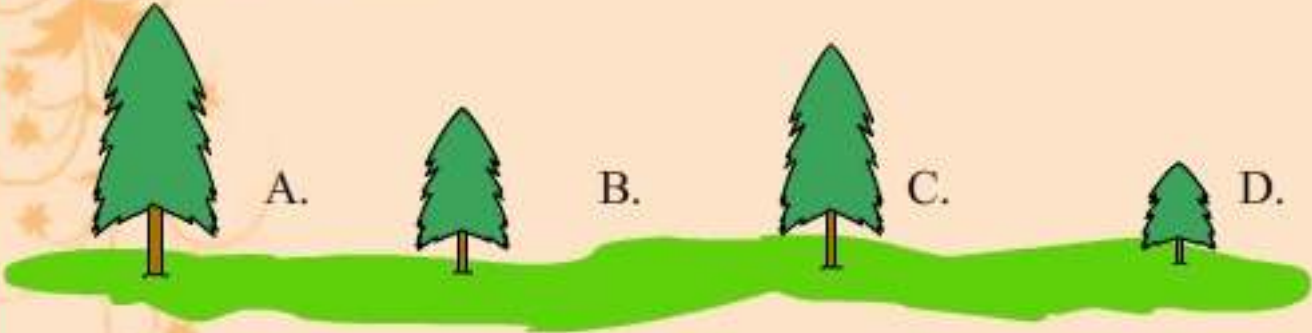
फर्श



(d) land

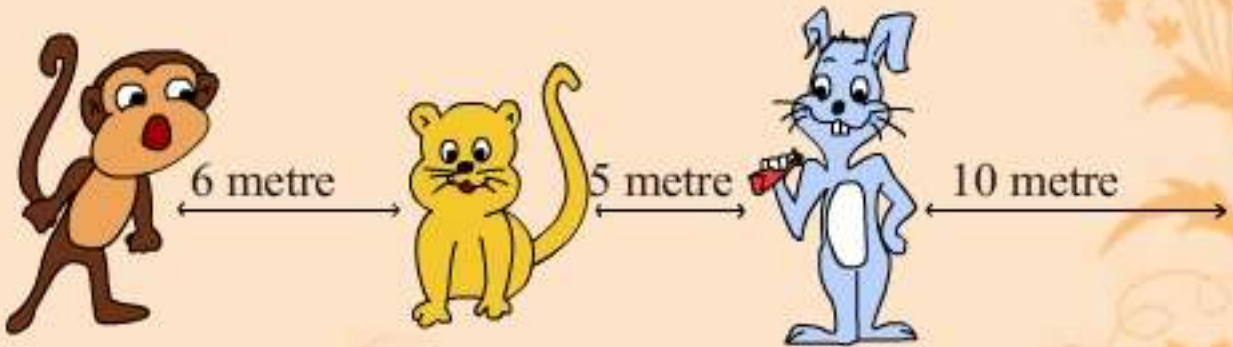
जमीन

Q-6 Which tree is the shortest ?
कौन सा पेड़ सबसे छोटा है ?



Q-7 Pussy Cat, Benny rabbit and Jaggu Monkey are Participating in a race. After 5 minutes of Starting the race their respective positions are :

पूसी बिल्ली, बन्नी खरगोश और जग्गू बन्दर ने दौड़ में हिस्सा लिया। दौड़ शुरू होने के 5 मिनट बाद उनकी स्थिति निम्न प्रकार से है:



Q-(i) Who is nearest to finishing line ?

कौन समाप्ति रेखा के सबसे नजदीक है?

(a) Pussy (b) Bunny (c) Jaggu (d) All

पूसी

बन्नी

जग्गू

सभी



Q-(ii) Who is farthest from finishing line ?

कौन समाप्ति रेखा से ज्यादा दूर है?

- (a) Pussy (b) Bunny (c) Jaggu (d) All
पूसी बन्नी जग्गू सभी

Q-(iii) What is the total distance to be covered in race from the starting line ?

दौड़ में कुल कितनी दूरी तय करनी है ?

- (a) 11 m (b) 20m (c) 21m (d) 15 m

Q-(iv) What is the distance between Jaggu and Benny ?

बन्नी और जग्गू के बीच कितनी दूरी है ?

- (a) 8 m (b) 10m (c) 11m (d) 15 m

Q- 8 3000 meteres make Kilometre.

3000 मीटर = किलो मीटर

- (a) 2 km (b) 3km (c) 30 km (d) 0.3 km

Q-9 How many rounds of park must Johny run to complete 2 km if boundary of park is 500 m?

जौनी को पार्क के कुल कितने चक्कर लगाने पड़ेंगे जिससे वह 2 कि.मी. की दूरी तय कर सकें? यदि पार्क की परिधि 500m है।



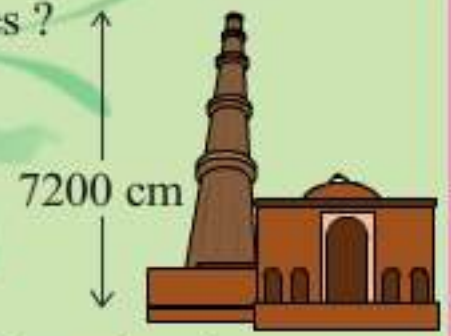
- a) 1 (b) 3 (c) 4 (d) 5



Q-10 What is the height of Qutab Minar in Metres ?

कुतुब मीनार की ऊँचाई कितने मीटर है?

- (a) 82 m (b) 92 m
(c) 78 m (d) 72m



Q-11 Karan & Rajani are standing side by side. Karan is going to Rampur which is 20 km away from him and Rajani is going to Chandni Chowk which is 38 km away from her in the opposite direction.

रामपुर तथा चाँदनी चौक एक दूसरे से विपरीत दिशा में हैं। करण और रजनी एक साथ खड़े हैं। करण को रामपुर जाना है जो उससे 20 कि.मी. दूर है। रजनी को चाँदनी चौक जाना है जो उससे 38 कि.मी दूर है तो बताओं :-



Q-(i) How far is Rampur from the Chandni Chowk?

रामपुर चाँदनी चौक से कितनी दूर है?

- (a) 40km (b) 58 km (c) 35 km (d) 60 km

Q-(ii) Who will travel more and by how much?

दोनों में से कौन ज्यादा दूरी तय करेगा और कितना?

(a) Karan, 20 km

करण

(c) Karan, 18 km

करण

(b) Rajani, 22 km

रजनी

(d) Rajani 18 km

रजनी



Q-12 From the following which can fly the highest ?

निम्न आकृति में से कौन सबसे ऊँचाई पर उड़ सकता है?

(a)



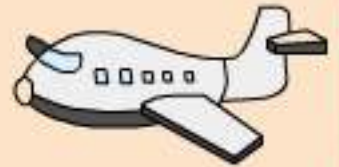
(b)



(c)

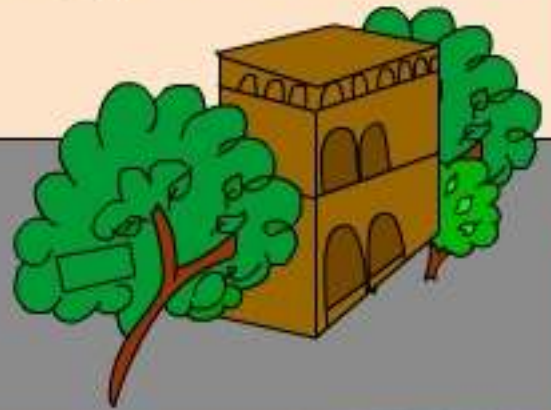


(d)



Q-13 A big bus can take 50 children. How many children can be seated in 5 such buses?

एक बस में पचास बच्चे बैठ सकते हैं। इस प्रकार की 5 बसों में कितने बच्चे बैठ सकते हैं?



(a) 200

(b) 225

(c) 250

(d) 255

Q-14 A School has 315 students. A mini Bus can take 35 students. How many mini buses are required to carry all students ?

एक विद्यालय में 315 विद्यार्थी हैं। एक छोटी बस में 35 विद्यार्थी बैठ सकते हैं। सभी विद्यार्थियों को बसों में बैठाने के लिए कितनी बसें चाहिए?

(a) 8

(b) 9

(c) 10

(d) 11



Q-15 A bridge is 600 metres long and a truck is 5 metre long. How many trucks can stand on this bridge if the trucks stands one after another ?

एक पुल की लं० 600 मीटर है जबकि एक ट्रक 5 मीटर लंबा है। इस पुल पर एक समय में ऐसे कितने ट्रक खड़े हो सकते है यदि ट्रक एक दूसरे के पीछे खड़े हैं?

- (a) 100 (b) 120 (c) 110 (d) 150

Q-16 Student start their journey at 8 'O' clock to Bhopal. If they don't stop anywhere, it will take 2 hours. They will reach Bhopal at what time?

बच्चो ने भोपाल की यात्रा 8 बजे शुरू की। यदि वे यात्रा में कहीं बीच में नहीं रुकते तो 2 घंटे में भोपाल पहुँच जाते है। वे भोपाल कितने बजे पहुँचेगें?

- (a) 9'0' Clock (b) 10'0' Clock (c) 11'0' Clock (d) 12'0' Clock

Q-17 What number can you make using 2, 3 and 5?

2, 3 व 5 से निम्न में से कौन सी संख्या बन सकती है?



- (a) 235 (b) 532
 (c) 325 (d) ALL

Q-18. Which number lies exactly between 200 and 300?

200 तथा 300 के मध्य कौन सी संख्या आएगी?

- (a) 250
- (b) 230
- (c) 240
- (d) 260



Q-19. A Motor Boat takes 20 minutes to complete a trip and carries 12 students. How many trips will be required to carry 60 students. How much time will it take?

एक मोटर बोट में 12 बच्चे बैठ सकते हैं तथा मोटर बोट को एक चक्कर पूरा करने में 20 मिनट लगते हैं। 60 बच्चों को इस मोटर बोट में ले जाने में कितने चक्कर लगेंगे और कितना समय लगेगा ?

- (a) 60 minutes, 4 trips (b) 80 minutes 4 trips
60 मिनट 4 चक्कर 80 मिनट 4 चक्कर
- (c) 90 minutes 5 trips (d) 100 minutes 5 trips
90 मिनट 5 चक्कर 100 मिनट 5 चक्कर



Q-20. What time does the clock show ?

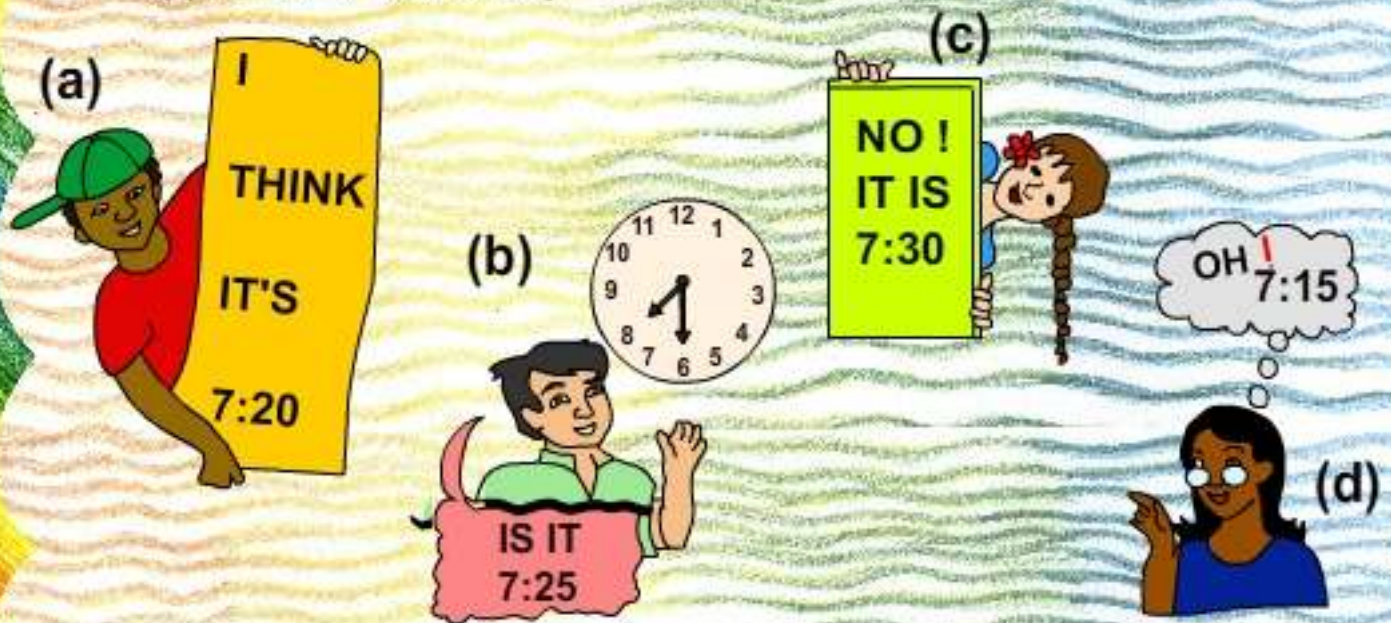
घड़ी में कितने बजे हैं ?

- (a) 2:15
- (b) 3:15
- (c) 1:15
- (d) 4:15



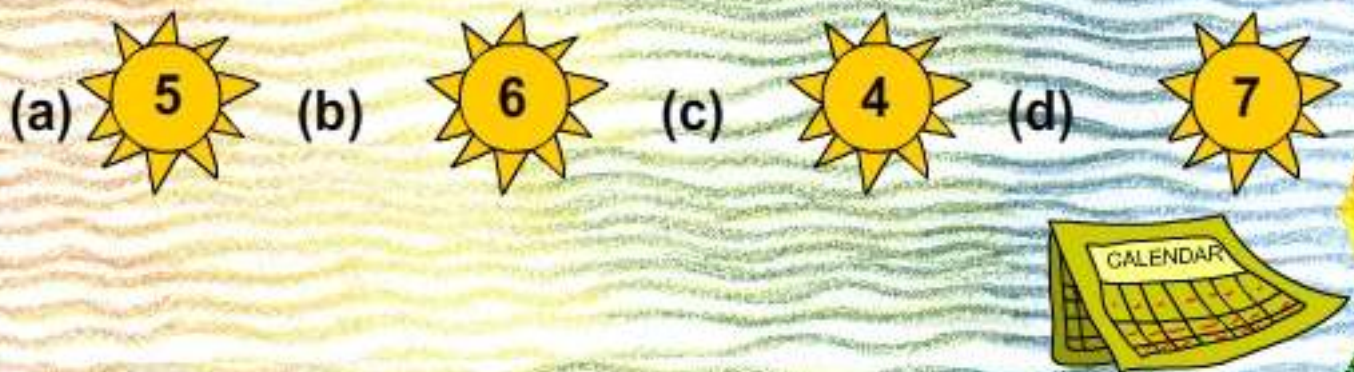
Q-21 Raja, Rani, Rahul and Amit read time from the wall clock, Who is right ?

एक दीवार घड़ी निम्न समय दर्शाती है। राजा, रानी, राहुल और अमित यह समय बताते हैं। तीनों में से कौन ठीक है?



Q-22. How many months in a year have 31 days ?

वर्ष में कितने महीनों में 31 दिन होते हैं?



Q-23 It takes about 5 to brush our teeth.

दांतों को ब्रश करने में लगभग 5..... लगते हैं।

- (a) Minutes
मिनट
- (b) Second
सैकेण्ड
- (c) Hours
घंटे
- (d) Days
दिन



Q-24 For how many years the given medicine is suitable for use.

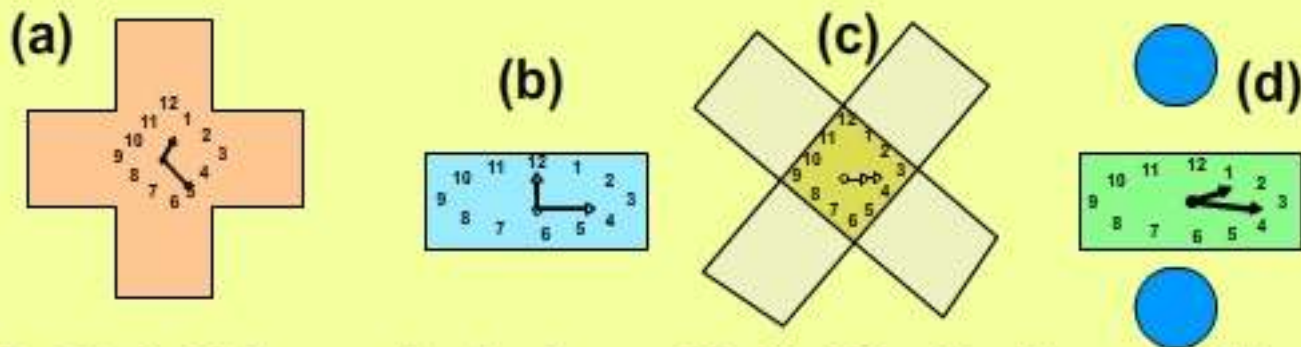
यह दवाई कितने वर्षों तक प्रयोग में लाई जा सकती है?

- (a) 5 years
- (b) 4 years
- (c) 3 years
- (d) 2 years



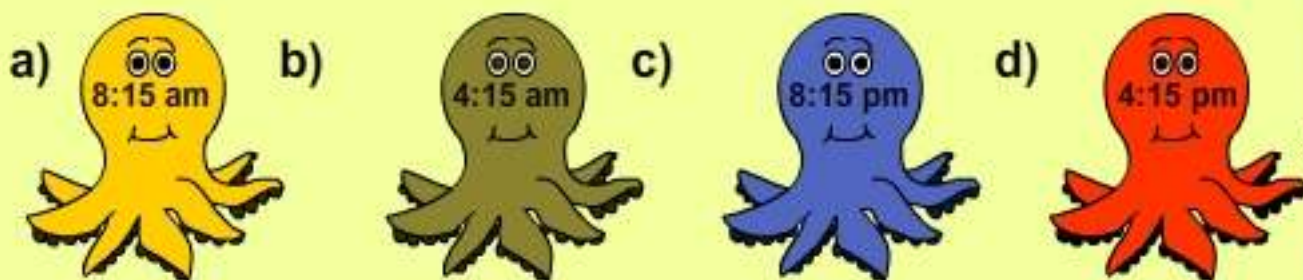
Q-25 Which clock shows the correct time 3:15 ?

किस घड़ी में 3:15 बजे ठीक प्रकार से दिखाया है?




Q-26 A 24 hour- clock shows 20:15. What is the exact time in 12 hour clock ?

एक 24 घंटे वाली घड़ी में 20:15 बजे हैं। 12 घंटे वाली घड़ी में सही समय क्या होगा?



Q-27 Golu is going to home by train. The time on the ticket shows 6:30. When he reached the station, he missed the train. He complained to the station master. The station master explained that railway uses 24 hours clock. What is the actual time for 6:30 in the evening according to the Railways ?

गोलू ने घर जाने के लिए ट्रेन की टिकट खरीदी जिस पर 6:30 बजे लिखा था। जब वह ट्रेन पकड़ने के लिए स्टेशन पर गया तो ट्रेन जा चुकी थी। उसने स्टेशन मास्टर से शिकायत की, तब स्टेशन मास्टर ने बताया कि रेलवे 24 घंटे वाली घड़ी का इस्तेमाल करता है, तो बताओ रेलवे की घड़ी शाम 6:30 बजे क्या समय दर्शाएगी?



(a)

(b)

(c)

(d)



UNIT – II

Q-1 How does a car seem from a high building ?

एक ऊँची इमारत से कार कैसी दिखेगी?



(a)



(b)



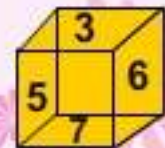
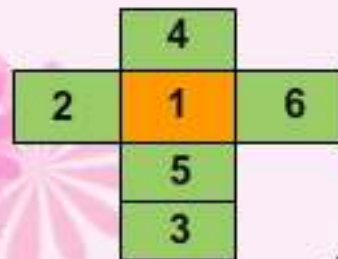
(c)



(d)

Q-2 There is a box with number 1 to 6 on its faces. Which number will lie on the opposite side of ?

एक डिब्बे की सतह पर 1 से 6 अंक लिखे हैं। कौन-सी संख्या विपरीत सतह पर होगी:



b)



c)



d)



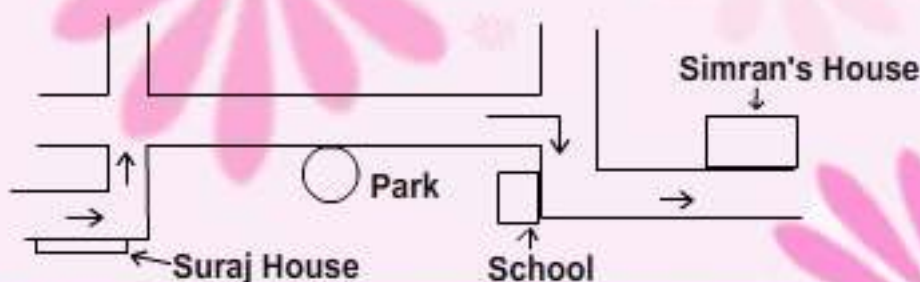
Q-(ii) Sum of which 2 opposite numbers is an odd number

किन दो विपरीत सतह की संख्याओं का जोड़ विषम होगा?



Q-3 This is the route map of simran's house from Suraj's house ?

यहां सूरज और सिमरन के घर की स्थिति तथा रास्ते को दिखाया गया है?



(i) Suraj wants to go to Simran's House. So he reached school. Now, in which direction should he move for simran's house ?

सूरज, सिमरन के घर जाना चाहता है, वह स्कूल तक पहुँच गया है उसे सिमरन के घर जाने के लिए किस दिशा में मुड़ना पड़ेगा ?

- a) Straight b) Left c) Right d) back
सीधा दाएँ बाएँ पीछे

Q-(ii) Simran wants to go to park. What should be her first turn ?

सिमरन अपने घर से पार्क जाना चाहती है। वह पहली बार किस दिशा में मुड़ेगी ?

- a) Right b) back c) Left d) Straight
सीधा दाएँ बाएँ पीछे

Q-(4) What is the correct top view of a tree ?

पेड़ को ऊपर से देखने पर कैसा दिखेगा ?



Q-5.

I have taken a loan of Rs. 500 for 5 months. I will pay Rs. 120 per month.

मैंने पांच महीने के लिए 500 रुपये का लोन लिया। मैं हर महीने 120 रुपये दूंगा।



SONU



MONU

I have taken a loan from Lалу of Rs. 400. After 5 months I pay Rs. 450

मैंने लालू से रुपये 400 लोन लिया। मैं पांच महीने बाद रुपये 450. दूंगा।

(i) What total amount will sonu pay back ?

सोनू कुल कितनी राशि चुकाएगा ?

- a) Rs.500 b) Rs. 650 c) Rs. 550 d) Rs. 600

(ii) Who will pay more Interest and how much ?

दोनों में से किसे ज्यादा ब्याज देना पड़ेगा और कितना ?

- a) Monu 100 b) Sonu 100

मोनू 100

सोनू 100

- c) Sonu 150 d) Monu 50

सोनू 150

मोनू 50



Q-6. The rate list of the junk is as follows :

एक कबाड़ के दुकान की मूल्य सूची इस प्रकार है -

Junk	Per kg
News paper	Rs. 10
Iran	Rs. 20
Plastic	Rs. 15
Old Books	Rs. 12



i) What amount did Rani get if she sold all the junk she had ?

अगर रानी अपनी सभी वस्तुएँ बेचेगी, उसे कितना मूल्य मिलेगा?

- a) 105 b) 120
b)112 d) 125

I have 3kg of Newspaper
2kg Iron, 2kg plastic and
1kg old books.

Q-(ii) Rani has 20 kg old books then how much will she get by selling them?

रानी के पास 20 कि.ग्रा पुरानी किताबें हैं, तो उन्हें बेचकर उसे कितना मूल्य प्राप्त होगा?

- a) 230 b) 240 c) 300 d) 250

Q-7 Rajan has following notes?

राजन के पास निम्न नोट हैं ।



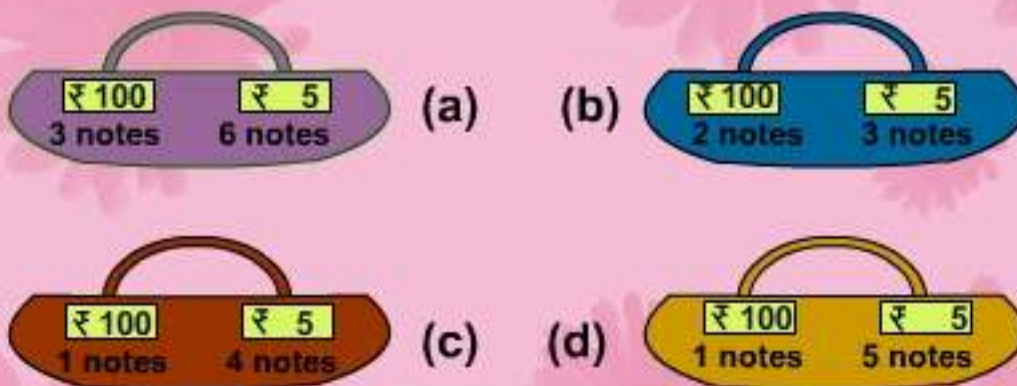
Q-i What is the total amount that Rajan has ?

राजन के पास कुल कितने रुपये हैं?

(a) 1570 (b) 1690 (c) 1770 (d) 1680

Q-ii Rajan buys a book of Rs. 125. How will he pay ?

राजन ने 125 रुपये की एक किताब खरीदी। उसे कौन-कौन से नोट देने पड़ेंगे?



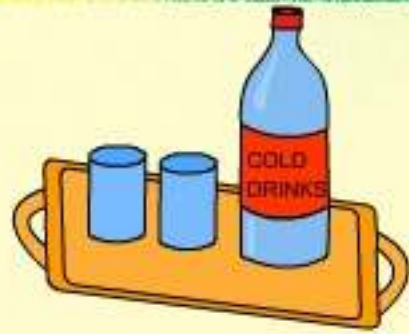
Q-28 In a party Jo Jo invites his 10 friends. He plans to serve cold drinks. One glass contains 200 ml.

जो जो में अपनी पार्टी में 10 दोस्तों को बुलाया। उसने सभी को कोल्ड ड्रिंक पिलाने की सोची। यदि एक गिलास में 200ml कोल्ड ड्रिंक आती है तो -

Q-(i) How many 1 liter bottles will be required

एक लीटर की कितनी बोतलों की जरूरत पड़ेगी

- (a) 1 (b) 2
(c) 3 (d) 4



(ii) How many 2 liter bottles will be required

ऐसी 2 लीटर की कितनी बोतलों की जरूरत पड़ेगी

- (a) 1 (b) 2
(c) 3 (d) 4



Q-9 Amina's mother is ill. She has to do her house chores to help her mother.

Washing Clothes = 40L
(कपड़े धोने में)

Washing Clothes = 30L
कपड़े धोने के लिए

Bathing and
Cleaning = 50L
(नहाने व सफाई
के लिए)

Bathing and
Cleaning = 40L
(नहाने व सफाई
के लिए)

Cooking = 20 L
(खाना बनाने के लिए)

Cooking = 15 L
(खाना बनाने के लिए)

Q-i) How much extra water is used by Amina?

अमीना कुल कितना पानी अधिक उपयोग करती है?

- (a) 20 L (b) 25L (c) 30L (d) 35 L

Q-10



I can drink
800 ml milk
मैं 800 ml दूध
पी सकती हूँ।



मैं 400 ml दूध पी
सकता हूँ।
I can drink
400 ml milk

I can drink only
100 ml milk
मैं सिर्फ 100ml दूध
पी सकता हूँ।



I can drink
200 ml milk
मैं 200 ml दूध पी
सकता हूँ।



Q-i) How much milk is required if you invite all for a milk party?
सभी के लिए कितने दूध की आवश्यकता होगी?

(a) 1.5 L (b) 1L (c) 2L (d) 1.7 L

Q-ii) How much milk a cat can drink more than a boy ?

(a) 200 mL (b) 300 ml
(c) 400 ml (d) 500 ml



ANSWER KEY

SECTION -1

1.)d

2.)b

3.)b

4.)d

5.)a

6.)d

7.)(i) b
(ii)c
(iii)c
(iv)c

8.)b

9.)c

10.) d

11.) (i) b
(ii)d

12.)d

13.)c

14.)b

15.)b

16.)b

17.)d

18.)a

19.)d

20.)c

21.)c

22.)d

23.)a

24.)d

25.)c

26.)c

27.)b

SECTION -2

1.)d

2.) (i)a
(ii)c
(iii)a

3.) (i) b
(ii)a

4.)c

5.) (i)d
(ii)c

6.) (i) c
(ii)b

7.) (i)b
(ii)d

8.) (i)b
(ii)a

9.)b

10.) (i)a
(ii)c

Section - 3

Q-1 Which object is in circular shape?

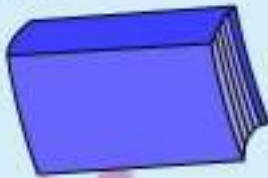
कौन सी वस्तु गोलाकार आकृति में है ?

(a) Book

(b) Lunch Box

(c) Wheel

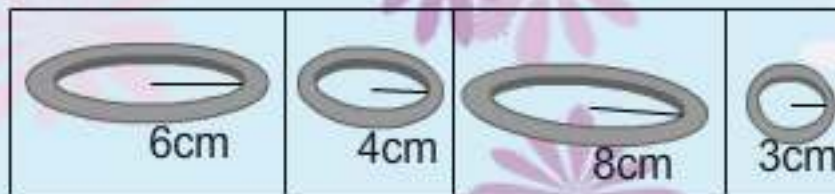
(d) Table



Q-2 These are the bangles of different radius. Mark the difference between the radius of largest and smallest bangles.

अलग-अलग व्यास की कुछ चुड़ियाँ दी गई हैं। इनमें से सबसे बड़ी तथा सबसे छोटी चुड़ी में अंतर बताओ?

अलग-अलग व्यास की कुछ चुड़ियाँ दी गई हैं। इनमें से सबसे बड़ी तथा सबसे छोटी चुड़ी में अंतर बताओ?



(a) 4 cm

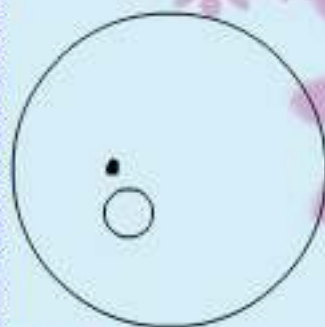
(b) 5 cm

(c) 6 cm

(d) 2 cm

Q-3 Which picture shows the correct centre of the circle?

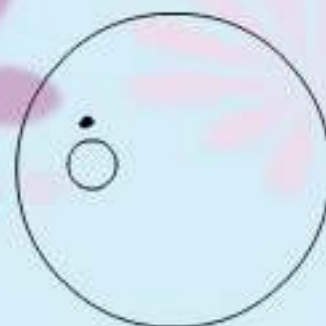
किस वृत्त में सही केन्द्र को दिखाया गया है?



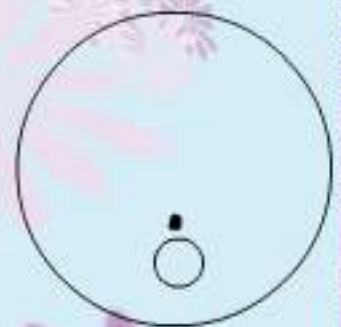
(a)



(b)



(c)



(d)

Q-4 What portion of whole is shaded?

आकृति का कितना भाग रंगीन है?



(a) $1/4$

(b) $2/4$

(c) $2/2$

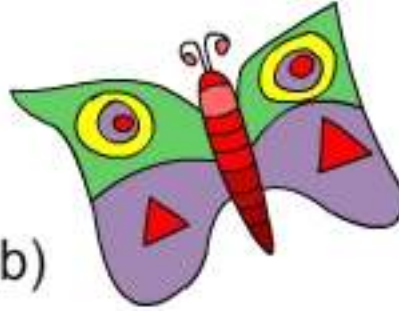
(d) $1/3$

Q-5 Which of these shapes can be divided into half ?

निम्न आकृतियों में से कौन-सी आकृति को दो बराबर भागों में बाँटा जा सकता है?



(a)



(b)



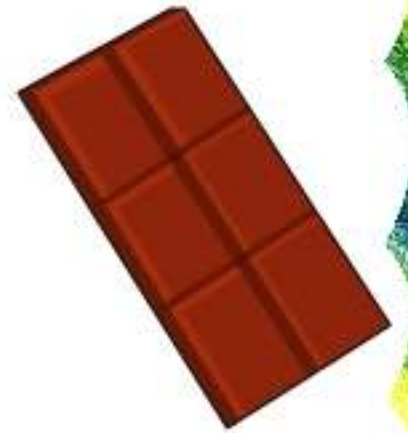
(c)



(d)

Q-6 Rani bought a chocolate. She divided it into 3 equal parts. She gave one part to her sister. Second to her brother and kept the third part with her. How much chocolate is left with Rani ?

रानी एक चॉकलेट खरीद कर लाई? उसने चॉकलेट के तीन बराबर हिस्से कर दिए। एक हिस्सा अपनी बहन को, एक हिस्सा अपने भाई तथा तीसरा हिस्सा अपने पास रख लिया। रानी के पास चाकलेट का कितना हिस्सा रह गया?



(a) $1/2$

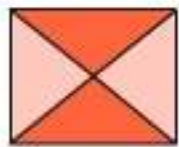
(b) $2/3$

(c) $2/6$


(d) $2/4$

Q-7 Which Shape represents $\frac{3}{4}$?

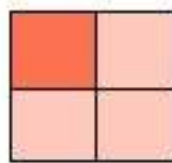
कौन-सी आकृति $\frac{3}{4}$ को दिखाती है?




(a)



(b)



(c)



(d)

Q-8 There are 20 stars. A quarter of them are red.

How many stars are red ?

20 तारों में से एक-चौथाई लाल हैं।

कुल कितने तारे लाल हैं?



(a) 3 stars
तारे

(b) 4 stars
तारे

(c) 5 stars
तारे

(d) 6 stars
तारे

Q-9 Complete the following pattern :

निम्न पैटर्न पूरा करो :



(a) CDE (b) DEF (c) GEP (d) None of these



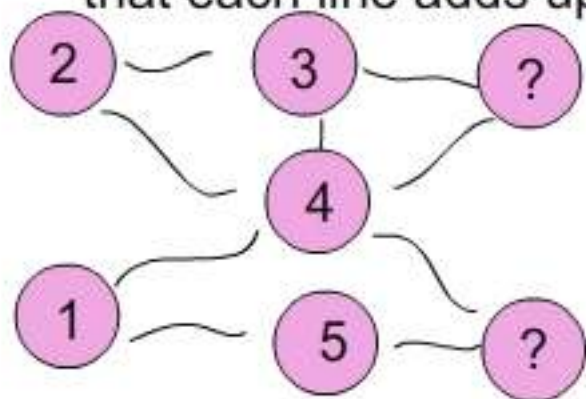
(a) 18 (b) 21 (c) 20 (d) 24



(a) (b) (c) (d)

निम्न मैजिक पैटर्न को संख्या 1 से 7 तक इस प्रकार भरो कि हर लाइन का जोड़ 12 आए।

Q-10. Complete the magic pattern of numbers 1 to 7 such that each line adds upto 12.



a) 7, 6

b) 3, 7

c) 6, 5

d) 4, 5

Q-11. Which of the following Tangram has more triangles
निम्न टैंग्रामों में सबसे अधिक त्रिभुजों की संख्या किसमें है ?

(a)



(b)



(c)



(d) All have equal number of triangles


Q-12. Identify the drawing that represents
 $3 + 3 + 3 = 9$ and $3 \times 3 = 9$

उस आकृति को पहचानो जो $3 + 3 + 3 = 9$ और $3 \times 3 = 9$ दिखाती है?


(a)



(b)



(c)



(d)



Q-13. Complete the table tree

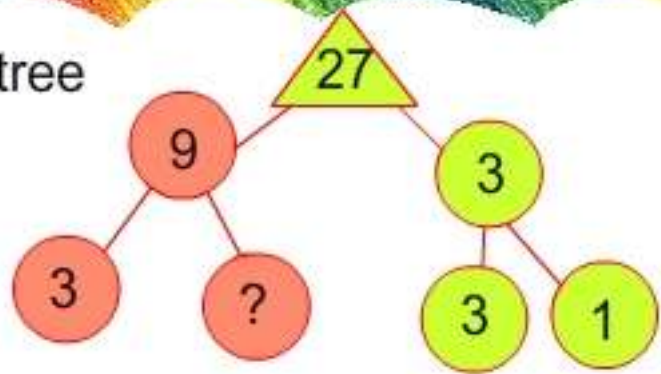
उचित संख्या से पूरा करो।

a) 2

b) 3

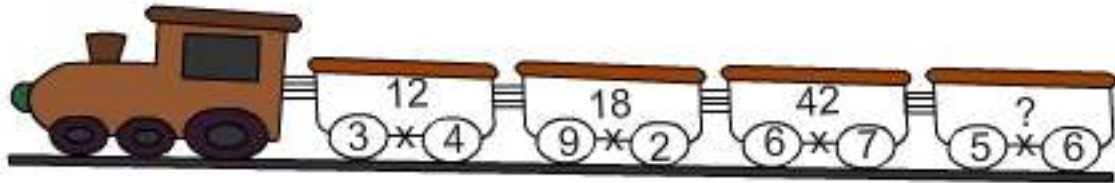
c) 4

d) 5



Q-14. Choose the correct number that will come in the last compartment of train.

सही संख्या चुनिए जो ट्रेन के अंतिम डिब्बे में आए?



a) 12

b) 45

c) 18

d) 30

Q-15. A frog jumps 3 steps at a time. At which stone does he reach if he jumps 3 times.

एक मेंढक एक बार में तीन कदम कूदता है, यदि वह तीन बार कूदता है तो किस संख्या पर पहुँचेगा?



3 6 9 12 15 18 21 24 27 30

a) 15

b) 18

c) 27

d) 24

Q-16. In the multiplication tables from 2 to 10, 36 comes in the table of which of the following numbers

2 से 10 तक के पहाड़े में 36 किस पहाड़े में आएगा ?

a) 9

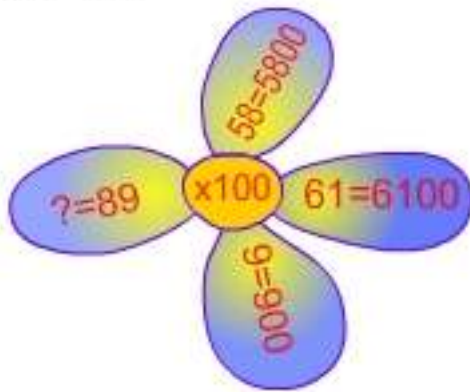
b) 5

c) 7

d) 10

Complete the flower :

फूल पूरा करो :



a) 9000

b) 8900

c) 8000

d) 890

Q-18. Vinay plays Cricket for 2 hours every Monday and Thursday. Which number represents the total number of hours he plays in a week?

विनय, सोमवार और वीरवार को दो-दो घंटे क्रिकेट खेलता है। निम्न में से कौन सी संख्या उसके द्वारा खेले जाने वाले क्रिकेट के कुल समय को दर्शाती है?

a) $2 \times 7 = 14$

b) 14 hours

c) $2 \times 2 = 4$

d) $8 = 2 \times 4$

Q-19. Ram has 3 bags of balls. Each bag contains 6 balls. How many balls does he have?

राम के पास 3 बैग हैं। प्रत्येक में 6-6 गेंद है। उसके पास कुल कितनी गेंद हैं।

a) $6 \times 3 = 18$

b) $3 + 3 = 6$

c) $6 \times 2 = 12$

d) $6 \times 1 = 6$

UNIT - 4

Q-1. Leela exercises with dumbbells to keep her hand muscles supple and healthy. Which of the following estimations will be most appropriate for the weight of dumbbells?

लीला अपने हाथों को मजबूत बनाए रखने के लिए प्रतिदिन डम्बलों से कसरत करती है। निम्न में से कौन-सा भार डम्बलों का हो सकता है?

- | | |
|-----------|-----------------|
| a) 2 kg | a) 2 किलोग्राम |
| b) 20 Kg | b) 20 किलोग्राम |
| c) 200 gm | c) 200 ग्राम |
| d) 20 gm | d) 20 ग्राम |



Q-2. Which of the following combination is the heaviest ?

निम्न में से किन वस्तुओं के भार का जोड़ अधिक है?



(a)



(b)



(c)



(d)



Q-3. Which of the following can we measure on a balance ?
तराजू पर निम्न में से किन वस्तुओं को तोला जा सकता है?



- (i) Elephant (हाथी) (ii) Milk (दूध) (iii) Sugar (चीनी) (iv) None of These (कोई भी नहीं)

Q-4.



Rani

My weight is 18 kg
मेरा भार 18 किलो है



Ram

My weight is 20 kg.
मेरा भार 20 किलो है

My weight is 22 kg
मेरा भार 22 किलो है



कार्तिक

a) Who is the heaviest among the above children ?
तीनों में से अधिक भारी कौन है ?


- (i) Ram (राम) (ii) Rani (रानी) (iii) Kartik (कार्तिक) (iv) None of these (इनमें से कोई नहीं)

a) What is the sum of weights of kartik and Rani ?
कार्तिक और रानी के भारों का जोड़ क्या है ?

- i) 40 kg (40 किलोग्राम) (ii) 48 kg (48 कि०ग्राम०) (iii) 38 kg (38 कि०ग्राम०) (iv) 42 kg (42 कि०ग्राम०)

Q. 5 All bananas have equal weights and all oranges have equal weights. If weights of 2 bananas is equal to weight of 3 oranges. Then weight of 6 bananas will be equal to weight of how many oranges?

सभी केलो को भार बराबर है तथा सभी संतरो का भार भी बराबर है। यहद 2 केलों का भार 3 संतरो के भार के बराबर है तो बताओ 6 केलों का भार कितने संतरो के भार के बराबर होगा।



(i) 10

(ii) 12

(iii) 9

(iv) 8

Q-6 Simran has made a small bag for her mobile phone. Which of these situations requires Simran to find the perimeter of the bag?

प्र० सिमरत ने अपने मोबाईल फोन के लिए एक बैग बनाया है। निम्न में से किस स्थिति में उसे बैग का परिमाप निकालने की आवश्यकता पड़ेगी।

- Amount of string to fix along the edges.
- Amount of Stickers to decorate the bag.
- Amount of dye to change colour of bag.
- Weight of her mobile phone.

- किनारे पर लगाने वाले धागे का लिए।
- बैग को सजाने की वस्तुओं के लिए।
- बैग के रंग को बदलने के लिए आवश्यक रंग के लिए।
- मोबाईल फोन के भार के लिए।



Q-7 In which of the given situations would Aarti need to find the perimeter ?

प्र० 7 निम्न में से किस स्थिति में आरती को परिमाप निकालने की आवश्यकता है?

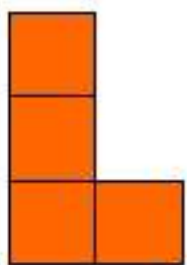
- i) Distance around the Lake.
- (ii) Size of a panel to be painted
- (iii) Amount of cookies in the box.
- (iv) Number of tiles needed to cover the bathroom.

- (i) झील के चारों तरफ की दूरी के लिए।
- (ii) पैनल के आकार को रंग करने के लिए।
- (iii) बिस्कुट के पैकेट में बिस्कुट की मात्रा बताने के लिए।
- (iv) बाथरूम में लगाने वाली टाइलों की संख्या बताने के लिए।




Q-8 Which shape has maximum numbers of Squares ?


प्र० 8 दी गई आकृतियों में से किस आकृति में वर्गों की संख्या अधिक है?



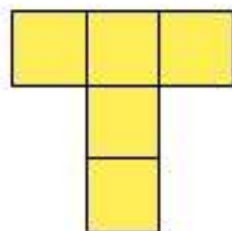
(i)



(ii)

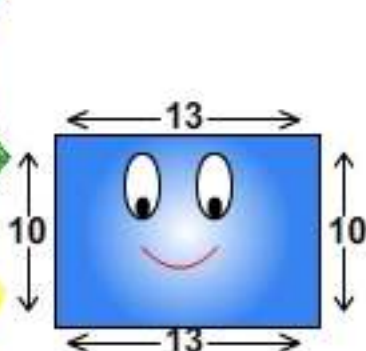


(iii)




(iv)

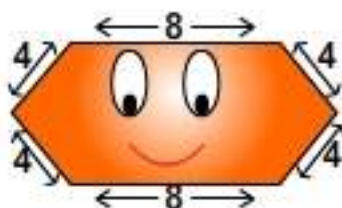
Q-9 Here are some pictures. नीचे कुछ आकृतियाँ दी गई हैं।



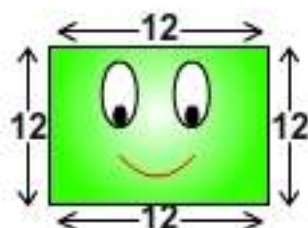
A.



B.



C.



D.

Find out which one requires more wood for making of frame.

किस आकृति का फ्रेम बनाने में ज्यादा लकड़ी लगेगी।

- (i) A (ii) B (iii) C (iv) D

b) How much extra wood is required for making the frame of the longest figure?

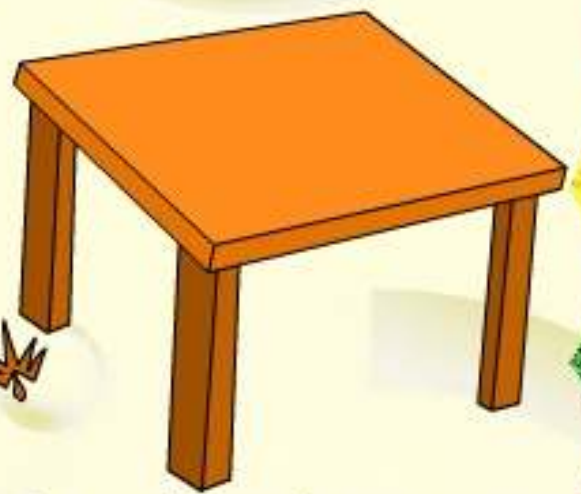
बड़े फ्रेम की आकृति में कुल कितनी लकड़ी लगेगी ?

- (i) 32 (ii) 46 (iii) 60 (iv) 48

Q-10 Rani bought a roll of lace of 15 m. She put 8 m on a table cloth. Then she made another table cloth with measure. How much more Lace is require?

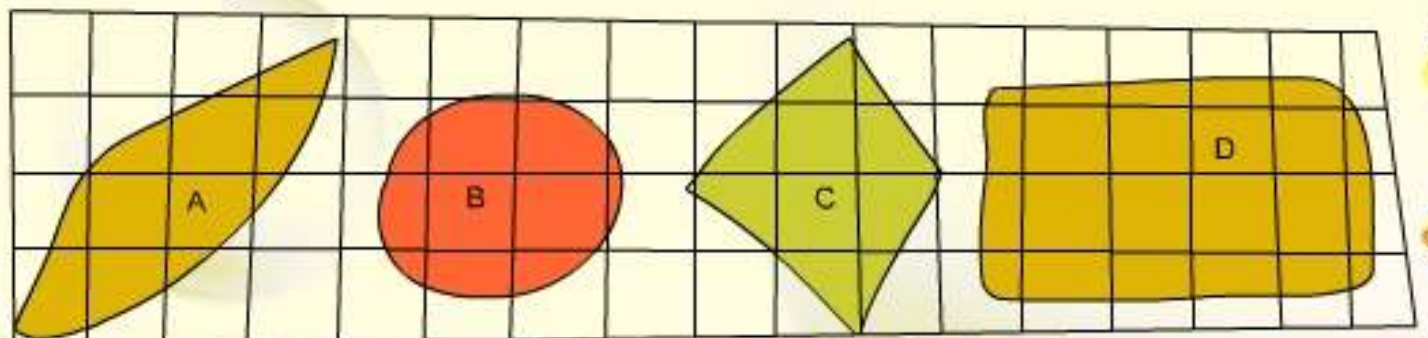
रानी अपने मेजपॉश के किनारों पर लगाने के लिए 15 मीटर किनारी लाई है। उसने इसमें से एक टेबल के लिए 8 मीटर किनारी प्रयोग कर ली। अब उसने दूसरे मेजपॉश पर किनारी लगानी है। उसे और कितनी किनारी की आवश्यकता है।

- (i) 1m
(ii) 4m
(iii) 3m
(iv) 2m



Q-11 Which shape covers the least number of squares

कौन सी आकृति में सबसे कम वर्ग शामिल है?



(i) A

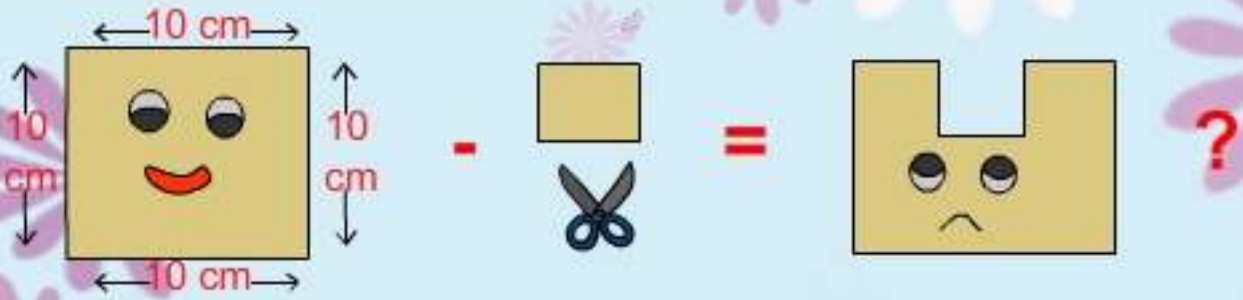
(ii) B

(iii) C

(iv) D

Q-12 A square has a boundary of 40 cm. If we cut a 1 cm square to get this shape. What will be the length of the boundary of the figure?

प्र० 12 एक वर्ग की चारों भुजाओंका योगफल 40cm है। यदि इसमें से 1cm के आकार का एक वर्ग काट लिया गया है तो निम्न आकृति प्राप्त होती है। इस आकृति की चारदीवारी की लम्बाई कितनी होगी?



(i) 42 cm

(ii) 40cm

(iii) 44cm

(iv) 49cm

Q-13

MODE OF TRANSPORT यातायात का साधन	 Bus	 Car	 Cycle	 On Foot
No. of Students छात्रों की संख्या	10	13	15	20

(a) How many students use cycle?

कितने छात्र साइकिल का प्रयोग करते हैं?

(i) 10

(ii) 15

(iii) 13

(iv) 20

(b) Which mode of transport is used by maximum no. of students?

अधिकतर छात्र किस यातायात के साधन का प्रयोग करते हैं?

(i) Bus (बस)

(ii) Cycle (साइकिल)

(iii) Car (कार)

(iv) On Foot (पैदल)

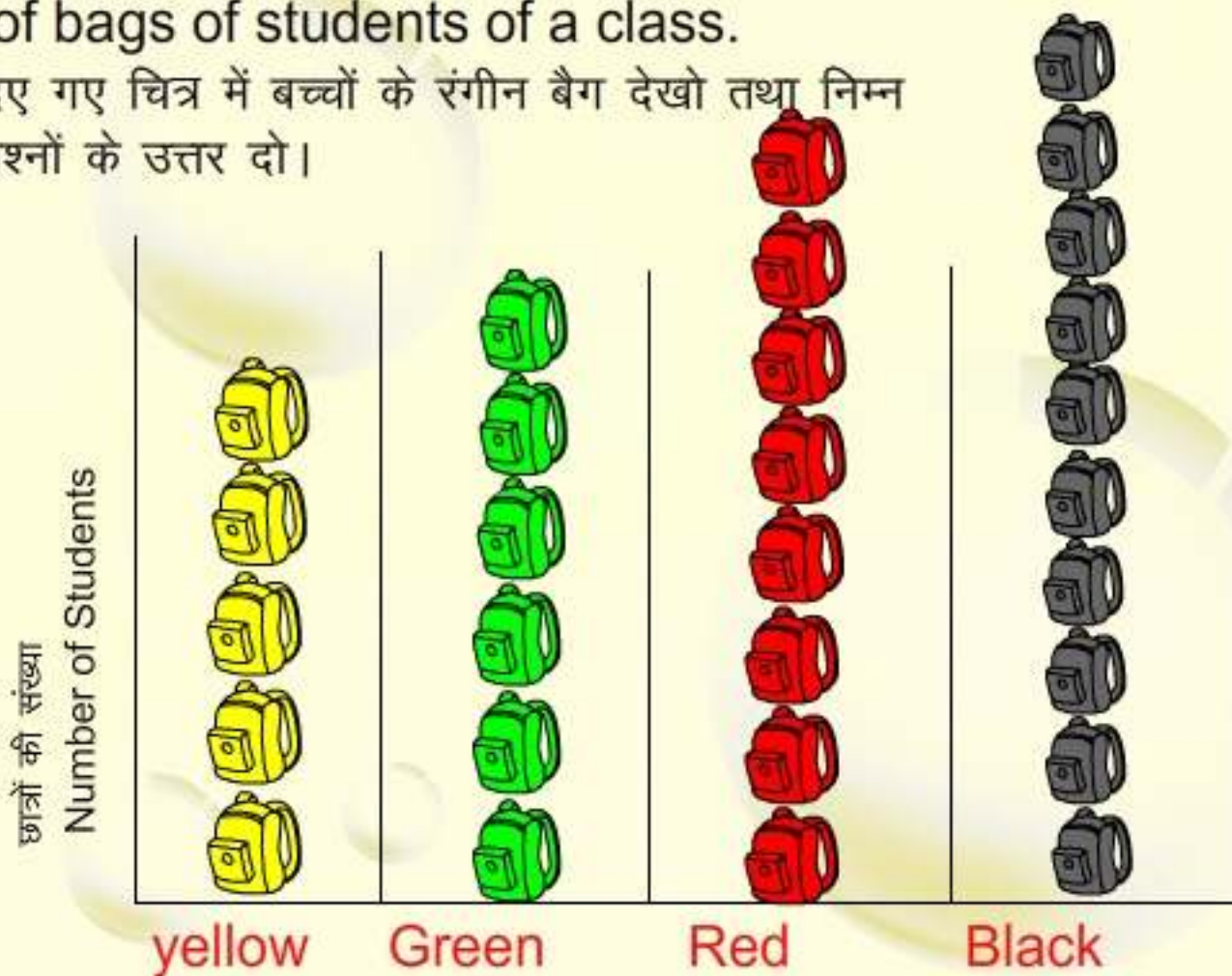
(c) Find the total number of students?

छात्रों की कुल संख्या कितनी है?

(i) 58 (ii) 48 (iii) 60 (iv) 59

Q-14 Read the following pictograph which shows colour of bags of students of a class.

दिए गए चित्र में बच्चों के रंगीन बैग देखो तथा निम्न प्रश्नों के उत्तर दो।



a) Which colour of bag do the least number of students have?

किस रंग के बैग के छात्रों की संख्या सबसे कम है?

- (i) yellow (पीला) (ii) Green (हरा)
 (iii) Red (लाल) (iv) Black (काला)

b) Which colour of bag do the maximum number of students have ?

किस रंग के बैग के छात्रों की संख्या सबसे अधिक है?

- (i) yellow (पीला) (ii) Green (हरा)
 (iii) Red (लाल) (iv) Black (काला)

c) Which colour is the second most used by children ?

दूसरे स्थान पर पसंदीदा रंग के बैग के छात्रों की संख्या कितनी है?

- (i) yellow (पीला) (ii) Green (हरा)
 (iii) Red (लाल) (iv) Black (काला)

d) How many children preferred bags over yellow Bags?

कितने छात्रों के पास पीले रंग के बैगों की अपेक्षा लाल रंग के बैग हैं ?

- (i) 3 (ii) 4 (iii) 5 (iv) 2

ANSWER KEY

SECTION - 3	SECTION - 4
1.) c	1.) a
2.) b	2.) d
3.) b	3.) c
4.) b	4.) (a) (iii)
5.) b	(b) (i)
6.) c	5.) (iii)
7.) b	6.) (i)
8.) c	7.) (iii)
9.) (i) b	8.) (iii)
(ii) c	9.) (a) (ii)
(iii) b	(b) (iii)
10.) a	10.) (iii)
11.) d	11.) (iii)
12.) a	12.) (ii)
13.) b	13.) (a) (ii)
14.) d	14.) (a) (i)
15.) c	(b) (iv)
16.) a	(c) (iii)
17.) b	(d) (i)
18.) c	
19.) a	

sample paper -1

निम्नलिखित गद्यांश को पढ़कर प्रश्नों के सही विकल्प चुनें।

आज ईद का त्योहार है। छोटे-बड़े सभी ईदगाह जाने की तैयारी कर रहे हैं। सभी ने नये कपड़े पहने हैं। बच्चे बहुत खुश हैं। उन्हें आज ईदी मिली है। वे ईदी के पैसों को बार-बार गिनते हैं। इन्हीं पैसों से वे खिलौने मिठाइयाँ और गुब्बारे खरीदेंगे। सबसे अधिक उत्साह उन्हें मेला देखने का है।



- 1) चित्र में कौन सा त्योहार है?
(क) होली (ख) दीपावली
(ग) ईद (घ) मुहर्रम
- 2) बच्चों को क्या मिला है?
(क) खिलौने (ख) ईदी
(ग) गुब्बारे (घ) मिठाइयाँ
- 3) ईद किस धर्म का प्रमुख त्योहार है ?
(क) हिन्दू (ख) मुस्लिम
(ग) सिक्ख (घ) ईसाई
- 4) ईद के दिन लोग क्या करते हैं ?
क) रंग लगाते हैं।
(ख) राखी बाँधते हैं।
ग) पेड़ लगाते हैं।
(घ) गले मिलकर ईद मुबारक कहते हैं।
- 5) क्रिया का सही रूप चुनिए ।
अध्यापक ने बच्चों को ।
क) समझाया (ख) समझ
ग) समझाना (घ) समझी

6) कौन सा जोड़ा सही नहीं है ?

क) लालकिला-इमारत

ग) आगरा-शहर

ख) गाय - बैल

घ) लीना - लड़की

7) शुद्ध रूप छाँटिया ?

क) कृप्या

ग) कृपया

ख) क्रप्या

घ) कर्पया

8) 'निरोग' किसका विलोम है ?

क) रोग

ग) रोगी

ख) रोगग्रस्त

घ) बीमारी

9) Pick the Adjective from the sentence - Chetan is a healthy child.

a) Child

c) healthy

b) Chetan

d) none

10) Fill the suitable pronoun for Ravi in the sentence.

Ravi plays cricket and also plays football

a) She

c) Him

b) He

d) her

11) Choose the correct preposition for the sentence Rohit lives Agra.

(a) in

(c) at

b) by

(d) for

12) Choose the correct word and fill in the blank
old are you ?

a) What

b) How many

c) Why

d) How

13) Choose the correct punctuation form of the sentence from following

new delhi is the capital of india

a) New Delhi is the capital of india

b) New Delhi is the capital of India

c) new delhi is the capital of India.

d) New delhi is the capital of India.

Read the poem and choose the correct answers-

Today it is snowing

The day is christmas eve

Snowballs flying everywhere

I hope santa will bring gifts for me

please, please, please

14) What is going on today?

a) sunny b) snowing c) raining d) dancing

15) What is flying every where?

a) volley balls

b) glow warms

c) snowballs

d) footballs

16) Opposite of day is

a) night

b) bright

c) sunny

d) hay

17) How many thousands are there in 15, 678 ?

15, 678 में कितने हजार है ?

- a) 10 b) 15
c) 1 d) 1

18) What is the correct place value of underlined digit.

रेखांकित संख्या का सही स्थानीय मान क्या है ?

5 1 9 6 1 8

- a) 900 b) 9000
c) 90 d) 90000

19 To measures the length of a room, which of the following unit will mohan use?

एक कमरे की लम्बाई ज्ञात करने के लिए मोहन सि ईकाई का उपयोग करेगा?

- (i) cm (सेंटीमीटर) (ii) Meter (मीटर)
(iii) Milimeter (मिलीमीटर) (iv) Foot (फुट)

20 There are 33 race horses grazing in the farm. Find the total number of horses' legs?

एक मैदान में 33 रस के घोड़े घर रहे हैं। घोड़ों की कुल कितनी टांगे है?

- (a) 122 (b) 66
(c) 132 (d) 165

21 54 cm of ribbon has to be cut into pieces of 6cm each. How much pieces do we get?

यदि 54 सेंटीमीटर लम्बे रिबन के टुकड़े किए जाए कि हर टुकड़ा 6 सेंटीमीटर का हो, तो कुल कितने टुकड़े

प्राप्त होंगे

- (a) 8 (b) 9
(c) 7 (d) 12

22 I am very special. I have no sides, no corners. Can you tell my name?

मैं बहुत खास हूँ। न तो मेरे किनारे हैं और न ही मेरी भुजाएँ। जल्दी से मेरा नाम बताएँ।

- (a) Square वर्ग (b) Circle वृत्त
(c) Rectangle आयत (d) Triangle त्रिभुज

23 Convert 3 months and 5 weeks into days

3 महीने और 5 सप्ताह को दिनों में बदलो।

- (a) 100 Days (100 दिन) (b) 125 days (125 दिन)
(c) 120 Days (120 दिन) (d) 130 days (130 दिन)

24 I am a number between 20 and 30. I come in table of 3 and 9. Can you tell who am I?


मैं एक ऐसी संख्या हूँ, जो 20 और 30 के बीच आती हूँ। मैं 3 व 9 के पहाड़े भी में आती हूँ। बताओं मैं कौन हूँ।

- (a) 24 (b) 26
(c) 28 (d) 27

25 How many square tiles are required to cover the floor?





कितनी वर्गाकार टाइलों की जरूरत पड़ेगी जिससे पूरा फर्श ढक जाए?

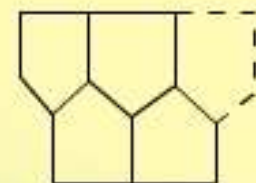
- (a) 10 (b) 40
(c) 20 (d) 30



26 Which figure completes the pattern?

कौन सी आकृति पैटर्न पूरा करेगी?

- (a)  (b) 
(c)  (d) 



27 24 hours clock shows 21:30. What is the exact time in 12 hour clock?

एक 24 घंटे वाली घड़ी में 21:30 बजे हैं। 12 घंटे वाली घड़ी में क्या समय होगा?

- (a) 8:30 am (b) 9:30 Pm.
(c) 7:30 am (d) 8:30 Pm.

28 Who joins which club ? Anil made this chapati Chart after asking his friends.

किसने कौन सा क्लब चुना?

अनिल ने अपने मित्रों से पूछ कर यह चपाटी चार्ट बनाया।



i) How many of the total children joined drama club ?

कितने बच्चों ने ड्रामा क्लब चुना?

- (a) 1/3 (b) 1/2 (c) 1/4 (d) 3/4

ii) How many of the total children joined art club ?

कितने बच्चों ने कला क्लब चुना?

- (a) 1/3 (b) 1/2 (c) 1/4 (d) 3/4

iii) Which club is famous among students ?

- (a) Art (b) Music (c) Drama (d) None of these

कौन सा क्लब बच्चों के बीच ज्यादा पसंद किया गया?

- (a) कला (b) संगीत (c) ड्रामा (d) इनमें से कोई नहीं

29. Which organism uses energy from sunlight to make its own food?

- (a) Insect (c) Fish
(b) Frog (d) Plant

निम्नलिखित में से कौन अपना भोजन बनाने के लिए सूर्य के प्रकाश की ऊर्जा का प्रयोग करता है।

- (a) कीड़े (b) मेढ़क (c) मछली (d) पौधे

30 What will happen if fertilizers are thrown into the rivers?

- (a) The river water gets cleaned.
(b) The river plants grow well.
(c) The river water gets polluted.
(d) The river flows faster.

यदि उर्वरक को नदियों में बहा दिया जाए तो क्या होगा?

- (a) नदी का पानी साफ हो जाएगा।
(b) नदी के पौधों की अच्छी वृद्धि होगी।
(c) नदी का पानी प्रदूषित हो जाएगा।
(d) नदी तेज गति से बहेगी।

31, who is the leader in elephant's herd ?

- (a) Oldest male (b) oldest female
(c) Children (d) All of above

हाथी के झुंड का मुखिया कौन होता है।

- (a) वृद्ध पुरुष (b) वृद्ध महिला
(c) बच्चे (d) सभी

32, Which of the following animals lays eggs ?

- (a) Deer (b) Snake
(c) Giraffe (d) Cat

कौन सा जानवर अण्डे देता है?

- (a) हिरन (b) साँप
(c) जिराफ (d) बिल्ली

33, If a person hunts animals, He will be -

- (a) Given a prize (b) Punished
(c) Allowed to hunt more animals (d) Non of above

यदि एक व्यक्ति जानवरों को मारता है तो उसे -

- (क) इनाम दिया जायगा (ख) सजा दी जाएगी।
(ग) आज्ञा दी जायगी कि अधिक से अधिक जानवरों को मारे।
(घ) इनमें से कोई नहीं।

34 Which of the following insects live and work together?

- (a) Termites (b) spider (c) Ants (d) All of above

निम्न में से कौन सा कीड़ा समूह में रहता और काम करता है ?

- (क) दीमक (ख) मकड़ी (ग) चींटी (घ) सभी

35, The distance between kashmir and kanyakumari is almost km.

- (a) 2300 (b) 3200
(c) 3000 (d) 2000

कश्मीर से कन्याकुमारी तक की दूरी लगभग किलोमीटर है ।

- (क) 2300 (ख) 3200
(ग) 3000 (घ) 2000

36, Kalbalia Tribe belongs to which state ?

- (a) Thar (b) Himachal Pradesh
(c) Rajasthan (d) Uttar Pradesh

कालबेलिया कहाँ की घुमक्कड़ जाति है ?

- (क) थार (ख) हिमाचल प्रदेश
(ग) राजस्थान (घ) उत्तर प्रदेश

37 Mithun is mainly reared for

- (a) Skin (b) meat
(c) milk (d) Loading

मिथुन को मुख्यतः _____ के लिए पाला जाता है?

- (क) खाल (ख) माँस
(ग) दूध (घ) दुलाई

38 The world cup of cricket started in the year

- (a) 1957 (b) 1987
(c) 1975 (d) 1931

क्रिकेट के वर्ल्ड कप की शुरुआतसन् में हुई।

- (क) 1957 (ख) 1987
(ग) 1975 (घ) 1931

39 In which direction of tropic of cancer does the meridian line lie?

- (a) North (b) South (c) East (d) West

भूमध्य रेखा कर्क वृत्त के किस दिशा में है?

- (क) उत्तर (ख) दक्षिणी (ग) पूर्व (घ) पश्चिम

40 Pongal : Tamil Nadu : Tilsakrat : ?

- (a) Uttar Pradesh (b) Kerala (c) Bihar (d) Assam

पोंगल : तमिलनाडू : : तिल सकरात : ?

- (क) उत्तर प्रदेश (ख) केरल (ग) बिहार (घ) असम


SAMPLE PAPER -I

- | | | | | |
|---------|---------|-----------|----------|---------|
| 1. (ग) | 2. (ख) | 3. (ख) | 4. (घ) | 5. (क) |
| 6. (ख) | 7. (ग) | 8. (क) | 9. (c) | 10. (b) |
| 11. (a) | 12. (d) | 13. (b) | 14. (b) | 15. (c) |
| 16. (a) | 17. (b) | 18. (b) | 19. (d) | 20. (c) |
| 21. (b) | 22. (b) | 23. (b) | 24. (d) | 25. (c) |
| 26. (a) | 27. (b) | 28. (i).b | b (ii).c | (iii).c |
| 29. (d) | 30. (c) | | | |
| 31. (b) | 32. (b) | 33. (b) | 34. (c) | 35. (b) |
| 36. (c) | 37. (b) | 38. (c) | 39. (b) | 40. (c) |

सैंपल पेपर II

निम्नलिखित पद्यांश को पढ़कर प्रश्नों के सही विकल्प चुनिए -

कौन सिंधु से जल भर लाता,
उमड़-उमड़ जग में बरसाता?
गर्मी में तप-खप दिन खोते,
अगर न नभ में बादल होते।



कभी न बिजली चमक दिखाती,
दुनिया में क्या दमक दिखाती?
कभी न बहते झरने सोते,
अगर न नभ में बादल होते।

1) जल का समानार्थी शब्द क्या है?

- | | |
|-----------|----------|
| (क) बल | (ख) पानी |
| (ग) आसमान | (घ) बादल |

2) सिंधु से जल भरकर कौन लाता है ?

- | | |
|-----------|-----------|
| (क) बादल | (ख) आसमान |
| (ग) बिजली | (घ) जग |

3) दमक का ल्यात्मक शब्द है -

- | | |
|---------|---------|
| (क) मचल | (ख) कमल |
| (ग) चमक | (घ) जलज |

4) कभी न झरने-सोते।

- | | |
|----------|----------|
| (क) रोते | (ख) सोते |
| (ग) जाते | (घ) बहते |

5) दरवाजे पर कुछ खड़ा है ।

(क) रेखांकित शब्द के स्थान पर सही सर्वनाम शब्द का प्रयोग करें।

- (क) तुम (ख) हम
(ग) कोई (घ) मैं

6) कौन-सा शब्द स्त्रीलिंग नहीं है -

- (क) चुहिया (ख) बकरा
(ग) गाय (घ) राधा

7) वाक्यांश के लिए उचित शब्द चुनिए।

जल में चलने वाला

- (क) जलचर (ख) नभचर (ग) स्थलचर (घ) दूरदर्शी

8) इस किताब में अच्छी हैं।

- (क) कविताओं (ख) कविता (ग) कवि (घ) कविताएँ

9 Identify the vowel from the following :

- (a) p (b) r (c) d (d) o

10 Pick out the naming word (Noun) from the following :

- (a) Play (b) Mumbai (c) run (d) but

11 Choose the correct past form of (write) from the following : Tina (write) a letter last week.

- (a) writing (b) Written (c) wrote (d) writes

12 Pick out the 'Silent' letter word from the following :

- (a) Limca (b) Roshan (c) knight (d) Tree

13 Fill the suitable joining word (Connector) :

The thief stole a necklace a pair of bangles.

(a) and (b) but (c) because (e) or

Read the following passage carefully :

A giant has many fruit trees in his garden. All the trees had lots of fruits in them. Little children would come and pluck the fruits. The giant would get so angry that he would beat them up. The children got very scared and never went to the giant's garden. No children ! the giant became very sad without the children.

Now, answer the following question :

14) Who had a fruit garden ?

(a) Children (b) father

(c) giant (d) tiger

15) Who liked to pluck the fruits ?

(a) giant (b) Children (c) Birds (d) Gardner

16) The plural form of child is :

(a) childhood (b) Children (c) fruits (d) child

17) The cost of a table is Rs. 80. find the cost of 70 tables.

एक मेज़ की कीमत रुपये 80 है। ऐसे 70 मेजों की क्या कीमत होगी?

(a) Rs. 6050 (b) Rs. 6005

(c) Rs. 5600 (d) Rs. 5006

18) There are 4400 apples in 40 boxes. How many apples are packed in a box ?



40 सेब के डिब्बों में 4400 सेब हैं। ऐसे एक डिब्बे में कितने सेब होंगे?

(a) Rs. 150 (b) Rs. 110

(c) Rs. 101 (d) Rs. 140

19 Compare and tell which container can contain maximum water?

तुलना करो और बताओ किस बर्तन में अधिक पानी आएगा?



20 A train starts from a city at 9:25 am and reaches its destination after 6 hrs and 50 mins. At what Time does the train reach its destination?

एक शहर से ट्रेन 9:25 प्रातः पर चलकर अपने निर्धारित स्थान पर 6 घंटे 50 मिनट बाद पहुँचती है। ट्रेन किस समय पर अपने निर्धारित स्थान पर पहुँचेगी?

(a) 4:45 p.m.

(b) 4:35 p.m.

(c) 4:15 p.m.

(d) 4:25 p.m.

21 There are 36 children. Half of them are girls. How many children are boys?

36 बच्चों में से आधी लड़कियाँ हैं। कितने बच्चे लड़के हैं?

(a) 16

(b) 19

(c) 18

(d) 17

22 Vimla measures ink for her pen in an ink filler. Which unit of measure is the most appropriate for measuring the amount of ink in an ink-filler?

विमला ने अपने पैन में स्याही भरने के लिए स्याही के ड्रापर में स्याही भरी। इस स्याही की मात्रा नापने के लिए उचित मात्रक कौन सा है?

(a) millilitre (मिलिलीटर)

(b) litre (लीटर)

(c) kilolitre (किलोलीटर)

(d) centilitre (सेंटिलीटर)

23 Leena has 4 coins of 50 paise, 2 coins of 1 Rupee and 3 coins of 2 Rupees. She bought a chocolate of 5 Rupees. How will she pay ?

लीना के पास चार सिक्के 50 पैसे, 2 सिक्के 1 रुपये के और 3 सिक्के 2 रुपये के हैं। वह एक चॉकलेट 5 रुपये की खरीदती है। वह चॉकलेट के पैसे कैसे देगी?

(a) (50) (50) (1) (1) (2)

(b) (50) (50) (50) (1) (2) (2)

(c) (1) (2) (1) (50) (50) (50) (50)

(d) (2) (2) (2) (1)

Complete the pattern पैटर्न पूरा करो

24

6 12 18 24

(a) 26 (b) 36 (c) 30 (d) 24

25

101 202 303

(a) 300 (b) 404 (c) 505 (d) 440

26

There are 4 legs of a cat. Sunita counted 48 legs in all. How many cats are there?

एक बिल्ली की चार टाँगें होती हैं। सुनीता ने कुल 48 टाँगें गिनी। बताओ कुल कितनी बिल्लियाँ हैं?

(a) 14 (b) 11

(c) 13 (d) 12

27

There are 100 students in a school.

एक विद्यालय में 100 विद्यार्थी हैं।

(हॉकी) Hockey -25 Students	Football (फुटबॉल)
(क्रिकेट) Cricket -25 Students	

(i) How many students play hockey ?

कितने बच्चे हॉकी खेलते हैं?

(a) 25 (b) 30

(c) 35 (d) 40

(ii) How many students play football ?

कितने बच्चे फुटबॉल खेलते हैं?

(a) 25 (b) 50

(c) 35 (d) 40

28)

Sonu and Irfan were playing marbles. Sonu said, "Irfan I have twice the marbles you have." If Irfan had 10 marbles then how many marbles sonu had?

सोनू और इरफान कंचे खेल रहे थे। सोनू बोला "इरफान मेरे पास तुमसे दोगुना कंचे हैं"। अगर इरफान के पास 10 कंचे हैं तो सोनू के पास कितने कंचे होंगे?

(a) 15 (b) 25

(c) 30 (d) 20

29) Which of the following flowers is used to make perfumes ?

- (a) Lily (b) Kewra
(c) Sahjan (d) Marigold

निम्न में से किस फूल का प्रयोग इत्र बनाने में किया जाता है?

- (a) लीली (b) केवड़ा
(c) सहजन (d) गेंदा

30 Name the flower that has medicinal value ?

- (a) Arnica (b) Dahlia
(c) Marigold (d) Zenia

ऐसे फूल का नाम बताओ, जिससे दवाई प्राप्त की जाती है :

- (a) आरनिका (b) डहेलिया
(c) गेंदा (d) जीनिया

31 Who does not work on the railway station ?

- (a) Potter (b) Guard (c) Ticket Checker (d) Driver

निम्नलिखित में से कौन रेलवे स्टेशन पर काम नहीं करता?

- (a) कुम्हार (b) गार्ड (c) टिकट निरीक्षक (d) ड्राइवर

32 Which one of the following is not a mode of water transport ?

- (a) Steamer (b) Ferry
(c) Truck (d) Ship

निम्नलिखित में से कौन सा नदी का वाहन नहीं है ?

- (a) स्टीमर (b) फेरी
(c) ट्रक (d) जहाज

33 Which of the following is not a cause of water pollution in rivers ?

- (a) Washing clothes
(b) Waste from factories
(c) Making dams on rivers
(d) Animals taking bath in rivers.

निम्नलिखित में से कौन जल प्रदूषण का कारण नहीं है?

- (a) कपड़े धोना
- (c) फ़ैक्ट्री का कूड़ा
- (b) नदी पर बाँध बनाना
- (d) जानवरों को नहलाना

34 Choose the correct answer :

Plants do not need for survival

- (a) Water
- (b) Soil
- (c) Sunlight
- (d) plastic

सही विकल्प चुनिए :

- (a) पानी
- (b) मिट्टी
- (c) सूर्य की रोशनी
- (d) प्लास्टिक

35 India is a

- (a) Island
- (b) Ocean
- (c) Sub-continent
- (d) continent

भारत एक है।

- (a) द्वीप
- (b) महासागर
- (c) प्रायद्वीप
- (d) महाद्वीप

36 Choose the Correct answer for



- (a) Summer
- (b) Spring
- (c) Winter
- (d) Autumn

सही विकल्प छांटिए :



(क) गर्मी

(ग) शरद



(ख) बसंत

(घ) पतझड़



37. Which of the following is not a National Festival of India ?

(a) Independence Day

(b) Republic Day

(c) Raksha Bandhan

(d) Gandhi Jayanti

इनमें से कौन-सा भारत का राष्ट्रीय त्यौहार नहीं है ?

(क) स्वतंत्रता दिवस

(ख) गणतन्त्र दिवस

(ग) रक्षा बंधन

(घ) गांधी जयन्ती

38. Where do you find curved roads ?

(a) Plains

(b) Mountains

(c) Deserts

(d) Rivers

घुमावदार सड़के कहीं मिलती हैं?

(क) मैदान

(ख) पहाड़

(ग) रेगिस्तान

(घ) नदी

40. Which state touches the boundry of Gujarat, Rajasthan, Uttar Pradesh and Chattisgarh ?

(a) Maharashtra

(b) Madhya Pradesh

(c) Jhar khand

(d) Bihar

गुजरात, राजस्थान, उत्तर प्रदेश और छत्तीसगढ़ से सटा हुआ राज्य कौन-सा है ?

(क) महाराष्ट्र

(ख) मध्यप्रदेश

(ग) झारखण्ड

(घ) बिहार

40. Which animal's picture do you see on a 10 rupee note ?

- (a) dog (b) dinosaur
(c) hippopotamus (d) Peacock

10 रुपये के नोट पर निम्न में से किस जानवर का चित्र होता है?

- (क) कुत्ता (ख) डायनासॉर
(ग) गैंडा (घ) मोर

Answer Key

उत्तरमाला

- | | | | | |
|-------|-----------------|-------|-------|-------|
| 1. ख | 2. क | 3. ग | 4. घ | 5. ग |
| 6. ख | 7. क | 8. घ | 9. d | 10. b |
| 11. C | 12. C | 13. a | 14. c | 15. b |
| 16. b | 17. C | 18. b | 19. a | 20. C |
| 21. c | 22. a | 23. a | 24. c | 25. b |
| 26. d | 27 (i) a (ii) b | 28. d | 29. b | 30. a |
| 31. a | 32. c | 33. c | 34. d | 35. c |
| 36. a | 37. c | 38. b | 39. b | 40. c |

सैम्पल पेपर- III

गद्यांश पढ़कर रिक्त स्थानों की पूर्ति करो -

(1) मित्र शिक्षक की तरह होता है। शिक्षक अपने छात्रों को अच्छाई और सन्मार्ग की ओर ले जाता है। सच्चा मित्र एक (2) की तरह है। मनुष्य के मन पर जितना प्रभाव मित्र का पड़ता है, उतना अन्य (3) का नहीं। जीवन में जिसे सच्चा मित्र मिल जाता है, वह (4) हैं।

1. (क) सच्चाई (ख) सच्चा (ग) बुरा (घ) बुराई

2. (क) फूल (ख) फल (ग) मिठाई (घ) खजाने

3. (क) किसी (ख) कोई (ग) कुछ (घ) कहीं

4. (क) सौभाग्य (ख) दुर्भाग्य (ग) सौभाग्यशाली (घ) सुविचार

5. जो शब्द संज्ञा या सर्वनाम की विशेषता बताते हैं, उन्हें कहते हैं।

(क) संज्ञा (ख) सर्वनाम (ग) क्रिया (घ) विशेषण

6. 'आँख का तारा'

मुहावरे के अर्थ का सही विकल्प चुनो -

(क) आँख में कुछ गिर जाना (ख) सच्चाई जान जाना

(ग) जो बहुत प्यारा हो (घ) जो तारा आँख को प्यारा लगता हो।

प्र० 7 चित्र देखकर पर्यायवाची शब्द की पहचान करो -



रात्रि

- क) निशा
- (ख) अनल
- (ग) नीरज
- (घ) नीर

प्र० 8 दिये गए खाने में उपयुक्त चिह्न लगाओ -

बाह कितना सुन्दर दृश्य है।

- क) | (ख) , (ग) ? (घ) !

Q-9 Fill Suitable Action word in the following.

Our teacher..... (teach) us in our school.

- (a) teaches (b) teaching (c) taught (d) None.

Q-10 Fill in the blank with proper helping verb.

We cooking food, last night.

- (a) was (b) were (c) are (d) is

Q-11 Which word will come first in the alphabetical order.

- (a) Desk (b) Curtain (c) Quilt (d) Lamp

Q-12 Tick the correct Sentence.

- (a) There is water in the pond. (b) There is waters in the pond.
(c) There are water on the pond. (d) There are water at the pond.

Q. 13. Change the gender of

Grand Father

- (a) Mother (b) Grand mother
(c) Grand Fathers (d) Grandmothers

Ques : Look at the pictures carefully and then fill in the blanks.

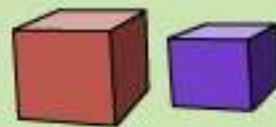
Q. 14 are going to school.

- (a) Babies (b) Children
(c) Child (d) Boys



Q. 15 Red Dice is than blue dice

- (a) Smaller (b) Equal
(c) Bigger (d) elder.



Q. 16 There are twelve glasses the table.

- (a) at (b) in
(c) on (d) upon



Q. 17 Tick the one that shows Rs. 120

जो रुपये 120 दिखाता है उस पर सही का निशान लगाओ।

- (a) 50 50 10 10 (b) 20 20 50
(c) 10 20 20 10 (d) 50 20 20

Q.18 Look at the abacus and choose the correct number.

एबैकस को देख कर सही संख्या को चुनिए।



- a) 2405 b) 4005 c) 5024 d) 2540

Q.19 Tick the task in which we use less than 1 litre of water at a time.

निम्न में से किस कार्य में एक लीटर से कम पानी प्रयोग किया जाएगा।

- a) Drinking b) Washing Clothes

पीने से

कपड़े धोने में

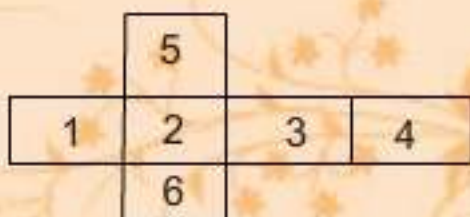
- c) Bathing d) Washing utensils

नहाने में

बर्तन धोने में

Q.20 There is a box with number 1 to 6 on its faces. On unfolding it, we get the following figure.

एक डिब्बे की सतह पर 1 से 6 तक अंक लिखे हैं। उसे खोलने पर निम्न चित्र प्राप्त होता है।



Q. (i) Which number will lie on the opposite side of 2 ?

कौन-सा अंक 2 के विपरीत सतह पर होगा?

(a) 3 (b) 6 (c) 4 (d) 1

(ii) दो विपरीत सतह के अंको का जोड़ एक विषम संख्या होगा?

(ii) Sum of which 2 opposite numbers is odd.

a) 5,6 (b) 3,1 (c) 4,2 (d) all, सभी

Q.21 A tap of your house is leaking. If it leaks 10 ml in one hour, how much water gets leaked in one day?

आपके घर के नल से पानी टपकता है। यदि 1 घंटे में 10ml पानी टपक जाता है, तो एक दिन में कितना पानी व्यर्थ हो जाएगा?

(a) 240 ml (b) 200 ml (c) 120 ml (d) 100 ml

Q.22 In Lajpat Nagar, on a Sunday morning, it rained from 8:06 A.M till 11:15 P.M. Calculate the period of rain fall on that sunday in Lajpat Nagar.

लाजपत नगर में रविवार सुबह 8:06 A.M से 11:15 P.M. तक लगातार बारिश होती रही। बताओ रविवार के दिन लाजपत नगर में कुल कितने समय बारिश हुई।

(a) 15 hrs 15 min (b) 15 hrs 6 min

15 घंटे 15 मिनट 15 घंटे 6 मिनट

(c) 15 hrs 9 min (d) 15 hrs 19 min

15 घंटे 9 मिनट 15 घंटे 19 मिनट

Q.23 Complete the pattern

पैटर्न पूरा करो।

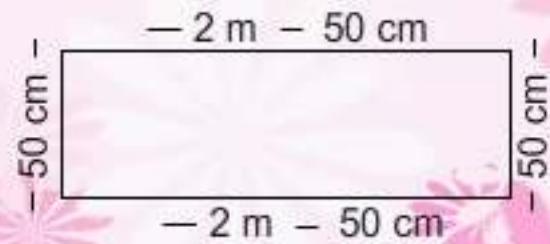


(a) 240 T (b) 204 T (c) 240 U (d) 204 U

Q.24 Ganga has to put a lace around her dupatta. How much lace should she buy from the market?

गंगा के अपने दुपट्टे के चारों तरफ किनारी लगानी है। उसे बाजार से कुल कितनी किनारी खरीदनी पड़ेगी?

- (a) 5m 50cm (b) 6m
(c) 5m (d) 6m 50 cm



Q.25 In a school there are 6 chairs and 4 tables. but there are 5 teachers in the school. At a time how many teachers can sit in the school?

स्कूल में 6 कुर्सियाँ और 4 मेज है पर 5 टीचर जी हैं। स्कूल में एक साथ ज्यादा से ज्यादा कितने टीचर जी बैठ सकते है?

- (a) 4 (b) 5 (c) 3 (d) 6

Q.26 Which of these represent the face of a brick ?

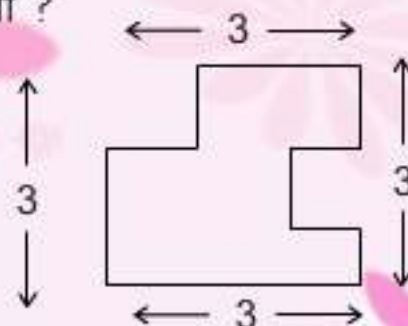
इनमें से कौन सी आकृति किसी ईंट की सतह को दिखाती है?



Q.27 A Square has a boundary of 12 cm. If we cut two 1 cm squares to get this shape, what will be the length of the boundary of the figure ?

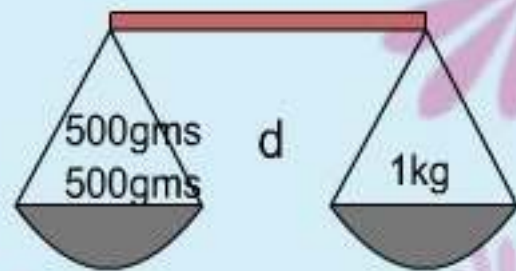
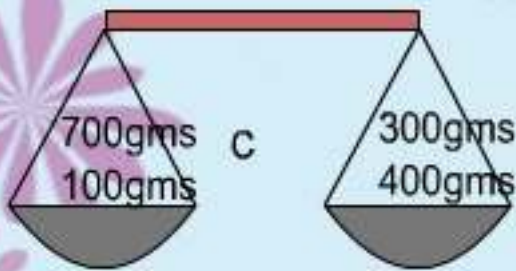
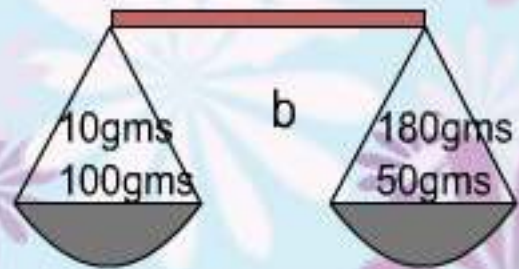
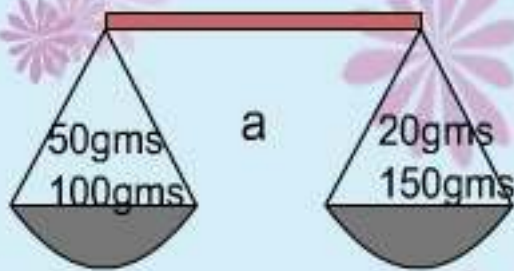
एक वर्ग की चार दिवारी 12सेमी.है। यदि उसमें से 1सेमी.के दो वर्ग काट लिए जाए तो बताओ इस आकृति की चारदिवारी कितनी होगी ?

- (a) 12cm (b) 10cm
(c) 14 cm (d) 9cm



Q 28 In which balance, weight on both the pans are equal ?

इनमें से किस तराजू में दोनों तरफ भार बराबर है?



Q-29 A vegetable seller sprinkles water on the vegetables.

- (a) to clean his shop (b) to thank God
(c) to keep them fresh (d) none of the above.

एक सब्जी वाला सब्जी पर पानी छिड़कता है—

- (क) दुकान को साफ रखने के लिए
(ख) सब्जियों को ताजा रखने के लिए
(ग) भगवान को धन्यवाद देने के लिए
(घ) इनमें से कोई नहीं

Q-30 In which season, does the level of water rise the most in the rivers?

किस मौसम में नदियों के पानी का स्तर सबसे अधिक बढ़ जाता है ?

- (a) Autumn पतझड़ (b) Summer गर्मी
(c) Monsoon मानसून (d) Winter सर्दी

Q-31 Floods can be controlled by :

- a) making dams on rivers (b) Planting more trees
b) both (a) and (b) (c) None of the above.

बाढ़ को किसकी मदद से रोक सकते हैं?

- क) नदियों पर बांध बनाकर ख) अधिकाधिक पेड़ लगाकर
ग) दोनों (क) और (ख) (ग) इनमें से कोई नहीं

Q-32 I sing very sweetly but never make my nest. I lay eggs in another bird's nest. Who am I?

- (a) Koel (b) Crow (c) dove (d) Sparrow

मैं मीठा गायती हूँ परन्तु अपना घोंसला नहीं बनाती। मैं अपने अंडे दूसरों के घोंसले में देती हूँ। मैं कौन हूँ ?

- (क) कोयल (ख) कौआ (ग) फाखता (घ) चिड़िया।

Q-33 Date Palms are found in.

खजूर के पेड़ कहाँ पाए जाते हैं?

- a) Deserts रेगिस्तान में (b) Seas समुद्र में
c) Mountains पर्वतों में (d) All the above सभी जगह पर।

Q-34 The bird having crown on its head and coins on the tail is .

ऐसा कौन सा पक्षी है जिसके सिर पर ताज और पूँछ पर पैसा होता है।

- a) Peacock मोर (b) Hen मूर्गा
(c) parrot तोता (d) Sparrow चिड़िया

Q-34 Read the following graph carefully and answer following Questions.



Q-35 How much time will it take to reach jammu from Delhi ?
 (a) 13 hrs (b) 14 hrs (c) 12hrs (d) 15 hrs.

Q-36 To which city will it take maximum time to reach from Delhi ?
 (a) Patna (b) Kolkata (c) Mumbai (d) Ahmedabad

Q-37 How much time it will take to reach kolkata via Patna from Delhi ?
 (a) 19 hrs. (b) 21.5 hrs (c) 40 hrs. (d) 30 hrs.

प्र० निम्न ग्राफ को ध्यान से पढ़कर प्रश्नों के सही विकल्प चुने :



प्र0 35 दिल्ली से जम्मू जाने में लगभग कितना समय लगेगा ?

(a) 13 घंटे (b) 14 घंटे (c) 12 घंटे (d) 15 घंटे

प्र0 36 दिल्ली से किस शहर जाने में सबसे ज्यादा समय लगेगा ?

(a) पटना (b) कोलकाता (c) मुम्बई (d) अहमदाबाद

प्र0 37 दिल्ली से पटना होते हुए कोलकाता जाने में लगभग कितना समय लगेगा?

(a) 19 घंटे (b) 21.5 घंटे (c) 40 घंटे (d) 30 घंटे

Q38 If sulbha is standing facing towards Punjab and west Bengal is at her back side, then which state will be at her left side?

a) Sikkim (b) Assam (c) Delhi (d) JharKhand

सुलभा अगर पंजाब की तरफ मुँह करके खड़ी है उसके पीछे पश्चिम बंगाल है तो उसके बाएं हाथ की तरफ कौन-सा राज्य होगा?

(a) सिक्किम (b) असम (c) दिल्ली (d) झारखण्ड

Q 39 Which crop is mostly grown at coastal areas due to heavy rains of monsoon?

मानसून की अधिक वर्षा के कारण तटीय भागों में अधिकतर क्या उगाया जाता है?

(a) Sugar Cane गन्ना (b) Wheat गेहूँ
(c) Maize ज्वार (d) Rice-Paddy चावल

Q 40 In which year was hockey declared our national game?

(a) 1928 (b) 1929 (c) 1930 (d) 1931

Q-40. हॉकी को भारत का राष्ट्रीय खेल कब घोषित किया गया?

(a) 1928

(b) 1929

(c) 1930

(d) 1931.

ANSWER KEY

उत्तरमाला

1.(ख)

11.(b)

21.(a)

31.(c)

2.(घ)

12.(a)

22.(c)

32.(a)

3.(क)

13.(b)

23.(c)

33.(a)

4.(ग)

14.(c)

24.(b)

34.(a)

5.(घ)

15.(b)

25.(b)

35.(b)

6.(ग)

16.(b)

26.(d)

36.(c)

7.(क)

17.(a)

27.(c)

37.(b)

8.(घ)

18.(c)

28.(d)

38.(d)

9.(a)

19.(a)

29.(b)

39.(d)

10.(b)

20.(i) (c)

30.(c)

40.(a)

(ii) (a)